


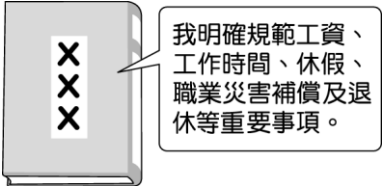
一、單選題 (1-10 題，每題 3 分，第 11-45 題，每題 2 分)

- () 有工作能力與工作意願，且有找尋工作，卻找不到工作的人，叫做何者？
(A) 志工 (B) 就業者 (C) 失業者 (D) 受僱者。
- () 以下為我國某機構的職務說明。請問：此機構應為下列何者？

<input checked="" type="checkbox"/> 民眾存款
<input checked="" type="checkbox"/> 民眾借款
<input checked="" type="checkbox"/> 發行新臺幣

(A) 臺灣銀行 (B) 中央銀行 (C) 內政部 (D) 財政部。
- () 下列何者由於其本身具有一定的價值，且被民眾普遍接受，所以被視為「商品貨幣」？
(A) 黃金 (B) 悠遊卡 (C) 紙鈔 (D) 健保卡
- () 莉莉上學前到「田田早餐店」買早餐，牆上的價目表如下圖所示。請問：這份價目表主要顯示了貨幣的何項功能？


(A) 交易媒介 (B) 價值衡量 (C) 價值儲藏 (D) 債務清償。
- () 建民打棒球時，不小心打破鄰居家的玻璃窗，最後建民的家長出面和解，並賠了鄰居 1,000 元。上述內容最能顯現貨幣的哪項功能？ (A) 價值衡量 (B) 債務清償 (C) 價值儲藏 (D) 交易媒介。
- () 過完年後，阿信都會將父母給他的壓歲錢存到郵局帳戶裡，作為未來的學習基金。上述顯示了貨幣的哪項功能？ (A) 交易媒介 (B) 價值衡量 (C) 債務清償 (D) 價值儲藏。
- () 「勞動」是指個人運用自己的心力或體力，創造出能滿足自己或他人需求的事物，以增進個人、家庭或社會的福祉。下列的例子中，何者並不屬於勞動？ (A) 到夜市販賣東山鴨頭 (B) 在家照顧年邁的長輩 (C) 因職場表現優異而獲得獎金 (D) 到健身房進行核心訓練。
- () 廣志進入職場已經十年，累積了一些工作經驗後，自己開了一間公司。從經濟考量，身為老闆的廣志開公司的目的為何？ (A) 慈善公益 (B) 獲取利潤 (C) 服務人群 (D) 公平正義。
- () 公民課時，老師介紹某種市場是【以經營貨幣商品，調解國際間交易買賣】的事務為主，請問，老師所介紹的市場應為下列何者？(A) 外國市場 (B) 外匯市場 (C) 跳蚤市場 (D) 超級市場。

- () 在民主社會中，何者在社會資源的分配上扮演很重要角色，因為必須以公平的原則顧及勞資雙方利益，並保障市場勞動參與？
(A) 政府 (B) 勞工 (C) 志願結社團體 (D) 企業老闆。
- () 在臺灣民眾進行交易時願意使用的貨幣是「新臺幣」，是以紙鈔、硬幣兩種型式的貨幣在流通。請問民眾願意使用「新臺幣」其主要的原因為何？ (A) 貨幣發行數量無限制，方便民眾流通使用 (B) 新臺幣屬於「商品貨幣」，本身就具有價值 (C) 政府以法令強制讓「新臺幣」具有價值 (D) 新臺幣的印製非常精美，讓民眾樂於使用。
- () 我國政府未來預計放寬外籍學生畢業後留臺期限最多延長兩年，以填補臺灣勞動力不足的問題。上述提及的勞動力不包括下列何者？(A) 國中畢業後去打工的 15 歲小志 (B) 退休後再次就業的王先生 (C) 準備去留學的中輟生 (D) 想要轉行的計程車司機。
- () 政府舉辦的座談會中，主持人開場白：「目前各國現況，男女的性別薪資差異一直都是待改進的大問題，例如日前某爆料事件中意外揭露好萊塢存在著『男女同工不同酬』的問題，這也讓許多女演員紛紛站出來發聲，試圖扭轉電影圈長存的潛規則……。」請問：下列何者最可能是這場座談會的主題？ (A) 改善就業歧視的職場環境 (B) 職場性騷擾防治 (C) 如何保障童工基本權益 (D) 提升職場的安全衛生。
- () 政府如果為了解決物價持續上漲的問題，而長期大量印製鈔票，將會造成何種結果？ (A) 貨幣持續貶值 (B) 貨幣持續升值 (C) 貧富差距變大 (D) 民眾用相同貨幣可以買到更多商品。
- () 大元週末到圖書館準備公民科的期末考。下圖是他在書中看到的重點主題。請問：此部法律應為下列何者？


(A) 《就業保險法》 (B) 《勞動基準法》 (C) 《民法》 (D) 《憲法》。
- () 小蘭自從辦了信用卡後，買東西前漸漸不再考慮手邊的現金夠不夠，看到喜歡的東西更是毫不猶豫買了再說。關於上述消費方式的敘述，下列何者正確？(A) 已完全取代貨幣的功能 (B) 需先將錢存入特定帳戶 (C) 由商家先代墊支付款項 (D) 應評估還款能力再消費。
- () 接續上題，後來小蘭不知節制消費後成了「月光族」，積欠銀行高達數十萬元的卡債。小蘭「積

有偶婦女 vs. 配偶 平均每日無償照顧時間		
單位：小時		
	有偶 婦女	配偶
照顧時間總計	4.41	1.48
照顧未滿 12 歲孩童	1.68	0.55
照顧 65 歲以上家人	0.28	0.13
照顧 12~64 歲家人	0.14	0.04
做家事	2.22	0.73

28. () 下圖為林小姐在週年慶廣告看到的內容——

青春美肌保養組

刷卡分期付款

1. 可享零利率優惠
2. 比付現更便宜

收到帳單後，務必在期限內繳清款項！

特價 6000 元

關於此文宣提到的「支付方式」，下列敘述何者不正確？(A)法律強制規定其價值 (B)具延遲支付功能 (C)消費後仍須以貨幣償還 (D)未於期限內還款將累積欠款。

29. () 王教授是一名貨幣學專家，下表為其所研究這三個月以來，1 單位的甲、乙、丙、丁四種貨幣，所能購買的雞蛋數量——

甲	乙	丙	丁
5	3	4	1
3	3	2	2
1	3	2	2

由表中資料可以得知，其中哪一種貨幣的「價值穩定性」最高？(A)甲 (B)乙 (C)丙 (D)丁。

30. () 疫情時所舉辦的國慶大典，特地邀請防疫、護理、警消等 6 位英雄進行國歌領唱，向在疫情期間第一線的醫護及防疫人員致上最高敬意，感謝他們不辭辛苦的付出。有關這些不同領域英雄的相關敘述，何者是正確的？

(A)展現就業市場人力資源的發揮 (B)透過「無酬勞動」展現個人的抱負 (C)間接影響「市場勞動」的穩定運作 (D)讓社會能看到「義務勞動」的貢獻。

31. () 一個國家與另一個國家之間貨幣兌換的比率，稱為「匯率」。假定美元兌換新臺幣的匯率上升，造成新臺幣貶值時，則下列相關的敘述何者錯誤？(A)不利於進口美國商品 (B)不利於出口臺灣商品 (C)到美國旅遊團費變貴 (D)臺灣出口商品變便宜。


32. () 下表所示為各國的貨幣可以購買到的啤酒數量，請判斷哪個國家的貨幣價值最高？

幣別 (1/元)	新臺幣 (臺灣)	美金 (美國)	日圓 (日本)	英鎊 (英國)
購買數量	●	●●●	●●	●●●●

(註：●代表啤酒)

(A)臺灣 (B)美國 (C)日本 (D)英國。

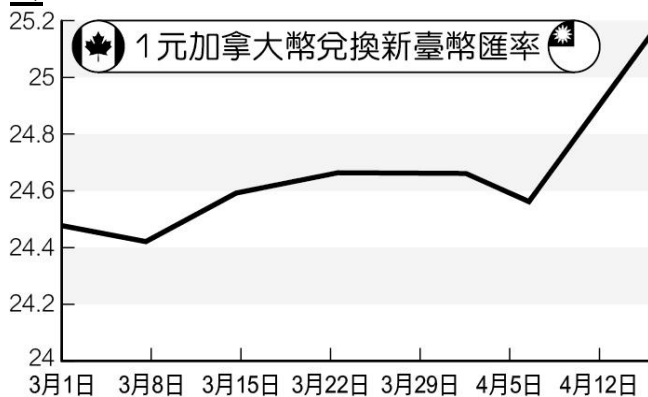
33. () 在勞動市場中，雇主僱用受僱者為其工作，並支付薪資，雙方的差異如下圖所示。根據對話內容判斷，下列何者正確？



(A)受僱者通常可自己決定工作內容 (B)薪資通常由雇主與受僱者共同決定 (C)雇主可以任意對受僱者訂立不利的勞動契約 (D)雇主具有較多的權力和資源。

34. () 小美預計大學畢業後將前往日本留學，則她如何換匯較正確？(A)出國前，到銀行將日圓兌換為新臺幣 (B)出國前，到中央銀行將新臺幣兌換為日圓 (C)在日本時，使用新臺幣在當地進行交易 (D)回國後，到銀行將日圓兌換為新臺幣。

35. () 下圖為加拿大幣兌換新臺幣的匯率變動圖。阿政身為一名加拿大農產品的臺灣進口商，若依圖表中的資料判斷，阿政在哪個日期進口農產品最有利？



(A)3月1日 (B)3月8日 (C)4月5日 (D)4月12日。

36. () 近年來，許多外來資金湧入中國，使得人民幣面臨升值的壓力，人民幣升值會對其國內消費產生抑制作用，將影響內需市場。畢竟中國有龐大的人口，就業壓力非常大，人民幣升值將惡化就業形勢。假若人民幣持續升值，將對中國國際貿易造成何種影響？

(A)沒有影響 (B)對進口、出口兩者都有利 (C)有利於出口 (D)有利於進口。

37. () 下表是甲、乙兩國匯率變動的情形，以吸引乙國遊客為主的甲國觀光業者，看到此變化後感到很憂心。根據下表內容判斷，若甲國的物價水準維持不變，下列何者最可能是上述業者的憂慮？

時間	甲幣可兌換的乙幣
去年	10
今年	20

- (A) 甲國觀光業者經營成本提高 (B) 乙國人的平均薪資所得減少 (C) 甲國觀光業者數量大幅增加 (D) 乙國人到甲國旅遊意願下降。
38. () 下表是陳先生分別在不同日期看到的美元兌換臺幣價格。根據表中內容判斷，比較 2023 年 1 月 5 日與 2024 年 1 月 5 日，其匯率變化最可能造成下列何種影響？

2023 年 1 月 5 日	
幣別	兌換價格
1 美元	30.15 元新臺幣
2024 年 1 月 5 日	
幣別	兌換價格
1 美元	32.55 元新臺幣

- (A) 臺灣民眾前往美國旅遊的意願提高 (B) 美國出口至臺灣的商品降價 (C) 臺灣自美國進口的商品漲價 (D) 美國民眾前往臺灣旅遊的意願降低。
39. () 下文為一則新聞報導，根據內容判斷，下列何人的回答最為正確？

台灣公益團體自律聯盟在 2022 年 11 月發表「2022 數位時代下的公益現況」調查報告，發現有超過 85% 的民眾使用線上捐款。數位行善的興起卻也成為犯罪溫床，詐騙集團入侵公益單位的平臺竊取捐款人個資再以此行騙，據傳已有不少人受害。

- (A) 用數位工具做公益已成為趨勢，將取代現金捐款 (B) 以信用卡線上捐款，事後仍須以法定貨幣支付 (C) 數位行善風險高，應立法禁止 (D) 線上捐款較實體捐款更能避免詐騙問題
40. () 辛巴威政府原本在非洲算是經濟較富裕的國家，因為戰爭等因素，政府大量印製鈔票因應，結果造成下列哪個現象？
- (A) 民眾用相同貨幣可以買到更多商品 (B) 經濟迅速成長 (C) 貨幣持續升值 (D) 貨幣持續貶值。

(請繼續左邊的題組題→)

●題組

題組一

小佑與小芳結婚三年，近日小芳生下第一個孩子，並且向公司請了半年育嬰假，(甲)每天在家專職照顧新生兒及處理家務，經濟來源主要靠(乙)小佑開計程車的收入，一家三口幸福美滿。近來，小芳打算在育嬰假期滿後(丙)聘請保母來照顧小孩，她就可以(丁)重返職場工作。請回答下列問題：

41. () 有關上文中所提及的勞動行為，下列組合何者皆屬「市場勞動」型態？
(A) 甲乙 (B) 甲丙 (C) 甲乙丙 (D) 乙丙丁。
42. () 有關上文的敘述，何者完全錯誤？ (A) 關於勞工的基本權益，如工資、工作時間及退休等重要事項均規定在《就業保險法》 (B) 保母這項工作就是「家務勞市場化」的代表例子之一 (C) 文中的家庭型態為「核心家庭」 (D) 小芳所請的「育嬰假」，法源依據為《性別工作平等法》。
43. () 有關勞動參與的意義與重要性，下列敘述何者正確？ (A) 無酬家務勞動可以維持市場勞動的穩定運作 (B) 市場勞動的範圍只會在一國境內無法跨國移動 (C) 無酬家務勞動沒有經濟產值對社會並無貢獻 (D) 市場勞動無法獲得實質報酬但會具有經濟價值。

題組二

「勞雇雙方協商減少工時」(俗稱無薪假)是指當「事業單位」受景氣因素影響，為避免資遣員工造成更多社會問題，雇主與勞工先行協商減少工時。但「事業單位」實施無薪假並沒有強制通報機制，倘若企業實施無薪假卻未向地方勞政主管機關通報，並沒有違法，導致部分被放無薪假的勞工淪於黑數。勞動部表示，減班休息法制化目前正在研議中，規畫將修正相關法規，並再加重罰則，細節尚待評估。請問：

44. () 雇主做出減班休息的決策與下列何者無關？
(A) 對職場的安全衛生有影響 (B) 會降低受僱者的工作時數 (C) 可以降低雇主的成本 (D) 會影響受僱者的工作收入。
45. () 文末提及政府相關單位正在研議減班休息「法制化」，顯示政府扮演的角色應為下列何者？
(A) 優先維護政府自身利益 (B) 保障受僱者權益 (C) 公平顧及各方利益 (D) 保障雇主利益。

☆共 45 題，請再檢查一遍答案卡的答案劃記☆