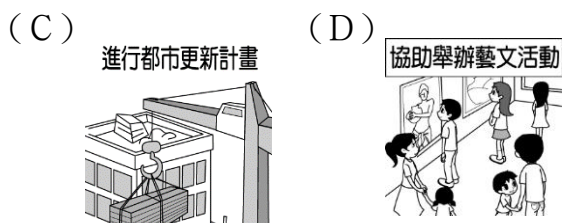
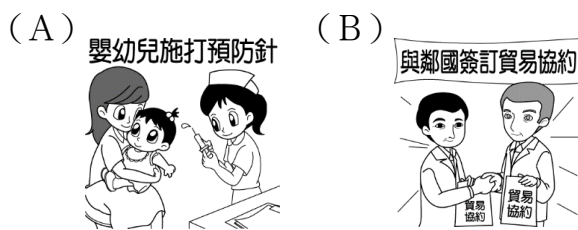


彰化縣立田尾國中 112 學年第一學期第三次段考二年級公民科試題卷

一、單選題：每題 2 分，共 50 題，總分 100 分

班 號姓名

1. () 我國中央與地方政府的分權方式採均權制度，請問：下列何者屬於中央政府的職權？



2. () 下列何者屬於彰化縣政府的職權？ (A) 宣布彰化縣是否因為颱風來襲停止上班上課 (B) 增設員林地方法院 (C) 彈劾失職的彰化縣公務人員 (D) 招考彰化縣政府的員工

3. () 如果中央與地方發生權限爭議時，應該由下列何者來解決？ (A) 司法院 (B) 立法院 (C) 總統 (D) 行政院

4. () 下列何者屬於地方自治團體？ (A) 臺灣省 (B) 彰化縣中西里 (C) 屏東縣楓港村 (D) 嘉義縣阿里山鄉

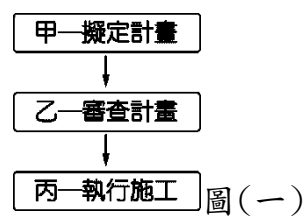
5. () 以下為小宏準備公民課堂報告時蒐集到的資料，請判斷此報告的主題應與下列何者最相關？ (A) 中央政府的互動關係 (B) 地方政府的跨域合作 (C) 中央政府與地方政府的合作 (D) 地方政府的組成

為解決高房價導致無殼蝸牛的社會問題，地方行政首長呼籲中央與地方共推社會住宅政策。營建署回應表示，已編列預算補助 12 處選定推動住宅政策。

6. () 新北市全力打造「全臺借書最強卡」，繼 2017 年與基隆市、2018 年與臺北市展開閱讀資源共享的區域合作後，2019 年持續將閱讀服務向南延伸到桃園市，透過四縣市的跨域合作，來營造北北基桃的閱讀生活圈。未來只要透過一張借書證，就可以互相借閱四市圖書，給予民眾 2,000 萬本書的多元選擇，將有近千萬的民眾可受惠。有關該措施所反映出的地方政府職權，下列何者最為正確？ (A) 此政策為教育文化項目，是中央政府的權限 (B) 透過跨區域合作的方式，可以擴大圖書資源 (C) 資源共享法律上只限於同一生活圈的北北基 (D) 此為跨縣市的區域合作，需由中央政府推動

7. () 平安市政府研擬了一份疏濬河道的計畫，希望以該市的經費，徹底解決每逢大雨便成災的問題。

圖(一)是處理的部分程序，其中「乙」屬於下列哪一機關的職權？ (A) 立法院 (B) 行政院 (C) 平安市政府 (D) 平安市議會



8. () 治秀的工作是負責審查地方自治條例和預算，質詢並監督地方行政機關的施政。請問：他工作的地點應為下列何者？ (A) 市政府 (B) 立法院 (C) 市公所 (D) 市民代表會

9. () 小瑜正在玩九宮格遊戲，只要同等級的三個行政區連成直線、橫線或斜線就能成功，因此表(一)空格中填入哪一個縣市才能連成一線？ (A) 苗栗市 (B) 臺東市 (C) 花蓮市 (D) 嘉義市

基隆市	花蓮縣	高雄市
臺北市	?	彰化市
南投市	屏東市	新竹市

▲表(一)

10. () 阿超和父母利用週休二日假期到澎湖旅遊，參加澎湖花火節，度過愉快的假期。請問：澎湖縣政府舉辦花火節所需的經費是由哪一個單位負責議決？ (A) 財政部 (B) 立法院 (C) 澎湖縣政府 (D) 澎湖縣議會

11. () 新聞報導：新竹縣及縣內的竹北市人口成長快速，若照目前的增長速度推估，到了 2018 年底舉辦地方選舉時，依據相關法律的規定，竹北市選民所能選出的地方民意代表席次，都各將增加一席。上述報導中所指稱的地方民意代表，應為下列哪一組合？ (A) 市議員、立法委員 (B) 縣議員、立法委員 (C) 市議員、市民代表 (D) 縣議員、市民代表

12. () 阿志特地向公司請假一天，首先帶大女兒去「施打新生兒疫苗」，接著再去「補辦自己遺失的身分證」，回家後發現家中遭小偷，於是他趕緊去「報案」。請問：上述志中所處理的事務是屬於地方政府職權中的哪一項目？ (A) 教育文化 (B) 安全衛生 (C) 社會福利 (D) 經濟發展

13. () 新聞報導：「第一臺數位 X 光巡迴車將提供民眾完善醫療服務，數位 X 光巡迴車將巡迴二十九個鄉鎮市，以定點方式提供篩檢服務，將能有效預防疾病發生。」請問：上述屬於地方政府的哪一項職權？ (A) 教育文化 (B) 經濟發展 (C) 安全衛生 (D) 社會福利

14. ()圖(二)中兩人交流的內容，應屬於地方政府的哪一項職權？ (A)社會福利 (B)教育文化 (C)經濟發展 (D)安全衛生




圖(二)

15. ()近來許多地方政府重新整頓閒置空間，每逢週末舉辦藝文活動，並對外進行攤位招商，有時還搭配煙火秀吸引遊客。由於此舉易造成周邊交通壅塞，加上地方財政困窘，因而輿論對此作法有諸多批評，但不少地方政府仍持續舉辦相關活動。下列何者最可能是上述地方政府作為的目的？ (A)籌措地方自治財源 (B)提供人民社會福利 (C)維護自然環境資源 (D)保障民眾言論自由
16. ()甲、乙、丙三人的居住地資料如表(二)，近日三人分別向當地選出的民意代表陳情，希望他們能反映民情。根據表中資料判斷，此三人所陳情的對象，最可能分別為下列何者？ (A)甲：市民代表，乙：市議員，丙：立法委員 (B)甲：市議員，乙：市民代表，丙：立法委員 (C)甲：立法委員，乙：市民代表，丙：市議員 (D)甲：市議員，乙：立法委員，丙：市民代表

居民	居住地
甲	高雄市
乙	新竹市
丙	花蓮市

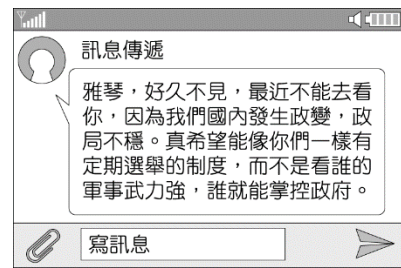
▲表(二)

17. ()阿雅十分關心時事，也常和朋友談論各種政治議題，圖(三)中他分享的內容，應是表達何種概念的重要性？ (A)政府執政不應受到人民干涉 (B)人民應提升政治參與的意願 (C)人民投入政治活動會不利於國家統治 (D)政府應掌控國家最高權力



圖(三)

18. ()選舉制度在民主國家扮演不可或缺的重要角色，但在獨裁國家則不然。圖(四)為雅琴收到一位外國朋友的簡訊，此簡訊內容強調下列哪一特性？ (A)國家未來的發展性 (B)政治參與的重要性 (C)治理國家的正當性 (D)政策執行的合法性



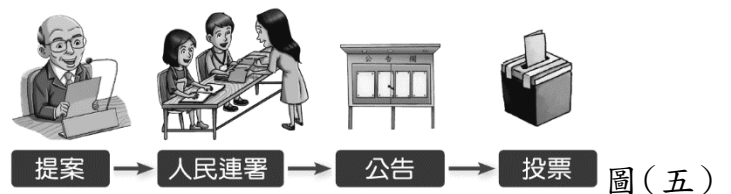
圖(四)

19. ()美國的女性早期備受歧視，沒有投票權，一直到1920年第19條憲法增修條文批准後才具有投票權。女性擁有投票權符合選舉的哪一項原則？ (A)直接 (B)普通 (C)無記名 (D)平等
20. ()阿旺第一次行使公民的投票權，因一時興奮，竟將選票亮給朋友看。請問：上述作為已經違反選舉的哪一項原則？ (A)直接 (B)普通 (C)平等 (D)祕密投票
21. ()立法院制定《公民投票法》，主要是讓人民可以直接參與公共政策的決策與法案的制定。請問：此法可以落實《憲法》保障的哪些權利？ (A)選舉權、創制權 (B)創制權、複決權 (C)選舉權、罷免權 (D)選舉權、複決權
22. ()表(三)是三位公職人員的發言內容，就內容判斷，參選各公職人員的最低年齡限制排序應為下列何者？ (A)甲>乙>丙 (B)乙>甲>丙 (C)丙>乙>甲 (D)甲>丙>乙

甲	我有權任命行政院長
乙	我會嚴格把關縣府預算
丙	我將推動興建本直轄市公宅

▲表(三)

23. ()下列哪一位可以登記為選舉的候選人？ (A)邱先生被宣告褫奪公權二年，尚未復權 (B)吳小姐昨天剛把戶籍遷入 (C)小明因為23歲那年車禍而受監護宣告 (D)王先生5年前曾當選鄉民代表
24. ()圖(五)中的投票流程為人民參與公共事務的一種方式，若投票結果表示該議題未獲通過，則該議題在幾年內不得再提出？ (A)半年 (B)1年 (C)2年 (D)3年



圖(五)

25. ()各地方的里長或鄉長、村長經常不辭辛勞的為當地居民服務。下列何者不可能是里長、鄉長或村長們的服務項目？ (A)在路口加裝監視攝影機 (B)審查地方預算 (C)協助辦理低收入戶證明 (D)號召居民一起進行淨灘活動
26. ()民主政治的特色之一是民意政治，人民通常藉由選舉來表達民意，但政治人物當選後，人民仍然有權透過選票將權力收回，藉此加以監督，以

防偏離民意。人民可以透過上述罷免權的行使，對下列何者進行監督？(A)大法官 (B)縣(市)長 (C)考試委員 (D)行政院院長

27. ()圖(六)中的當選者最可能至下列哪一個機關服務？(A)立法院 (B)竹南鎮民代表會 (C)高雄市政府 (D)古坑鄉公所



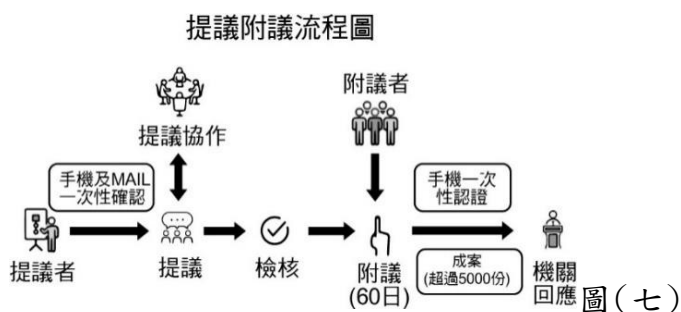
圖(六)

28. ()依據我國法規，我國地方行政區劃分為省、直轄市。哪個縣市可能有山地原住民區的出現？(A)嘉義縣 (B)新竹縣 (C)高雄市 (D)基隆市
29. ()阿倫所居住的社區因為外來人口增多，導致車位愈來愈難找，於是縣長決定在公園旁的公有地上興建收費停車場以解決停車問題。縣長的做法是否正確？(A)錯誤，因為沒權力(B)正確，屬委辦事項(C)錯誤，是不法斂財(D)正確，屬地方自治
30. ()有鑑於以往選舉活動過於密集，除了選務工作須花費大量成本外，也容易造成社會紛擾，於是我國目前採用每隔兩年交錯的原則，分別辦理中央層級與地方層級公職人員的選舉。根據表(四)內容判斷，以民國107年九合一地方公職人員選舉為例，「V」代表可領取該項選舉選票，若小華具有此次選舉的投票權，下列何者是他依法可能領取的選票組合之一？(A)甲 (B)乙 (C)丙 (D)丁

選票組合	直轄市市長	直轄市市議員	縣長	縣議員	縣轄市市長	市市民代表	山地原住民區區長	山地原住民區區民代表	里(村)長
甲	✓	✓	✓	✓	✓	✓	✓	✓	✓
乙			✓	✓	✓	✓	✓	✓	✓
丙	✓	✓							✓
丁					✓			✓	✓

▲表(四)

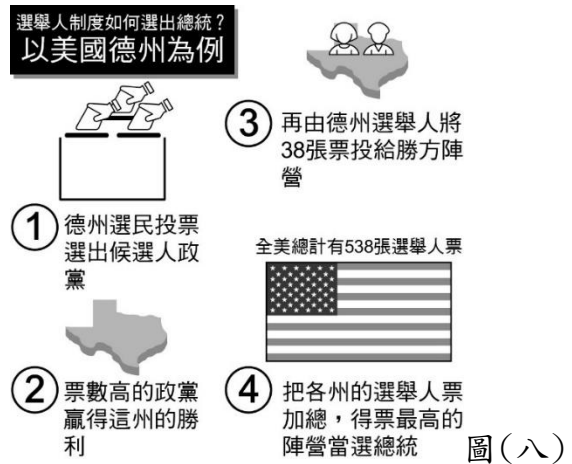
31. ()我國國家發展委員會設置了「公共政策網路參與平臺」，民眾可以透過這個網路平臺，用圖(七)的方式與政府互動。此「公共政策網路參與平臺」，最可能是為了達成下列哪個目的而設置？(A)貫徹普通原則 (B)參與社會運動 (C)落實直接民主 (D)避免差別待遇



32. ()在民主國家，人民有權參與政治並決定公共事務，下列何者不是人民參與政治的方法？(A)小

怡叩應到政論節目發表意見 (B)小霈爺爺加入氣功研習社 (C)阿蓓參加美濃水庫興建的說明會 (D)小慈寫信向市長反映資源回收政策的利弊

33. ()美國的總統選舉，採用獨特的「選舉人」制度。圖(八)是對該制度的簡介。根據敘述和圖片，可做出下列哪一項推論？(A)美國總統選舉不符合平等原則 (B)美國總統選舉不符合直接原則 (C)美國總統選舉不符合無記名原則 (D)美國總統選舉不符合普通原則



※請閱讀以下文章，回答34~35題：

最近，在網路上只要打「鐵花窗」這三個字，便會跳出關於雲林縣口湖鄉植梧村「手繪感鐵花窗」的文章。這個爆紅打卡景點的產生，其實是內政部營建署配合口湖鄉地方創生計畫「臺灣鯛科技漁民」、補助縣政府推動「城鎮之心人文景觀再造」計畫的一環。

國家發展委員會提倡的地方創生「人(人文)一地(地理)一產(產業)」的三大面向為主軸，結合不同中央部會的補助經費，架構地方創生的可能樣態。地方政府則扮演了政府、營利事業及社區之間的媒合角色，必須找到有意願投入地方創生事業的社區、職人、營利事業等，然後媒合相關資源，補助這些事業的空間改造。

「城鎮之心」計畫後的下一步，是落實「創造地方就業機會、移進地方人口數、新增地方品牌數量」，也就是「三鄉」(留鄉、返鄉、移鄉)及「三創」(創意、創新、創業)的地方創生。

(資料來源：改寫自李永展，鐵花窗、小雨燕與臺灣鯛：預約地方創生的下個十年，獨立評論，2020/12/29)

34. ()「從實地訪談中了解到，植梧居民在鐵花窗風潮下，的確產生社區光榮感，但居民也開始感受到，這種打卡、網紅風氣無法明顯改善社區的實質生活條件。『過路客』終究只是過路財神，無法讓植梧的社區產業真正脫胎換骨。」前段敘述說明植梧村的地方創生計畫，哪個面向需要再加強？(A)人：優秀人才回流的人數 (B)地：鐵花窗的數量 (C)人：觀光客的數量 (D)產：產業收入的數量

35. ()文中提及的機關，哪一個是屬於地方自治團體？(A)內政部 (B)營建署 (C)國家發展委員會 (D)口湖鄉

※請閱讀以下文章，回答 36~43 題：

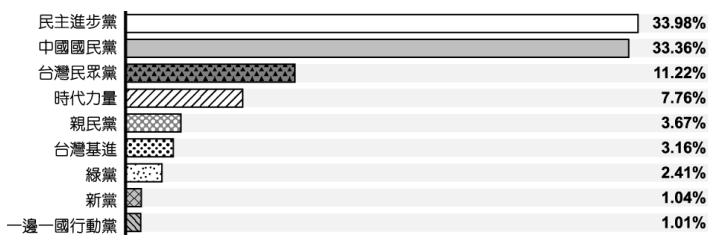
中華民國第 15 任總統副總統與第 10 屆立法委員選舉於 109 年 1 月 19 日完成。最後由民進黨的候選人當選總統，而此次投票率為 2008 年總統選舉以來最高紀錄，有效票達 14,300,940 票亦為史上最多。

36. () 在各個候選人確認參選之後，接下來的選舉流程，若依照先後順序排列，何者正確？(甲)登記參選(乙)競選活動(丙)公布選舉結果(丁)投票(戊)開票、計票 (A)甲乙丙丁戊 (B)甲乙丁丙戊 (C)甲乙丁戊丙 (D)乙甲丁戊丙
37. () 小軒對政治有濃厚的興趣，總統大選時他還特地從臺北趕回高雄老家投票。請問：下列敘述何者正確？(A)小軒至少年滿 18 歲(B)小軒具有中華民國「公民」資格(C)只要為我國國民，均享有選舉權(D)人民有選舉權為《民法》保障的權利
38. () 在投票日當天，小軒前往投票所，要投下神聖的一票。請問：小軒投票時一定要攜帶下列何種證件？ (A)印章 (B)護照 (C)國民身分證 (D)投票通知單
39. () 圖(九)是此次選舉的其中一種選票，關於此種選票的敘述，下列何者最適當？ (A)顯示我國人民享有集會自由 (B)得票率最高者將成為執政黨 (C)顯示我國落實地方自治精神 (D)得票率將影響立法委員席次

1	2	3	4	5	6	7	8	9	10	11	12	13	14	15	16	17	18
民主進步黨	親民黨	自由黨	和平聯盟	軍公教聯盟	信國聯盟	信心希望聯盟	中華統一促進黨	中國團結聯盟	台灣團結聯盟	時代力量	大愛憲改聯盟	綠黨社會民主黨聯盟	台灣獨立黨	無黨團結聯盟	新黨	健保免費連線	樹黨

圖(九)

40. () 根據圖(十)中 2020 年政黨票得票率，哪一個政黨無法取得不分區立委的席次？ (A)中國國民黨(B)親民黨(C)時代力量(D)民主進步黨



▲圖(十)

41. () 我國總統自直接民選以來，歷屆總統、副總統的選舉資料概況，如表(五)所示。根據表中資料判斷，可對近年的社會現象做出何項推論？ (A)人口結構顯示出少子化現象 (B)民眾政治參與意願逐年上升 (C)自然增加率大於社會增加率 (D)投票率增加會加速政黨輪替 ▼表(五)

屆數	總人數(萬人)	具投票權人數(萬人)	具投票權人數比例(%)	投票率(%)
9	2,131	1,431	67.16	76.04
10	2,213	1,546	69.86	82.69
11	2,257	1,650	73.12	80.28
12	2,292	1,732	75.56	76.33
13	2,322	1,808	77.88	74.38
14	2,348	1,878	79.98	66.27

42. () 不論是小軒或小瑀，他們的選票均具有同等價值，這是選舉的何項原則？ (A)普通原則 (B)直接原則 (C)無記名原則 (D)平等原則
43. () 阿喬由於不符合法律設籍期間規定，因此只具有上述兩項選舉之一的投票權。請問：他設戶籍於選舉區最可能只有幾個月？ (A)3 個月 (B)5 個月 (C)6 個月 (D)8 個月

※莎莉和妹妹一出生就與爸爸媽媽住在臺灣，表(六)是他們一家人的資料。請回答 44~47 題： ▼表(六)

	國籍	年齡	受監護宣告	褫奪公權
奶奶	中華民國	89 歲	無	有
爸爸	中華民國	52 歲	有	無
媽媽	波蘭	55 歲	無	無
莎莉	波蘭	26 歲	無	無
妹妹	中華民國	24 歲	無	無

44. () 若只就上述資料來判斷，莎莉一家有哪二人擁有投票權？ (A)奶奶、爸爸 (B)奶奶、妹妹 (C)爸爸、媽媽 (D)莎莉、妹妹
45. () 以上兩人參與投票時，均不透過他人，親手投下神聖的一票，且他們的選票均具有同等價值。請問：上述顯示選舉的何項原則？ (A)無記名，平等 (B)平等，普通 (C)普通，直接 (D)直接，平等
46. () 若他們家中擁有投票權者想對公投案進行投票，須在選舉區設籍多久？ (A)3 個月 (B)4 個月 (C)6 個月 (D)1 年
47. () 若莎莉一家人中，有人符合競選公職的參選資格，應是哪位可以競選哪一類公職人員？ (A)妹妹，直轄市市長 (B)妹妹，民意代表 (C)爸爸，鎮長 (D)爸爸，鄉長

※民主社會保障每個人有參與政治的權利，能夠自由表達自己的意見和看法。在我國，公民意識蓬勃發展，人民可透過許多方式來參與公共事務。例如，為反對政府的核能政策及措施，民間團體展開一連串反核的宣傳及抗議活動。請回答 48~50 題：

48. () 上述文中提及的政治參與方式為何？ (A)參與投票 (B)加入政黨 (C)捐款政黨 (D)參加遊行
49. () 民眾走上街頭表達意見，此種政治參與的方式，為憲法保障人民的何種權利？ (A)平等權 (B)自由權 (C)受益權 (D)參政權
50. () 公民參與公共事務所代表的意義為下列何者？ (A)體認公民對社會的責任 (B)落實五權分立的理念 (C)取代選舉制度的實施 (D)停止政府部門的運作

- 1、BABDC BDDDD
- 11、DBCAA DBCBD
- 21、BDDCB BBCDC
- 31、CBBAD CBCDB
- 41、BDBBD CBDBA