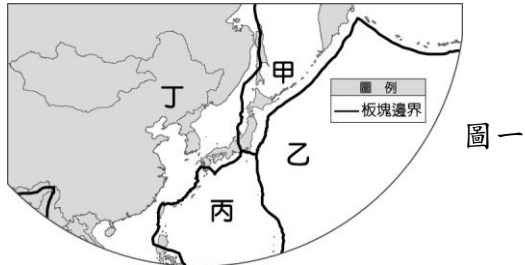


田尾國中第三次段考地理科試題

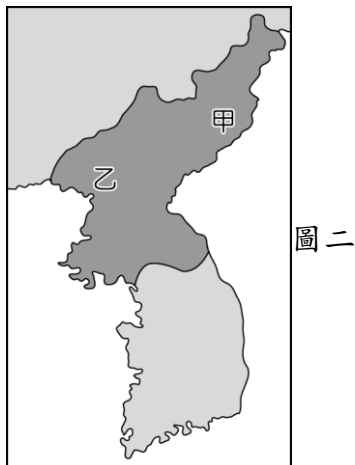
___年___班 座號：___ 姓名：___

一、單題 (每題 2 分)

- () 北韓近年來遇到嚴重的饑荒問題，這和下列哪一個因素的關係較小？(A)耕地較少 (B)冬季寒長 (C)生產技術落後 (D)勞力不足。
- () 位於日本九州的阿蘇山纜車，因當地的火山活動頻繁，造成纜車停止營運，最後在 2019 年拆除。造成上述火山活動的菲律賓海板塊應位於圖一中何處？(A)甲 (B)乙 (C)丙 (D)丁。

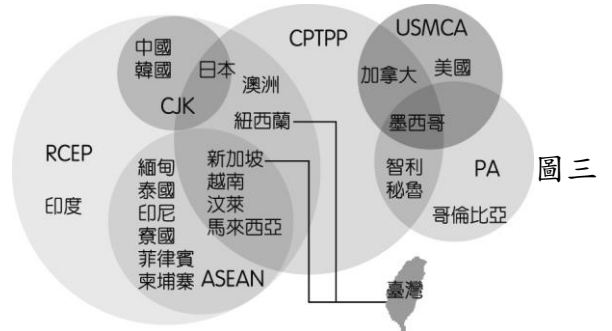


- () 「……西元 1281 年夏季，忽必烈派出一支載有 15 萬士兵的艦隊進攻日本，要求歸順，日本人奮力抗擊長達七周。正值此時，一場『神風』毀掉半數以上的蒙古軍，解救了日本的危機。」根據當地的氣候特性判斷，文中的「神風」最可能是下列何者？(A)季風 (B)颱風 (C)沙塵暴 (D)龍捲風。
- () 南韓的影視產品在亞洲掀起一陣韓流熱潮，相關的娛樂產品在亞洲國家大賣。請問：對於下列何項產業的助益最大？(A)電子業 (B)資訊業 (C)農牧業 (D)觀光業。
- () 北韓有多礦產分布，首都平壤附近的順川和博川礦山即為鈾礦分布區，因此有利於發展核武。近年來北韓進行多次的核爆試驗，並且試射洲際飛彈，對周邊國家造成威脅，圖二中為北韓兩大核武實驗中心的位置。請問：下列敘述中何者最為正確？



- (A)甲實驗室的地形較為低平，利於核廢料掩埋
 - (B)乙實驗室較接近北韓首都，便於官員巡視
 - (C)甲實驗室氣候較為溫暖溼潤，利於核武儲存
 - (D)乙實驗室鄰近日本海，核武試爆易引起日方抗議。
- () 2021 年末的強烈寒流侵襲東北亞，通過朝鮮半島的乾冷空氣團，在南韓首爾創下了 -18.5°C 的低溫，而這波冷空氣迅速越過洋面，為日本北部帶來大量降雪，癱瘓沿海各城市的交通，東京也刷新了歷年最低溫 -2.2°C 。日韓兩地出現的最低溫差異，是由於下列何項地理特徵？(A)北方山區攔截水氣 (B)海洋水氣調節溫度 (C)都市熱島效應保溫 (D)日本緯度較南韓低。
 - () 2022 年初南韓宣布正式申請加入跨太平洋夥伴全面進步協定 (CPTPP)，以爭取協定帶來的市場規模與出口優惠，而臺灣諸多產業上與南韓是競爭對手，若臺灣也申請加入 CPTPP，將對南韓造成巨大壓力。圖三是亞太地區各項協定與其會員國，下列哪個協定對南韓貿易產生的影響較小？(A)CJK (B)RCEP

(C) USMCA (D) ASEAN。



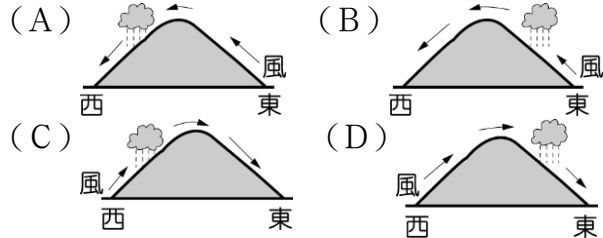
- () 日本為亞洲地區經濟發展較早的國家，藉由各項商品對外出口，獲取大量的利潤，成為全球外匯存底第二高的國家。請問：日本在經過多年產業轉型及升級的發展後，目前主要產業類別以下列何者為主？(A)資源密集型產業 (B)勞力密集型產業 (C)研發創新產業 (D)加工製造型產業。
- () 傳統上日本人吃米飯壽司，而中國華北的居民則吃饅頭麵條。兩地緯度相近，主要的糧食作物卻不相同，這種差異與下列哪一要素關係最密切？(A)氣溫 (B)降水量 (C)地形 (D)人口。
- () 南韓政府近年來積極在首爾西南方 40 公里處，填海造陸擴建仁川港，希望藉由和中國及其他國家的經貿往來，增加港口的吞吐量。若由地緣關係判斷，南韓政府宜優先考量就近與中國哪一地區合作？(A)環渤海地區 (B)廈門經濟特區 (C)珠江三角洲地區 (D)長江三角洲地區。
- () 「K-pop」泛指南韓的流行音樂界，在 2000 年後席捲亞洲各國，甚至進軍歐美流行音樂界，成為一股新興風潮，並帶動南韓的服飾、彩妝等相關產業發展，其經濟收益相當可觀。請問：南韓的時尚產業多藉由下列何種的發展策略來提高其附加價值，增加其經濟產值？(A)大量生產以降低售價，提高銷量 (B)品牌化的經營模式，提高其附加價值 (C)結合該國傳統文化，強調在地化的特色 (D)國家關稅保護措施，保障國內市場銷量。
- () 2019 年南韓災難電影《白頭山：火山浩劫》，敘述位於北韓和中國邊界上的白頭山發生火山爆發，周邊國家對這場災害的反應，其火山位置如圖四所示。請問：上述火山在哪一個季節噴發時，其火山灰可能會對日本造成影響？(A)春季 (B)夏季 (C)秋季 (D)冬季。




- () 日本與臺灣同為東亞島弧的國家，地理條件有很多的相似之處，但不包括下列何者？(A)地形崎嶇 (B)缺乏工業原料 (C)季風風向 (D)多地震活動。
- () 沖繩在歷史上是琉球國的所在地，1874 年 (清同治 13 年) 牡丹社事件後，日本併吞琉球群島，並將最後一位琉球國王尚泰綁架到東京，置琉球為沖繩縣。請問：琉球國王尚泰被迫搭船前往東京，其行進方向為何？(A)東南方 (B)西南方 (C)東北方 (D)西北方。
- () 根據日本的統計資料顯示，日本勞工的平均月薪約為 5,000 美金，遠超過臺灣的 1,250 美金。請問：日本企業目前多採取何種經營方式以維持市場上的競爭力？

(A) 跨國企業結構 (B) 引進優質勞工 (C) 降低環保標準 (D) 加入歐盟市場。

16. () 下列哪一個圖最能顯示日本夏季時的主要降雨模式？



17. () 日本皇族在春天賞櫻的「花見」傳統流傳至民間，每逢春季各地總是紛紛舉辦櫻花祭。若根據日本氣象廳所發布的賞櫻前線日期判斷，四大島中哪一個地區的櫻花季舉辦時間較早？(A) 北海道 (B) 本州 (C) 九州 (D) 四國。

18. () 「」此符號代表溫泉，上方畫了三道熱氣，是代表一天當中泡湯的最好時段為：晚餐前、晚餐後，以及睡覺前，總共三次，可以見得日本人非常喜歡泡溫泉。請問：溫泉的形成與日本何項環境條件關係最密切？(A) 位居中緯度 (B) 地勢較高聳 (C) 屬季風氣候 (D) 處板塊交界帶。

19. () 根據以下新聞判斷，文中的☆☆☆指的是台灣哪種產業，無法靠過去的致勝定律，所受衝擊最大，造成工廠倒閉潮？(A) 成衣 (B) 機械 (C) 手機 (D) 汽車。

商周深入中台灣的大肚山下直擊「重災區」追蹤發現，日本製造正在全球攻城略地，***龍頭日商德馬吉森***(DMG MORI) 今年上半年繳出合併營收成長逾 14%、合併淨利成長 32% 的好成績，反觀台股營收規模最大的☆☆☆同期合併營收不只衰退 5%，且淨利也由盈轉虧。

原來，台灣☆☆☆產業過去是靠「品質直追日本、售價比日本便宜 1 成到 2 成」致勝定律，立足全球市場，但誰也沒想到的是，近 3 年日圓兌美元匯率，創下近 4 成的貶值幅度。過去 20 年來，台灣追日趕德的產業發展鐵律被打破。

這大幅度降低或拉平了日本製造 (MIJ) 與台灣製造的價格落差，部分台廠甚至賠本賣，都不一定搶得贏日軍，市場邏輯因此全面翻轉。

撰文者：林洵楨、高士閔 製作人：呂國禎 2023. 11. 15

20. () 蘋果在臺灣主要種植在高山上，生產成本加上運費，往往要價不斐。然而日本東北的青森，在丘陵地就能種植蘋果，且品種選擇也十分多樣，如富士蘋果、黃王蘋果等。若依照其成熟時間，亦可分成 9 月收成的早生品種、10 月收成的中生品種、10 月中後期收成的晚生品種。請問：日本與臺灣生產蘋果的地點有所差異的主要原因為何？(A) 季風吹拂 (B) 距海遠近 (C) 洋流流向 (D) 緯度高低。

21. () 「消防」是消除與防患生活中可能遇到的人為與自然災害，衍伸至今是(撲滅)火災之意。消防一詞出現在日本江戶時代，武州新倉郡《王人帳前書》記載：「發生火災時，村中的『消防』就趕到」；到明治初期，「消防」一詞開始普及。日本之所以非常重視消防工作，與該國建築使用大量的木造房舍，容易引發火災有關。日本建築之所以大量使用木材作為建材，與該地何項環境特色關係密切？(A) 四面環海 (B) 避免積雪 (C) 地震頻繁 (D) 山多田少。

!! 背面還有題目 !!

二、題組 (每題 2 分)

★住在臺灣的曉明和家人寒假前往日本進行鐵道之旅，在途中遇見許多有趣的事，讓他直說不虛此行，下列為他的行程簡表。請問：

第一天	由臺北松山機場直飛日本關西國際機場
第二天	參觀沿岸港都的觀光景點
第三天	搭乘新幹線欣賞沿途美景
第四天	享受泡湯及精緻懷石料理
第五天	由新千歲機場返回國門

22. () 他在旅行中，對於沿海港都的「異人館」印象相當深刻，傳說是過去海上航運貿易發達，因此許多外國人往來此地所留下的地標。四面環海的日本主要對外貿易的海洋為何？(A) 日本海 (B) 黃海 (C) 太平洋 (D) 對馬海峽。

23. () 第一天到達的關西機場鄰近哪一個平原？(A) 關東平原 (B) 近畿平原 (C) 濃尾平原。

24. () 曉明在第四天行程中，來到日本氣溫最低的島嶼，於是將行李中準備的厚重大衣穿上，享受雪國的另一種體驗。此時他所在的島嶼應該為下列何者？(A) 北海道 (B) 本州 (C) 四國 (D) 九州。

★南韓天然資源並不豐富，然而受惠於產業政策上，由政府強力介入扶植大型企業集團的發展，因此成長相當快速並威脅到日本的經濟地位。南韓早期以高資金投資以及大量勞動力投入來帶動經濟成長，但由於製造業和非製造業的生產力持續下跌，資本投資的效率不佳，目前朝向知識經濟發展，希望提升總體競爭力，邁向知識經濟化的方向。請問：

25. () 1960 年代南韓和臺灣同列為亞洲四小龍之一，發展初期多以何種類型的產業活動為主？(A) 加工出口業 (B) 汽車產業 (C) 資訊工業 (D) 鋼鐵業。

26. () 圖五為臺灣和南韓的經濟指標比較圖，可以發現兩者差異不大。請問：目前臺灣和南韓在哪一項重點產業的競爭最為激烈？(A) 鋼鐵業 (B) 汽車業 (C) 電子業 (D) 金融業。



圖五

★日本為全球重要產業分工鏈的上游，儘管過去幾年受到經濟發展條件的影響，日本企業陸續將國內製造業裝配工廠轉移到中國等海外國家，但是留在國內的工廠競爭力仍未減弱，具有全球性的影響。請問：

27. () 日本近年來受到經濟發展條件的影響，陸續將國內製造業裝配工廠轉移到中國等海外國家，最主要的因素為下列何者？(A) 政治不穩 (B) 市場萎縮 (C) 工資上漲 (D) 關稅障礙。

28. () 日本企業外移的過程中，鄰近的中國除了生產成本的考量外，尚因為具有下列何項優勢，而成為主要的遷移地區？(A) 礦產豐富 (B) 技術進步 (C) 市場廣大 (D) 民主開放。

29. () 日本企業雖然有許多工廠外移至海外，但由於掌握下列何項優勢，因此仍可維持其國際競爭力？(A) 封閉國內市場 (B) 重視技術研發 (C) 大量勞工外移 (D) 加入國際組織。

!! 背面還有題目 !!

★近年來朝鮮半島局勢緊繃，由於北韓積極發展飛彈、核武技術，再加上不斷試射、放話恐嚇等，對周遭的國家造成嚴重影響，更是讓南韓覺得備感威脅。南韓為了防止飛彈進犯，因此決定和美國合作，加裝薩德反飛彈系統。請問：

30. () 生活方式的差異為南北韓歧見的主要來源，表1為南、北韓的比較，其中何者正確？(A)(甲) (B)(乙) (C)(丙) (D)(丁)。

	(甲)首都	(乙)工業	(丙)政治	(丁)產業
北韓	釜山	國防工業	民主	大財團為主
南韓	平壤	高科技產業	共產	國營企業盛

表1

31. () 北韓的飛彈主要鎖定南韓重要的政治及經濟都市，其中，南韓的首都位於圖六中何處，因此應為飛彈防禦的重點所在？(A)甲 (B)乙 (C)丙 (D)丁。



圖六

32. () 圖七為北韓飛彈發射預測路徑圖，除了南韓外，下列哪一國家正好位在其飛彈路徑上，受到的威脅最大？(A)臺灣 (B)中國 (C)日本 (D)俄羅斯。

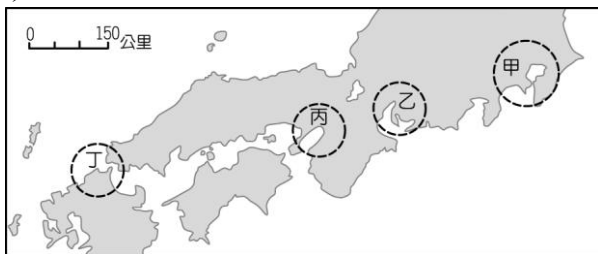


圖七

★2016年4月，臺灣的鴻海集團正式宣布入主日本企業夏普，這使得鴻海可整合面板事業。外界分析師認為，鴻海此舉利用日本企業的優點可以加強競爭力，並從代工生產跨入品牌銷售。請問：

33. () 鴻海為世界著名的電子廠，大力投資入主日本企業夏普，可以獲得的生產條件最可能為下列何者？(A)廉價勞工 (B)進步技術 (C)工廠土地 (D)礦產原料。

34. () 夏普為日本百年企業，屬於該國八大電子產品工業公司之一，總部設立於大阪。若鴻海總裁要前往大阪視察，則應該到圖八中何處？(A)甲 (B)乙 (C)丙 (D)丁。



圖八

35. () 日本企業正面臨其他國家的挑戰，因此該國企業紛紛轉向以何種項目來獲利，維持其市場競爭力？(A)工業原料 (B)產品專利 (C)工業生產 (D)組裝代工。

★臺灣和南韓同為亞洲四小龍之一，經濟發展成就高，兩地在發展的過程當中，因為自然環境及策略影響而使經濟發展方向不同。請問：

36. () 南韓和臺灣的地形皆影響了國內的區域發展。下列有關這兩地的分布特色中，何者正確？(A)甲 (B)乙 (C)丙 (D)丁。

項目	臺灣	南韓
(甲)地形	高山眾多	平原廣大
(乙)平原位置	西部地區為主	東部地區為主
(丙)主要地形	山地、高原	盆地、平原
(丁)脊梁山脈	中央山脈	太白山脈

37. () 南韓和北韓有截然不同的經濟發展方向。下列有關南北韓的比較，何者正確？(A)甲 (B)乙 (C)丙 (D)丁。

項目	南韓	北韓
(甲)位置	緯度較高	緯度較低
(乙)地形	較為平坦	較為高聳
(丙)氣候	寒冷少雨	溫暖溼潤
(丁)產業	國防工業	高科技產業

38. () 南韓經濟十分發達，產品行銷世界各地，為國家賺進了許多的外匯。請問：目前南韓對外輸出的工業產品中，下列何者較少？(A)資訊 (B)成衣 (C)遊戲軟體 (D)家電。

★日本為亞洲最主要的工業國家，其工業發展特色受自然環境的限制相當大，因而發展出獨特的工業活動。請問：

39. () 日本受其環境條件的限制，目前發展工業的特色中，不包括下列何者？(A)出口貿易為主 (B)勞力密集產業 (C)原料仰賴進口 (D)沿海工業發達。

40. () 日本對外的出口產品種類眾多，形成大量的貿易順差。請問：依日本對外輸出的工業產品特性判斷，下列何者所占的比例最小？(A)汽車 (B)電腦 (C)塑膠 (D)手機。

41. () 表2為日本和其他國家的進出口貿易情況，其中與下列何者之間的貿易狀況呈現入超？(A)甲國 (B)乙國 (C)丙國 (D)丁國。

	甲國	乙國	丙國	丁國
出口	2500	2000	1800	36000
進口	1000	2300	500	21000

表2

★日本四面環海，因此對於海洋資源的利用十分關心。然而311地震的核能危機造成相當大的威脅，相關單位發現福島核電廠附近的海水被輻射污染，對於漁業資源的影響相當大。世界衛生組織亦提出警告，小量輻射將對海鮮食品安全構成潛在危害。請問：

42. () 福島核災的位置圖如圖九所示，遭到核災污染的漁場位於哪一個海域？(A)太平洋 (B)日本海 (C)黃海 (D)南海。



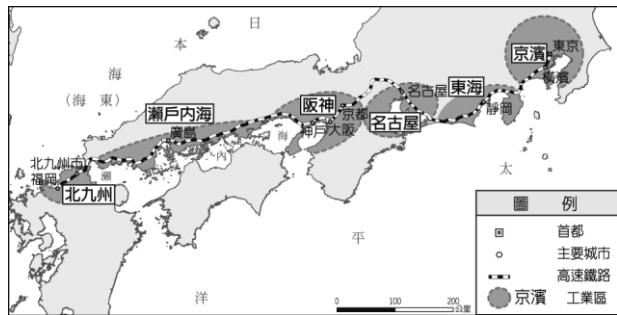
圖九

43. () 日本所捕獲的漁產除了自用外，其高價的現撈魚貝類多利用何種方式運輸至歐美地區銷售，最能保持其鮮

度？(A)海運 (B)空運 (C)河運 (D)陸運。

44. () 日本漁業活動的態度早期以開發為主，近來則積極推動水產貿易認證及制定海洋生態之管理規範，展現永續發展漁業的決心。請問：下列日本政府的何種措施和永續發展的目標方向一致？(A)規定捕魚作業季節 (B)限制漁市營業時間 (C)鼓勵食用牲畜肉類 (D)推廣生魚片的吃法。

★圖十為日本境內重要的工業區分布圖，請根據圖中資料回答下列問題：

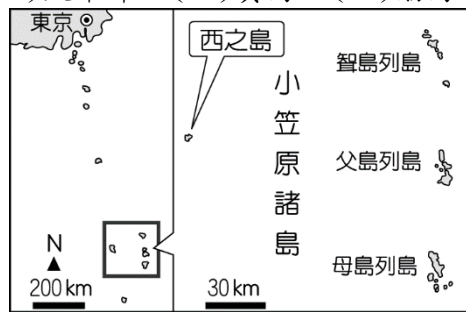


圖十

45. () 日本的工業區遍布於太平洋岸港口地區，這和該國哪一項特色的關係最大？(A)缺乏礦產原料 (B)火山地震頻繁 (C)經濟海域廣大 (D)工業技術進步。
46. () 由圖十可知，日本的重要工業區大多分布於下列哪一個島嶼？(A)北海道 (B)本州 (C)四國 (D)九州。

★地狹人稠的日本位於板塊交接帶上，曾經因為小笠原群島的火山爆發，形成新的島嶼——西之島。因為火山熔岩不斷噴發，已形成了90公尺長，60公尺寬，高度10公尺的火山錐，一旦火山爆發，將有可能引發海嘯，專家已經呼籲需小心防範。請問：

47. () 日本火山地形眾多，遍布國內各地，最主要的原因為下列何者？(A)板塊活動 (B)地形封閉 (C)焚風現象 (D)地層陷落。
48. () 上文中出現的新島嶼——西之島，其地理位置如圖十一所示。請問：西之島位於哪一個海洋上？(A)日本海 (B)太平洋 (C)黃海 (D)渤海。



圖十一

49. () 日本因為火山地形造成丘陵眾多，故多以何種方式來耕作，以增加其糧食生產？(A)湖田 (B)水田 (C)梯田 (D)旱田。
50. () 溫泉為火山地形的周邊地景，尤其在日本冬季時，受到哪一個風向帶來充沛的水氣影響，因此經常出現飄雪的情況，成為泡湯時的一大享受？(A)西北風 (B)東北風 (C)西南風 (D)東南風。

答案：

- 1.DCBDB
6.BCCBA
11.BDCCA
16.BCDBD
21.DCBAA
26.CCCBB
31.CCBCB
36.DBBBC
41.BABAA
46.BABCA