

彰化縣立田尾國民中學 111 學年度第一學期八年級第三次段考歷史科試題


年 班 座號： 姓名：

一、選擇：每題 2 分，共 60 分

1. () 歷史資料上記載：「這是一場為了朝鮮宗主權而開打的戰爭，戰爭結束以後，中國居然割讓了一整個省，使中國的權益受到更大的損害。」請問：這是指哪場戰爭？ (A)鴉片戰爭 (B)英法聯軍 (C)甲午戰爭 (D)八國聯軍。

2. () 在幾年前，日本國會通過海外出兵法案，「日本過去向海外派遣自衛隊支援外國軍隊行動皆屬個案，由政府提出相關派遣法案，經國會審議後，設定明確派遣期限才予以批准」，被亞洲某些國家認為是其侵略主義再起的徵兆。日本這種派兵的行動之所以被亞洲國家懷疑，是因日本之前有這種大舉侵略別國的歷史，這樣的侵略歷史可追溯自明治維新後，請問日本維新後海外出兵的第一次行動是侵略何地？ (A)朝鮮 (B)臺灣 (C)琉球 (D)東北

3. () 附圖漫畫描繪的是清末時上海的情景。請問：會有圖中這樣情形，與外國取得哪個權利有關？ (A)協定關稅 (B)通商口岸可設廠 (C)領事裁判權 (D)租界。



4. () 十九世紀時，有一位知識分子將他當時的所見所聞寫在日記上：「中國面臨風雨飄搖的危機，我輩知識分子怎能不為國家的前程擔憂，幸好有康、梁公為國家提出變法革新的新主張，相信在此改革的推動下，國家一定會愈來愈好……。」根據此日記的內容判斷，下列敘述何者錯誤？ (A)上述的變法是指百日維新 (B)當時國家遭遇的危機是英法聯軍之役 (C)康、梁公指的是康有為與梁啟超 (D)革新教育是改革內容之一。

5. () 附表是佳士得拍賣會的拍賣品清單。請問：這些拍賣品可能是在哪一次戰役中被劫掠的？

日期	拍賣品描述
1861.7	來自軍官們的兩批物品：一批八件；一批二十三件。其中包括「中國皇帝的大國璽」
1862.6	來自圓明園的三件琺瑯製品，「一個大香爐，……曾是皇帝書房裡的爐子。」
1864.7	三十六件標明來自圓明園的物品
2009.2	圓明園海晏堂外的噴泉裝飾：鼠首和兔首銅像

(A)鴉片戰爭 (B)英法聯軍 (C)甲午戰爭 (D)八國聯軍。

6. () 一份報紙斗大的標題寫道：「洋人的世界末日——在民眾日漸升高的仇洋情緒中，各地都有燒教堂、殺洋人，並到處毀壞鐵路及電線桿等洋物的現象，北京城籠罩在恐怖的殺戮氣氛中……。」請問：報紙中描述的應該是何事？ (A)鴉片戰爭 (B)義和團之亂 (C)英法聯軍 (D)八國聯軍。

7. () 道光年間，因為英國認為清廷嚴重傷害其在中國的商業利益，於是派軍艦入侵廣州，爆發戰爭，之後清廷失利，雙方簽訂條約，清廷除了賠款，還割讓香港，並開放五口通商。請問：上文中指的商業利益為何？ (A)清廷不賣茶葉給英國 (B)清廷焚毀英國所販賣的鴉片 (C)清廷不准英船進入長江流域 (D)清廷加重來自英國的商品關稅。

8. () 十九世紀以來，英國大量走私鴉片進入中國，當時清朝官員出現嚴禁派與弛禁派(解除禁令)的紛爭，主張嚴禁鴉片有林則徐等人。請問：他們堅持嚴禁的理由最可能為下列何者？ (A)鴉片的售價太高昂，民眾消費不起 (B)中國有自產鴉片，會影響中國鴉片的銷售 (C)鴉片進口會使許多人失業 (D)白銀外流及影響人民的健康。

9. () 十八世紀時，英國派遣馬加爾尼出使中國，當時是乾隆皇帝當政。但是該次晤談卻不歡而散，導致雙方不歡而散的原因為何？ (A)英方攜帶的禮品粗製濫造，導致中方不悅 (B)英方拒絕入境隨俗，遵循中方三跪九叩之禮 (C)英方提出貿易免除關稅協議，嚴重影響中國稅收 (D)英方使節團發現中國國防空虛，藉此次機會製造開戰藉口，觸發鴉片戰爭。

10. () 1997 年，在儀仗隊行舉槍禮之後，英國查爾斯王子說：「這一重要而特殊的儀式標誌著香港在一百五十多年的英國統治之後，交還給中國。」英國是因哪個條約而取得香港？ (A)《中英法北京條約》 (B)《南京條約》 (C)《中英法天津條約》 (D)《馬關條約》

11. () 中日兩國都曾經閉關自守(鎖國)過，後來也都因著列強武力的威脅和侵逼而被迫開港通商。請問：關於中日這方面的歷史，下列的比較說明，何者敘述錯誤？ (A)英國首先打開中國的門戶，而美國首先打開日本的門戶 (B)兩國被迫打開門戶的時間都是發生在 19 世紀中期左右 (C)兩國在外力的衝擊之下開港通商後均立即展開了變法圖強的改革 (D)中國第一個改革自強運動，比日本明治維新的改革時間要早。

12. () 由於戰爭失敗，國勢動盪不安，光緒皇帝下詔改革，此即「戊戌變法」。請問：下列何者可能是這次改革的內容？ (A)著重模仿西方器物，講求船堅炮利 (B)謀求制度層面的革新，並設立京師大學堂 (C)設立中國第一個辦理外交事務的現代機構「總理各國事務衙門」 (D)廢除科舉，結束這項持續一千三百多年的選才辦法。

13. () 西元 1898 年某日的號外響徹街頭，號外上用聳動的標題寫著：「老佛爺重行視事，皇帝被幽禁於瀛臺，康梁已不見蹤影，朝廷全力緝拿中……。」請問：此份號外的內容所指何事？ (A)自強運動 (B)百日維新 (C)戊戌變法 (D)戊戌政變。

14. () 《孽海花》是清末民初的小說，其中有一段描述洋人軍隊進入北京城，清帝、太后西逃至西安，命大臣李鴻章負責議和，李鴻章遂求助於名妓賽金花，使其向德軍統帥瓦德西疏通，終使條約的簽訂問題順利解決。請問：上文敘述的背景為下列哪一事件？ (A)鴉片戰爭 (B)英法聯軍 (C)甲午戰爭 (D)八國聯軍。

15. () 附圖內容為改編自《大公報》上的徵婚廣告。這則廣告可謂近代中國最早的「徵婚啟事」，依此判斷，下列哪一項內容可能被列為徵婚的第四個要素？ (A)謹遵三從四德觀念 (B)不具纏足行為 (C)遵守家法規範 (D)奉父母之命成婚

尚未娶婦，意欲訪求天下有志女子聘定為妻，只要符合以下 4 點條件，無論滿漢貧富長幼皆可來信，信面寫「求偶回應帖」，託天津青年處代收。

- 一、有上學經驗，通曉中西學術。
- 二、迎親禮節遵造現代文明做法
- 三、具有自主權觀念
- 四、_____？

16. () 19 世紀，英國人艾力克斯在中國犯下搶劫的重罪，可是當巡捕聞風逮捕之際，官府卻選擇將艾力克斯交由英國領事館處分而未進行任何的審判程序。請問：上述情形是受到哪件史事的影響？ (A)清帝國禁教 (B)馬加爾尼使華 (C)鴉片戰爭 (D)英法聯軍。

17. () 附表為某一貨物於清末輸入中國的箱數，請由數據判斷，下列何種情況符合史實？ (A)此貨物為茶葉 (B)此貨物進口到中國的數量有日益減少的趨勢 (C)此貨物大多數是由法國輸往中國 (D)中國為購買此貨物而產生白銀大量外流的問題。

西元	進口箱數
1799 年	4,000
1820 年	7,889
1825 年	12,576
1830 年	20,331
1835 年	35,445
1839 年	40,200

18. () 有位學者說：「八國聯軍中，日本在處理軍事和國際關係方面的公正態度贏得了中國的信任，於是在中國想避免西方侵略、日本想遏制西方滲透的情況下，日俄戰爭前後出現了『中日外交的黃金時代』，日本透過軍事、警務、教育方面的領導，直接參與了清政府的改革。」請問：該學者所說的「改革」當指以下何者？ (A)自強運動 (B)明治維新 (C)戊戌變法 (D)庚子後新政。

19. () 附圖是哲誠在某堂歷史課所做的筆記，根據筆記的內容，請問該堂課的主題最有可能為下列何者？ (A)西力衝擊下的晚清政治制度變遷 (B)臺灣建省與自強運動的推動 (C)十九世紀的亞洲局勢變動 (D)戊戌變法的建設與改革。

1. 英法聯軍之役後展開
2. 興築基隆至新竹的鐵路
3. 架設電報
4. 創辦西學堂

20. () 下列是西元 1906 年上海甲、乙官員的對話內容——

甲：「前年在東北發生的這場戰役，實在令人大開眼界，結果也讓人驚訝！」

乙：「總結教訓，中國若想富強，可以學習戰勝國，得召開國會、頒布憲法！」

以上兩人是在表達對哪場戰役的看法？ (A)甲午戰爭 (B)英法聯軍 (C)日俄戰爭 (D)八國聯軍。

21. () 十八世紀，英國派遣使者來與中國討論通商限制放寬的議題，請問當時中國對於歐洲國家的通商限制有哪些？ (A)限定廣州貿易 (B)只能販售鴉片 (C)使用中國發行的紙幣貿易 (D)只能透過當時的郊商貿易

22. () 為解決國家的困境，中國歷史上曾有多次變法與革新，但結果成敗不一。若就清朝「戊戌變法」來說，算是一次失敗的改革。其最主要是以下哪位人物的反對？ (A)光緒皇帝 (B)慈禧太后 (C)袁世凱 (D)李鴻章

23. () 2020 年，新冠肺炎疫情爆發，影響擴及全球，各國的政治與經濟皆受到強烈衝擊。因該年適逢庚子年，有人提出了此次疫情正好印證了「近代中國逢庚子必有重災」的現象，為此他們應該會以下列哪件史事作為例證？ (A)英國因要求被拒，與法國聯合進攻中國 (B)義和團在各地起事，外國舉兵進攻中國 (C)日軍不願撤離朝鮮，與清軍隊爆發衝突 (D)法國欲併吞越南，與清廷爆發武裝衝突。

24. () 梁啟超曾批評某個改革運動時說：「知有兵事而不知有民政、知有外交而不知有內治，知有朝廷而不知有國民，知有洋務而不知有國務，以為吾中國之政教風俗，無一不優於他國，所不及者惟槍耳，炮耳，船耳，機器耳。吾但學此，而洋務之能事畢矣。」請問：這個改革運動應指下列何者？ (A)自強運動 (B)戊戌變法 (C)庚子後新政 (D)立憲運動。

25. () 清末民初是中國社會發生深刻變革的重要時期，社會風貌也有很大的變化，下列哪項敘述符合當時發展？ (A)女子無法接受新式教育 (B)租界地區引進電燈、電話 (C)婚姻觀念只能遵行父母之命 (D)男子被迫剃髮留辮

26. () 清末曾有人說：「而今也於東方大陸，有最大之國，最賤之壤，最腐敗之政府，最散弱之國民。彼族一旦窺破內情，於是移其所謂民族帝國主義者，如群蟻之附羶，如萬矢之向的，雖然而集注於此一隅。彼俄人之於滿洲，德人之於山東，英人之於揚子江流域，法人之於兩廣，日人之於福建，亦皆此新主義之潮流，

迫之不得不然也。」意思是中國政局腐敗，國土被帝國主義侵略者占據瓜分。依照這位知識分子所描述的清朝政局推斷，這應該是哪一場戰爭後，才有如此的局勢？(A)鴉片戰爭 (B)英法聯軍 (C)甲午戰爭 (D)八國聯軍。

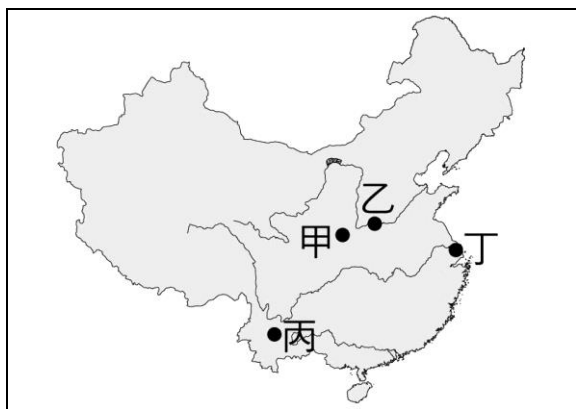
27. () 附圖是清朝某一時期的宣傳海報。請問：這起事件之後，清朝簽訂哪一個條約以停止戰爭？(A)《南京條約》 (B)《北京條約》 (C)《馬關條約》 (D)《辛丑和約》。



28. () 近代中國的對外關係，由閉關自守到走向商埠開放，由天朝觀念到進入國際體系，這是從哪個戰爭之後開始的？(A)鴉片戰爭 (B)英法聯軍 (C)甲午戰爭 (D)八國聯軍
29. () 俊瑋閱讀清代中葉後的改革活動時，整理如附表的内容。請問：他所整理的表格中，哪項不正確？

選項	刺激	改革
(A)	英法聯軍	自強運動
(B)	清法戰爭	戊戌變法
(C)	八國聯軍	庚子後新政
(D)	日俄戰爭	立憲運動

30. () 沅叟是出生在清朝末年的讀書人，自從西方洋人來到中國後，他十分嚮往西方文明，想深入研究新觀念和新思想。因此，他翻開中國地圖，決定到有豐富西方文明的城市生活。請問：附圖中的何處最能符合沅叟的需求？(A)甲 (B)乙 (C)丙 (D)丁。



二、題組：每題 2 分，共 40 分

(一)請閱讀資料，回答下列問題：

資料一：

資料一：西元 1840 年的基場商品戰役戰敗後，中國被迫於西元 1842 年簽訂《南京條約》與附約，對中國傷害最為深刻，也使得李鴻章於西元 1874 年對同治皇帝上奏時提到：「中國面臨三千年來未有之變局。」

資料二：

時期 (西元)	設立工廠數量	設立資本額 (千元)
1840~1870年	7	28,020
1870~1894年	16	4,829
1894~1913年	136	103,153

31. () 資料一說的「三千年未有之變局」，中國政府做了以下措施：(甲)庚子後新政 (乙)戊戌變法 (丙)自強運動 (丁)立憲運動 若按照時間順序排列，下列排序何者正確？(A)丁甲丙乙 (B)乙甲丁丙 (C)甲乙丙丁 (D)丙乙甲丁。
32. () 西元 1840 年發生的戰爭，探究原因主要是英國想要扭轉長期對中國貿易處於入超的局勢，而進口某項商品進入中國，而在中國又不熟悉國際法規之下所導致的衝突。請問：某項商品的由來主要是來自於何處？(A)日本 (B)印尼 (C)印度 (D)菲律賓。
33. () 資料二工廠設置的數據變化，主要的原因是日本於西元 1895 年取得在通商口岸設廠的特權，其他國家則依據《南京條約》與其附約的内容，也享有相同的權益。請問：這項特權是下列何者？(A)領事裁判權 (B)設立租界 (C)協定關稅 (D)片面最惠國待遇。

(二)請閱讀資料，回答下列問題：

34. () 引文作者認為應該讓女孩受教育的理由為何？(A)男女平等，所以女孩也該享有受教權 (B)女子既然享有參政權，就該受教育以防亂投票 (C)女子受教育才能從中篩選出國家需要的人才 (D)女子負有教育國家未來棟樑的重責大任。
35. () 下列何人最有可能是該引文的作者？(A)梁啟超 (B)徐光啟 (C)朱熹 (D)利瑪竇

西方人在孩童知識與為人處事上的教育，有七成是由母親所擔負起來的，這是因為母親比父親來得能順著孩童的性情嗜好教育他們。所以我認為，要治天下有兩大根本，一為正人心，一為廣為培育人才，無論哪個都必須從教育兒童開始；好的兒童教育源於良好的母教，良好的母教則來自於良好的女子教育，所以追根究底，女子教育其實是國家實力強弱的根本所在。

(三)清末某宣傳單寫著：「乾旱是因為教堂遮蔽天空，外國人俱是亂倫所生，並以藍眼睛為證；滅洋的方法除了練拳外，就是拆鐵路，拔電線桿。」請問：

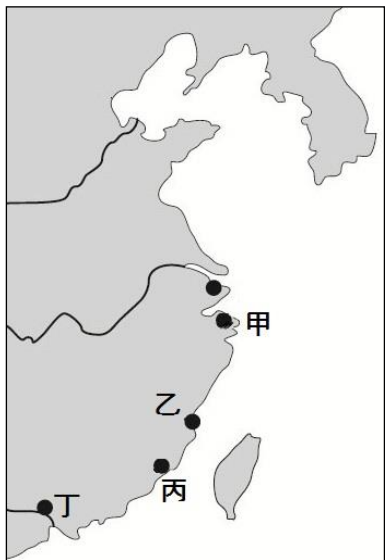
- 36()。散發這個宣傳單的團體，應是受到下列何者的支持，而在大肆破壞外來事物？ (A)慈禧太后 (B)光緒皇帝 (C)康有為 (D)李鴻章。
- 37()。散發此文宣的團體，因大肆破壞外國事物、殺害外國人，最後導致哪場戰爭的發生？ (A)甲午戰爭 (B)英法聯軍 (C)鴉片戰爭 (D)八國聯軍。
- 38()。承上題，此戰爭的戰敗，使朝廷做出改革因應。下列哪項措舉即是在這次改革中所推動的？ (A)建立京師大學堂 (B)預備立憲 (C)成立總理各國事務衙門 (D)廢除科舉。

(四)自古以來，中日關係始終緊密。中國一直是日本學習的模範與榜樣，舉凡日本的文字、衣冠、宗教、律令、生活習俗……等無一不受中國，特別是「唐風」的影響。而中日的歷史發展也有著許多的相似之處，中國曾經鎖國（閉關自守），後來遭到歐美列強的侵逼，才打開門戶。日本竟然也與中國類似，曾經鎖國，後來也是因為遭受列強的威脅，才打開了門戶。請問：

- 39()。日本之所以會從鎖國走向開港通商，進而走向改革之路，起因為何？ (A)受到英國船堅炮利的威脅，不得已只好開放通商 (B)受到美國「黑船事件」的影響，只好結束閉關自守 (C)受到荷蘭「蘭學」的啟發，決定放手開放門戶 (D)受到法國軍艦的攻擊，逼不得已開港通商。
- 40()。為了應付文中的變局，也就是應付歐美列強的侵逼以及武力的威脅，日本走向改革之路，走向學習西方的現代化的道路，此項改革為何？ (A)大化革新 (B)自強運動 (C)明治維新 (D)立憲運動。

(五)附圖是道光年間所開放的五口通商口岸圖，在此之前，中國只有開放一個港口提供對外貿易。請回答下列問題：

- 41()。文中提及中國之前，只有開放一個港口，這個港口位於圖中的何處？ (A)甲 (B)乙 (C)丙 (D)丁。
- 42()。中國會開放這五口通商，與清廷在戰敗後簽下哪一個條約有關？ (A)《天津條約》 (B)《北京條約》 (C)《南京條約》 (D)《馬關條約》。
- 43()。當時要求中國開放這五個港口，並打開中國通商大門的是哪個國家？ (A)俄國 (B)美國 (C)法國 (D)英國。



(六)請閱讀資料，回答下列問題：

鴉片戰爭時，清朝被英國人要求簽下不平等條約，但此舉並沒有打擊到中國的傳統體制，加之英國距離遙遠，人口又少，中國人並不怎麼意識到英國的威脅。不過甲午戰敗卻帶給中國人深刻衝擊，因為日本自建國以來一直都屬於中國文化圈，採用西式體制的時間並不長，卻能擊潰當時擁有最新式西洋軍備的北洋艦隊，於是中國決定改走日本型的近代化路線，中國文化亦開始日本化。

- 44()。清朝在鴉片戰爭結束後所簽訂的條約內容中，不包括下列何者？ (A)割讓香港 (B)劃定租界 (C)允許外國領事享有領事裁判權 (D)臺灣開港通商。
- 45()。作為政府實際的掌權者，慈禧太后最初並不贊同日本型的近代化路線。請問：直到下列何事發生後，她才轉而全力支持？ (A)英法聯軍 (B)日俄戰爭 (C)八國聯軍 (D)鴉片戰爭。

(七)以下短文是一歷史學家對於某場中國改革的評論，請依內容回答下列問題：

此次改革是在缺乏完整規畫和協調，由幾位中央官員、地方督撫推動的。因此，各省的改革負責人無法相互合作，而是充滿競爭與自我保護。他們把改革成就用以增長自我權力，相互爭權奪利，導致在西元1894~1895年的戰爭期間，北洋水師與敵軍發生激戰，但南洋水師卻無動於衷，不願出兵相救，保持「中立」。

- 46()。此項改革在哪一個事件後開始推動？ (A)馬加爾尼出使中國 (B)鴉片戰爭 (C)英法聯軍 (D)義和團事變
- 47()。下列何者可能為上述改革的成就之一？ (A)廢除科舉 (B)官派留學 (C)創建憲法 (D)成立內閣。
- 48()。下列何人最有可能支持此項變法？ (A)乾隆皇帝 (B)慈禧太后 (C)劉銘傳 (D)孫中山
- 49()。該歷史學家還有可能針對此次改革寫下下列何項評論？ (A)改革層次狹隘，大多著重西方技藝 (B)官員保守封閉，發動政變反對改革 (C)閣員多為權貴，平民百姓無法參政 (D)民眾仇洋反教，堅決排外引發戰爭。
- 50()。短文提及的戰爭，應為下列何者？ (A)鴉片戰爭 (B)英法聯軍 (C)甲午戰爭 (D)八國聯軍。

彰化縣立田尾國民中學 111 學年度

第一學期八年級第三次段考歷史科

試題解答

1	2	3	4	5	6	7	8	9	10
C	B	D	B	B	B	B	D	B	B
11	12	13	14	15	16	17	18	19	20
C	B	D	D	B	C	D	D	B	C
21	22	23	24	25	26	27	28	29	30
A	B	B	A	B	C	D	A	B	D
31	32	33	34	35	36	37	38	39	40
D	C	D	D	A	A	D	D	B	C
41	42	43	44	45	46	47	48	49	50
D	C	D	D	C	C	B	C	A	C