

# 彰化縣立田尾國中111學年度第一學期第三次段考二年級地理科試題

## ※單選題

01. 日本氣候受到洋流、海陸位置、緯度、季風等因素影響，而有空間的差異，請問：下列有關日本氣候特徵的敘述 哪一項是正確？(A)日本受海洋水氣調節使其較同緯度溫暖 (B)秋冬季節日本最容易受到颱風侵襲 (C)北海道冬季多對流雨，使降水豐富 (D)夏季西北季風經日本海帶來豐富水氣。

02. 日本漫畫改編的「鬼滅之刃」電視動漫及電影席捲亞洲市場，週邊商品也吸引廣大的粉絲購買。反應日本在文化產業的國際競爭力。請問：下列何者是日本推動該產業的發展優勢？(A)文創設計能力佳 (B)屬於地方限定商品 (C)兼具東西方文化 (D)臨海有利海運發展。

03. 近年來日本部分超商與店家開始推動自助式收銀服務，就是顧客自己掃描條碼，自行結帳的服務模式。此一措施的推展是為了改善日本產業發展活動中哪一個環節？(A)經濟困頓 (B)缺乏勞動人力 (C)工業技術欠缺 (D)治安欠佳搶案頻傳。

04. 近年來北韓難民逃脫事件層出不窮，領導人金正恩為此加強中國與北韓邊境的監控，建立鐵絲網並部署坦克裝甲戰車，阻止脫北者過江。請問：根據上文，北韓軍隊部署地點最有可能為在哪些河川沿岸。(甲)洛東江 (乙)漢江 (丙)鴨綠江 (丁)黑龍江 (戊)圖們江 (己)烏蘇里江。(A)甲乙丙 (B)乙丙丁 (C)丙戊 (D)戊己。

05. 日本、南韓、中國三國緯度位置相近的城市分別為甲、乙、丙三地，在年溫差上有所不同。請問：何地年溫差最大？(A)甲 (B)乙 (C)丙。



06. 日本及朝鮮半島的節慶、建築、服裝、傳統醫學等皆受到中國影響或者是中國相仿，該現象與下列何者關係密切？(A)氣候條件相似 (B)地理位置相近 (C)族群血緣相近 (D)近代皆為中國的殖民地。

07. 2018年日本的動漫產業市場規模高達2兆多億日元，已連續6年創下新高紀錄。海外市場方面也鎖破突破1兆日元，且幾乎占整個的市場的一半左右。上述產業市場的主要經濟活動不包括下列何項？(A)搭配電玩遊戲 (B)改編真人電影 (C)圖像授權週邊 (D)舉辦溫泉祭典。

08. 附圖為日本板塊位置示意圖，請問：這種地理位置對日本所造成的影響不包括下列何者？(A)山多平原少 (B)泡湯文化盛行 (C)地震活動頻繁 (D)海岸線狹長。



09. 南韓近年來的經濟實力相當強大，尤其三星集團即在哪一個方面極具競爭力，產品行銷世界各國，賺取了大量外匯？(A)造船事業 (B)電子產業 (C)成衣加工業 (D)汽車工業。

10. 亞洲的國家中，以日本為主要的經濟大國。請問：其發展的有利因素不包括下列何者？(A)高素質的勞動力 (B)高科技工業製程 (C)礦產原物料豐富 (D)交通便捷。

11. 附圖是日本的蛋包飯及日文發音，由圖可見日本文化具有何種特色？(A)多元性 (B)單一性 (C)傳統性 (D)專業性。



12. 日本位於亞洲的東部，其生活方式受到自然環境的影響甚大。請問：日本梯田分布的面積相當廣大，最主要是受到下列何項因素的影響？(A)國土面積南北狹長 (B)氣候溼潤 (C)島群分散 (D)山多平原少。

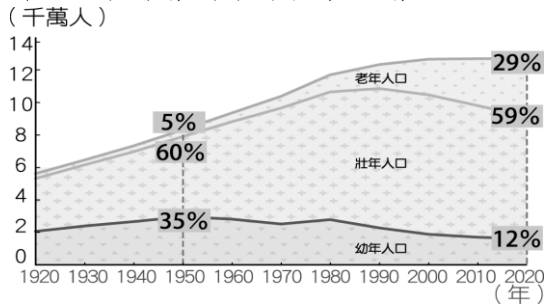
13. 朝鮮半島因為天氣寒冷，當地傳統民居韓屋會設置何種設施取暖？(A)電暖器 (B)溫突 (C)壁爐 (D)火爐。

14. 小志前往日本札幌旅遊，除了欣賞漂亮的美景外，也品嚐了當地最負盛名的帝王蟹、扇貝、鮭魚等海鮮，令他們回味無窮。請問：當地漁業資源豐富和下列哪些洋流的關係最大？(甲)黑潮 (乙)北大西洋暖流 (丙)墨西哥灣流 (丁)親潮 (A)甲乙 (B)甲丁 (C)乙丙 (D)丙丁。

15. 傳統上日本人吃米飯、壽司，而中國華北的居民則吃饅頭、麵條。兩地緯度相近，主要的糧食作物卻不相同，這種差異與下列哪一要素關係最密切？(A)雨量 (B)人口 (C)地形 (D)氣溫。

16. 根據外媒報導：「2019年某個夜晚的朝鮮半島衛星圖片，從圖片上可以看到南韓大部分區域燈火通明，相比之下，北韓只在首都平壤附近有少許光亮，其他地區皆為黑暗一片。」從這則報導中，可以判斷北韓具有下列何種地理特色？ (A) 北韓多高山分布 (B) 北韓經濟差生活困頓 (C) 北韓人口稀少 (D) 北韓氣候嚴寒。

17. 附圖為日本人口結構統計圖。依圖中的人口結構資料變化判斷，未來日本所面臨的人口問題為何？ (A) 人口老化嚴重 (B) 扶養比例逐漸降低 (C) 人口紅利(壯年人口)漸增 (D) 折衷家庭增加。



18. 承上題，下列哪一項政策應該是未來日本政府應該解決人口問題而採取的策略？ (A) 廣設中小學 (B) 縮短退休年限 (C) 增設托育中心 (D) 研發醫療機器人。

19. 日本的平原地形多分布於下列何處，成為人口集中的精華區？ (A) 西部沿海地區 (B) 東部沿海地區 (C) 九州島一帶 (D) 北海道沿海地區。

20. 2022年世界盃足球賽在卡達開踢，引發全球球迷熬夜觀賽。新聞報導南韓隊到世界各地參加國際比賽時，總是會攜帶具有家鄉味的食物，尤其是泡菜更是不可缺少。請問：南韓當地盛行食用該食物的主要原因為何？ (A) 經濟欠佳 (B) 氣候乾燥少雨 (C) 氣候嚴寒 (D) 土壤貧瘠。

21. 北韓近年來遇到嚴重的饑荒問題，這和下列哪個因素的關係較小？ (A) 耕地面積較小 (B) 勞動力不足 (C) 生長季短 (D) 實行共產主義。

22. 朝鮮半島位於海陸的交會地帶，下列關於該區的地形分布特色，何者錯誤？ (A) 西部沿海為平原地形 (B) 長白山位於中國和北韓邊界 (C) 東部有太白山脈 (D) 南部為高原地形。

23. 東京是日本規模最大的都市，下列有關該都市位置的敘述，何者最為正確？ (A) 臨日本海 (B) 位於近畿平原 (C) 位於九州島上 (D) 近太平洋。

24. 「K-pop」泛指南韓的流行音樂界，在2000年後席捲亞洲各國，甚至進軍歐美流行音樂界，成為一

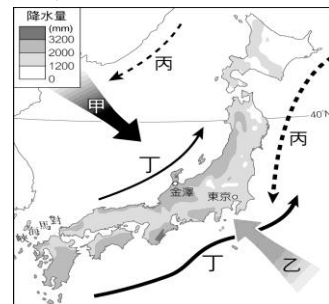
股新興風潮，並帶動南韓的服飾、彩妝等相關產業發展，其經濟收益相當可觀。請問：南韓的時尚產業多藉由下列何種的發展策略來提高其附加價值，增加其經濟產值？ (A) 國家關稅保護措施，保障國內市場銷量 (B) 大量生產以降低售價，提高銷量 (C) 結合該國傳統文化，強調在地化的特色 (D) 品牌化的經營模式，提高其附加價值。

25. 日本是許多臺灣人喜愛帶小孩去旅行的國家。若要前往日本秋葉原購買當地市場銷售主力且附加價值較高的玩具，下列何者最為適合？ (A) 泰迪熊玩偶 (B) 鬼滅之刃公仔 (C) 任天堂遊戲機 (D) 樂高積木玩具。

26. 朝鮮半島因為歷史發展的緣故，分裂成兩個不同政體的國家—南韓與北韓，雖然位在同一個半島上，但是自然資源與人文環境有很大的差異。下列有關兩個國家的比較，何者錯誤？ (A) A (B) B (C) C (D) D

國家	(A) 地形	(B) 政治體制	(C) 天然資源	(D) 收穫次數
北韓	地勢較高	集權政治	煤鐵豐富	二穫
南韓	地勢較低	民主政治	較為缺乏	一穫

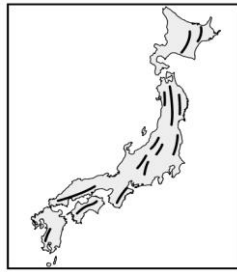
27. 附圖為日本季風、洋流及年降水量分布圖，下列何者正確？ (A) 受甲、乙季風與丁洋流的影響，日本降水豐沛，乾溼季不明顯 (B) 乙為冬季季風，途經日本海，夾帶豐沛水氣，易形成大雪紛飛 (C) 丙為暖流，丁為寒流，兩洋流交會，魚群聚集，形成廣大漁場 (D) 甲為夏季季風，途經太平洋，為日本群島帶來水氣



28. 在全球化趨勢下，日本的經濟發展正面臨其他國家競爭。請問：該國目前的工業發展方向主要為下列何者？ (A) 原物料開採工業 (B) 低成本工業 (C) 高附加價值工業 (D) 勞力密集工業。

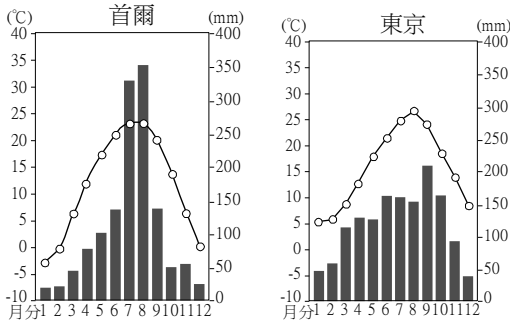
29. 平壤凱旋門主要是北韓政府用以宣揚國力，給外人觀賞用的，但實際上北韓的民生經濟發展不佳。請問：北韓最有利的工業區位條件為何？ (A) 市場廣大 (B) 勞工質優 (C) 礦產豐富 (D) 交通便利。

30. 附圖為日本的山脈走向示意圖，造成日本山脈多呈南北走向的原因為何？(A)板塊推擠 (B)河流流向 (C)海岸類型 (D)人為開發

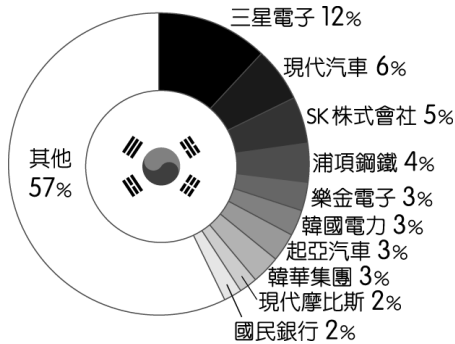


31. 附圖是南韓首都首爾與日本首都東京的氣候圖，由氣候圖判斷下列哪個資訊是正確的？

(A) 首爾降水集中在夏季，是受到西南季風的影響  
 (B) 東京降水量較多，是因為受到東北季風的影響  
 (C) 日本冬季較溫暖，是因為緯度較高 (D) 首爾冬季降水較少是因為所吹的西北風來自大陸內部較乾燥



32. 附圖是 2020 年南韓前十大企業營收占南韓 GDP 比例圖。請問：若由上述內容判斷，下列何者正確？  
 (A) 大型企業的薪資較高 (B) 大型財團主導國內經濟 (C) 成衣加工業的出口產值最高 (D) 中小企業為出口主力。

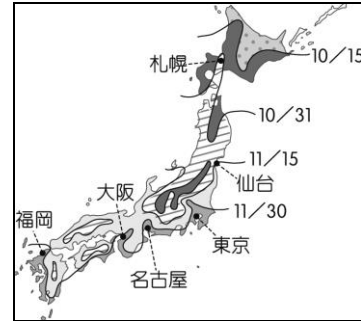


33. 日本位於亞洲大陸東緣，大部分地區的氣候類型主要為下列何者？(A) 溫帶季風氣候 (B) 熱帶雨林氣候 (C) 溫帶大陸性氣候 (D) 熱帶季風氣候。

34. 日本觀光業盛行，積極推動地方創生，將衰落農村改變為藝術重生，百年溫泉以故事行銷來包裝，使國際旅客因此對於日本古蹟、民俗文化、溫泉、購物等感興趣。請問：下列哪一項日本景點的特色，吸引國際旅客一再回流造訪？(A) 良好的治安、整潔的環境 (B) 一望無際的沙漠景觀 (C) 便宜的物價、良好的治安 (D) 壯麗的極地冰河景觀。

35. 承上題，小君一家到東京參觀奧運比賽為中華隊加油，順道前往附近的景點旅遊。請問：下列哪一個景點距離東京最近？(A) 本州富士山 (B) 九州熊本城 (C) 四國道後溫泉 (D) 北海道富良野。

◎附圖為某年 9 月日本氣象廳發布的「楓紅預報圖」，預測日本各地楓紅日期的賞楓地圖。請問：



36. 日本各地的賞楓日期不盡相同，主要與下列哪項因素有關？(A) 地形 (B) 緯度 (C) 洋流 (D) 季風

37. 如果小明夫婦想要在國慶日假期赴日本賞楓，她最有可能到哪個城市賞楓？(A) 札幌 (B) 東京 (C) 名古屋 (D) 福岡

◎日本為全球重要產業分工鏈的上游，儘管過去幾年受到經濟發展條件的影響，日本企業陸續將國內製造業裝配工廠轉移到中國等海外國家，但是留在國內的工廠競爭力仍未減弱，具有全球性的影響。請問：

38. 日本近年來受到經濟發展條件的影響，陸續將國內製造業裝配工廠轉移到中國等海外國家，最主要的因素為下列何者？(A) 關稅障礙 (B) 市場萎縮 (C) 工資上漲 (D) 國內政局不穩。

39. 日本企業外移的過程中，鄰近的中國除了生產成本的考量外，尚因為具有下列何項優勢，而成為主要的遷移地區？(A) 語言相通 (B) 技術進步 (C) 市場廣大 (D) 礦產豐富。

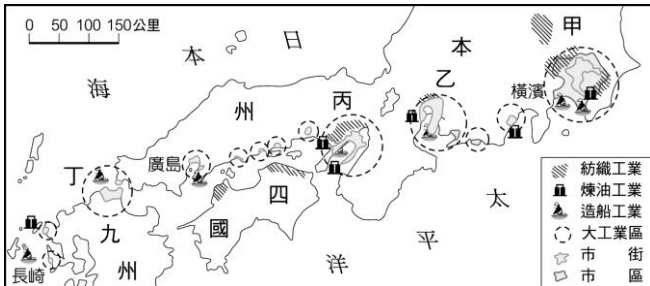
40. 日本企業目前正面臨其他國家的挑戰，因此該國企業紛紛轉向以何種項目來獲利，維持其市場競爭力？(A) 組裝代工 (B) 工業原料 (C) 工業生產 (D) 產品專利權。

◎2016 年 4 月，臺灣的鴻海集團正式宣布入主日本企業夏普，這使得鴻海可整合面板事業。外界分析師認為，鴻海此舉利用日本企業的優點可以加強競爭力，並從代工生產跨入品牌銷售。請問：

41. 鴻海為世界著名的電子大廠，投資入主日本企業夏普，可以獲得的生產條件最可能為下列何者？  
 (A) 廉價勞工 (B) 進步技術 (C) 優惠廠房土地 (D) 礦產原料資源。
42. 夏普為日本百年電子大廠，總部設立於大阪。若鴻海老闆要前往大阪視察，則應該到附圖中何處？  
 (A) 甲 (B) 乙 (C) 丙 (D) 丁。



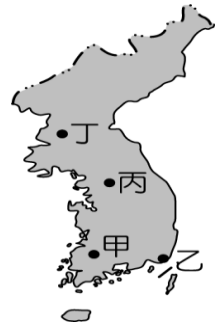
◎附圖為日本主要的工業區及都市分布圖。請問：



43. 圖中的甲區是哪個工業地帶？ (A) 名古屋 (B) 京濱 (C) 阪神 (D) 北九州
44. 圖中所呈現的工業區分布狀況，與下列哪項優勢有關？ (A) 便於原料和產品的運輸 (B) 接近煤礦區 (C) 充分利用廉價水電 (D) 方便大量使用本地原料。
45. 由附圖可知，日本的重要工業區大多分布於下列哪一個島嶼？ (A) 北海道 (B) 本州 (C) 四國 (D) 九州。

◎外電報導：「北韓於 2022 年 12 月 26 日派遣 5 架無人機侵犯南韓領空，據悉，這些無人機成功飛掠首爾北部，更飛抵一般民眾住宅區，侵入南韓上空時間長達 5 個多小時。此舉暴露南韓軍事漏洞，引發南韓民眾的國安焦慮。」事實上，近年來朝鮮半島局勢緊繃，由於北韓積極發展飛彈、核武技術，再加上不斷試射、放話恐嚇等，對周遭的國家造成嚴重影響，更是讓南韓覺得備感威脅。南韓為了防止飛彈進犯，因此決定和美國合作，加裝薩德反飛彈系統。請問：

46. 北韓的無人機成功飛抵南韓的首都首爾上空，引發南韓民眾的國安焦慮。請問：首爾位於附圖中何處？ (A) 甲 (B) 乙 (C) 丙 (D) 丁。



47. 下圖為北韓飛彈發射預測路徑圖，除了南韓外，下列哪一國家正好位在其飛彈路徑上，受到的威脅最大？ (A) 臺灣 (B) 中國 (C) 菲律賓 (D) 日本。



◎日本在 2011 年發生震驚世界的「311 大地震」，震央位於日本東北方的近海。由於地震規模高達芮氏 9.0，引發了大海嘯侵日，造成一萬五千人以上罹難，並引起核能輻射外洩的災害，附圖為當時地震的示意圖。請問：



48. 依圖內容判斷，「311 大地震」是發生在哪一個海洋上的淺層地震，造成了嚴重的傷亡情況？ (A) 日本海 (B) 黃海 (C) 太平洋 (D) 東海。
49. 日本受到自然環境的影響，各地形成不同區域特色。例如「311 大地震」的發生，其成因與下列何者有關？ (A) 板塊活動 (B) 四面環海 (C) 國土寬廣 (D) 火山噴發。
50. 「311 大地震」重創日本的經濟，由於核電廠的災害，造成許多工廠被迫限電，導致生產量大減。依日本產業發展情形判斷，將對國際市場上哪一項商品的貿易買賣造成相當影響？ (A) 紡織工業 (B) 汽車製造業 (C) 石油化學工業 (D) 玩具製造業。

# 答案

01. AABCC BDDBC

11. ADBBA BADBC

21. BDDDC DACCA

31. DBAAA BACCD

41. BCBAB CDCAB