

彰化縣立田尾國民中學 111學年度 第一學期 第三次段考 公民科 二年級試題

二年 班 座號： 姓名：

一、單一選擇題 (1-10題：3分，11-45題：2分)

- () 1. 人民藉由各種方式，企圖影響政府決策的行動，稱為下列何者？(A)社會參與 (B)人權保障 (C)政治參與 (D)分權制衡。
- () 2. 民進黨籍的蔡英文在2020年的總統選舉中獲勝，而連任成功。請問：根據我國法律的規定，總統候選人至少應年滿幾歲？(A)30歲 (B)35歲 (C)40歲 (D)50歲
- () 3. 小柚今年剛升上國中二年級，平常就跟著家人一起收看政論節目，但下列哪一項不是小柚目前可以採取的政治參與方式？(A)關心時事 (B)參加Call-in節目 (C)遊行宣傳口號 (D)參與投票。
- () 4. 關於選舉，下列哪一項是投票「一定要攜帶」的，如果沒有就一定無法投票？(A)投票通知單 (B)印章 (C)戶口名簿 (D)國民身分證。
- () 5. 行政院環保署推行「限用一次性塑膠吸管」政策，考量營業規模、經營型態及所在區域等情形，授權給各縣市政府訂定管制實施日期，因此出現全國不同步的情形。請問：上述內容是展現何種理念？(A)因時制宜 (B)因權制宜 (C)因人制宜 (D)因地制宜。
- () 6. 子晟在行事曆上記錄了未來一星期的活動行程，包括：
- | |
|-------------------|
| (甲) 與同事聚會討論開放萊豬進口 |
| (乙) 參加新北耶誕城點燈活動 |
| (丙) 觀看世界盃足球賽爭冠總決賽 |
| (丁) 翻閱報紙，了解今日頭條新聞 |
- 其中哪些屬於政治參與的方式？(A)甲乙 (B)乙丙 (C)甲丁 (D)丙丁。
- () 7. 蔡桃貴和蔡波能兩人都擁有相同的投票權，而且效力相同，即所謂「一人一票，票票等值」的原則，這符合下列哪一項原則？(A)直接原則 (B)無記名原則 (C)平等原則 (D)普通原則。
- () 8. 在激烈的選戰過後，敗選的候選人呼籲所有的支持者冷靜面對選舉結果，並恭賀對手當選，這是何種民主素養的表現？(A)了解民主制度運作 (B)實踐競選承諾 (C)展現民主風度 (D)具備民主知能
- () 9. 新冠肺炎(COVID 19)橫掃世界各地，我國各縣市政府也加強防疫，以落實中央的防疫政策。上述各縣市政府的做法，屬於地方政府的哪一項自治事務？(A)安全衛生 (B)社會服務 (C)經濟發展 (D)教育文化。
- () 10. 為了避免政治權力長期把持在某一人手中，我國選舉法規中規定，下列何種公職人員的選舉有「連選得連任一屆」的限制？

- (A)立法委員 (B)縣(市)議員 (C)村里長 (D)(縣)市長。
- () 11. 年依據我國《公職人員選舉罷免法》之規定，下列關於選舉的過程，何者正確？(A)登記→競選→投票→開票 (B)登記→競選→開票→投票 (C)競選→登記→投票→開票 (D)競選→投票→登記→開票。
- () 12. 民主國家中的各政黨之間要如何相處，才能發揮政黨政治的功用？(A)為求勝選不擇手段 (B)強調意識型態 (C)跟別的政黨主張相反的意見 (D)彼此相互尊重、信任。
- () 13. 下個月某地的鄉長因故要補選一位新的鄉長，下列哪一位鄉民可以登記為此次選舉的候選人？(A)阿明被宣告褫奪公權5年，尚未復權 (B)陳花花上禮拜趕緊剛把戶籍遷入該鄉 (C)40歲的王先生因為日前車禍而受監護宣告 (D)熱心的李姐曾當選過鄉民代表。
- () 14. 王先生因為結婚關係至彰化縣置產並工作生活，若下一屆立委選舉將在明年的3月28日舉行，請問王先生最遲應於今年幾月幾日將戶籍遷入彰化縣，才能行使立委選舉的投票權？(A)9月28日 (B)10月28日 (C)11月28日 (D)12月28日。
- () 15. 某客家立委認為客家民族現為少數族群，所以主張選舉時每一位客家民族應該要有兩張選票，這種想法正確嗎？(A)正確，因為這樣才能真正照顧他們 (B)錯誤，這樣違反普通原則 (C)正確，因為這樣才是尊重客家民族 (D)錯誤，這樣違反平等原則。
- () 16. 嘉玲從小對政治高度熱衷，不但喜歡跟爸爸一起看政治性談話節目，也會上網瀏覽政府相關網站，了解目前政府的施政方向。下列何者並非她成為選民的必要條件？(A)年滿20歲 (B)未受監護宣告 (C)戶籍設在選舉區達四個月以上 (D)需有政黨的支持。
- () 17. 小新、正男、妮妮、風間的年齡依序剛好符合總統、民意代表、直轄市市長、鄉長候選人的年齡資格。若將四人的年齡由小到大排列，依序應為下列何者？(A)風間、正男、妮妮、小新 (B)小新、正男、妮妮、風間 (C)小新、妮妮、風間、正男 (D)正男、風間、妮妮、小新。
- () 18. 此次彰化縣縣長選舉，小丸子家有六個人，在當時，媽媽50歲，受監護宣告的爸爸55歲，一年前結婚就遷戶籍到台中市的姐姐為26歲，小丸子則剛滿18歲，奶奶75歲，爺爺則高齡85歲了。請問：若依據目前法規規定，這一家人

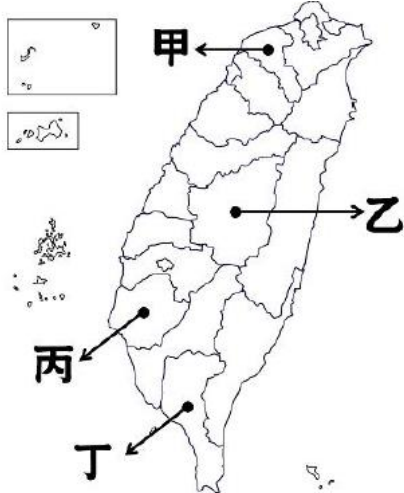
此次彰化縣長選舉總共有幾個人「有投票權」？(A)二個人 (B)五個人 (C)四個人 (D)三個人。

() 19. 子瑜因為第一次投票很興奮，於是將圈選完的選票亮出來給大家看，並拍照做為紀念。子瑜的行為違反了選舉的哪一項原則？

(A)秘密投票 (B)平等 (C)普通 (D)直接

() 20. 小柚在參加夏令營時，向大家自我介紹自己的家鄉位置時說道：「我的家鄉是從『鄉』改制為『區』後，仍可以選舉區長的行政區」。請問：小柚最有可能設籍於圖中的哪一個行政區？

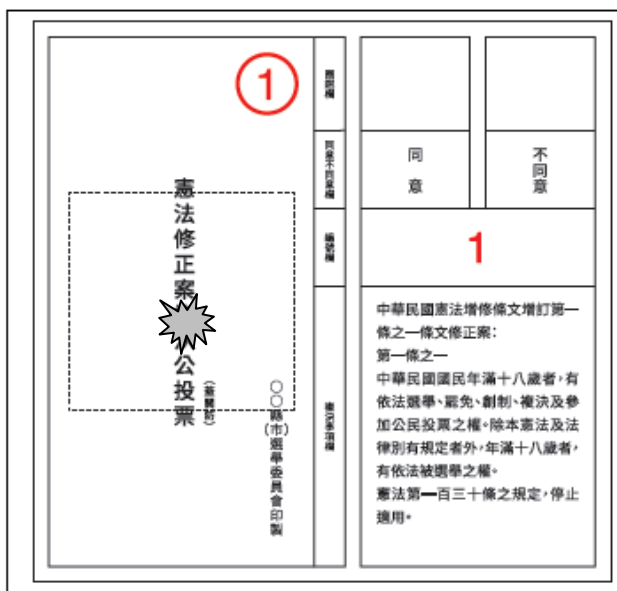
(A)甲 (B)乙 (C)丙 (D)丁。



() 21. 承上題，下列何者應是在該小柚家鄉可見到的事情？(A)該地的行政機關名稱為「區政府」(B)區民代表可對公所提出「彈劾、糾正」(C)通常會召開部落會議以籌備慶典 (D)區長需回應區議員們的質詢與提問。

() 22. 下圖為我國 111 年修憲公投的選票，根據下圖，請問：此次投票，人民所行使的公民權利應為以下何者？

(A)選舉權 (B)複決權 (C)創制權 (D)平等權



() 23. 承第22題，此次投票結果，應由哪一機關負責發布選舉公告？(A)總統府辦公室 (B)選舉委員會 (C)新聞媒體 (D)立法院內政委員會。

() 24. 公民老師於課堂上提及：「民主的運作不只是投票表決或選舉，重要的是投票前的審慎思辨、溝通說理的過程。」下列選項何者符合上述的意涵？(A)政治參與的權利 (B)表決結果的執行 (C)公平投票的落實 (D)民主思辨的可貴。

() 25. 阿枝在台中市已經連續五次擔任地方公職人員，她在台中市設立選民服務處，關心地方議題，因為熱心為民服務，贏得好評，所以今年又連任了地方民代，請問阿枝所參選的公職人員為何？(A)台中市的市議員 (B)台中市北區的區長 (C)台中市北區的區民代表 (D)台中市市長

() 26. 旺旺國的總統產生方式如下：由人民投票選出議會代表，再由議會代表代表人民投票選出總統。根據上述判斷，旺旺國的選舉方式不符合下列何種選舉原則？(A)普通 (B)平等 (C)直接 (D)無記名原則。

() 27. 陳小麥是高雄市市民，他想參與市議員選舉。她應該到下列何處辦理登記？(A)高雄市選舉委員會 (B)高雄市政府 (C)內政部中央選舉委員會 (D)考試院

() 28. 依玲想在寒假時與家人一同旅遊，於是上網瀏覽觀光資訊。請問：下列她所瀏覽的四個景點中，哪一個地方的層級與其他三者不同？(A)「台東市」的鐵花村文化市集 (B)基隆市「的八斗子公園 (C)「南投縣」的清境農場 (D)「嘉義市」的蘭潭風景區。

() 29. 畢業許久的國中同學舉辦同學會，有幾位剛好都在政府部門工作。請就下表的内容判斷，哪位同學的職務為地方 4 政府首長？(A)建安 (B)怡如 (C)阿美 (D)小燕。

姓名	職權範圍
建安	制定《全民健康保險法》
怡如	遭遇急難時發布緊急命令
阿美	通過地方政府的預算案
小燕	延續中央的幼兒托育政策

() 30. 為保障選舉的公平公正，我國法律對於選舉原則設有相關規定。下圖（圖 a、圖 b）中提及的選票應為下列何者選舉的選票？




圖 (a) 圖 (b)
(A)立法委員 (B)縣議員 (C)總統 (D)公民投票。

() 31. 台中市政府近來積極策畫自由貿易港區的發展計畫，希望藉由「貨從港出、客從港入」的概念，為本地挹注廣大的商機。請問：此為地方政府的哪一方面的工作？(A)經濟發展 (B)社會福利 (C)安全衛生 (D)教育文化。

() 32. 惠美今年即將行使自己第一次的投票權，在觀察選舉的過程中，下列有關她的看法何者較符合選民應有的民主素養？(A)候選人的政黨最重要，無須考慮候選人本身

的素質 (B)因人際關係的考量，最好投票給親友推薦與拜託的候選人 (C)競選經費最多的候選人，必定是理想的候選人 (D)平時多關心政治議題有助於選賢與能。

- ()33. 小志的戶籍地為彰化縣田尾鄉，2022年當時的年齡雖才40歲卻已經深耕地方，在同一戶籍地已連續當選多次公職人員。但他認為自己服務地方的經驗已經足夠，決定在2022年縣長任期屆滿後，轉而角逐立法委員。根據上述與我國《公職人員選舉罷免法》相關規定判斷，下列何者較有可能是小志在這幾年的公職歷程？
- (A) 縣長→鄉民代表→鄉長→縣長
 (B) 鄉民代表→鄉長→縣長→縣長
 (C) 區民代表→鄉長→鄉長→縣長
 (D) 鄉長→鄉長→鄉民代表→縣長

()34. 關於公職人員選舉的原則，下列何者正確？

(A) 郭先生

(B) 齊先生

(C) 邱小姐

(D) 潘小姐

- ()35. 英國國會是國家最高立法機關，分為上、下議院，在十九世紀以前，下議院的選舉有嚴格的「財產和性別限制」。以我國《憲法》來看，這違反了何項選舉原則？ (A)普通 (B)平等 (C)直接 (D)無記名原則。

()36. 我國中央與地方政府各有各的職掌。請問：下列何者屬於中央政府的權限？

(A) 嬰幼兒施打預防針

(B) 與鄰國簽訂貿易協約

(C) 進行都市更新計畫

(D) 協助舉辦藝文活動

- ()37. 新聞報導：防疫旅館群聚頻傳，指揮中心去年底要求地方政府於1/3完成查核，指揮官陳時中表示，全台防疫旅館需查核465間，已完成395間，其中一百多間因有缺失項目而需複驗，目前僅八家完成複驗。各縣市政府也紛紛加強對於防疫旅館的管理與查核，避免再出現群聚狀況。根據上述，可推斷地方政府應有下列何種職能？(A)

質詢中央防疫成效(B)監督鄰近縣市行政(C)規劃全國防疫政策(D)執行上級委辦事項。

- ()38. 下圖是阿美閱讀有關地方民意機關職權的資料，但墨漬遮蔽了部分文字。下列何者最可能是遮蔽處的內容？

● 審議地方預算案
 ● 質詢地方政府首長
 ●

(A)修改《憲法》中有關地方制度事項 (B)議決地方自治條例與預算 (C)掌理地方公務人員銓敘與退休事宜 (D)執行中央政府委託辦理的地方事務。

- ()39. 如果這星期六是我國總統、副總統的選舉日，則下列哪一個人符合投票資格？

	富成	得華	明明	學有
國籍	中華民國	中華民國	中華民國	中華民國
年齡	43歲	20歲	19歲	25歲
選舉區設籍	8個月	6個月	7個月	4個月
受監護宣告	有	無	無	無

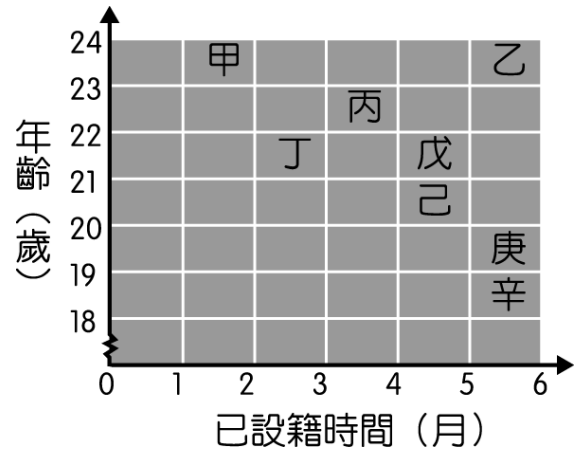
(A)富成 (B)得華 (C)明明 (D)學有。

- ()40. 疫情初期，教育部公告的新型冠狀病毒停課標準為：「高中以下班級有一名師生確診，該班停課十四天；一校有兩名師生確診，全校停課十四天。」對此，各縣市教育單位積極針對停課補課、輔導及評量方式等，研擬應對措施。請問：教育部和各縣市教育單位的分權方式稱之為？ (A)權能區分 (B)均權制度 (C)水平分權 (D)有限政府。

【會考題型動動腦】

- ()41. 假設1/18為公投日，下圖是他們在投票日當天的投票資格示意圖。由圖中資訊判斷，下列關於能否參與公投的敘述，何者正確？

- (A)乙、丙、戊、己、庚這五人可投公投
 (B)只有己、庚、辛兩人無法投公投
 (C)只有甲、丁、丙三人無法投公投
 (D)只有乙、庚兩人可投公投。



- ()42. 某製作單位邀請四位名人上節目演講，下表為此四位名人的演講內容片段。根據下表中內容判斷，下列何者最可能曾任我國「地方」政府公

職人員？

演講者	演講內容
甲	為了質詢行政院院長，事前我可是花了很大的精神來整理資料。
乙	在院長提請總統任命後，我正式接任此工作，準備面對挑戰……。在
丙	我需定期到議會，接受議員的質詢
丁	許多案件中，握有審判權的我們也常常陷入兩難的局面……。

(A)甲 (B)乙 (C)丙 (D)丁。

()43. 下圖是我國某次選舉的其中一種選票，關於此種選票的敘述，下列何者最正確？

1	2	3	4	5	6	7	8	9	10	11	12	13	14	15	16	17	18
民主進步黨	親民黨	自由台灣黨	和平聯盟	軍公教聯盟	民進黨	信心希望聯盟	中華統一促進黨	中國國民黨	台灣團結聯盟	時代力量	大愛憲改聯盟	綠黨社會民主黨聯盟	台灣獨立黨	無黨團結聯盟	新黨	健保免費連線	樹黨

(A)顯示我國人民享有集會自由 (B)得票率最高者將成為執政黨 (C)此攸關「分區立委」席次的分配 (D)得票比例需超過5%，才能爭取席次。

()44. 甜甜開設的雞蛋糕攤位生意很好，總是忙得分身乏術，但即使再怎麼忙，也「必須親自到投票所去投票且用規定的戳章圈選」，這樣選票才有效。這是符合選舉的何種原則？

(A)直接、無記名原則 (B)普通、無記名原則
(C)平等、直接原則 (D)普通、直接原則。

()45. 下表是四位我國某縣縣民的基本資料，若下個月將辦理地方行政首長選舉，僅根據表中內容判斷，下列何者最可能具備此次「縣長」選舉的「候選人」資格？

姓名	年齡(歲)	備註
曾美美	28	下個月褫奪公權期限屆滿
郝帥	39	自18歲開始受監護宣告
李享	50	不曾參與公職人員投票
林陵一	23	設籍此縣已滿兩個月

(A) 曾美美 (B) 郝帥 (C) 李享 (D) 林陵一。

☆ 共45題，請再檢查一次答案卡的劃卡內容 ☆