

※1.本試卷一共五十題，一題 2 分，總分 100 分。

2.請將正確答案依題號塗畫在答案卡上。

一、 選擇題:每題 2 分

- ()清帝國時期許多漢人來臺開墾，當時的開墾主要以何種方式進行？
(A)合資 (B)獨資 (C)軍屯 (D)官墾。
- ()清帝國時期，全臺灣灌溉面積最大的水利設施，為下列何者？
(A)曹公圳 (B)八堡圳 (C)瑠公圳 (D)貓霧揀圳。
- ()雖有渡臺禁令的限制，移民仍不計九死一生，甘冒波濤之險渡海來臺，原因為何？
(A)移民原鄉人口眾多、謀生不易
(B)臺灣為荒僻的彈丸小島
(C)移民原鄉水旱災多
(D)中國大陸戰禍連年。
- ()清帝國時期臺灣面臨嚴重的社會治安問題，最常見的是下列何者？
(A)漢人彼此械鬥 (B)漢人屠殺原住民
(C)政府官員時遭暗殺 (D)海盜與原住民衝突。
- ()清帝國時期，外國人對臺灣的一個族群有以下描述：

……富進取心，是優秀的農夫和工匠，生性倔強又好鬥，和『熟番』鬥，和閩南人鬥，自己有時也鬥……。」
女性不纏小腳，因務農能在外頭得到較好的收入，該族勤於訓練讀寫，通常會讓孩童受教育。

依照上述內容，這個族群應該是下列何者？

- (A)漳州人 (B)泉州人 (C)客家人 (D)「熟番」。
- ()如果想要了解漢人與原住民在清帝國時期的合作模式，應該參考哪一個建設？
(A)臺南孔廟(B)貓霧揀圳(C)熱蘭遮城(D)瑠公圳。
- ()附圖是《臺灣史圖集》中的漫畫，漫畫的主題可能為何？ (A)林爽文事件 (B)朱一貴事件
(C)漳泉械鬥 (D)閩粵械鬥。

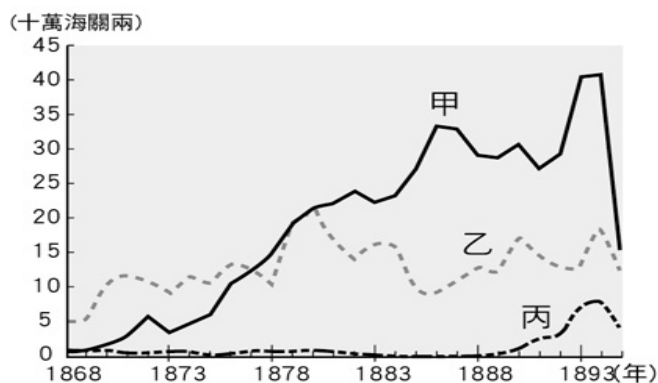


這塊土地是我們閩南人的土地，你們廣東人別想分一杯羹。


- ()臺北市芝山岩地區現存清帝國時期建造的隘門古蹟，這個管制人員出入的「隘門」，其作用為何？
(A)為臺北城城牆 (B)囚禁犯人之處
(C)保護同鄉住所 (D)防止偷渡上岸。

- ()玉嘉看到一張臺灣在清帝國時期的重要出口商品統計表，如附圖所示，由圖中可知當時最重要的出口商品為甲、乙、丙商品，這三樣商品按照順序來看應該是下列何者？

- (A)茶、糖、樟腦 (B)糖、茶、米
(C)樟腦、茶、糖 (D)樟腦、糖、米。



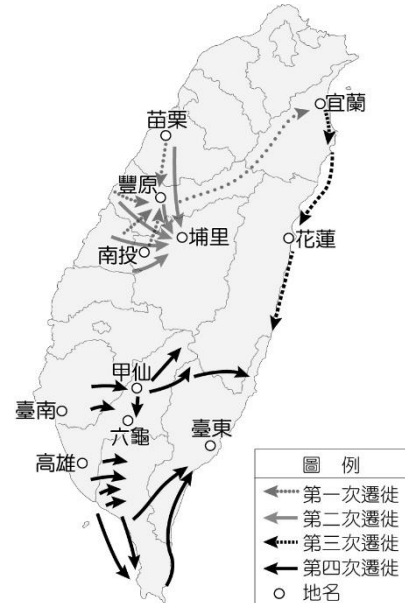
- ()威廉是十九世紀後期的英國商人，想要採購臺灣的特產商品運往歐洲銷售；經考察後，他決定在靠近產地的淡水設置貿易據點，以便降低運輸成本。以此研判，威廉最有可能從事何種商品的貿易？
(A)蔗糖 (B)茶葉 (C)稻米 (D)中藥材。
- ()小亦是金門蔡家後代，每逢年節返鄉，全家族均會齊聚在蔡氏家廟舉行祭祀典禮，以表慎終追遠，感念先人的恩德。請問：蔡氏家廟代表臺灣社會哪一類型的組織？ (A)公會組織 (B)宗教組織
(C)宗族組織 (D)商業組織。
- ()臺灣開港通商後，人們不可能在大稻埕碼頭看到哪種現象？
(A)茶葉大量出口，國際貿易興盛
(B)洋行設立，充滿異國情調
(C)購貨商人，以抽鴉片煙為樂
(D)蔗糖由此地大量輸往中國大陸。
- ()老師在說明清代臺灣社會的文教發展時，展示了一幅〈番社采風圖〉，圖中有一群小孩正在念書。哪一個同學發表的內容，較符合當時的臺灣社會？



- (A)米香：「清代社會充滿械鬥和民變，不可能發展文教，所以這幅圖是虛構的。」
- (B)蛋捲：「畫中是一群平埔族小孩在向漢人老師學習儒家經典。」
- (C)本丸：「畫中是一群原住民小孩在向漢人老師學習新港文。」
- (D)麻糊：「這幅圖顯示，教育機構隨著漢人移民來到臺灣，剛提倡就成功盛行。」

14. ()清帝國時期，臺灣在開港通商後，由於何項物品的大量輸入，造成臺灣人民身體衰弱，精神萎靡，危害甚大？ (A)軍火 (B)鴉片 (C)鹿皮 (D)香料。
15. ()這個時期，臺灣地區因為男女性別比例嚴重失調，導致家庭維持社會穩定的功能不彰，民間紛亂衝突狀況層出不窮。請問：上述的時期最可能是指什麼時候？
(A)荷蘭在臺時期 (B)鄭氏經營臺灣時期
(C)清帝國統治初期 (D)臺灣開港通商後。
16. ()臺灣開港通商後所出現的景象，何者錯誤？
(A)外商紛紛在臺灣設立洋行，大量進口鴉片
(B)西洋傳教士到臺灣傳教，設教堂、立學校
(C)械鬥事件因有外國人加入而更加嚴重
(D)臺灣對外貿易大幅成長。
17. ()「這項作物產於西南部，起初多由打狗或安平出口到國外，而後由打狗出口者逐漸增多，其出口總值約占臺灣當時 36%，排名第二。」請問：這項作物應為下列何者？
(A)稻米 (B)茶葉 (C)樟腦 (D)蔗糖。
18. ()臺灣開港通商，吸引了各國勢力前來發展，彷彿又回到大航海的時代。請問：這種轉變，當時臺灣哪一個城市並未直接受影響？
(A)淡水 (B)雞籠 (C)打狗 (D)鹿港。
19. ()清帝國時期，臺灣民間不斷發生變亂，以下哪一句諺語即是在這樣的背景下產生的？
(A)「红柿上樹頭，羅漢腳目屎流」
(B)「一個某，卡贏三個天公祖」
(C)「三年一小反，五年一大亂」
(D)「有唐山公，無唐山媽」。
20. ()西元 1859 年，郭德剛神父被天主教道明會派遣來臺灣傳教，他和四名中國籍的傳教士在打狗上岸，在當時的前金(今高雄市愛河橋畔)買了一塊地，作為傳教據點，即今日高雄玫瑰聖母聖殿主教座堂的前身。後來他又前往屏東、臺南、噶瑪蘭一帶傳教，雖然所建教堂屢次遭到破壞，生命也曾受到威脅，但仍不減郭德剛神父傳教的熱情。從上述短文判斷，郭德剛神父能來臺傳教的背景為下列何者？
(A)鄭氏統治時，積極與各國進行交流
(B)西班牙將臺灣視為到日本貿易的跳板
(C)荷蘭聯合東印度公司在臺灣成立貿易據點
(D)因清廷在英法聯軍戰爭中失利
21. ()挺生是十九世紀下半葉的貿易商，他的業務是將臺灣有「世界第一產量」之稱的商品賣到國外。由此看來，挺生的財富應是藉由哪一類物資的銷售而積累的？ (A)茶葉 (B)稻米 (C)樟腦 (D)蔗糖。
22. ()清帝國時期，商人李春生由中國大陸引進優良茶樹種欲種植於臺灣，由於茶樹喜愛生長於排水良好，雲霧繚繞的丘陵地帶，因此他應該在臺灣哪一地區推廣種植，成功的機率才比較高？
(A)東部 (B)西部 (C)南部 (D)北部。
23. ()劉銘傳擔任臺灣巡撫期間，為執行「開山撫番」政策，曾派兵入侵泰雅族人的大崙埃部落。這次衝突的主因，除了原住民有「出草」(獵人頭)的習俗之外，漢人亦因開採山林資源進入到原住民部落的勢力範圍，雙方因此產生治安上的摩擦。請問：當時漢人積極入山開採的商品，應該是下列何者？
(A)蔗糖 (B)小米 (C)鹿皮 (D)樟腦。

24. ()熱門電視劇「延禧攻略」中有一位名為海蘭察的侍衛，十分令人喜愛，其實此人不僅在歷史上確有其人，且還在乾隆年間到臺灣平定一場亂事。請問：上述所說的亂事是指哪一事件？
(A)郭懷一事件 (B)牡丹社事件
(C)朱一貴事件 (D)林爽文事件
25. ()以下是兩位網友的交談內容：
臺南阿誠：「自十七世紀以來，我住的地方即是全臺經濟重心，但到了十九世紀卻發生了變化。」
臺北小如：「是的，這是因為幫臺灣人賺取外匯的商品都是北部生產的。」
請問：小如所說的商品帶動以下哪些市鎮的興起？
(A)深坑、大稻埕 (B)新營、左營
(C)花蓮、知本 (D)臺中、鹿港。
26. ()這是一張清代平埔族群遷徙圖，請問造成這種現象的原因最可能為何？



- (A)漢人移民增加，壓縮平埔族的生活空間
(B)清朝政府實施遷界令，強迫平埔族東移
(C)平埔族原本就有定期遷移的習慣
(D)平埔族中內戰頻頻發生，部分族人只好遷移到東部。
27. ()清廷治臺時期，臺灣開港通商後所帶來的影響，下列敘述何者正確？
(A)基督教首度傳入臺灣，並以羅馬字母拼注漢語傳播福音
(B)對外貿易量大幅增加，貿易範圍也大為擴張
(C)貿易範圍僅局限在中國大陸的華南地區
(D)各地出現的「郊」，主要是進行對歐、美各國貿易的機構。
28. ()清帝國時期，大家為了爭奪資源，常引發紛爭，造成民間械鬥頻傳。在這種情況下，下列何者最容易被利用，來壯大自己的勢力，也造成更嚴重的治安問題？ (A)傳教士 (B)羅漢腳
(C)平埔族原住民 (D)高山族原住民。
29. ()臺灣經濟重心由南部轉移至北部，主要是與北部哪兩項商品的開發有關係？
(A)茶葉、樟腦 (B)茶葉、蔗糖
(C)蔗糖、稻米 (D)稻米、木材。
30. ()真真到廈門大學當交換學生，他發現自己在家使用的方言，能夠與廈門人溝通，讓真真感到相當親切，想家的情緒稍微淡一些。請問：真真是用哪種方言與當地人對話？
(A)粵語 (B)閩南語 (C)客家話 (D)北京話。

31. ()清帝國時期，臺灣中、北部山區有些街市興起，如林圯埔(今竹山)、集集、深坑、三角湧(今新北三峽)、大嵙崁(今桃園大溪)等地。請問：這些街市的興起與哪些產業有關？

- (A)茶葉、樟腦 (B)蔗糖、稻米
(C)稻米、樟腦 (D)藥材、鴉片。

32. ()臺灣農民在農曆2月2日、8月15日時，會以竹枝或蘆葦夾著金紙，插於田中，祈求農作物豐收。農民們深信，某尊神祇管轄農田土地，插放竹枝或蘆葦象徵安放神祇的拐杖，代表此處有這位神祇在看管，不容許邪魔入侵，可以確保這個地方的平安富足。請問：臺灣農村的這種特殊習俗，是以下列何者為祈求對象？

- (A)媽祖 (B)土地公 (C)唐山祖 (D)有應公。

33. ()臺灣物自航海時代以來就有相當多物產外銷，下列哪一項商品不論在什麼時期都是重要的外銷產品？ (A)稻米 (B)茶葉 (C)蔗糖 (D)樟腦。

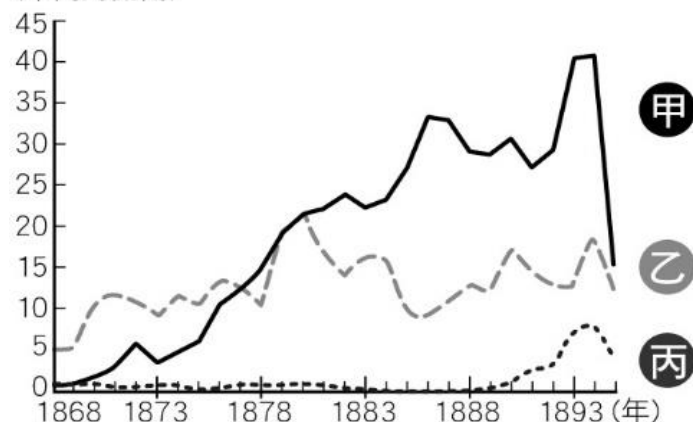
34. ()家家身為虔誠的基督徒，對來臺的傳教士十分敬佩，想實地去探訪與他們相關的建物。根據上述，他應該會去參觀哪些地方？

- (甲)借醫館 (乙)淡水女學堂 (丙)新樓醫院 (丁)瑠公圳
(戊)德記洋行 (己)理學堂大書院

- (A)甲乙丙己 (B)甲乙丁己
(C)甲乙戊己 (D)乙丙丁戊。

35. ()附圖是阿誠報告時所附上的「清帝國時期臺灣三大商品出口總值比較圖」，希望能考一考同學是否了解臺灣開港後的出口情況。請問：下列哪位同學的回答正確？

(十萬海關兩)



- (A)恩恩：甲是出口歷史最為悠久的蔗糖
(B)小伶：乙是開港通商後最大宗的輸出品茶葉
(C)皓皓：丙是產量曾居世界第一的樟腦
(D)小弘：丙是開港後輸出過半的鴉片。

36. ()臺灣有應公廟的出現，代表何種歷史意義？

- (A)史前時期文化不發達
(B)荷蘭在臺時期臺人英勇反抗
(C)鄭氏政權在臺時期臺灣疫病流行
(D)清初臺灣民間動亂頻繁

37. ()臺中霧峰林家是日治時期臺灣五大家族之一，清法戰爭之後，由於協助防守有功，更是被清廷授予當地某項農產品的全臺專賣權利。該產品在開港通商後深受國際市場青睞，成為臺灣當時主要的出口商品之一，產量曾居世界第一。壟斷該產品販售資格的林家也因此累積巨額財富，繁盛延續至日治時期。請問：清帝國治理後期，霧峰林家壟斷的產品為何？

- (A)茶葉 (B)蔗糖 (C)樟腦 (D)鴉片。

38. ()咪咪參加歷史知識大競賽，看到了附圖中的提示後，須推論提示中人物的生活，下列何者最正確？

- (A)朱大富應該是鄭氏治臺時期的商人
(B)當時臺灣最繁榮的港口應該是淡水
(C)他加入的組織是以宗族為主的團體
(D)配合主要的貿易區在中國大陸經商。

姓名：朱大富

職業：商人

工作地：臺南

加入組織：布郊

39. ()臺灣曾有「一府、二鹿、三艋舺」的稱呼，試以此語為線索，推測清帝國時期臺灣的發展有何特色？

- (A)北中南三個港口同時發展，促使臺灣經濟日趨繁榮
(B)由南部逐漸向北部發展，由港口貿易帶動周邊地區的繁榮
(C)三個地區先後成為臺灣的政治行政中心
(D)清帝國時期，清廷重視此三地的戰略地位，先後築城以便防守。

40. ()這個時期，臺灣地區男女性別比例嚴重失調，導致家庭維持社會穩定的功能不彰。請問：上述的時期最可能是指什麼時候？

- (A)荷蘭在臺時期 (B)鄭氏經營臺灣時期
(C)清帝國統治初期 (D)臺灣開港通商後。

41. ()「一府二鹿三艋舺」是清帝國統治臺灣早期的三大貿易港口。請問「一府」是指當時的哪一個地方？

- (A)臺北府 (B)臺灣府 (C)臺南府 (D)承天府。

42. ()臺灣自荷蘭在臺時期以來，對外貿易便相當興盛，臺灣的商人曾經在臺組織「行郊」這樣的商業組織，這類組織成立的目的為何？

- (A)整合地方宗教，使宗教衝突減低
(B)從事社會公益，獨佔相關行業利益
(C)拓展貿易範圍，對外搶奪市場
(D)控制商品價格，維護商人利益。

43. ()清朝將臺灣納入版圖後，當時移居臺灣的漢人大部分來自中國大陸的哪兩省？

- (A)福建、廣東 (B)廣東、廣西
(C)浙江、福建 (D)江蘇、浙江。

44. ()彰化縣鹿港鎮有一泉郊會館。請問：這座會館成立的目的為何？

- (A)作為地方教育之用 (B)商人間聯誼及互助之用
(C)作為宗教祭祀之用途 (D)宗族組織的聚會場所

45. ()艋舺因地理位置優越，舊時成為臺北盆地的貨物集散地，當時水路可直通大嵙崁(今桃園大溪)。

「艋舺」名稱源於平埔族稱呼獨木舟的音譯，漢人來此後，看到獨木舟成群，便以同音的「艋舺」稱之。下列敘述何者正確？

- (A)艋舺即今日的景美一帶
(B)與今日的臺南、淡水同為當時最興盛的三大港口
(C)艋舺的興盛最早發生在鄭氏政權在臺時期
(D)艋舺的興起是由於淡水河地利之便

46. () 早期漢人移民多在清康熙到嘉慶年間來臺，使臺灣人口從十多萬增加到近兩百萬，其中泉州人居沿海平原，漳州人居內陸平原，客家移民居丘陵，這些來臺移民的分布有何特性？
 (A) 大多聚居於南部 (B) 山區一帶尚未有居民
 (C) 北部出現移民潮 (D) 同鄉聚居的現象明顯。
47. () 在開港通商之前，臺灣尚未引進西方的醫學知識，居民生病時仍須向傳統的中醫求診。請問：當時臺灣所需的藥材，多半是向何處採購？
 (A) 英國 (B) 日本 (C) 東南亞 (D) 中國大陸。
48. () 「正口」也稱為「正港」，是清代臺灣與中國大陸之間往來的指定港口，設有海關和檢查哨，除了管制人員進出，也檢查貨品輸送，只要是「正港」進出的貨物，可取得合法通行證而被稱為「正港貨」。下列何地並非屬於「正港」？
 (A) 打狗 (B) 鹿港 (C) 八里坌 (D) 鹿耳門。
49. () 附圖是漢人在臺土地開發擴散圖，從圖中判斷的訊息，下列敘述何者正確？



- (A) 臺灣人口主要集中於北部地區
 (B) 開發方向由南而北，由西向東
 (C) 東部未能開發主因是海盜占據治安不佳
 (D) 水利建設逐漸增加，農產大增。
50. () 力小佑因姓氏特殊，在外地求學時常引起同學的注意，他詢問家中長輩「力姓」的由來，這才得知家族原屬平埔族群，因平亂有功被清廷依族語賜姓，同區的其他罕見姓氏還有東、蘭、買、兵、蒙，也都是這樣產生的。請問：力小佑的家族在當時最不可能會碰到什麼狀況？
 (A) 與漢人通婚使漢人被同化
 (B) 向漢人教師學習漢字
 (C) 因漢人越界開墾而爆發衝突
 (D) 向漢人學習種植水稻。

-- 恭喜! 試卷結束，請再次檢查答案 --

解答

一題 2 分

1	2.	3.	4.	5.
A	B	A	A	C
6.	7.	8.	9.	10.
B	D	C	A	B
11.	12.	13.	14.	15.
C	D	B	B	C
16.	17.	18.	19.	20.
C	D	D	C	D
21.	22.	23.	24.	25.
C	D	D	D	A
26	27	28	29	30
A	B	B	A	B
31	3.	33	34	35
A	B	C	A	C
36	37	38	39	40
D	C	D	B	C
41	42	43	44	45
B	D	A	B	D
46.	47.	48	49	50
D	D	A	B	C