

彰化縣立田尾國中 110 學年度第二學期八年級歷史科第二次段考

八年 班 座號： 姓名：


※1. 本份試卷共五十題：一題 2 分，總分 100 分。

2. 請將正確答案依題號塗畫答案卡上。

3. 本份試卷共 4 頁。

一、選擇題：每題 2 分

- () 民國 25 年，中共提出「中國人不打中國人」、「停止內戰，一致抗日」等口號，也造成某個事件的展開。上述所指的是哪個事件？
(A) 清黨 (B) 濟南慘案 (C) 西安事變 (D) 九一八事變。
- () 小明是一位北京市民，在他的一生中，經歷了數次的政權演變，他親眼見證了中國近現代史的發展。小明後來經常向他的孫子們提起年輕時候的事。關於小明的經歷，以下哪個部分他可能記錯了？
(A) 西元 1909 年的時候，還是清朝統治，但是此時的革命事件愈來愈頻繁
(B) 西元 1919 年，這個時期被人家稱為「十年建設」，有好多的建設紛紛展開
(C) 西元 1939 年，中日戰爭已經開打，我住的地方已經被日本人占領了
(D) 西元 1949 年，毛澤東在天安門宣布中華人民共和國建立。
- () 筱娟在紀錄片中看到如下圖的一幕。從片中的內容判斷，紀錄中的人物最可能為下列何者？
(A) 孫中山 (B) 毛澤東 (C) 蔣中正 (D) 張學良。

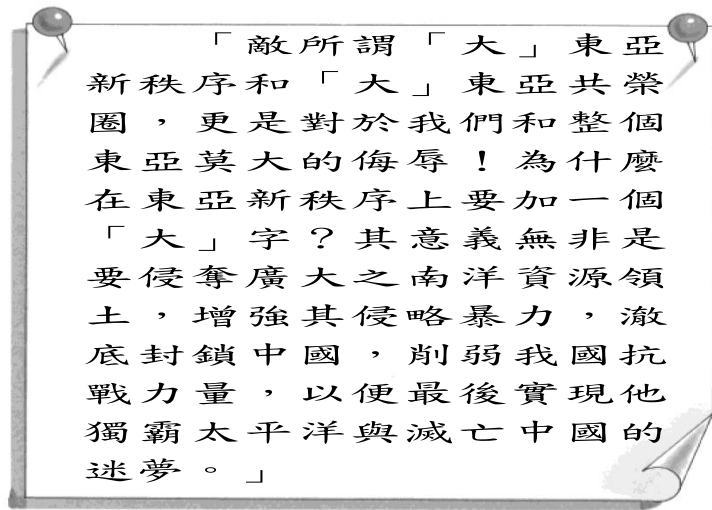


- () 一九六〇年代，黃土高原上土高爐升起，農民大量投入土法煉鋼。請問：這種景象，正是中共推動何種運動的時期？(A) 國共內戰 (B) 大躍進 (C) 二萬五千里長征 (D) 文革
- () 「肥豬像大象，就是鼻子短，全社殺一口，可以吃半年」，如此浮誇的風氣，出現於中共哪一時期？(A) 土地改革 (B) 大躍進 (C) 二萬五千里長征 (D) 黃金十年。
- () 中國有句順口溜：「五十年代人幫人，六十年代人整人，七十年代人騙人。」請問：內容中的「人整人」，指的可能是什麼？(A) 人民公社 (B) 西安事變 (C) 聯俄容共 (D) 文化大革命
- () 中共所謂的「二萬五千里長征」。請問：這時候中華民國正處於哪個時期？(A) 軍閥割據時期 (B) 軍政時期 (C) 訓政時期 (D) 憲政時期
- () 「因為戰爭的緣故，北平(今北京)淪陷，清華大學、北京大學以及南開大學共同組成臨時大學，配合政府應戰策略，先南撤到湖南 長沙繼續開課。但敵軍的飛機頻繁轟炸，學生大部分時間都在教室和防空洞間來回跑著。隨著戰事吃緊，政府遷往四川，學

校也遷徙到雲南。」文中的戰爭最可能是下列何者？

- (A) 八國聯軍 (B) 武昌起義
(C) 八年抗戰 (D) 國民政府北伐

9. () 蔣中正在中日戰爭期間，曾經公開發表談論日本的南進政策：



請問：從上面的文字中，我們可以推論蔣中正認為日本南進政策的根本目標是什麼？

- (A) 驅逐南洋殖民勢力，讓南洋國家得到獨立與尊嚴
(B) 掠奪南洋資源，擊垮中國，實踐稱霸太平洋夢想
(C) 掠奪南洋的資源，替未來發動珍珠港事變作準備
(D) 驅逐南洋殖民勢力，實現稱霸太平洋的美夢。
10. () 國共內戰爆發，國民政府節節敗退，使大陸淪為共軍之手的原因有哪些？(甲) 通貨膨脹嚴重 (乙) 官員貪汙腐敗 (丙) 國軍數目遠不如共軍 (丁) 抗日失敗導致國軍元氣大傷
(A) 甲乙 (B) 乙丙 (C) 乙丁 (D) 丙丁
11. () 公共電視臺《將相浮沉錄》談到某位將領：「二次大戰之後，□□極力說服美國各界援助歐洲重建……這個計畫讓殘破的歐洲重新站了起來。這時□□已經計畫退休，但是他又受到總統請託出使中國，調停國共間的衝突……。」請問：□□所指的將領，前往中國的結果為何？
(A) 調停成功，國共雙方言歸於好
(B) 美國覺得國民黨處境堪憐，持續給予援助
(C) 調停失敗，國共衝突未止
(D) 中國政府聘他為官員，協助外交拓展
12. () 一本書中寫著：「日本軍隊於民國 20 年進攻中國 東北，中國政府知道當時還沒有與日軍決戰的實力，乃採取不抵抗的策略，東北三省很快就淪入日本掌控中。」這是對哪一事件的描述？
(A) 七七事變 (B) 西安事變
(C) 濟南慘案 (D) 九一八事變
13. () 小威看了一部名為南京·1937 的電影，劇情描述西元 1937 年，南京城內的中國軍民遭到敵對勢力殘酷殺害的情景。上述影片的歷史背景為何？
(A) 日軍侵略中國 (B) 南北軍閥混戰
(C) 國共內戰 (D) 國民政府剿共

14. () 電影活著劇情如下：「為了破四舊，福貴不得不燒毀心愛的皮影戲道具，留下一只空箱子。……福貴的女兒鳳霞臨盆時，醫院遭到學生奪權，醫生們在『打倒學術權威』的口號下被清算，鳳霞因突然血崩卻無醫生施予急救而送命……。」這段情節的時空背景最可能是下列何者？

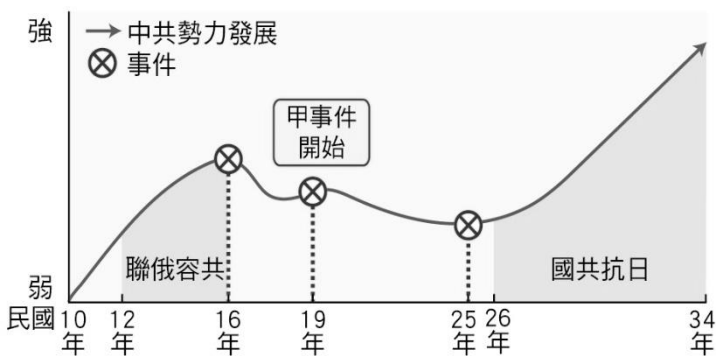
- (A) 國共內戰時期的臺灣 (B) 滿洲國成立後的東北
(C) 軍閥混戰時期的華北 (D) 文化大革命時的中國

15. () 美國總統羅斯福曾發表一篇演說，當中提到：「昨天，西元 1941 年 12 月 7 日，美利堅合眾國遭到了日本帝國海空軍預謀的突然襲擊。美國當時與日本處於和平的狀態，而且應日本的請求，與其政府進行對話，希望維持太平洋的和平。……不論要用多長的時間才能戰勝這次預謀的侵略，美國人民與正義之師必將贏得澈底勝利。……」羅斯福發表演說背景為何？

- (A) 日軍正攻入南京，殘殺軍民行為缺乏正義
(B) 日本正成功占領臺灣，阻礙美國勢力擴張
(C) 日本終止美國石油進口，引發商貿衝突
(D) 日本攻擊珍珠港，破壞太平洋地區和平

16. () 附圖是中國國民黨與中國共產黨的分合示意圖，兩黨的發展影響著現代中國的歷史走向。圖中的甲事件使得中共勢力縮減，直到西安事變才轉危為安。甲事件為何？

- (A) 北伐 (B) 清黨分共 (C) 濟南慘案 (D) 剿共戰爭



17. () 臺灣前幾年設置的第一座慰安婦紀念館「阿嬤家：和平與女性人權館」因不敵年年虧損，加上疫情衝擊，於民國 109 年 11 月 10 日暫時熄燈。此紀念館也提醒了世人戰爭的殘酷。請問：下列關於中日戰爭的敘述，何者正確？

- (A) 日本本島並未受到戰爭影響
(B) 因擔心被反叛，臺人並未被徵調至戰場
(C) 戰爭雖然激烈，但日本軍隊並未屠殺人民
(D) 日本被投下原子彈，後代仍為輻射汙染所苦

18. () 1842 年鴉片戰爭後，中國簽訂了第一個不平等條約後，接下來四方的列強紛紛與中國簽訂不平等的條約，直到何時中國才擺脫百年不平等條約的束縛？

- (A) 1908 年 (B) 1925 年 (C) 1943 年 (D) 1958 年

19. () 「中日兩軍在上海激戰三個月，最後撤退時，尚有一團八百將士死守在四行倉庫掩護國軍撤退。在他們死守四行倉庫的第二天，對岸的女童子軍楊惠敏看到對岸商社飄滿日本的旗幟，唯獨四行倉庫沒有升上國旗，便主動跟上海商會聯絡，並冒著生命危險帶著青天白日滿地紅國旗進入四行倉庫，這面青天白日滿地紅的國旗大大鼓舞了士氣。」以上是在描述哪場戰役的情景？(A) 九一八事變 (B) 蘆溝橋事變

- (C) 淞滬會戰 (D) 一二八事變

20. () 19 世紀末，明治維新將日本帶向一個新紀元，從甲午戰爭到日俄戰爭，日本一再刷新世人對她的觀感，她也逐步由被侵略國蛻變為向外侵略的列強。當時日本對外侵略的方針，依照方向分為「北進」與「南進」兩個路線，而以下對「北進」方針的描述何者正確？

- (A) 藉由遼東半島進攻東亞
(B) 此方針在軍國主義的指導下進行
(C) 越南、印尼是主要的目標
(D) 將臺灣打造成她的「北進」基地

21. () 中日戰爭期間國民政府利用多撐下來的三個月，掩護後方撤退。國民政府此時是遷都到何處？

- (A) 北京 (B) 南京 (C) 上海 (D) 重慶

22. () 小德正在玩一款以近代東亞歷史為背景的線上遊戲，他選定的遊戲人物正在一棟看似政府機關的建築中探險，並看見玄關處張貼了許多宣導政令的海報，其中一幅海報如右圖所示。根據右圖內容判斷，小德正在玩的遊戲是以下列何者為歷史背景？



- (A) 1930 年的臺北 (B) 1935 年的瀋陽
(C) 1940 年的重慶 (D) 1950 年的東京

23. () 日本在太平洋戰爭期間，大肆向外宣傳大東亞共榮圈，其理念為「將東亞、東北亞、南亞、大洋洲等地從歐美列強的統治中解放，建立相互尊重、彼此獨立、共存共榮的新秩序。」此理念在太平洋戰爭後造成甚麼影響？

- (A) 東亞國家都懷念日本統治
(B) 東南亞各國今日仍是歐美殖民地
(C) 軍國主義在東南亞借屍還魂
(D) 成為東南亞諸國脫離殖民統治的契機

24. () 小德在宜蘭遊玩時，在一處景點看見介紹牌(如附圖)，並對其中與軍機場相關的描述十分好奇。根據附圖內容判斷，此地的軍機若要前往日本的其他佔領區支援，最可能會飛往下列哪個地區？

當時在臺的建設都以反登陸做準備，日軍在宜蘭共建有南、北、西等三處軍機場，南機場是現在的宜蘭科學園區，北機場位在金六結營區，西機場在金車酒廠一帶，南機場是日軍神風特攻隊機群起降、訓練基地。

- (A) 紐約 (B) 新加坡 (C) 重慶 (D) 印度

25. () 小欣與小涵在假日時一起到電影院欣賞某部有關太平洋戰爭的東南亞電影，並在看完電影後與同學一起討論情節內容，她們的對話如附圖所示。根據附圖內容判斷，小涵應回答下列何者最為恰當？

為什麼馬來西亞境內曾經設立由日本軍隊掌管的拘留營？

.....
.....
.....



小欣



小涵

- (A) 因為日本成立滿州國，並扶植溥儀成為皇帝
- (B) 因為日本偷襲珍珠港，使美、英等對其宣戰
- (C) 因為日本對英、美、荷等的殖民地發動戰爭
- (D) 因為日本於中途島海戰中，海軍遭美軍重創

26. () 小志在一本口述歷史專書中，看見一份訪問內容(如附圖)，並想了解是什麼樣的歷史背景，導致當時的上海呈現如此光景。根據下列內容判斷，下列哪項歷史事件導致了下列情形？

青年軍官回憶 1949 年 5 月的情形：「碼頭上人聲鼎沸，士兵、軍眷、難民擠在一起，人們爭先恐後搭船逃離上海，整個碼頭猶如人間地獄。為了要多搭載些人，國軍奉命把武器彈藥一概丟棄在碼頭上，只要人上去就行了，於是碼頭上堆滿了武器、彈藥、黃金、白銀、家當……為了擠上船，許多人冒險企圖攀爬上船，結果像餃子下鍋一樣，由船舷落入海中。……」

- (A) 國民政府在上海敗給日軍後，遷都長春
 - (B) 剿共行動迫使共軍展開兩萬五千里長征
 - (C) 國共內戰時期，中華民國政府一路敗退
 - (D) 日軍在上海製造衝突，是為一二八事
27. () 一直到中共在蔣中正的五次圍剿之下倉皇西逃時，他才取得中共黨內的領導權。此人是以以下何人？
- (A) 李大釗 (B) 陳獨秀 (C) 毛澤東 (D) 馬歇爾
28. () 北京故宮的收藏量遠遠高於臺北故宮，但臺北故宮的收藏品質卻遠遠高於北京故宮；其中翠玉白菜、東坡肉石、毛公鼎被稱為鎮宮三寶。這些珍貴的瑰寶於何時被運往臺灣？
- (A) 北伐統一後 (B) 第一次世界大戰結束時
 - (C) 中日大戰爆發之際 (D) 國共內戰失利後
29. () 依據內容判斷，下面哪個選項最有可能是描述文化大革命時期？
- (A) 山東孔子的故居遭受保護免於破壞
 - (B) 紅衛兵成為批鬥的主角
 - (C) 對毛澤東崇拜達到高峰
 - (D) 宣稱要與國外勢力合作壯大中國
30. () 「每個單位在自己的後院，每個公社、每個大隊都搞此設備。沒有燃料就大砍森林，甚至把農民家家戶戶木製的門窗都當燃料；沒有鐵礦石家家戶戶就把鍋碗瓢杓，甚至門鈴，任何含鐵的東西全部拆下來充數。然而這種土法煉出來的產品只能是廢鋼爛鐵。可是對森林、生態的破壞永遠也無法恢復。」以上是描述哪個政策的實際情況？
- (A) 組織人民公社 (B) 思想改造運動
 - (C) 動員全民大煉鋼 (D) 失控的紅衛兵

二、題組：一題 2 分

(一) 一名老兵在回憶錄中提到：

少帥可謂是決定中國近代歷史發展最關鍵的人物，在中國內戰之際，因為他登高一呼，當地易幟(旗子)，使得中華民國總算成為一個統一的國家；一九三〇年代中，中國已再度分裂，也因為少帥的決定，發生了這個事件，澈底改變了中華民國的命運。我自小跟著少帥，到了這個時間，便與他分別。附上那個時候的報紙，希望大家都能知道，我曾經歷的那一段歷史。



31. () 上述這份報紙的立場應該偏向何者？
- (A) 中國共產黨 (B) 美國 (C) 國民政府 (D) 蘇聯。
32. () 文中老兵提到少帥曾助中華民國統一，時間點應該是哪個時期？
- (A) 剿共 (B) 北伐 (C) 中日戰爭 (D) 清黨。
33. () 根據這名老兵描述，「因為少帥的決定，發生了這個事件，澈底改變了中華民國的命運」。我們應該如何理解這樣的解釋？
- (A) 應該是老兵個人的感受，歷史上並未產生太大的影響
 - (B) 中華民國確實因為這個事件進一步獲得國際支持
 - (C) 這裡指的應是因為此事件讓中國共產黨可以繼續發展
 - (D) 中華民國因為該事件實現了統一。

(二) 下列短文是二次世界大戰末期，甲國所寫的投降詔書部分原文。請看完之後回答下列問題。

「……帝國之所以向英、美宣戰，實為希求帝國於東亞之安定。至於排斥他國主權，侵犯他國領土，非我本意。……戰局並未好轉，世界大勢不利於我。加之，敵方最近使用殘酷之炸彈，頻殺無辜，慘害所及，實難逆料。若繼續作戰，將導致我民族之滅亡，並破壞人類之文明。」

34. () 下列何者與文中所述「侵犯他國領土」有直接關聯？
- (A) 國共衝突 (B) 五四運動
 - (C) 十年建設 (D) 七七事變。
35. () 文中的「敵方」最有可能是下列何者？
- (A) 美國 (B) 中國 (C) 臺灣 (D) 法國。
36. () 下列何者是甲國在二次大戰中所造成的影響？
- (A) 迫使共軍勢力削減
 - (B) 併吞臺灣納為殖民地
 - (C) 國民政府制憲工作停擺
 - (D) 戰後朝鮮受輻射傷害。

(三)這是曾任我國外交部長的王世杰先生於西元 1946 年寫下的某篇日記內容，請閱讀引文並回答。

今日□□大使向蔣主席提出聲明書，說明原本供關東軍使用的企業與物資，應該被視為□□的「戰利品」。中國政府認為這批物資為中國所有，是無根據的，不能生效。……□□將物資轉給中共……中共的勢力在□□扶植下，漸在當地站穩腳根，這樣的現象令人憂心……

37. () 王世杰先生作為一名外交人員，對於國內外大事有著最直接的觀察，依據他的日記所寫，□□曾經在中國有一些作為。請問：□□應指下列哪個國家？

(A)蘇聯 (B)美國 (C)日本 (D)德國。

38. () 依據引文，王世杰先生對於當時的國內局勢感到相當憂心。請問：王世杰先生在日記中透露了哪項訊息？

(A)蘇聯協助中共進入東北
(B)蘇聯派代表調停國共紛爭
(C)這則訊息紀錄了山東地區的情形
(D)蘇聯勢力深入中國，美國派馬歇爾前來中國處理。

39. () 以下的國共關係中，哪個事件發生的時間最早？

(A)兩岸分治(B)聯俄容共(C)聯共抗日(D)國共內戰。

(四)某篇報紙的社論這樣寫道：

「在西方驚愕「中國發瘋」(China Went Mad)之際，『事件』卻對西方社會發生了多樣性的衝擊作用，並留下了深遠的影響。『事件』期間正值西方學生展開熾熱的反越戰運動，他們(尤其是法國學生)從「A 團體」身上學到了串聯和破壞的激烈手段。他們對「事件」產生了浪漫的情懷，他們認為「A 團體」和他們都是獻身於社會正義的理想主義青年，都有頂天立地的精神和抱負。他們仿效「A 團體」挑戰權威的鬥志，和政府對抗。法國學生幾乎扳倒了一向強勢的戴高樂政府，美國學生的反戰運動使詹森和尼克森政府窮於應付，並逼迫福特政府加速從越南脫身。……費正清則於〈紐約時報〉時論廣場發表一篇文章，說中國有『事件』的『內憂』，美國則有越戰的『外患』，兩個國家應該嘗試互相幫助解除對方的困境……」(資料來源：林博文，〈文革對西方世界的衝擊〉《中國時報》)

40. () 上述報導中提到的「事件」是指下列何者？

(A)五四運動(B)大躍進(C)文化大革命(D)剿共

41. () (2) 請問 A 團體是指什麼？

(A)罷工人潮 (B)人民公社 (C)紅衛兵 (D)學運學生

(五)共產黨和國民黨因政治局勢國際勢力的影響，而呈現多次分合的現象。請問：

42. () 民國 12 年，何人採取聯俄容共政策？

(A)黎元洪 (B)孫中山 (C)蔣中正 (D)張學良。

43. () 國共進行第二次合作，目的是要抵抗當時侵略中國的哪個國家？(A)日本(B)美國(C)法國(D)蘇聯。

44. () 1971 年，中華人民共和國取代中華民國在聯合國的席次，當時中國大陸的政治、社會發展為何？

(A)正值改革開放時 (B)處於文化大革命的浩劫中
(C)國內因大躍進導致大饑荒(D)毛澤東宣布抗美援朝之際

(六)《牛棚雜憶》的作者季羨林是一名中國學者，他曾在

某一時期遭到了悲慘的待遇，此後他將這段經歷記錄了下來。請閱讀引文並回答以下問題：

隔了幾天，東方語文系的批鬥開始了，原本我只是配角，今天他們將我升級成了主角。一陣激烈的高聲叫喊後，兩個紅衛兵進來，他們站的直挺挺的，臂章閃著耀眼的紅光，他們把我壓解到外文大樓……我在東語系已經二十幾年，這些人都是我的學生或是同事。會議室裡的那個位置，我已經坐了二十幾年，那時候我是系主任；可是如今我是站著的，而且身分變成了「反革命分子……」
(修改自季羨林《牛棚雜憶》)

45. () 根據作者待遇看來，文章記錄的是哪段歷史？

(A)文化大革命導致社會混亂
(B)大躍進造成中國倫理不復存在
(C)國共內戰期間，政府打壓知識分子
(D)八年抗戰期間，日軍占領區的情形

46. () 紅衛兵們對於何人展現高度的服從？

(A)蔣中正 (B)毛澤東 (C)張學良 (D)袁世凱。

47. () 這事件除在當下造成多人的心理創傷外，也造成了許多後續影響。以下何者不是這個事件的影響？

(A)中國發展停滯十年 (B)傳統文化受到破壞
(C)革命風潮影響全球 (D)數千萬人死於饑荒。

(七)下圖為二次大戰日本勢力圖，請回答下列問題：



48. () 關於圖中丁地區的敘述，下列何者錯誤？

(A)日本曾在該地偷襲美國，使亞洲被捲入二戰戰場
(B)日本於此劫掠資源
(C)表面支持東南亞獨立，實際上干預各國政治經濟
(D)透過宣傳高唱「大東亞共榮圈」擴張的正當性。

49. () 關於日本向外擴張勢力的敘述，何者正確？

(A)西元 1929 年後日本經濟空前繁榮，帝國主義因而崛起
(B)西安事變後，中國加速分裂，日本藉此出兵山東
(C)美國參戰後，日本突襲太平洋地區的珍珠港
(D)日本擴張造成被侵略國重大損傷，後亦重創其國內。

50. () 中日戰爭期間發生的重大事件與地區的配對，下列何者正確？(A)甲：南京大屠殺(B)乙：盧溝橋事變

(C)丙：珍珠港事變(D)丁：美國投原子彈。

- 試卷結束!請再檢查一次答案! -

- 答案欄

1.	2.	3.	4.	5.
C	B	B	B	B
6.	7.	8.	9.	10.
D	C	C	B	A
11.	12.	13.	14.	15.
C	D	A	D	D
16.	17.	18.	19.	20.
D	D	C	C	B
21.	22.	23.	24.	25.
D	B	D	B	C
26.	27.	28.	29.	30.
C	C	D	C	C
31.	32.	33.	34.	35.
C	B	C	D	A
36.	37.	38.	39.	40.
C	A	A	B	C
41.	42.	43.	44.	45.
C	B	A	B	A
46.	47.	48.	49.	50.
B	D	A	D	C