


【計分方式：1-10 題：3 分；11-45 題：2 分；合計 100 分】

## 一、單選題

- ( ) 1. 母親懷胎十月生下孩子後，小孩和父母自然而然產生了親子關係，這是屬於哪種法律的範疇？  
(A)《刑法》 (B)《民法》 (C)《家庭教育法》  
(D)《性別平等教育法》
- ( ) 2. 玟定今年剛升上國二，她平常對政治的議題非常有興趣，而下列哪一項政治參與方式不是玟定目前可以採取的？  
(A)上公共政策網路平臺投票 (B)參加工會  
(C)觀看政論節目 (D)與家人、同學討論政治
- ( ) 3. 定期選舉是民主政治的常態，選舉時選舉人應該選賢與能，謹慎思考候選人的條件。下列哪項條件最不適合列入考量？  
(A)候選人發表的政見 (B)候選人工作的能力  
(C)候選人所屬的政黨 (D)候選人擁有的財力
- ( ) 4. 關於我國法律規定，簽訂書面契約時，通常需要立約雙方的簽名，試問簽名的程序可以採何種方式行之？  
(A)只可以採親自簽名 (B)只可以採蓋章方式  
(C)簽名與蓋章皆要使用 (D)簽名與蓋章都具有效力
- ( ) 5. 在我國，政府會尊重私人之間的約定方式與內容，不過仍會以相關法律來保障經濟上的弱勢者。上述相關法律是針對《民法》中何種原則所做的限制？  
(A)權力分立 (B)契約自由 (C)傳統習俗 (D)損害賠償
- ( ) 6. 就讀國二的小源(14 歲)，他所從事的下列行為中，哪項必須得到法定代理人的同意，才具有法律效力？  
(A)用壓歲錢購買文具 (B)接受爺爺贈送的手錶  
(C)簽約購買平板電腦 (D)因沒搭到校車，趕搭計程車
- ( ) 7. □□是指出借人將金錢或借用物交付借用人使用後，借用人依約返還金錢或借用物的契約。請問：上述□□應是指下列何種關係？ (A)借貸 (B)買賣 (C)租賃 (D)遺產繼承。
- ( ) 8. 某政治思想家主張：「政府之正當權力是來自於『被治理者』的同意而產生」。此處所謂的『同意』，通常是指公開且普通的直接選舉過程。下列哪一公職人員的產生，符合上述選舉原則？  
(A)行政院院長 (B)立法委員 (C)台北市東區區長  
(D)衛福部部长。
- ( ) 9. 為保障選舉的公平公正，我國法律對於選舉原則設有若干規定。下圖中兩人提及的公職人員選舉應為下列何者？ (A)立法委員 (B)縣(市)議員 (C)直轄市市長 (D)總統、副總統。



- ( ) 10. 臺灣是民主的國家，政治參與的方式很多，包括加入政黨、參加利益團體、關心時事等，試問何種方式最容易進行，且結果十分明確？  
(A)投票 (B)評論政府施政 (C)投書媒體 (D)集會遊行抗議
- ( ) 11. 依我國《民法》規定，個人的法律行為，其效力會有所不同，主要判定的關鍵為何？(甲)職業 (乙)經濟能力 (丙)年齡 (丁)精神狀態；正確組合為？ (A)甲乙 (B)甲丁 (C)乙丙 (D)丙丁。
- ( ) 12. 下列四人都已達選舉投票的法定年齡，但其中哪一位無法行使投票的權利？  
(A)被褫奪公權的大東 (B)放棄我國國籍的進平  
(C)未完成國中學業的世民 (D)已連任一次的蔡英文總統
- ( ) 13. 「我國總統大選隨著投票日接近，全國上下的氣氛更如火如荼，這次首投族大概有五十萬人……」要符合幾歲門檻才是上文所述的首投族？  
(A)17 (B)18 (C)19 (D)20
- ( ) 14. 《民法》規範私人間的權利義務關係，下列行為何者不是屬於財產關係的內容？ (A)志玲因大學畢業後即將就業，故在台北市承租了一間套房 (B)慧喬和仲基在 2021 年辦理離婚 (C)淵明到書局購買毛筆與宣紙 (D)大明從網路下標購買北一女學霸的讀書筆記。
- ( ) 15. 依照《民法》最新修正，有關結婚的相關規定將於明年有新的規定，下列何者的婚姻可成立？  
(A)50 歲大亨和 18 歲小娟到法院公證結婚 (B)15 歲的小芳答應要嫁給 17 歲的小華 (C)梁山伯在土地公的見證下，和祝英台成婚 (D)羅密歐席開 100 桌宴客，宣告和茱麗葉是夫妻
- ( ) 16. 又嘉已滿 30 歲，但他在《民法》上的行為能力卻宛如 6 歲的幼童。下列關於又嘉的敘述，何者正確？ (A)又嘉具有參選彰化縣縣長的資格 (B)又嘉可以投票，但不能出來參選公職人員 (C)又嘉須由監護人代為行使法律行為 (D)又嘉應是受輔助宣告之人
- ( ) 17. 歐美國家在選舉制度剛出現時，有許多人因為受到財產、性別或種族等限制，而沒有投票權。這些限制違反哪種選舉原則？  
(A)普通 (B)平等 (C)直接 (D)無記名
- ( ) 18. 由下圖中兩人的對話判斷，此筆交易的效力如何？  
(A)成立，因經父母同意 (B)成立，基於契約自由原則 (C)無法成立，因為小女孩無法刷卡 (D)無法成立，因為小女孩屬於無行為能力人。



- ( ) 19. 靜香與大雄從 18 歲開始交往。交往一年後，決定在明年 2023 年的 520 當天步入婚姻。關於結婚流程，下列何者的說法正確？  
(A)玟真：只要雙方父母允許，結婚就不用登記。

(B)思盈：需滿 20 歲結婚，才具有合法婚姻的效力  
(C)玉秋：結婚需要一個證人的簽名，你們可以找我喔！  
(D)香錦：恭喜結婚！記得去戶政事務所登記喔！

( ) 20. 馮佳計畫投入下一屆的總統大選，他在舉行造勢晚會時發表以下政見內容，其中哪項敘述完全**正確**？

- (A)我要提出政黨輪替的口號，爭取下次執政  
(B)雖然我因貪汙被判褫奪公權，但不影響我登記參選  
(C)各位選民必須在選舉區居住十二個月以上，才具有選舉人資格  
(D)只要能一直選得上的話，我希望能永久執政

( ) 21. 健升和同學正在討論我國選舉的特徵：

健升：「民主自由時代，每個人都可以自由參選，而沒有任何限制」。

曙根：「要攜帶身分證，親自到投票所投下神聖的一票」。

世傑：「為了以示負責，要在選票上簽名」。

為佑：「並非所有的公職人員都可以無限制的連任下去」。

請問：上述四人中，有幾人的言論是**正確**的？

- (A)4 人 (B)3 人 (C)2 人 (D)1 人。

( ) 22. 公民老師在課堂上進行測驗，請學生選出哪位候選人的年齡未達參選年齡限制而無法參選；學生應選擇下列何

甲	中華民國副總統	50 歲
乙	北斗鎮里文苑里長	24 歲
丙	新北市市議員	22 歲
丁	彰化縣田尾鄉鄉長	28 歲

- (A)甲 (B)乙 (C)丙 (D)丁

( ) 23. 關於「身分關係」與「財產關係」的比較，下表中何者**正確**？

	身分關係	財產關係
(甲)意義	身分上的權利與義務關係	財產上的權利關係，但不包含義務關係
(乙)規範	由《刑法》規範	由《民法》規範
(丙)契約	不需要訂定契約	需要訂定契約
(丁)舉例	繼承遺產	買賣房屋

- (A)甲 (B)乙 (C)丙 (D)丁

( ) 24. 立寧在網站上刷卡購買了全冊哈利波特的書籍，收到物品後卻拒絕支付信用卡帳款。廠商可要求立寧負擔何種民事責任？ (A)債務不履行的損害賠償 (B)毀損他人財物的損害賠償 (C)有期徒刑 (D)罰金。

( ) 25. 這次選戰中，有一位候選人發表政見：「……當選後，將尋求理想的行政院院長人選籌組內閣團隊，並鞏固外交邦誼……」，請就政見內容判斷，有關該候選人參選的最低年齡限制是？ (A)26 歲 (B)30 歲 (C)35 歲 (D)40 歲

( ) 26. 我國為了保護未成年人的權利，設置法定代理人的制度，依據我國民法的規定，如果未成年人的父母均不能行使、負擔其子女的權利和義務時，應設置下列何者？ (A)限制行為能力人 (B)無行為能力人 (C)債權

人 (D)監護人

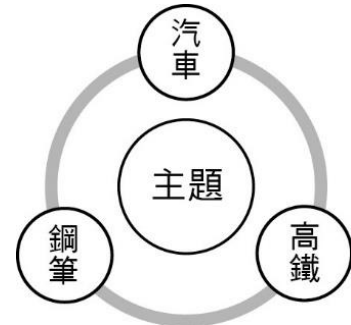
( ) 27. 今年 19 歲的光洙，成家立業後決定自行創業、成立自己的園藝設計工作室，想向銀行辦理貸款。下列相關敘述，何者**正確**？

- (A)光洙與銀行需成立身分關係 (B)光洙是和銀行訂定買賣契約 (C)光洙應取得父母同意才能辦理貸款 (D)光洙可以自行向銀行辦理貸款

( ) 28. 古代有一孝子名叫董永，因家裡貧窮沒錢辦理父親的喪事，只好以身作價向地主貸款，埋葬父親。喪事辦完後，董永便去地主家做工還錢。請問：古時候常見的賣身葬父、或因父母欠債而被簽訂契約去當長工、婢女…等這類契約在現今的效果如何？

- (A)無效，因沒有證人 (B)欠錢而賣身還債是理所當然，所以有效 (C)契約是有權力的人建立的，所以有效 (D)無效，因契約違背公序良俗

( ) 29. 下圖是泯浩繪製的公民筆記概念圖，試問請從泯浩舉的例子判斷，此概念圖應該為何種主題？



- (A)動產 (B)監護宣告 (C)不動產 (D)輔助宣告

( ) 30. 秀英 (20 歲) 向高鎮 (30 歲) 購買一戶電梯大樓，雙方以 800 萬元成交。請根據上文，下列何者敘述**正確**？ (A)高鎮有義務向秀英索取費用 (B)只要口頭約定契約就算是有效，並向行政機關書面登記 (C)和「扶養」屬同一性質的民事關係 (D)秀英須事先取得法定代理人的同意

( ) 31. 大雄、靜香、小夫、胖虎的年齡依序剛好符合縣長、立委、總統、鄉長候選人的年齡資格。若將四人的年齡由小到大排列，依序應為下列何者？ (A)靜香、胖虎、大雄、小夫 (B)胖虎、靜香、大雄、小夫 (C)大雄、胖虎、靜香、小夫 (D)小夫、大雄、靜香、胖虎

( ) 32. 公民老師上課教到《民法》的規範事項時，舉了「胖虎向小夫借腳踏車代步」為例來說明**財產與身分**的關係。請問：下列何人舉的例子與上述屬同一類別？

- (A)小明：韓星玄彬、孫藝真這一個月結婚了  
(B)阿明：夫妻離婚後，爭論小孩的監護權  
(C)大明：某企業家過世後將財產遺留給他的兒子  
(D)明明：半工半讀的表姊買了一台自己的車子

( ) 33. 請問下表中的「？」應填入下列何者？

資格	? 資格
國籍	具中華民國國籍
年齡	年滿 20 歲
居住期間	在選區設籍四個月以上
精神、心智狀態	未受監護宣告

- (A)公職人員選舉人 (B)總統副總統選舉人  
(C)無行為能力人 (D)公民投票權人

( ) 34. 美國總統大選屬於選舉人團制度，也就是人民將票投給自己喜歡的選舉人，再透過選舉人票選出適合的美國總統，這種不由人民直接投給候選人

的方式，若以我國法律來看，不符合何種選舉原則？

(A)直接原則 (B)普通原則 (C)無記名原則 (D)平等原則

- ( ) 35. 下圖是我國 2018 年公投第 11 案的內容。請問：如果志明的父母想支持要在國中及國小實施同志教育，那他們應該在此案公投票上如何作答呢？

同意	不同意
(11)	
你是否同意在國民教育階段內(國中及國小)，教育部及各級學校不應對學生實施性別平等教育法施行細則所定之同志教育？	

(A)同意 (B)不同意 (C)兩邊都蓋 (D)無法作答

- ( ) 36. 下列是一則新聞報導。從法律觀點來看，此國中生的母親可否不承認此契約？

某報導指出，日前某一車站外有一推銷員，強力推銷了一套上萬元的英文自學教材給一位 15 歲的國中生彥明，該生拒絕不了而簽下了書面訂購契約。母親發現後非常生氣，且不願意承認此契約。

(A)不可以，口頭約定契約即成立，更何況彥明已經簽了書面契約 (B)可以，因為彥明是限制行為能力人，所做的法律行為須父母事後承認，才視為「有效」 (C)不可以，因為買書屬於彥明日常生活所需的用品，所以父母無權干涉 (D)不可以，因為彥明是完全行為能力人，所為法律行為完全「有效」

- ( ) 37. 阿妹認為原住民族是弱勢族群，所以提倡選舉時每一位原住民族應該要有兩張選票，這種想法是否正確嗎？

(A)是，因為這樣才能真正保障他們 (B)是，因為這樣才是尊重原住民族 (C)錯誤，這樣違反「普通原則」 (D)錯誤，這樣違反「平等原則」

- ( ) 38. 2018 年 1 月，中華民國第 14 屆總統選戰中，由民主進步黨總統候選人蔡英文擊敗中國國民黨的對手當選總統，完成臺灣歷史上第三次的政黨輪替。依據上文判斷，這主要彰顯出選舉的哪項功能？

(A)選出公職人員 (B)影響政府決策 (C)合法轉移政權 (D)展現責任政治

- ( ) 39. 2022 六都市長選舉即將開始，以下是小明和爸爸的對話—小明：「爸，什麼是選舉啊？」爸爸：「就是依法選出公職人員。」小明：「你也去參選，我就可以當台中市市長的兒子了！」爸爸：「可是我年齡不符資格耶！」小明：「真可惜，那我只能做白日夢過癮了。」請問：小明的爸爸可能幾歲？ (A)80 歲 (B)39 歲 (C)30 歲 (D)29 歲

- ( ) 40. 下圖為某網拍公司的退貨方式，圖中所示的流程，屬於《民法》中的哪一項概念？

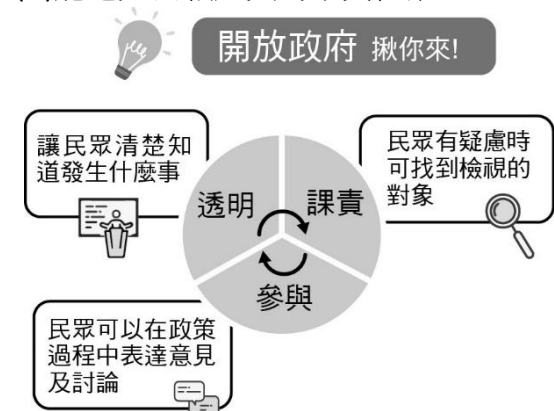


(A)損害賠償 (B)契約自由 (C)解除契約 (D)行為能力

## 二、題組：

中央選舉委員會近日舉行委員會議，會中討論通過今年地方公職人員選舉投票日期，將定於民國 111 年 11 月 26 日星期六舉行投票。地方公職人員選舉將選出包括直轄市長、直轄市議員、縣(市)長、縣(市)議員、鄉(鎮、市)長、直轄市山地原住民區長、鄉(鎮、市)民代表、直轄市山地原住民區民代表及村(里)長等 9 類地方公職人員。

- ( ) 41. 參選年齡最低限制為二十六歲，任期四年的公職人員是下列何者？ (A)縣(市)長 (B)鄉(鎮、市)長 (C)民意代表 (D)總統、副總統
- ( ) 42. 在計票的時候，不管是誰投的票，都算做同等價值的一票。以上敘述符合選舉的哪項原則？ (A)普通 (B)平等 (C)直接 (D)無記名
- ( ) 43. 距離縣市首長與議員選舉雖還有一段時日，藍綠兩黨已提前布局，民眾黨柯文哲受表示，對於這次的議員選舉他們絕對會協調好後動員參選到底。根據劃底線判斷，參選議員屬於哪種政治參與的方式？ (A)關心時事與討論政治 (B)參加利益團體影響政策實行 (C)參與選舉擔任政府官員 (D)透過媒體投書表達意見
- ( ) 44. 下列為今年年底選舉前兩位首投族的對話：  
甲：今年是我第一次有選舉權耶！要選的地方公職人員還真多！  
乙：是啊~我們還需要選出「區長」與「區民代表」，和其他地區非常不同。  
請問由此可判斷這兩人的選舉區最有可能在哪一縣市？ (A)彰化縣 (B)彰化市 (C)新北市 (D)新竹縣
- ( ) 45. 近年來「開放政府」的理念開始流行，我國國家發展委員會以下圖表達「開放政府」的理念。從圖中可以知道，「開放政府」的理念有什麼特點？ (A)能使公投制度更加公平公正 (B)能使選舉與被選舉權更普及 (C)能增加人民政治參與的機會 (D)能避免公職人員的素質低落



【共 45 題，寫完請再檢查一次答案卡的劃卡內容】