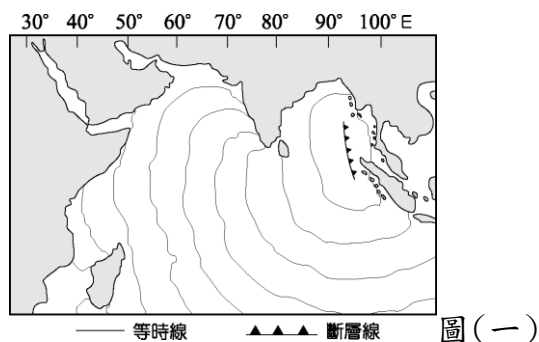


彰化縣田尾國中 110 學年度第二學期第二次段考地理科八年級試題卷

一、選擇題:每題 2 分,共 50 題

- 1、() 東南亞位於亞洲的東南端,其地理位置正位於下列哪兩個海洋的必經之地? (A)太平洋、大西洋 (B)太平洋、印度洋 (C)大西洋、地中海 (D)印度洋、大西洋
- 2、() 位於環太平洋火山地震帶上的國家,不包括下列何者? (A)菲律賓 (B)日本 (C)泰國 (D)印尼
- 3、() 中南半島與中國一脈相連,地勢北高南低,山川大致呈南北走向且相間排列。根據上述推測,中南半島的地形是由中國哪個地理區向南延伸而來的? (A)青藏高原 (B)橫斷山脈 (C)雲貴高原 (D)嶺南丘陵
- 4、() 根據統計,印尼的海岸線長度排名世界第二位,比俄羅斯還長,其原因最可能為下列何者? (A)峽灣海岸曲折 (B)島嶼數量眾多 (C)國土面積較大 (D)所處緯度較低
- 5、() 東南亞的大都市,如雅加達、曼谷、胡志明市、新加坡等,大都是由於何種因素而發展起來的? (A)交通方便 (B)礦藏豐富 (C)宗教聖地 (D)氣候涼爽

※2004 年印尼蘇門答臘西北海域於當地時間 12 月 26 日上午 7:58 發生芮氏規模 9 級的地震,隨後引發強烈海嘯,海嘯影響範圍波及南亞,甚至到達 7,000 公里外的非洲,部分地區也造成嚴重的傷亡。臺灣基於人道精神,與其他地區國家一樣加入搶救和賑災行列。圖(一)為海嘯前進的等時線圖。請回答 6~9 題:



- 6、() 根據圖(一)中地震震源的斷層線分布位置判斷,該地震所引起的海嘯主要發生在下列哪一個海洋? (A)太平洋 (B)大西洋 (C)印度洋 (D)地中海
- 7、() 印尼蘇門答臘西側海域發生大海嘯的主因為何? (A)全球氣候變遷 (B)板塊相互擠壓碰撞 (C)隕石撞擊地球表面 (D)颱風劇烈的氣流變化
- 8、() 地震發生後所引發的海嘯,由震源依序向外影響周遭地區。根據圖(一)中等時線的分布判斷,下列哪一個國家受到海嘯侵襲的時間最快,可能因來不及疏散民眾,而造成嚴重的損失? (A)沙烏地阿拉伯 (B)越南 (C)斯里蘭卡 (D)日本

班 號姓名

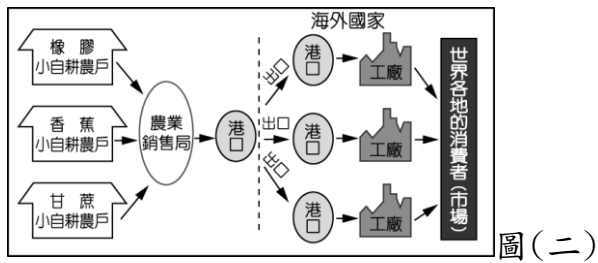
- 9、() 若政府要送泡麵到印尼,下列哪種泡麵無法被當地人接受? (A)蔥燒牛肉麵 (B)東坡豬肉麵 (C)當歸鴨麵線 (D)鮮蝦麵
- 10、() 在中國清代時有許多居住在東南沿海的華人移民至東南亞地區,因此今日該區的華僑最多。當時移居東南亞的華人通常在哪一個季節出航,可以利用季節風向前往東南亞地區? (A)春季 (B)夏季 (C)秋季 (D)冬季
- 11、() 表(一)為四個地區的年降水量及氣溫資料表,哪一地區較可能是熱帶季風氣候? (A)甲 (B)乙 (C)丙 (D)丁

| 地區 | 年降水量 (mm) | 一月月均溫 (°C) | 七月月均溫 (°C) |
|----|--------------|---------------|---------------|
| 甲 | 19 | -8.1 | 33.2 |
| 乙 | 483 | 19.2 | 25.4 |
| 丙 | 1,223 | 3.5 | 28.8 |
| 丁 | 2,290 | 20.4 | 28.0 |

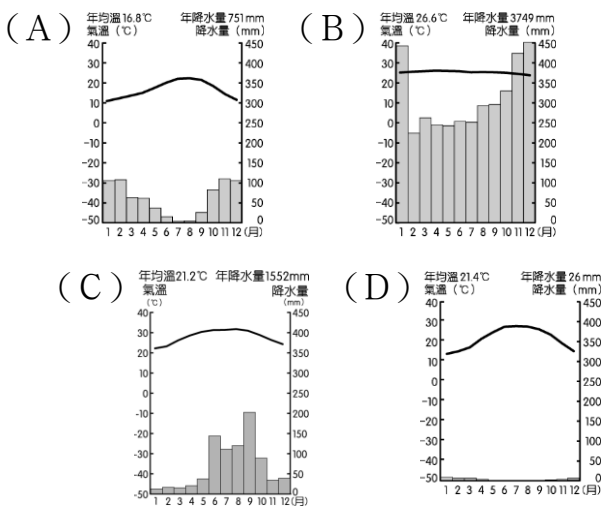
▲表(一)

- 12、() 臺灣的王先生為了照顧年邁的奶奶,申請了一位來自菲律賓北部的外籍看護。該名外籍看護受到宗教信仰的影響,在假日時應會前往下列何處參加宗教聚會? (A)天主教教堂 (B)佛教寺廟 (C)清真寺 (D)印度教寺廟
- 13、() 承上題,菲律賓北部的這種宗教信仰,主要是受到下列哪一個國家殖民的影響? (A)英國 (B)法國 (C)西班牙 (D)日本
- 14、() 「新加坡的面積雖然不大,但因具有某項優越的條件,加上政府的政策,成功讓新加坡的煉油產業快速發展,現已成為世界第三大煉油中心。」文中所述的優越條件應是指下列何者? (A)為主要石油生產國 (B)人口多且勞力充足 (C)地理位置佳且海運便利 (D)國內重工業市場需求大
- 15、() 馬來西亞等國的現代化工業發展主要是利用該地區充足的勞力資源,吸引外國哪些工業條件的投入? (A)原料、動力 (B)交通、市場 (C)資金、技術 (D)政策、動力
- 16、() 熱帶栽培業因為下列哪些因素影響,市場風險性較大? (甲)單一作物生產 (乙)產品出口為主 (丙)溼熱地區栽種 (丁)需要大量勞力 (A)甲乙 (B)甲丙 (C)乙丁 (D)丙丁
- 17、() 小亭參加馬來西亞五日遊,下列有關這趟旅遊的行程說明,何者有誤? (A)參觀當地的熱帶栽培業採收過程 (B)前往當地煉油廠參觀 (C)到當地盛行的佛教寺廟祈福 (D)藍色清真寺為著名景點

- 18、()立威到東南亞某個國家旅遊，發現各種建築物及慶典節日都和佛教關係密切。請問：立威最可能是到下列哪一個國家？(A)印尼 (B)菲律賓 (C)泰國 (D)馬來西亞
- 19、()東南亞自古深受中國和印度兩大文明古國的影響，近世又受西方國家的殖民，居民和文化呈現過渡性和多樣性。同時，本區除了帶有濃厚的殖民地式經濟色彩外，農業也呈多樣性。東南亞受這兩大文明古國影響的主要原因是什麼？(A)氣候相似 (B)位置接近 (C)海運便利 (D)半島與島嶼分布廣大
- 20、()圖(二)為熱帶栽培業活動的主要流程，依圖中資料判斷，其主要呈現出何種產業特色？(A)大規模生產 (B)產品以外銷為主 (C)機械化生產 (D)投入大量資金



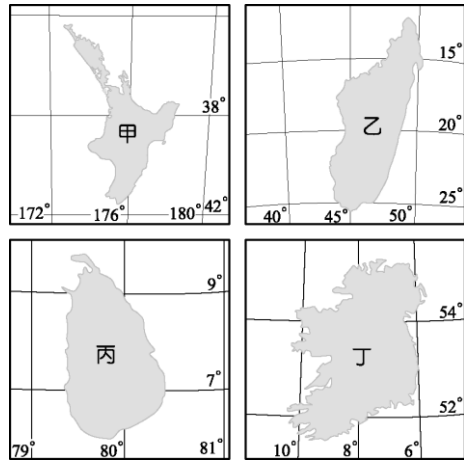
- 21、()一艘貨輪正在馬來西亞的吉隆坡港裝船準備外運，下列哪些作物最可能是裝船的貨物？(A)石油、棉花、黃麻 (B)稻米、橡膠、油棕 (C)煤、鐵、黃金 (D)小麥、小米、棉花
- 22、()第一級產業活動的發展受到氣候環境的影響最為直接。下列哪一種氣候類型最適合熱帶栽培業的發展？



- 23、()圖(三)為東南亞地區的傳統建築，此種建築不僅可以通風、防潮，下層還可以圈養家畜。此種建築景觀反映出當地的哪項地理特性？(A)氣候高溫多雨 (B)地震發生頻繁 (C)文化多元化 (D)交通位置優越

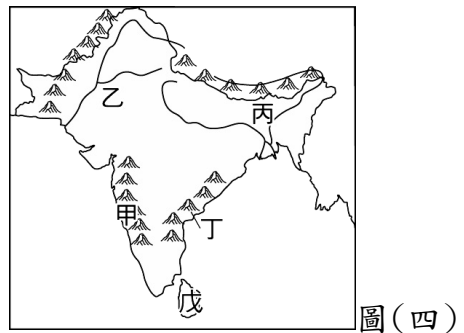


- 24、()最初東南亞各國為了抵禦共產勢力入侵，因而組成東南亞國協。隨著 90 年代後，以蘇聯為首的共產勢力崩潰，東南亞國協的會員國便開始轉為經濟上的合作。下列哪個國家為東南亞國協的會員國？(A)東帝汶(B)印尼(C)尼泊爾(D)印度
- 25、()斯里蘭卡位於熱帶氣候區內，而受到經度位置的影響，時間較臺灣晚 3 個小時。請根據上文資料判斷，下列哪一個島嶼最可能是斯里蘭卡？(A)甲 (B)乙 (C)丙 (D)丁



- 26、()馬爾地夫被稱為「散落大洋中的珍珠」，近年來積極發展觀光業，雖然遊客數大幅成長了 50%。氣候是當地旅遊旺季與淡季的主要影響條件，如每年 10 月後是旅遊旺季，吸引許多歐洲人到此度假，飯店房間就一位難求。請問，馬爾地夫吸引了來自世界各地的遊客，雖然帶來了豐富的收入，卻也造成了生態問題。如當地由於下列何種因素影響故降水不足，影響飯店的經營？(A)副熱帶高氣壓籠罩 (B)位於盛行風背風坡 (C)地勢低不易攔截水氣 (D)山高陡坡水流湍急入海
- 27、()南亞印度半島有「次大陸」之稱，其地形結構的分布，從南到北依序應該是下列何者？(A)高原→平原→山地 (B)山地→平原→高原 (C)高原→山地→平原 (D)山地→高原→平原

※圖(四)為印度半島的簡圖。請回答 28~31 題：



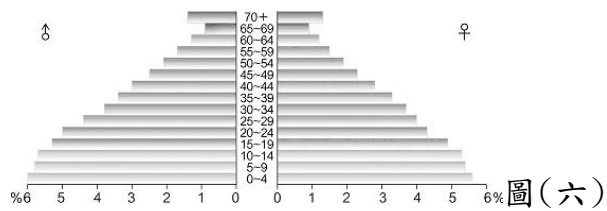
- 28、()圖中哪個地點是該區降水最豐沛的地方？(A)甲 (B)乙 (C)丙 (D)丁
- 29、()若想了解沙漠的生態，可到圖中何處是最佳探索地點？(A)甲 (B)乙 (C)丙 (D)戊
- 30、()承上題，這個沙漠的形成原因為何？(A)副熱帶高壓沉降 (B)涼流流經 (C)距海遙遠 (D)位於季風背風側
- 31、()小新想到恆河畔的「瓦拉那西」進行修練，圖中哪個區域是小新正確的選擇？(A)乙 (B)丙 (C)丁 (D)戊

- 32、()圖(五)為印度洋上的一個小島，已知該島南部有座高山，此區夏季盛行西南風，若某紅茶廠商想到此地尋找適合的地點栽種茶樹，發展茶園，則該茶商應選擇圖中的何處？(A)甲 (B)乙 (C)丙 (D)丁



圖(五)

- 33、()印度半島的冬、夏兩季的季風風向，應各為下列哪個方向？(A)東北，西南 (B)東南，西北 (C)西南，東北 (D)西北，東南
- 34、()圖(六)是印度人口金字塔圖，圖中的人口結構足以反映出哪項問題？(A)失業率提高 (B)經濟負擔沉重 (C)老人福利支出高 (D)幼兒比例偏低



圖(六)

※近年來汽車市場上的消費版圖出現劇烈變化，在中國躍升為全球最大汽車市場後，各汽車公司正期待印度將會是下一個金礦。為此臺灣經濟部帶領國內汽車業者前往印度了解當地汽車產業投資環境，除了參觀TatA等印度本土車廠外，亦到印度高科技產業重心，了解車內電子設備的整合狀況。請回答35~37題：

- 35、()中國及印度的汽車市場潛力大，被稱為中國龍、印度虎，其主要因素為何？(A)平均所得高 (B)人口數量多 (C)石油價格低 (D)進口零關稅
- 36、()經濟部帶領國內汽車業者前往印度高科技產業重心參觀，該城市應位於圖(七)中哪一地區？(A)甲 (B)乙 (C)丙 (D)丁



圖(七)

- 37、()若利用海運由印度進口汽車到臺灣高雄港，需經過的海域不包括下列何者？(A)印度洋 (B)麻六甲海峽 (C)大西洋 (D)南海
- 38、()「平價快時尚」服飾當道，替廠商在世界各地創下亮麗的業績，卻不知道在背後是一段辛酸血淚史。如許多知名品牌代工的成衣重鎮孟加拉，在

不斷控管成本的要求下，各種工安意外頻傳，屢次造成慘重傷亡。加拿大記者在2013年7月前往孟加拉首都達卡採訪，並潛入當地一家成衣廠進行臥底採訪時，發現一群慘遭剝削的童工，甚至1名9歲女童被指派為該名記者的主管。請問，該名加拿大記者前往採訪的地點應位於圖(七)中何處？(A)甲 (B)乙 (C)丙 (D)丁

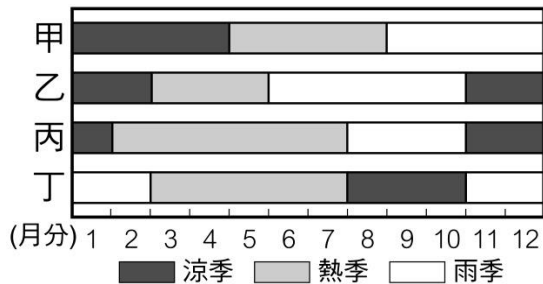
※請依據短文內容，並回答39~42題：

自2000年代開始，印度由於經濟上的亮眼表現，引發各界對這個南亞國度的好奇與關注。除了龐大的內需市場、成長中的中產階級、成為跨國企業布局的重要據點等特色外，印度寶萊塢日益精進的電影產業，不僅滿足消費者對娛樂的需求，也將印度電影推上國際影展的藝術殿堂，並讓人們藉由銀幕，認識印度的文化特色與生活。例如：勇奪2001年威尼斯影展金獅獎的電影雨季婚禮(Monsoon Wedding)，透過鏡頭，反映出印度的氣候與文化特色，其電影產業的成熟，不禁令人期待，這個曾被殖民，主導「不結盟運動」而未在冷戰世局中於兩大強權間選邊站的國度，未來會煥發何種光彩。

(參考資料：改寫自雨季婚禮：平行的危機，藍色電影夢，2007/04/25：Rukminee Guha Thakurta，Monsoon Wedding: This Is India!，Learn Religions，2016/03/30)

- 39、()在電影雨季婚禮中，即將結婚的女主角的親友，從世界各地趕回來參加她的喜宴。根據你對印度氣候的了解，劇中的婚禮，可能在哪個月舉行？(A)12月 (B)9月 (C)2月 (D)4月
- 40、()印度的氣候類型在一年當中可分成涼季、熱季、雨季三季，主要有下列哪些原因？(甲)季風轉換(乙)高山屏障(丙)深居內陸(丁)洋流流經 (A)甲、乙 (B)乙、丙 (C)甲、丁 (D)丙、丁
- 41、()印度冬季時氣候不寒冷，為一年中最佳的觀光時節。請問：造成印度冬季氣候狀況的最主要原因為何？(A)面積廣大因此冷空氣難以進入，故氣溫較高 (B)北部山脈高大，阻擋東北季風入內，氣候不冷且舒適 (C)海上熱帶氣旋夾帶水氣進入，減緩冷氣團的強度 (D)植物分布茂密，可涵養水源，減緩溫差變化
- 42、()依我國法律而言，電影中的新婚夫妻，若要使其婚姻為合法，須符合怎樣的要件？(A)由婚姻當事人至法院聲請公證 (B)由監護人見證下彼此交換信物 (C)需有公開儀式及二人以上之證人在場 (D)有兩位證人的簽名，並由婚姻當事人向戶政機關登記
- 43、()南亞恆河平原和中國鄱陽盆地的緯度相近，但一月的月均溫，恆河平原卻比鄱陽盆地高10°C左右。形成上述差異的原因，主要是因為恆河平原具備下列何項特性所致？(A)境內湖泊眾多 (B)太陽輻射較強 (C)午後多對流雨 (D)北有高山屏障

- 44、()孟加拉與印度阿薩姆邦均位於恆河下游附近，兩區的降雨量皆相當豐沛，但農作物卻不同，孟加拉以黃麻為主，阿薩姆邦則以茶葉為主。造成兩地作物差異的主要原因為何？(A)政策 (B)地形 (C)氣溫 (D)勞力
- 45、()南亞的印度與巴基斯坦因為下列哪一個地區的領土主權紛爭而產生戰端？(A)斯里蘭卡 (B)喀什米爾 (C)孟加拉灣 (D)塔爾沙漠
- 46、()「在全球化的趨勢下，我知道有很多工作會被他國的便宜勞工給搶走，但從來沒想過連電腦工程師也會被外包……面對外籍勞工的競爭，我不知道自己的工作還可以持續多久。」以上是美國某工程師的日記內容，文中提到的外籍勞工最可能來自於哪個國家？(A)印度(B)日本(C)法國(D)澳洲
- 47、()印度自古實行種姓制度，社會階級嚴明，目前雖已廢除，但社會仍受其影響，衍生出下列何種問題？(A)人口老化嚴重 (B)缺乏節育觀念 (C)區域內戰不斷 (D)貧富差距過大
- 48、()圖中何者最可代表印度半島的三大季節月份的分布情形？(A)甲 (B)乙 (C)丙 (D)丁



- 49、()南亞的宗教色彩相當明顯，而各國家之間的國際關係也受到宗教的影響。下列為南亞各主要國家的宗教信仰人口比例(%)，表(二)中甲國應該是下列哪一個國家？(A)巴基斯坦 (B)印度 (C)斯里蘭卡 (D)孟加拉

| 國家 | 印度教 | 伊斯蘭教 | 佛教 | 基督教 | 其他 |
|----|-----|------|----|-----|----|
| 甲 | 80 | 11 | 1 | 2 | 6 |
| 乙 | 2 | 95 | — | 2 | 1 |
| 丙 | 12 | 87 | — | — | 1 |
| 丁 | — | 8 | 70 | 8 | 14 |

▲表(二)

- 50、()熱帶季風氣候區是東南亞主要的水稻產地，提供大量的糧食所需。請問：該地區發展水稻農業的有利條件中不包括下列何者？(A)冬夏季節風向相反 (B)河川沖積肥沃平原 (C)氣候溫暖生長季長 (D)降水量多灌溉充足

答案：

1、BCBBA CBCBD

11、DACCC ACCBB

21、BBABC CACBA

31、BDABB DCABA

41、BDDBB ADBBA