


# 彰化縣立田尾國民中學 110 學年度第二學期七年級第二次段考歷史科試題


年 班 座號： 姓名：

## 一、單一選擇題（每題 2 分，共 80 分）

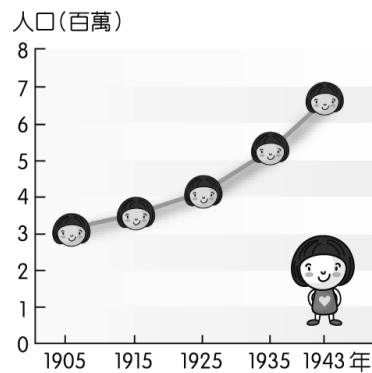
- 1.( ) 附圖為心儀找到爺爺中學時代站在學校門口繪製的人物像，從圖中的學校看來，當時爺爺就讀的中學有何特色？



- (A) 是由日籍知識分子爭取而成立 (B) 為了推動皇民化運動所設的學校 (C) 為了教化原住民所設的國語講習所 (D) 第一所專收臺人子弟的中學。
- 2.( ) 日本治臺時期，新知識分子推動政治社會運動不遺餘力，除了與日本殖民政府作抗爭外，也著重在啟迪民智、喚醒民族意識，以文化活動來達成文化教育的目標。請問以上是以哪一機構來推動的？(A) 臺北天然足會 (B) 臺灣議會 (C) 臺灣總督府 (D) 臺灣文化協會。
- 3.( ) 附圖為日本治臺時期臺灣某一社會運動團體所發行的報紙，其創辦宗旨為何？



- (A) 加強日本殖民統治 (B) 提升臺人知識水準 (C) 鼓吹武裝抗日行動 (D) 宣揚日本同化措施。
- 4.( ) 日本治臺時期，臺灣人曾追求政治民主與地方自治，當時哪些人曾積極推動民主運動？(甲) 蔣渭水；(乙) 余清芳；(丙) 林獻堂；(丁) 莫那魯道 (A) 甲乙 (B) 甲丙 (C) 乙丙 (D) 丙丁。
- 5.( ) 某位記者報導米荒現象：「臺灣上年產米量是 6,200 萬石，現在人口 670 萬，最多消費也不會超過 6,000 萬石。因此，米糧生產不虞匱乏。主要是因為有人走私轉賣，導致米價在半個月間，由每斤 12~14 元暴漲至 30 元。」請問：這樣的情形可能發生在哪一事件後？(A) 甲午戰爭爆發 (B) 1937 年中日戰爭爆發 (C) 第一次世界大戰爆發 (D) 第二次世界大戰結束。
- 6.( ) 日治時期，臺灣流傳著「第一愁，種甘蔗乎會社磅；第二愁，吃菸吹風；第三愁，選舉運動」的俗諺，其中「吃菸吹風」是指吸食鴉片。請問日治時期臺灣總督府如何處理鴉片問題？(A) 鴉片有害身心，全面禁止販售 (B) 將鴉片列為專賣，吸食者需有許可證才可購買 (C) 百姓可以自由買賣鴉片 (D) 只准許鴉片作為醫療用途
- 7.( ) 附圖是日本治臺時期臺灣人口成長圖，此時期臺灣人口逐漸成長的主要因素為何？



- (A) 現代化防疫與衛生觀念建立 (B) 鼓勵日本人大量遷居臺灣 (C) 中國東南沿海的移民增加 (D) 葡、西等國到臺灣進行貿易活動。
- 8.( ) 臺灣民主的演進歷程中，開放中央民意代表選舉、進行修憲工作及首次總統直選等民主成就，皆完成於同一任的總統任內。這位總統為下列何人？(A) 蔣經國 (B) 李登輝 (C) 陳水扁 (D) 馬英九
- 9.( ) 下列有關 1945 至 1949 年間臺灣社會狀況的敘述，何者正確？(A) 兩岸發展相似，政府接收臺灣沒有阻力，一切平和發展 (B) 在政治、經濟的失策下，政府接收臺灣之後，造成「二二八事件」(C) 政府接收臺灣之後，臺人與大陸來臺接收人員彼此間無文化差異 (D) 負責接收臺灣的官員嚴守紀律，博得民眾好評。
- 10.( ) 「第二次世界大戰結束，當臺灣人視國府軍政人員為解放者，而竭誠歡迎時，卻換來比日治時期更惡劣的『被征服者』待遇，遂造成大規模的族群衝突。」請問關於此衝突的敘述，何者正確？(A) 當時臺灣主政者為陳儀 (B) 實施開放經濟政策 (C) 殘存的日人勢力煽動所引發 (D) 政府進入動員戡亂時期。
- 11.( ) 1947 年，國民政府明令動員戡亂，適用於全國。當時宣布動員戡亂的原因為何？(A) 國共內戰情勢緊張 (B) 臺灣發生二二八事件 (C) 為了凝聚國人向心力 (D) 1937 年中日戰爭。
- 12.( ) 下列哪些政府的作法，會影響到原住民在身分認同、語言文化、傳統土地權等方面，遭到衝擊或喪失？(甲) 政府要求原住民以「漢名」登記戶籍；(乙) 政府透過學校教育，推行說國語運動；(丙) 政府劃設山林保護區或設立國家公園；(丁) 政府同意原住民的訴求，給予其「正名」，制定並通過法律保障其人權 (A) 甲乙丁 (B) 乙丙丁 (C) 甲乙丙 (D) 甲丙丁
- 13.( ) 附圖為 1979 年 12 月 10 日，於高雄所舉行的「世界人權日紀念大會」現場狀況，這起事件引發國際社會的關注，也促使臺灣一般民眾開始關注政治。請問：此事件應為下列何者？



- (A) 雷震事件 (B) 白色恐怖 (C) 美麗島事件 (D) 二二八事件。


- 14.( ) 1920 年代展開的台灣議會設置請願運動與以下哪件事情的關係最為密切？ (A) 全球性民族自決風潮 (B) 台灣民主國的抵抗接收 (C) 總督府的皇民化 (D) 第一次世界大戰爆發
- 15.( ) 嘉義市圓環附近豎立著一尊雕像，這是 1931 年代表台灣參加日本甲子園棒球比賽的嘉義農林學校當家投手吳明捷，也是電影《KANO》的主角。請問：嘉義農林學校在日本治臺時期，屬於哪一種類型的教育制度？ (A) 初等教育 (B) 中等教育 (C) 高等教育 (D) 一般教育。
- 16.( ) 臺灣社會曾在某一時期流傳「五天五地」的嘲諷說法，講述當時的時代背景，提及盟軍轟炸，民眾歡迎政府到來，部分官員軍警貪汙收賄，物資短缺、物價高漲。文中所提到的「某一時期」指的是下列何者？ (A) 日本接收臺灣初期 (B) 日本皇民化時期 (C) 臺灣光復初期 (D) 戒嚴時期
- 17.( ) 臺灣第一個合法組成的政黨組織以「確立民本政治、建設合理的經濟組織、革除社會制度的缺陷」為黨綱，致力宣傳民權、自治觀念，以「反對鴉片新特許運動」最為轟動。請問：此一組織為何？ (A) 臺灣民主黨 (B) 臺灣文化協會 (C) 臺灣地方自治聯盟 (D) 臺灣民眾黨。
- 18.( ) 附表為日本治臺時期臺灣學齡兒童就讀公學校的比率表。日治後期，臺籍學童的就學率大增是跟政府的哪一項政策有密切相關？

西元	臺灣人	在臺日人
1904 年	3.8%	67.7%
1909 年	5.5%	90.9%
1914 年	9.1%	94.1%
1917 年	13.1%	95.1%
1920 年	25.1%	98.0%
1925 年	29.5%	98.3%
1930 年	33.1%	98.8%
1935 年	41.5%	99.3%
1940 年	57.6%	99.5%
1943 年	71.3%	99.6%

- (A) 理蕃政策成功 (B) 內地延長主義 (C) 皇民化運動 (D) 同化政策。
- 19.( ) 湘婷整理日本治臺時期的政治社會運動資料如附表，她發現不管是哪一個組織與活動大約都在 1930 年代時結束。請問：這些社會運動的沉寂最有可能是下列哪一個原因？

項目	起	迄
臺灣議會設置請願運動	1921 年	1934 年
臺灣文化協會	1921 年	1931 年
臺灣民眾黨	1927 年	1931 年
臺灣地方自治聯盟	1930 年	1937 年

- (A) 中日戰爭開打 (B) 日臺合一政策的成功 (C) 社會風俗的演變 (D) 「工業日本，農業臺灣」政策的推行
- 20.( ) 小美在《戰後臺灣史》中看到如附圖的漫畫，她閱讀完內容後，整理出造成漫畫中情況的背景應該為何？



- (A) 對日抗戰期間經濟破產，導致通貨膨脹嚴重 (B) 中共政權統治下，米糧價格不斷飆高 (C) 日治後期實施管制經濟，導致黑市價格狂飆 (D) 行政長官公署大量徵收與搜刮米糧。
- 21.( ) 1990 年 3 月臺灣大專生發起一次運動，並且決議本次運動的代表物為野百合，取其為臺灣固有種，又有堅毅不拔的草根性。請問：這個運動的訴求應為下列何者？ (A) 為二二八事件平反 (B) 要求解嚴 (C) 廢除黨禁報禁 (D) 廢除《動員戡亂時期臨時條款》。
- 22.( ) 西元 1915 年有一則新聞：「最近一段時間市內帽子店、裁縫店生意興隆，顧客紛至沓來消費購買……裁縫店更是日夜加班趕工，訂單不斷。」這是因實行哪項措施的結果？ (A) 南進政策 (B) 鴉片漸禁政策 (C) 皇民化運動 (D) 放足斷髮
- 23.( ) 民國 60 年時，王叔叔已是一位有投票權的有為青年，當時王叔叔可用自己神聖的一票選出哪位首長？ (A) 桃園縣縣長 (B) 臺灣行政長官 (C) 中華民國總統 (D) 臺灣省省長
- 24.( ) 1921 年臺灣文化協會成立，林獻堂、蔣渭水等人，試圖透過各種手段，讓臺灣人民在日本殖民統治下，受到應有尊重與權利，並提升文化水準。請問：此時正為日本治臺的哪個時期？ (A) 殖民地特殊統治時期，以寬猛互用的方式，籠絡臺胞，消弭反抗 (B) 武力鎮壓時期，以軍隊強力鎮壓各地的武裝抗日活動 (C) 內地延長主義時期，日本為進一步籠絡臺人，標榜「日臺合一」 (D) 皇民化運動時期，要求臺人完全日本化，做真正的日本人。
- 25.( ) 民國 36 年以降，中華民國已有一部具備民主形式的《憲法》。然而長期以來，不少條文卻遭凍結，使民主徒具形式。當時政府以什麼理由，「暫時限制」民主政治的發展？ (A) 國共內戰轉趨激烈，政府須「動員戡亂」 (B) 我國宣布退出聯合國 (C) 臺灣人的教育水準仍有發展空間 (D) 臺灣人受日本影響太深
- 26.( ) 日本治臺時期，家住臺南的涼子，有天到臺北找她的好友雪子，雪子盡地主之誼，招待她到處去參訪。請問：下列何者不在她們的參訪名單中？ (A) 臺北新公園 (B) 林百貨 (C) 菊元商行 (D) 波麗路餐廳。
- 27.( ) 附表為臺灣歷史上三個社會運動的簡易比較表，表中代號何者為「二二八事件」？ (A) 甲 (B) 乙 (C) 丙 (D) 丁

名稱	(甲)	(乙)	(丙)
主因	省籍衝突因某事件爆發	期望殖民地地方自治	不滿(丁)現象
經過	群眾抗爭蔓延全臺，後被鎮壓	參與者不懼壓力，發出多次請願	大量學生聚集，提出改革訴求
結果	許多民眾與知識分子的傷亡	政府於形式上開放民選議員	促使政府修法

- 28.( ) 關於日治時期斷髮、放足的普及，下列相關敘述，何者錯誤？ (A) 日人將吸食鴉片、辮髮、纏足視為「三大陋習」 (B) 透過各社頭目在地方上推動放足斷髮 (C) 女子放足後，有助於臺灣經濟發展 (D) 斷髮帶動民眾易服改裝的風氣。

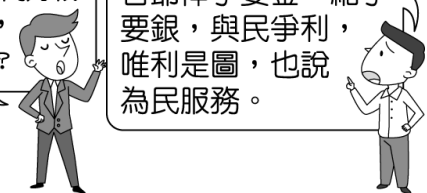
- 29.( ) 日本在臺灣的建設雖以殖民經濟為考量，但日治時期的各項社會經濟發展，卻奠定了臺灣現代化基礎。請問：下列何者是日治時期社會經濟發展的現象？(A)辦理「公學校」等基礎教育，以學習日語為主要課程 (B)以嚴禁政策，全面禁止纏足、辮髮、吸鴉片 (C)公共醫療不足，衛生不佳，臺灣死亡率仍高 (D)後藤新平建造嘉南大圳，灌溉嘉南平原。
- 30.( ) 資料一：「戰後臺灣真吃虧，餓死同胞一大堆，物價一日一日貴，阿山（大陸人）一日一日肥。」資料二：「在那一個時代，校園裡沒有人敢公開批評時政，只有私下竊語，但這有些危險，因為有人會向學校行政當局或是黨部檢舉。」其上述資料的解讀，下列何者錯誤？(A)資料一是臺灣戰後初期 (B)資料一比資料二時間早 (C)資料二是解嚴時期 (D)資料二約是在 1950、1960 年代。
- 31.( ) 電影《返校》演出 1960 年代的翠華中學，一群不願服從威權體制的左派份子受到政府懲治的故事，呈現白色恐怖時期校園中人人自危的壓抑。請問當時政府可以限制人民言論、行動自由，主要是哪一個法律的頒布？(A)《戒嚴令》(B)《動員戡亂時期臨時條款》(C)《中華民國憲法》(D)《刑法》
- 32.( ) 附表為日治時期臺灣文化協會四年間舉辦文化演講會的統計表格。四位同學關於表格數據的看法，何者較符合歷史事實？
- | 年分   | 演講次數 | 聽眾人數    | 被警察中止次數 |
|------|------|---------|---------|
| 1923 | 36   | 21,086  | 19      |
| 1924 | 132  | 44,050  | 36      |
| 1925 | 315  | 117,880 | 64      |
| 1926 | 315  | 112,965 | 157     |
- (A)魯夫：日本殖民政府也大力支持這些演講 (B)喬巴：這些演講的主要目標是喚醒臺灣民眾的抗日精神 (C)娜美：聽眾人數提升，代表演講對臺灣社會文化啟蒙有所影響 (D)索隆：這些演講都是臺灣文化協會與台灣地方自治聯盟合辦的文化啟蒙活動
- 33.( ) 關於台灣民主化的歷程，下列何者正確？(甲)民主進步黨是台灣第一個合法政黨；(乙)第一位由人民直選產生的總統是李登輝；(丙)台灣的地方議員最早在 1935 年開放選舉；(丁)在蔣經國總統任內，完成中央民意代表的全面改選；(戊)完成首次政黨輪次的總統是陳水扁 (A)乙丙戊 (B)甲乙丁 (C)甲丙丁 (D)甲丁戊
- 34.( ) 2014 年上映的臺灣電影《大稻埕》，有一位劇中人物被尊稱為「臺灣的孫中山」，他成立臺灣歷史上第一個合法政黨，提倡自由民權、破除社會惡習和迷信、反對吸食鴉片等，這位歷史人物為下列何人？(A)賴和 (B)林獻堂 (C)蔣渭水 (D)陳儀
- 35.( ) 1920 年代起，臺灣的社會開始推動各種政治、社會與文化運動，爭取臺灣人的平等待遇，主要與下列哪一項因素有關？(A)臺人的武裝抗日活動使日本人屈服 (B)受到民族自決思潮的影響，留學生也受這種思潮鼓舞開始推動 (C)外國勢力提供資金推動臺灣的社會運動 (D)總督府為了爭取臺灣人投入人力物力，參與大東亞戰爭
- 36.( ) 日治時期民眾開始有休閒娛樂的需求，政府也開始設置許多休閒活動場所，與下列哪一個制度實施有

關係？(A)星期制度 (B)司法制度 (C)專賣制度 (D)保甲制度

- 37.( ) 日本統治時期，臺灣總督因得到日本政府的特許，集權於一身，形成如皇帝般的獨裁。1920 年代起，臺灣有志之士發起「臺灣議會設置請願運動」，企圖爭取何種權力？(A)行政權 (B)立法權 (C)司法權 (D)軍事權。
- 38.( ) 引述 1950 年代後期某篇文章內容：「我們確信，只有真正民主政治，才能結束這一禍亂相尋的局面，而導致國家社會長治久安之途。新的在野黨之組織，不過是祇求這一目標之實現而已。也許有的人士說，現在正值『非常時期』，不宜另結『新黨』，以免『分散力量』。關於這個問題，我們想請問：『非常時期』已經過了十幾年，究竟什麼時候終了？我們是否要一輩子『非常時期』下去？在『非常時期』名義之下，是否應該把一切凍結下去？」請問：此刊物的發表，導致下列何事的發生？(A)野百合學運 (B)雷震事件 (C)美麗島事件 (D)二二八事件。
- 39.( ) 1980 年 3 月，在一個政治案件的審判法庭上，有如下的對答：法官：「當初你們五人（按：黃信介、施明德、姚嘉文、張俊宏、許信良）一起討論要辦雜誌嗎？」施：「辦雜誌是其中一項。」法官：「目的是什麼？」施：「我們辦雜誌目的是要政府改善人民生活狀況及民主政治等問題，其中包括黨禁、報禁、戒嚴令及『萬年國會』。」請問：對談中所指的雜誌為何？(A)《自由中國》(B)《臺灣日日新報》(C)《臺灣民報》(D)《美麗島》
- 40.( ) 1946 年臺灣社會上出現了附圖兩種不同的聲音，請問圖中提及「走了狗來了豬」，其中的「豬」是指哪一統治機構？(A)臺灣省行政長官公署 (B)臺灣巡撫衙門 (C)臺灣總督府 (D)臺灣省政府

你們這些亡國奴，如果沒有我們八年抗戰打敗日本鬼子，哪來臺灣光復？

走了狗來了豬，那些官爺伸手要金，縮手要銀，與民爭利，唯利是圖，也說為民服務。



## 二、題組（每格 2 分，共 20 分）

(一)日本治臺時期，臺灣的教育制度已經有了初步的組織與規模，學校教育也很發達。請問：

- 41.當時總督府對臺的教育政策是採取下列哪一原則？(A)南進政策 (B)民族自決 (C)工業日本，農業臺灣 (D)差別待遇，隔離政策。
- 42.日本治臺初期的在臺日人欲接受初等教育，必須到哪個學校去就讀？(A)公學校 (B)小學校 (C)蕃童教育所 (D)社學。
- 43.因為總督府教育政策的限制，使得當時臺人不易接受高等教育，紛紛選擇至國外留學，其中以留學哪個國家的總數最多？(A)中國 (B)英國 (C)日本 (D)美國。


(二)附圖是 1949 年臺灣政府發布的一份重要法令，請問：

- 44.附圖的這份法令，是為下列何者？(A)《解嚴令》(B)《戒嚴令》(C)《中華民國憲法》(D)《動員戡亂時期臨時條款》

45.發布此一法令是為了防制下列哪一對象？(A)臺獨分子 (B)日軍日僑 (C)共產黨分子 (D)叛亂的軍事將領。

46.此一公告正式頒行後，下列哪些基本人權因而受到限制？【甲】工作、【乙】就學、【丙】出版、【丁】言論、【戊】集會、【己】結社

(A)甲乙丙丁 (B)乙丁戊己 (C)丙丁戊己 (D)甲乙戊己



(三)附表是臺灣在 1950 ~ 1988 年間，核准登記的媒體家數統計表。請問：

年度	報紙 (種)	雜誌 (種)	通訊社 (家)	出版社 (家)
1950	44	184	28	
1961	31	686	42	587
1971	31	1,534	43	1,395
1987	31	3,422	44	2,956
1988	126	3,708	126	3,191

47.由表中資料判斷，自哪一年開始，臺灣的報紙與通訊社數量出現較大的變化？

(A) 1950年 (B) 1961年 (C) 1971年 (D) 1988年

48.承第 47 題，這樣的變化與下列哪一事件有密切關係？

(A) 臺灣光復 (B) 廢除《臨時條款》 (C) 終止動員戡亂 (D) 解除戒嚴。

49.承第 47 題，這樣的變化與何人的施政措施有關？

(A) 陳儀 (B) 蔣中正 (C) 蔣經國 (D) 李登輝

50.就臺灣歷史而言，下列哪一項描述最足以說明此一變化的意義？

(A) 地方自治的展開 (B) 一黨獨大的出現 (C) 多元社會的建立 (D) 政黨輪替的實現。