

彰化縣立田尾國民中學110學年度第二學期第二次段考國一地理科試題

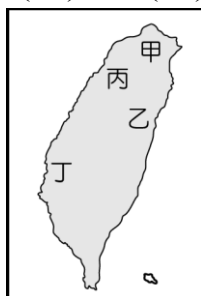
*單選題(100%)

01. 臺灣山多平原少，且人口稠密，每個農民所擁有的耕地普遍狹小，為獲取利益，農夫多採取「甲」方式進行，才能提高「乙」。請問：上文中的甲、乙分別指的是什麼？ (A)甲——集約、乙——單位面積產量 (B)甲——粗放、乙——單位面積產量 (C)甲——集約、乙——總產量 (D)甲——粗放、乙——總產量。

02. 讀國中一年級的小康，他爺爺是農民，爸爸是半導體公司的電子工程師，媽媽是銀行襄理，哥哥是房屋買賣仲介員。請問：小康家有多少人從事第一級產業？(A)1 (B)2 (C)3 (D)都不是

03. 國際貿易為臺灣的經濟命脈，造成此種現象的主要原因為何？(甲)國內礦產資源缺乏 (乙)國內產品品質不佳 (丙)國內市場規模有限 (丁)加入東協後開放市場 (A)甲乙 (B)甲丙 (C)乙丙 (D)丙丁。

04. 1950年代初期，臺灣的甘蔗種植面積曾高達12萬公頃，但受到社會經濟結構轉變的影響，面積大幅縮減，土地也紛紛轉作其他用途。請問：若要觀察甘蔗田土地轉作的情況，應該前往附圖中何處？(A)甲 (B)乙 (C)丙 (D)丁。



05. 彰化溪湖為重要的果菜市場，而鄰近的花卉更為當地重要的作物。請問：該地區農業「商品化」的特徵可由下列何者觀察得知？ (A)作物單位面積產量大 (B)作物為少量生產 (C)作物多運往市場銷售 (D)作物以集約方式耕作。

06. 隨著經濟發展，臺灣產業結構有大幅度的轉變。下列有關目前臺灣產業的敘述，哪一項是正確的？ (A)由於農村勞力充沛，農耕技術先進，農業經營集約度高 (B)每位農民耕地廣大，生產成本較低，農產品可大量出口 (C)工業已由早期勞力密集工業，逐漸升級到資本密集工業和技術密集工業 (D)國際貿易發達，自民國60年代以來，每年都是入超，累積了頗多的外匯。

07. 臺灣在民國五十年代設立的加工出口區，主要是利用何種優勢來吸引國外投資？ (A)豐富的原料 (B)便宜的勞力 (C)廣大的市場 (D)充足的動力。

08. 臺灣的工業區大多集中在西部，電子、資訊業主要分布在北部，而加工出口區及重工業主要分布在南部。這種工業聚集現象的形成，與下列何者關係最密切？ (A)地形 (B)動力 (C)原料 (D)政策。

09. 若一種產業在製造過程中需消耗大量電力，則應該優先考量哪種設置地點的要素？ (A)市場 (B)交通 (C)原料 (D)動力。

10. 臺灣產業活動變遷過程中，發展條件不斷轉換。根據今日的現況判斷，未來積極發展的方向應為下列何者？ (A)自創品牌 (B)增加勞工 (C)發展重工業 (D)代工組裝。

11. 附表顯示2015年臺灣兩種經濟作物的前四大產區，根據這兩種作物適合栽種的環境判斷，表中的甲行政區最可能為下列何者？ (A)基隆市 (B)宜蘭縣 (C)嘉義縣 (D)屏東縣。

茶		製糖用甘蔗	
行政區	產量(公噸)	行政區	產量(公噸)
南投縣	9,568	雲林縣	214,629
甲	2,079	甲	175,419
桃園市	434	臺南市	145,539
新北市	413	彰化縣	75,764

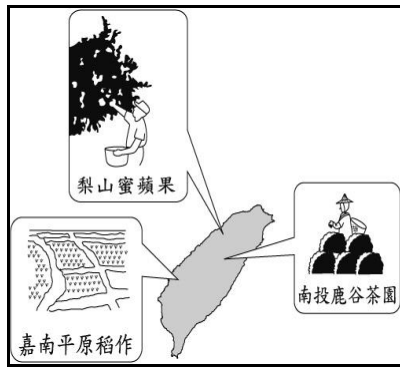
12. 選擇以市場為設廠時考量的優先要素之產業，常會具備下列哪些特性？(甲)產品耐久放 (乙)加工後體積增加 (丙)產品具有時效性 (丁)原料運輸的成本較高 (A)甲丙 (B)甲丁 (C)乙丙 (D)乙丁。

13. 臺灣由於缺乏豐富的自然資源，十大建設中的大煉鋼廠就設立於高雄。請問：大煉鋼廠選擇設置地點的考量為何？ (A)動力 (B)市場 (C)交通 (D)勞力。

14. 臺灣水稻的栽種面積逐漸變小，造成此現象的主要原因為何？ (A)灌溉水源不足 (B)全球氣候變遷 (C)飲食習慣改變 (D)土壤沃度降低。

15. 臺灣的重工業奠定於民國60年代，當時主要配合下列何項政策，積極推動鋼鐵、造船等產業？ (A)十大建設 (B)產業升級 (C)加工出口 (D)國際分工。

16. 附圖是臺灣著名的農產分布示意圖。這些作物的分布，與下列哪一項環境背景的關係最密切？ (A)降水量多寡 (B)勞力供應 (C)資金供給 (D)地形差異。



17. 西元 2012 年，屏東科技大學鳥類生態研究室無意間在屏東紅豆田檢驗到兩隻老鷹的體內含有劇毒農藥，追查發現，原來是少數農民為了避免鳥害造成的農損，而使用「加保扶」當作毒餌，造成小型鳥類死亡，這些小鳥的屍體被老鷹撿食，導致老鷹也會跟著中毒。這段大量鳥類死亡的故事被拍成生態紀錄片《老鷹想飛》，讓許多民眾開始正視農村所發生的環境問題。全聯福利中心的高層得知老鷹生存的困境，主動聯繫該研究室，希望能夠幫助農民銷售，「老鷹紅豆」因而爆紅，成為家喻戶曉的產品。請問：透過老鷹紅豆的故事，說明了臺灣農業急需何種轉型？ (A)鼓勵農田轉作，改種紅豆 (B)加入 WTO 將農產品行銷國際 (C)推行安全無毒或有機農業的方式耕種 (D)鼓勵農夫市集，拉近農夫與消費者的距離。

18. 附表為民國 106 年臺灣對四個貿易對象(美、日、中、韓)的貿易統計表。依據表中資料判斷，哪個同學對於臺灣貿易情況的說明是正確的？ (A)甲：臺灣對日本的貿易是出超 (B)乙：臺灣對美國的貿易是入超 (C)丙：臺灣與中國的貿易總額最高 (D)丁：南韓是臺灣的第一大貿易國。

國家	出口	進口
美國	369.4	302.4
日本	207.8	419.4
中國	889.8	500.4
南韓	147.3	168.9

(單位：億美元)

19. 臺南市新營、柳營等地，許多居民飼養乳牛，生產鮮乳，以供應市場需求。此種經濟活動屬於下列何種產業？ (A)粗放農業 (B)放牧業 (C)酪農業 (D)觀光農業。

20. 通常我們所說的第一級產業是指下列哪些產業？ (A)農、林、漁、牧業 (B)工業、商業 (C)金融、保險、服務業 (D)鋼鐵業、造船業、

航空工業。

21. 附表為阿亮和家人的商業活動紀錄，有關阿亮一家人商業行為的敘述，何者錯誤？ (A)爸爸從事的商業活動為零售，所販賣商品的價格較高 (B)媽媽購物的量販店，同時具有批發和零售的性質 (C)姐姐在網路上購物，不受時間、距離限制 (D)阿亮購物的便利商店為零售商，特色是分布密集，便於民眾就近消費。

爸爸	大量購買養雞場的雞蛋，再銷售至便利商店，以賺取價差。
媽媽	到 Costco 買一箱蘋果、一箱飲料和大包裝的鮮奶。
姐姐	在 Pchome 網站購買筆記型電腦，24 小時到貨。
阿亮	在 7-11 買麵包和茶葉蛋當早餐。

22. 「彰化縣田尾鄉是目前臺灣最大的花卉生產基地，全鄉有 70% 的農戶種花，數百戶花農集中成立銷售、批發門市。目前田尾有多家園藝店，除了販售花卉盆栽，並提供餐飲服務，包括花草餐、香草火鍋、花茶、香草冰淇淋等美味餐飲，內部空間布置講究，在這裡歇腳、用餐，有如置身花園中，別有情調。至園藝店附設之親子教室，大人小孩還可親自動手做押花、石頭彩繪、果凍蠟燭、組合盆栽等。」上文中所述田尾的農業經營方式，最接近下列哪一種類型？ (A)休閒農業 (B)有機農業 (C)酪農業 (D)粗放農業。

23. 下列哪一些農業的產業現象，與臺灣加入 WTO 較為相關？ (甲)傳統農業面臨轉型 (乙)鄉村農業人口大量流失 (丙)積極研發品種改良與培育 (丁)政府鼓勵投入休閒農業 (戊)農業採行集約型態 (A)甲乙丙 (B)甲丙丁 (C)乙丙戊 (D)丙丁戊。

24. 農委會水產試驗所發布烏魚漁況速報：「根據中央氣象局 12 月 7 日氣象資料，臺灣受大陸冷氣團及東北季風影響，推測中國沿海烏魚將隨中國沿岸流南下洄游，請漁民朋友把握良好時機圍捕。」由報導內容可知，請問上述捕烏魚的方式應是屬於何種漁業？ (A)養殖漁業 (B)沿岸漁業 (C)近海漁業 (D)遠洋漁業。

25. 下列何種商品的流通方式是近年來才興起，可以大幅節省店面的營運成本？ (A)商場量販 (B)網路購物 (C)店舖零售 (D)倉庫批發。

26. 臺灣在民國 70 年代面臨產業發展的問題時，在哪一個地區設立了第一個科學工業園區，使其順利轉型為今日臺灣主要的高科技工業活動中心？ (A)臺北市 (B)臺中市 (C)高雄市 (D)新竹市。

27. 臺灣的畜牧業與農業面臨的問題與轉型，請問下列共有幾項是這兩個產業共同的特色？(甲)生產成本偏低，規模皆大(乙)臺灣加入WTO之後，進口產品衝擊本土產品(丙)走向品牌經營的趨勢(丁)結合休閒觀光(戊)朝向專業化與科技結合
 (A)2項 (B)3項 (C)4項 (D)5項。

28. 臺灣禁伐原始林已超過30年，現在99%以上的樹木都來自進口，臺灣的林業也幾乎消失殆盡。但臺灣森林面積達21,971平方公里，占國土總面積的60.71%，可說是資源豐富。請問：臺灣現階段的林業，主要發展成何種類型？(A)原料出口(B)加工製造(C)教育觀光(D)道路交通。

29. 下列為鳳梨罐頭的生產過程簡圖。請問：何先生決定將鳳梨罐頭改以宅配直接送貨到府，則圖中何者受到的衝擊最大？(A)老王(B)小張(C)小馬(D)汪老闆。

老王夫妻(採收鳳梨) 小馬(運送鳳梨) 何家夫婦(鳳梨加工)



30. 臺灣科技業的發展奠定今日經濟根基，也造成了全球性的影響，如臺灣的半導體及筆記型電腦都為世界之冠，可見科技產業相當發達。請問：這些產業活動最依賴的區位條件有哪些？(甲)廉價勞力(乙)技術研發(丙)龐大資金(丁)礦產豐富
 (A)甲乙 (B)乙丙 (C)甲丙 (D)乙丁。

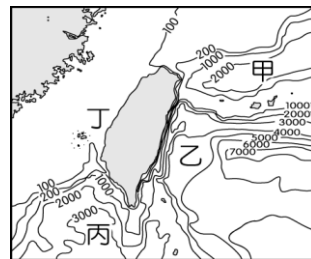
31. 花蓮縣生產大理石、石灰石等礦產，水泥業的大廠「台泥」和「亞泥」，在當地均有設立工廠，請問：這是考量下列哪一種工業區位？(A)政策(B)交通(C)勞力(D)原料。

32. 位於雲林的西螺果菜市場是目前全國重要的產地蔬果交易中心，中部的農家紛紛將生產的作物運送到此地買賣。各地的果菜商在此地交易後，再運送至各大都市。請問：目前各作物產區多朝向專業化發展，和下列何者關係最大？(A)氣候變遷(B)灌溉系統(C)農田轉作(D)交通便捷。

33. (甲)半導體產業(乙)食品加工業(丙)鋼鐵、石化業。若依據臺灣的工業發展階段，上述產業的發展先後依序為何？(A)甲乙丙(B)乙丙甲(C)丙甲乙(D)丙乙甲。

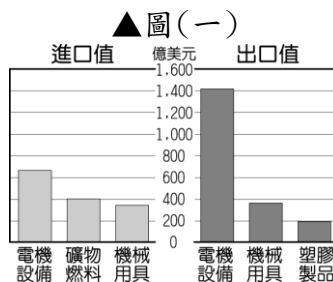
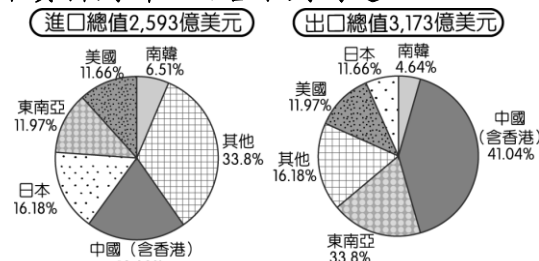
34. 臺灣自古以來海上活動相當發達，包括南來

北往的航運業、漁獲肥美的漁撈業等，都成為沿海居民的主要收入來源。附圖為臺灣海域等深線圖(單位：公尺)。請問：臺灣的大陸棚主要分布於附圖中的何處？(A)甲(B)乙(C)丙(D)丁。



35. 阿德某天到體育用品店買球鞋，老闆說明此雙鞋是美國設計好樣式後，送到越南加工製造的。請問：球鞋不在美國本土生產，而送往越南加工製造的主要原因為何？(A)節省運送費用(B)減少能源消耗(C)考量勞力成本(D)較靠近原料產地。

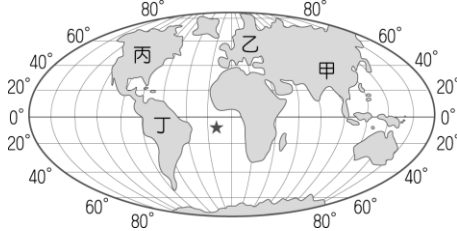
◎臺灣的產業發展依時代背景環境而有不同，呈現各級產業的變遷過程，我們由國際貿易中進、出口的物品，可得知其關聯性。圖(一)為臺灣目前主要的經貿伙伴及其進、出口貿易值比例圖，圖(二)為臺灣部分進出口產品類別產值圖，請依照圖中資料判斷，回答下列問題：



▲圖(二)

36. 臺灣的出口總值排名世界前20名，甚至超過俄羅斯、印度及西班牙等大國，反映出臺灣強勁的經濟實力。依圖(一)、圖(二)中的數據判斷，我國出口產品主要與何種生產區位條件的關係最大？(A)原料充足(B)技術進步(C)工資低廉(D)動力充沛。

37. 根據圖(一)我國主要貿易伙伴來看，臺灣的貿易往來比重最高的地區多位於圖(三)中哪一洲？(A)甲 (B)乙 (C)丙 (D)丁。



▲圖(三)

38. 由圖(一)中的資訊判斷，該年臺灣最大的貿易國家為下列何者？(A)中國 (B)美國 (C)日本 (D)東南亞。

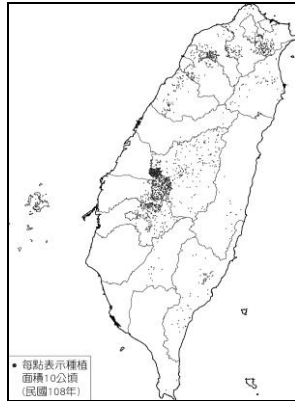
39. 由圖(一)圖(二)中可以看出下列哪個事實？(A)臺灣該年的貿易總額為出超 (B)臺灣的貿易夥伴逐年增加 (C)貿易總值均名列全球第18名 (D)與臺灣有貿易關係的國家和地區超過220個

◎附圖是臺灣某種農作物的分布圖，請問：

40. 由圖推判，此最有可能是何種作物的分布圖？

(A)水稻 (B)甘蔗 (C)茶樹 (D)香蕉。

41. 承上題，根據此種作物分布的範圍推判，適合生長的环境主要在哪一種地形區內？(A)丘陵、山地 (B)盆地、平原 (C)平原、臺地 (D)高原、丘陵。



◎臺灣漁業的經營方式可分為：(甲)養殖漁業 (乙)沿岸漁業 (丙)近海漁業 (丁)遠洋漁業。請問：

42. 乙、丙、丁三種漁業類型中，產量與產值最高者為何？(A)乙 (B)丙 (C)丁。

43. 臺灣料理中常見的蛤蜊湯、蛤蜊絲瓜、九層塔炒蛤蜊等，少不了肥美鮮甜的主角—「文蛤」。請問：文蛤主要是透過哪一種經營方式而得？(A)甲 (B)乙 (C)丙 (D)丁。

44. 小玲爸爸的漁業船隊以前往大西洋捕捉鮪魚為主，常常一出海就是一年多，請問這種經營方式是屬於下列何者？(A)甲 (B)乙 (C)丙 (D)丁。

◎《戰浪》是由公共電視製作的紀錄片，片中記錄臺東縣成功鎮的一群漁民，堅持使用傳統鏢旗魚漁法，藉著膽識和多年經驗，站在窄小的鏢臺

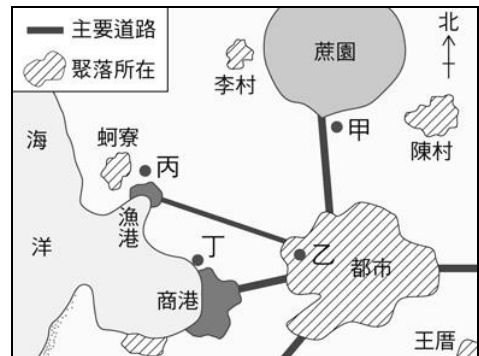
上，舉起鏢竿與大海奮戰。從新港外海向北，暖流的經過，帶來豐沛活躍的旗魚魚群，每年9月至12月是最主要的產季，季風拂海面，使旗魚漂浮到海面上層，當旗魚現身，鏢槍手抓準時機「下鏢」捕魚，那是驚險又刺激的一刻！請問：該暖流最可能會是下列何者？(A)中國沿岸流 (B)黑潮 (C)親潮 (D)暖潮。

45. 文中提到：「從新港外海向北，暖流的經過，帶來豐沛活躍的旗魚魚群。」請問：該暖流最可能會是下列何者？(A)中國沿岸流 (B)黑潮 (C)親潮 (D)暖潮。

46. 文中提到：「每年9月至12月是最主要的產季，季風吹拂海面，使旗魚漂浮到海面上層。」請問：當時漁船的風向最可能為下列何者？(A)→ (B)↑ (C)↙ (D)↗。

47. 下列哪一些可能是臺灣漁業的挑戰？(甲)漁業資源的枯竭 (乙)鄰近國家的競爭 (丙)捕撈技術不足 (丁)本地勞工缺乏 (戊)漁港數量不足。(A)甲乙丙 (B)甲乙丁 (C)乙丁戊 (D)丙丁戊。

◎周先生將在希望市開設工廠，在不考慮土地取得的情形下，有四個地點可供選擇，如附圖所示。請問：



48. 周先生分析四地設廠的產品成本與售價如附表所示，請問：最佳的設廠地點為何處？(A)甲地 (B)乙地 (C)丙地 (D)丁地。

地點	甲地	乙地	丙地	丁地
項目				
成本	80元	130元	100元	120元
售價	200元	200元	200元	200元

49. 承上題，依最佳設廠地點要素來看，周先生最可能開設的是何種工廠？(A)煉鋼廠 (B)製鞋廠 (C)魚丸廠 (D)製糖廠。

50. 為了都市用電的問題，政府要就近興建一個火力發電廠，以進口煤炭來發電，則最佳的建廠位置在何處？(A)甲地 (B)乙地 (C)丙地 (D)丁地。

答案

01. AABDC CBDDA

11. CCCCA DCCCA

21. AABCB DCCDB

31. DDBDC BAAAC

41. ACADB CBADD