

彰化縣立田尾國民中學 108 學年度第二學期八年級第三次段考歷史試題

一、選擇：每題 2 分

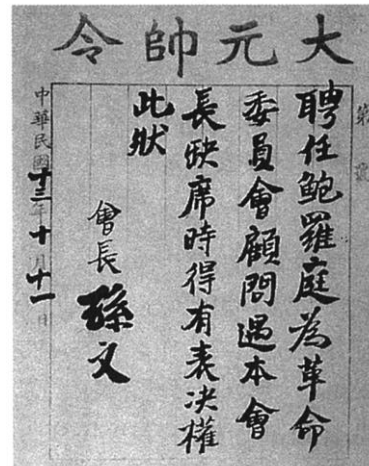
- () 近幾年北韓不斷試射飛彈，造成美國與北韓的關係緊張。在六十幾年前，東亞的局勢也曾因朝鮮問題而爆發衝突，當時北韓領導人金日成派軍隊越過北緯 38 度線，進攻南韓，無預警的發動了韓戰。請問：中國曾發起哪一個運動，組織志願軍前往朝鮮半島參戰？ (A) 民族自決 (B) 超英趕美 (C) 聯俄抗朝 (D) 抗美援朝。
- () 毛澤東為了反制大躍進失敗後中央的經濟政策，在西元 1966 年發動哪一事件，藉以奪回最高權力？ (A) 大躍進 (B) 文化大革命 (C) 抗美援朝 (D) 動員勦亂。
- () 雅婷在電視上看到一部紀錄片，劇情中出現如附圖一樣的畫面，一群同學在表達自己的理念。請問：這些學生的理念，不包括下列何者？ (A) 對地主進行清算鬥爭 (B) 遵守共產主義 (C) 崇拜毛澤東 (D) 誓死維護中國傳統。



- () 民國 25 年，中共為了解除來自國民政府的威脅，提出「中國人不打中國人」、「停止內戰一致抗日」等口號，也造成某個事件的展開。上述所指的是哪個事件？ (A) 清黨 (B) 寧漢分裂 (C) 西安事變 (D) 九一八事變。
- () 中共的勢力在何時開始壯大，以致於後來可以統治上億人口，擁有百萬軍隊，甚至打倒國民政府？ (A) 北伐期間 (B) 長征期間 (C) 八年抗戰期間 (D) 韓戰期間。
- () 老胡爺爺回憶起他年輕時期說道：「這一段時間國家的建設大有進展，不但四處修建鐵路、公路，並且增加航空運輸的設置，使全國的交通大為便利。」老胡爺爺所回憶的應該是什麼時期的事情？ (A) 十年建設期間 (B) 北伐期間 (C) 護法運動期間 (D) 新文化運動期間。
- () 中共政權在進行社會改造後，決定在十五年以內「超英趕美」，實現社會主義理想，於是展開了下列哪一項運動？ (A) 大躍進 (B) 大鳴大放 (C) 二萬五千里長征 (D) 依附蘇聯「一邊倒」。
- () 中共在建國後所實施的制度或改革，不包括何者？ (A) 民營企業收歸國有 (B) 沒收地主土地 (C) 推動思想自由 (D) 集體生產制。
- () 溥儀曾說：「這時占據著我全心的，不是這塊土地的老百姓死了多少人，不是日本人要用什麼辦法統

治這塊殖民地，要駐多少兵，要採什麼礦，我一概不管，我關心的只是要復辟，要他們承認我是個皇帝。」請問：溥儀所說的「這塊土地」是何處？ (A) 臺灣 (B) 山東 (C) 江南 (D) 東北。

- () 附圖是民國 13 年間的一份聘任文件，由文件的內容可知孫文聘任俄人鮑羅庭為革命委員會的顧問。請問：此文件代表了什麼意義？ (A) 中國共產黨在蘇俄協助下成立 (B) 共同抗日 (C) 聯俄容共政策的推動 (D) 成立中華革命黨



- () 國共內戰時期，國民大會曾制定何種法律，賦予總統不受約束的緊急處分權力？ (A) 《社會秩序維護法》 (B) 《動員戡亂時期臨時條款》 (C) 《戒嚴令》 (D) 《匪徒刑罰令》。
- () 下列兩幅漫畫，是描繪二十世紀初年，一個出生在中國大陸，成長到六十多歲的人，他的一生所面臨的不同遭遇。綜合兩圖的敘述，下列何者正確？ (A) 圖 1 是指五四運動 (B) 圖 2 是指新文化運動 (C) 圖 1「背書」是指毛語錄 (D) 圖 2「背書」是指毛語錄。



▲圖 1



▲圖 2

- () 他是中共的領導人之一，任內除了積極推動改革開放路線之外，也與美國建交，並且成立經濟特區；但是在政治改革卻毫無進展，因此有「六四天安門事件」的發生，打擊學生民主改革的訴求。請問：以上所述是中共的哪位領導人？ (A) 毛澤東 (B) 鄧小平 (C) 江澤民 (D) 胡錦濤。

14. () 中國之所以可以在中日戰爭結束後，順利的拿回東北、臺灣與澎湖地區，與下列哪個事件有關？ (A) 巴黎和會 (B) 開羅會議 (C) 雅爾達會議 (D) 中、美、英平等新約。
15. () 「黃金十年」時期，國民政府推行各種現代化建設，地方上也大力推動平民教育，藉此提高人民的知識水準。請問：下列哪個人在河北定縣推行平民教育，對於減少文盲有很大的貢獻？ (A) 魯迅 (B) 蔡元培 (C) 晏陽初 (D) 陳獨秀。
16. () 下列何者不是「黃金十年」期間，國民政府的建設成果？ (A) 提倡白話文 (B) 廢兩改元 (C) 法幣政策 (D) 鐵、公路的建設。
17. () 一份新聞報導提到：「西元 1952 年 6 月 23 日，美國空軍大規模轟炸中國境內的鴨綠江水力發電廠；到了 7 月 11 日時，美國空軍甚至對平壤進行大規模的轟炸。此事使中國各地掀起了抗議聲討風潮，並發起一波聲援朝鮮的活動。」請問：上述應與下列哪一史事有關？ (A) 太平洋戰爭 (B) 韓戰爆發 (C) 珍珠港事變 (D) 淞滬會戰。
18. () 中國大陸著名電影「巴爾扎克與小裁縫」的時代背景，是不少知識分子被下放勞改的時期；而此時的青年人更是手拿《毛語錄》，四處批鬥異議分子。這部電影是以哪個時期為背景？ (A) 對日抗戰 (B) 二萬五千里長征 (C) 經濟改革開放 (D) 文化大革命。
19. () 以下是一位旅行者在上海的見聞：「上海的工廠地帶可以看到轟炸的痕跡，有來到了戰場的感覺。但是如果來到租界區，興盛的商業中心立即映入眼中。在此，歐、美國家的主要銀行林立，國民政府的官方銀行——中央銀行，以及中國銀行、交通銀行等仍然繁忙地繼續營業，處理租界區內法幣的發行與交易。」此人最可能是在下列何時參訪上海？ (A) 1830 年代 (B) 1890 年代 (C) 1930 年代 (D) 1990 年代。
20. () 有一份電報內容如下：「父仇未報，更釀內亂，何以為子？以怨報德，威劫主帥，何以為將？」以下四人，何者對此電報的認知正確？ (A) 千嬾：電報的收件人是袁世凱，指責接受「二十一條要求」 (B) 于倬：電報的收件人是張學良，指責「西安事變」 (C) 雅雯：電報的收件人是張勳，指責主導「復辟事件」 (D) 儀柔：電報的收件人是溥儀，批評「滿州國」的成立。
21. () 西元 1933 年，蔣中正強調：「中國一方面國內有『土匪』，另一方面國外有帝國主義國家天天向我們猛烈的侵略。」關於這段話，以下誰的認知正確？ (A) 倍瀚：蔣中正認為安內與攘外應同時進行 (B) 浚豪：這時中國正處於軍閥割據的局勢 (C) 加昕：『土匪』指中共、『帝國主義國家』指日本 (D) 豈豪：『土匪』指各地軍閥、『帝國主義國家』指蘇聯。
22. () 勁瑋蒐集資料以完成歷史報告，其內容如下：

資料一：為避免共產勢力擴大，下令在上海清除共黨勢力。

資料二：打擊吳佩孚與孫傳芳的勢力，協助中國完成統一。

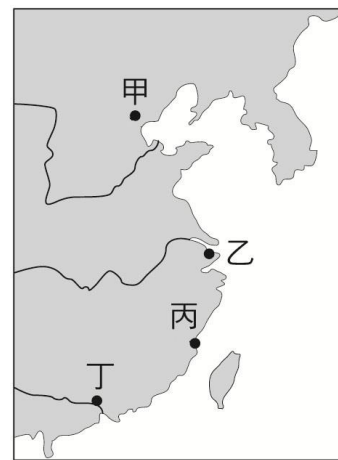
資料三：受到張學良、楊虎城的挾持後，同意一致抗日的政策。

勁瑋所寫的報告主題應該是下列何者？ (A) 孫中山的聯俄容共 (B) 蔣中正與中國政局 (C) 溥儀的一生 (D) 民初的軍閥割據。

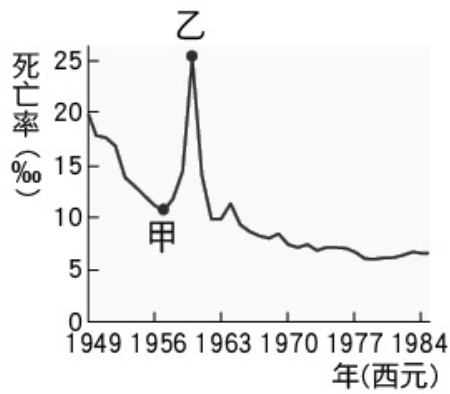
23. () 在某本以近現代中國為背景的小說中寫到：「最近，國家開始實施新政策，由政府指定中央、交通、中國這幾家銀行發行法幣。我想，此政策若真能好好實行，改善過去幣制混亂的情況，買賣交易就比較好做了。」這段話所呈現的最可能是中國處於下列何種局勢下的情況？ (A) 戊戌變法期間，朝廷推動經濟政策 (B) 八國聯軍結束，朝廷陸續推行新政 (C) 北伐統一完成，政府致力建設發展 (D) 八年抗戰後期，政府籌措資金抗日。
24. () 就歷史發展而言，清末以來，中國喪失的主權中，最早收回的是哪一項權利？ (A) 領事裁判權 (B) 關稅自主 (C) 租界 (D) 片面最惠國待遇。
25. () 芸芸在《中國交通發展史》書中看到如附表的交通建設統計表。由表中內容判斷，這些交通建設完成於哪個時期？ (A) 黃金十年 (B) 北伐期間 (C) 自強運動 (D) 庚子後新政。

選項	鐵路 (公里)	公路 (公里)
民國 15 年	3,600	28,180
民國 20 年	5,400	109,000
民國 25 年	9,100	143,000

26. () 日本自民初以來一直不斷對中國進行侵略，其中民國 21 年發生的一二八事變，對中國造成一定程度的損失，該事變在附圖的何處爆發？ (A) 甲 (B) 乙 (C) 丙 (D) 丁。



27. () 老蕭爺爺到街上買米，早上購買時，老闆告訴他一斤四十元，他發現錢不夠，於是回家拿，等到中午再去時，價格已經變成六十元，他又回家拿錢，晚上去的時候竟然變成一斤一百元；這種物價單日飛漲情形，最可能發生在下列哪一時期的中國？ (A) 北伐時期 (B) 國共內戰 (C) 十年建設 (D) 清末民初。
28. () 附圖是參考某段期間中國人口死亡率估算值而繪製的曲線圖，圖中甲、乙二點之間死亡率的變化，最可能與下列何者有關？ (A) 人民響應抗美援朝，參與韓戰而造成傷亡慘重 (B) 大躍進運動期間，政策失當所導致的嚴重饑荒 (C) 文化大革命時，紅衛兵鬥爭造成眾多人口死亡 (D) 六四天安門事件爆發，政府鎮壓大量抗議群眾。



29. () 家瑋在書上看到這段內容：「他笑著說：『爹，菩薩不是咱們的，咱們年年燒香，他一點也不管咱們。毛主席的口令一來，就有給咱們送地來，毛主席就是咱們的菩薩，咱們往後要供就供奉毛主席，爹，您說是嗎？』」請問：書中所謂「毛主席的口令」指的是哪一政策？ (A)土地改革 (B)大躍進 (C)人民公社 (D)土法煉鋼。
30. () 西元1966年時，「破四舊」運動隨之興起，中國第一座佛寺——白馬寺，也難逃被損毀的惡運，如附圖所示。請問：白馬寺在下列哪個行動中被嚴重損毀？ (A)大躍進 (B)五四運動 (C)文化大革命 (D)新文化運動。

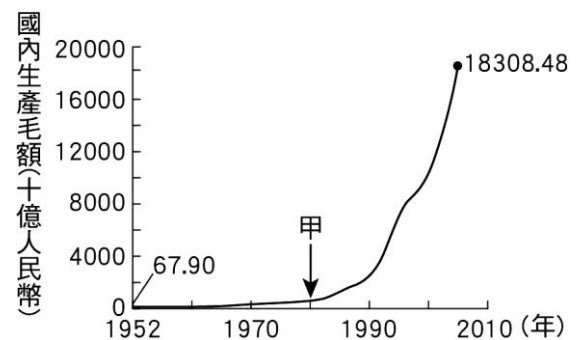


31. () 附圖是一幅日本官方繪製的海報，圖中標語寫著：「日華滿協助天下太平」，目的在樹立日本與能其他兩國互相提攜，共享太平盛世。請問：這幅海報會出現在何時何地？ (A)1940年代前期的南京 (B)1920年代前期的瀋陽 (C)1940年代後期的臺北 (D)1930年代後期的重慶。



32. () 二次大戰後，國民政府喪失人心，聲望受到嚴重的打擊。下列有關此時的敘述，何者錯誤？ (A)通貨膨脹嚴重 (B)接收人員貪汙腐化 (C)實施廢兩改元 (D)民心思變。
33. () 公共電視臺《將相浮沉錄》談到某位將領：「二次大戰之後，□□極力說服美國各界援助歐洲重建……這個計畫讓殘破的歐洲重新站了起來。這時□□已經計畫退休，但是他又受到總統請託出使中國，調停國共間的衝突……。」請問：□□所指的將領，前往中國的結果為何？ (A)調停成功，國共雙方言歸於好 (B)美國覺得國民黨處境堪憐，持續給予援助 (C)調停失敗，國共衝突未止 (D)中國政府聘他為官員，協助外交拓展。

34. () 「當時中央鼓吹『破四舊、立四新』，許多地主、知識分子頭上戴著紙做的高帽子，上面寫著『黑幫頭子』、『反動權威』等字樣，被推出去遊街示眾，受到人民的唾罵……」上段文字是描述發生在中共統治下的哪一件事？ (A)大躍進 (B)改革開放 (C)文化大革命 (D)六四天安門事件。
35. () 在山東濟南市中心處的趵突泉公園裡，設有五三紀念碑；而西元1999年起，濟南市會在每年的5月3日10點整時，試鳴防空警報，以悼念事件中的遇難者。關於這起事件的敘述，下列何者正確？ (A)是由蘇聯所發起的事件 (B)發生在北伐行動之前 (C)目的為阻撓中國的統一 (D)蔣中正因此向對方宣戰。
36. () 老師請各組同學比較「五四運動」與「六四天安門事件」兩個事件，並報告兩者共同點。請問：下列哪一組所提出的內容是正確的？ (A)第一組：皆發生在同一年分，同一地點 (B)第二組：皆由北京的大學生最先發難 (C)第三組：皆與日本有關，要求政治改革 (D)第四組：皆和平結束，未見政府刁難。
37. () 附圖呈現中國1952年至2005年國內生產毛額的數據資料。圖中曲線從甲處後有明顯變動的情況，最可能與下列何者有關？ (A)利用韓戰爆發契機，提高進口關稅 (B)大躍進提倡生產，民眾盡全力煉鋼 (C)發動文化大革命，進行全面的改造 (D)實施改革開放政策，引進外來資金。



38. () 國民政府北伐是為了解決中國南北分裂的局面，但是在北伐期間，中國的政權卻混亂無比，曾經出現三個中央政府。請問：這三個中央政府之所在地，不包括何地？ (A)北京 (B)重慶 (C)南京 (D)武漢。
39. () 民國二十年，日本軍隊炸毀日資興建的南滿鐵路一小段，然後指稱這是中國人所做的，以此為藉口，發兵攻佔中國東北。朝滿鐵路沿線分布許多重要礦產及城市，尤其南端有一城市，是東北地區對外出入的重要港口，自古即為兵家必爭之地，日本對其早有占領野心。上文是描述下列哪一事件的發生經過？ (A)九一八事變 (B)盧溝橋事變 (C)「滿洲國」成立 (D)西安事變。
40. () 西元1937年，蔣中正正在廬山發表談話：「我們希望和平，而不求苟安；準備應戰，而決不求戰。我們知道全國應戰之後的局勢，只有犧牲到底，絕無絲毫僥倖求免之理，……皆應抱定犧牲一切之決心。」請問這篇談話發表於何時？ (A)誓師北伐 (B)發動清黨 (C)九一八事變後 (D)盧溝橋事變後

二、題組：每題 2 分

(一)請閱讀下列資料，並回答問題：

資料一：5月4日，超過10萬人集會遊行，要求民主自由，隨後在天安門廣場靜坐絕食。5月20日，中共宣布戒嚴，下令軍隊進駐北京，「清理」天安門廣場，但因市民一再抵制而徒勞無功。至6月4日凌晨，武裝部隊以重型坦克為前導，進行鎮壓，造成慘重傷亡。此後，中國的「第五個現代化」，仍然只是口號。(節錄自鄭竹園《大陸政經巨變與中國前途》)

資料二：西元1989年5、6月間的事件，為「一小撮人」，「利用學生不滿以發動一個有計畫、有組織、有預謀的政治動亂，進而在首都北京發展成反革命暴亂。他們目的在推翻中國共產黨的領導並顛覆社會主義中國。」這不是一場普通的學生運動，而是一個想要否定中國共產黨領導與社會主義體制的政治動亂。(節錄自北京市市長陳希同〈關於制止動亂和平息反革命暴亂的情形報告〉)

41. 有關資料一的敘述，下列何者正確？ (A) 契合資料二的立場觀點 (B) 是文化大革命下的結果 (C) 是指民國初年五四運動 (D) 「第五個現代化」應是指民主。
42. 有關資料二的敘述，應該是下列何者的立場？ (A) 在野黨的批評 (B) 國際媒體的共識 (C) 執政者的說詞 (D) 北京學生的主張。
43. 綜合以上兩段資料的敘述，下列何者正確？ (A) 毛澤東是當時的中共領導人 (B) 兩份資料的立場與觀點相同 (C) 都是指「六四天安門事件」 (D) 當時政治改革，但經濟保守。

(二) 共產黨和國民黨因政治局勢和國際勢力的影響，而呈現多次分合的現象。請問：

44. 民國12年，何人接受蘇聯援助，同時希望擴大國民黨實力，因而採取聯俄容共政策？ (A) 汪兆銘 (B) 孫中山 (C) 蔣中正 (D) 張學良。
45. 聯俄容共政策的破局，關鍵在於北伐時期的哪項政策所造成？ (A) 剿共 (B) 抗戰 (C) 五三慘案 (D) 清黨。
46. 民國25年之後，國共進行第二次合作，目的是要抵抗當時侵略中國的哪個國家？ (A) 日本 (B) 英國 (C) 法國 (D) 蘇俄。

(三) 一位中國民眾回憶當年參與人民公社的情景，感慨地說道：「……縣領導要到我們大隊參觀，而我們那塊試驗田的晚稻長勢與一般田裡的稻沒什麼兩樣。於是只得連夜叫社員挖稻，用門板抬到試驗田裡移栽。第二天居然還得到縣領導的表揚。矇過參觀，但卻把自己害慘了，因為四畝水稻併一畝，密不通風，裡面溫度太高，只得組織老頭老太拿扇子圍著稻田扇風。但終因根爛葉死，顆粒無收。」請回答下列問題：

47. 上文描述的情景可能發生在哪一年？ (A) 西元1959年 (B) 西元1967年 (C) 西元1978年 (D) 西元2003年。

48. 中共實施人民公社制度，是以什麼為理論基礎？ (A) 共產主義 (B) 理性主義 (C) 三民主義 (D) 自由主義。
49. 根據上文，人民公社的生活應是如何？ (A) 農民可自由耕種，以提高生產量 (B) 政府官員具備農業知識，盡力指導農民 (C) 農民編為生產隊，集體管理 (D) 勇於試驗新農業技術，對經濟發展有所助益。
50. 根據上文，人民公社實施的結果為何？ (A) 農作物產量激增，大豐收持續十數年 (B) 徹底失敗，並對地力破壞甚巨 (C) 農民生產技術卓越，獲得官員表揚 (D) 雖發生饑荒，但全國整體經濟呈現大幅成長

