

# 彰化縣立田尾國中 108 學年度第二學期第三次段考 二年級地理科試題

## ※選擇題 (每題 2 分, 共 100 分)

01. 朝鮮半島因為歷史發展的緣故, 分裂成兩個不同政體的國家—南韓與北韓, 雖然位在同一個半島上, 但是自然資源與人文環境有很大的差異。下列有關兩個國家的比較, 何者**錯誤**? (A)A (B)B (C)C (D)D

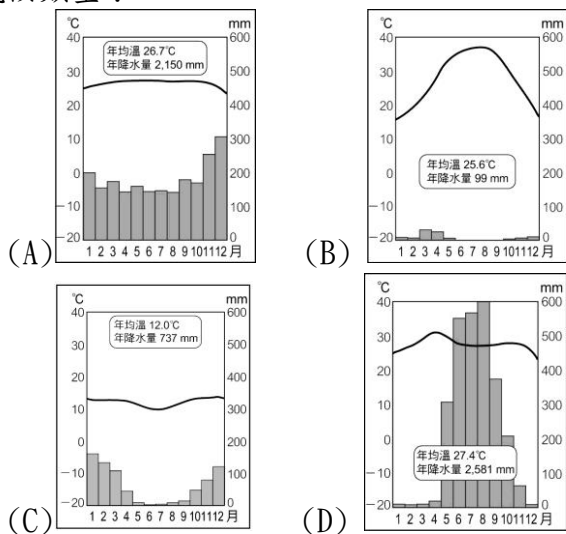
國家	(A) 地形	(B) 政治體制	(C) 天然資源	(D) 收穫次數
北韓	地勢較高	集權政治	較為缺乏	一穫
南韓	地勢較低	民主政治	煤鐵豐富	二穫

02. 日本東京都會區現存一些都市問題, 如住宅和公共設施不足、垃圾量大、交通壅塞、噪音汙染等, 這些現象主要是由下列哪種因素而產生?

(A)人口過度集中 (B)都市面積小 (C)都市計畫失敗 (D)資源分配不均

03. 關於亞洲東岸熱帶季風氣候區與熱帶雨林氣候區的比較說明, 下列何者**錯誤**? (A)兩者皆分布在低緯區 (B)季風區夏乾冬雨, 雨林區全年有雨 (C)季風區生產糧食作物為主, 雨林區生產經濟作物為主 (D)季風區位於海陸交會地區, 雨林區位於赤道附近

04. 妙如到印尼巴里島度假, 當地的氣候四季如夏, 午後也常有雷陣雨發生。當地應該屬於哪種氣候類型?



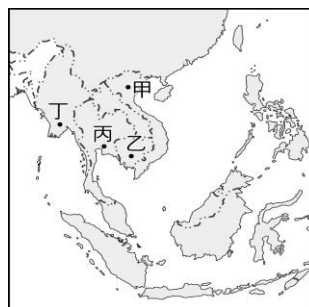
05. 中南半島在種族和文化等方面深具過渡性色彩, 此一現象的形成, 主要是由於下列哪項因素? (A)位置 (B)地形 (C)氣候 (D)政策

06. 近年來, 南韓政府積極發展精密機械、電子、資訊等產業, 具有相當的成效, 例如: 從事通訊業的三星 (Samsung) 公司, 即在國際市場上占有一席之地。上述產業屬於哪種類型的產業活動?

(A)能源密集性產業 (B)原料密集性產業 (C)勞力密集性產業 (D)技術、資本密集性產業

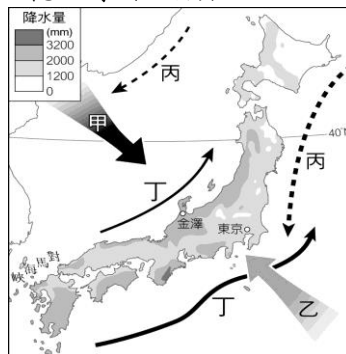
07. 昭披耶河的水上交通是曼谷的重要樞紐, 水上市場、運河岸邊並排的水上人家, 滿載著蔬菜和大小船隻, 讓曼谷贏得了「東方威尼斯」的封號。曼谷位於附圖中的哪個地點? (A)甲 (B)乙

(C)丙 (D)丁

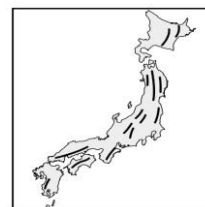


08. 近年來, 有許多外勞來臺工作, 其中部分外勞經常聚集在臺北市的清真寺作禮拜。這些外勞從不吃豬肉, 且每天都要對著參加的方向朝拜五次, 每年某個月白天會完全禁食, 直到傍晚才進食。根據以上的敘述, 這些外勞較不可能來自下列哪個國家? (A)印尼 (B)馬來西亞 (C)泰國 (D)汶萊

09. 附圖為日本季風、洋流及年降水量分布圖, 下列何者正確? (A)甲為夏季季風, 途經太平洋, 為日本群島帶來水氣 (B)乙為冬季季風, 途經日本海, 夾帶豐沛水氣, 易形成大雪紛飛 (C)丙為暖流, 丁為寒流, 兩洋流交會, 魚群聚集, 形成廣大漁場 (D)受甲、乙季風與丁洋流的影響, 日本降水豐沛, 乾溼季不明顯




10. 附圖為日本的山脈走向示意圖, 造成日本山脈多呈南北走向的原因為何? (A)板塊推擠 (B)河流流向 (C)人為開發歷史 (D)海岸類型



11. 「印度社會中, 每個人的職業, 生來就已決定, 不論個人對所從事的職業有無興趣, 工作是否適合, 都得被迫去接受, 導致無法人盡其才, 是其經濟發展的潛在隱憂。」上述現象是受到哪種宗教觀念的影響? (A)輪迴轉世 (B)種姓制度 (C)長幼尊卑 (D)謹守「五功」

12. 傳統上日本人以稻米為主食, 而中國華北平原的居民則以麥類製品為主食。兩地緯度相近, 但所生產的主要糧食作物卻不相同, 這種差異與下列哪項因素的關係最密切? (A)政策 (B)降水量 (C)地形 (D)氣溫

13. 附圖為小美出國旅遊時所拍攝的照片，照片中虔誠的僧侶膜拜寺廟令人動容。此景在當地不僅普遍可見，甚至融入日常生活、舉凡教育、藝術等，皆與佛教信仰關係密切。小美的旅遊地點最不可能是下列哪個國家？(A)巴基斯坦 (B)緬甸 (C)柬埔寨 (D)寮國



14. 關於中南半島與南洋群島的比較如附表，下列何者錯誤？(A)甲 (B)乙 (C)丙 (D)丁

	甲、地形	乙、氣候	丙、宗教信仰	丁、農作生產
中南半島	北高南低	熱帶季風	佛教	多種植稻米
南洋群島	多火山、地震	熱帶莽原	伊斯蘭教	熱帶栽培業

15. 附表是南亞五個國家的主要宗教的信仰人口比例，表中丙、丁各是代表哪個國家？(A)孟加拉、斯里蘭卡 (B)巴基斯坦、印度 (C)尼泊爾、斯里蘭卡 (D)巴基斯坦、孟加拉

國家	印度教	伊斯蘭教	佛教	基督教	其他
甲	80	11	1	2	6
乙	2	95	—	2	1
丙	12	87	—	—	1
丁	—	8	70	8	14
戊	89	3	5	—	3

16. 聯合國教科文組織，正式將韓國泡菜列入非物質文化遺產。泡菜醃製過程複雜，由採摘蔬菜到切菜，需要多人合力才可完成。試問韓國的泡菜文化，主要和下列何者有關？(A)終年高溫 (B)交通不便 (C)地形崎嶇 (D)冬季嚴寒

17. 日本2011年發生震驚世界的「311大地震」的發生，由於地震規模高達芮氏9.0，引發了大海嘯侵日，造成一萬五千人以上罹難，並引起核能輻射外洩的災害，其成因與下列何者有關？(A)四面環海 (B)國土寬廣 (C)板塊活動 (D)火山噴發。

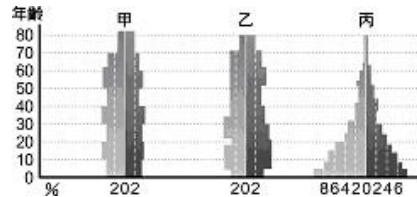


18. 小明在日記寫道：「此地位於亞洲的溫帶氣候區，沿岸受暖流影響，氣候相對溫暖溼潤，與日本氣候相似。□□受到季風的影響降水較多，在秋季也有颱風侵襲，冬季氣溫小於0°C，降水稀少。」上述地區的季節為何者？(A)春季 (B)夏季 (C)秋季 (D)冬季

19. 日本三大島為：(甲)北海道；(乙)本州；(丙)九州。緯度的高低會影響年溫差的大小，上述三地年溫差由小至大依序排列為下列何者？(A)甲乙丙 (B)甲丙乙 (C)丙乙甲 (D)乙甲丙

20. 近年來，日本開始尋找其他投資方式，以直接投資海外、經濟合作等方法，積極經營跨國企業。主要原因為下列何者？(A)進出口貿易額減少 (B)日本國民所得降低 (C)日本產品品質不再 (D)降低工業生產成本

21. 有關印度人口的相關敘述，下列何者正確？(A)半世紀以來人口快速增加的原因，是死亡率降低但出生率仍高 (B)印度的國力及經濟力，將隨著人口增加而提高 (C)若將印度的人口年齡結構畫成人口金字塔圖，應如附圖中的「乙」 (D)印度目前最重要的社會問題是人口高齡化



22. 小李放假時想到印度旅行，尤其泰姬瑪哈陵的壯麗景觀更是令其嚮往。請問：在下列何時前往印度最為涼爽舒適？(A)11~2月 (B)3~5月 (C)7~8月 (D)9~10月

23. 阿緯搭乘飛機前往馬尼拉市參訪姐妹校，他看到許多講英文的居民，並且發現有許多教堂，於是跟隨著當地居民一同進到教堂裡，觀看天主教的洗禮儀式。阿緯應抵達哪個國家？(A)尼泊爾 (B)孟加拉 (C)菲律賓 (D)斯里蘭卡

24. 亞洲較著名的半島有(甲)阿拉伯半島(乙)中南半島(丙)印度半島(丁)朝鮮半島。如果就經度位置判斷，下列哪個地區的居民將會「最晚」迎接明年元旦的到來？(A)甲 (B)乙 (C)丙 (D)丁

25. 印度與巴基斯坦兩國因為下列哪一個地區的領土主權紛爭而產生戰端？(A)阿薩姆邦 (B)孟加拉灣 (C)斯里蘭卡 (D)喀什米爾。

26. 附圖為流經印度的某條河流，被印度教信徒視為是聖河，該河流應是指下列何者？(A)印度河 (B)恆河 (C)薩爾溫江 (D)湄公河。

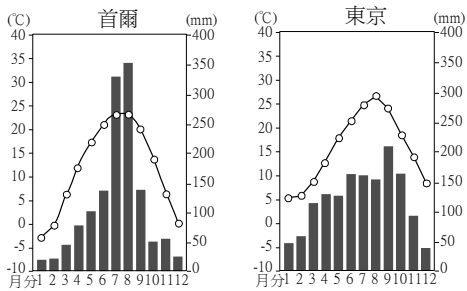


27. 「下了飛機之後，沿途看到商店招牌上有許多熟悉的中文字，特別是隨處可見的溫泉旅館，爸爸說這是因為這個國家多火山的緣故。接下來的行程除了會到我最期待的迪士尼樂園外，導遊叔叔說還要帶我們去參觀被原子彈轟炸過的建築

殘骸。」以上梁曉樂的旅遊日記中所描述的內容，根據內容推論，他們可能是到哪個國家旅遊？

(A)北韓 (B)日本 (C)南韓 (D)菲律賓

28. 附圖是南韓首都首爾與日本首都東京的氣候圖，由氣候圖判斷下列哪個資訊是正確的？(A)東京降水量較多，是因為受到東北季風的影響 (B)首爾降水集中在夏季，是受到西南季風的影響 (C)日本冬季較溫暖，是因為緯度較高 (D)首爾冬季降水較少是因為所吹的西北風來自大陸內部較乾燥



29. 印度軟體設計、跨國電信客服重鎮，和歐美各國經貿往來密切，也有「印度矽谷」之稱。是指哪一城市？(A)哲雪舖 (B)孟買 (C)加爾各答 (D)邦加羅爾。

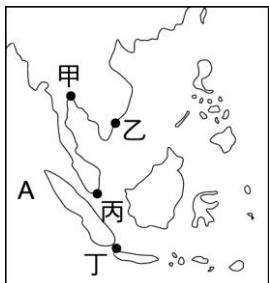
30. 小芬正在閱讀亞洲的資料，附表是亞洲地區四個國家的產業人口組成一覽表。根據表中資料判斷，哪個國家最可能是日本？(A)甲 (B)乙 (C)丙 (D)丁

國家	第一級產業	第二級產業	第三級產業
甲	62%	11%	27%
乙	6%	33%	61%
丙	27%	27%	46%
丁	15%	32%	53%

31. 我國政府目前積極鼓勵臺灣廠商的「新南進政策」，前往東南亞地區投資生產。請問：該地區利於從事下列哪種行業的投資？(A)鋼鐵業 (B)資訊業 (C)加工業 (D)造船業

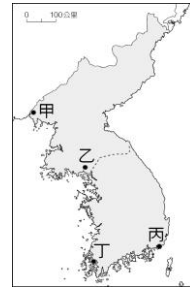
32. 東南亞熱帶栽培業具有哪種特徵？(甲)充足且廉價的勞力 (乙)氣候溼熱 (丙)栽種的作物屬於內銷市場導向的自給性經濟作物 (丁)屬於粗放式的農業經營 (戊)曾淪為歐美的殖民地 (A)甲乙戊 (B)甲丙丁 (C)乙丙丁 (D)乙丙戊

33. 附圖為東南亞地區。請問：新加坡的面積雖然只有 716 平方公里，但因地控麻六甲海峽，發展成為國際金融及轉口貿易中心。請問：該國位於圖中何處？(A)甲 (B)乙 (C)丙 (D)丁



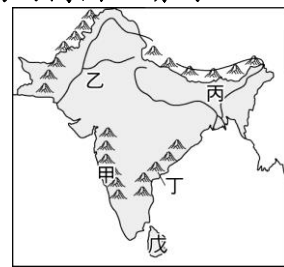
34. 日本漁業資源豐富，人民的日常飲食中，發展出眾多以魚為食材的料理，如生魚片」。下列何者為日本漁業發達的原因之一？(A)位居中緯度 (B)位寒暖流交會處 (C)屬溫帶季風氣候 (D)地處火山地震帶

35. 開城工業區位於北韓境內，距離南韓首爾 70 公里。是由北韓提供土地，南韓的大財團提供資金、技術等，作為兩國合作開發工業區的有利條件。今年 6 月 16 日金正恩胞妹金與正下令炸燬位於開城市的兩韓聯絡辦公室，使東北亞局勢再度陷入困境。請問：該工業區是位於附圖中何處？(A)甲 (B)乙 (C)丙 (D)丁



36. 「位居亞洲及澳洲間之橋梁，地跨南北半球，戰略地位重要，是世界最大群島國家，全國共 17,500 個大小島嶼，其中約 6,000 個島嶼有人居住，境內天然資源豐富。」該國家是指？(A)不丹 (B)菲律賓 (C)汶萊 (D)印尼

◎小新隨著航海王一行人來到了充滿神祕色彩的印度半島進行探險，在眾多的傳說及迷人故事下，小新感受到這個國度的浪漫與熱情。附圖為印度半島的簡圖。請問：

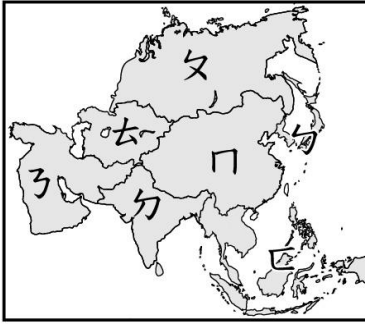


37. 航海王若想了解沙漠的生態，則圖中何處是他最佳的探索地點？(A)甲 (B)乙 (C)丙 (D)戊

38. 承上題，航海王想探索的這個沙漠，其形成的主要原因為何？(A)距海遙遠 (B)暖流流經 (C)副熱帶高壓沉降 (D)位於季風背風側

39. 小新經過調查研究，發現圖中丙處的乞拉朋吉是是全球降雨量最多的地方。其形成原因為何？(甲)西南季風 (乙)東北季風 (丙)地形 (丁)高氣壓籠罩 (A)甲丙 (B)甲丁 (C)乙丙 (D)乙丁。

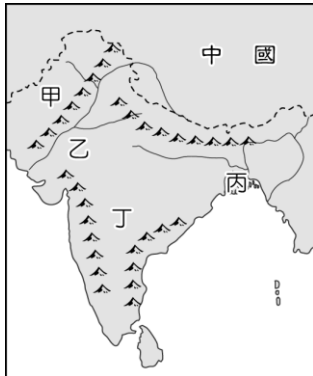
◎附圖為亞洲分區圖，根據圖中資訊及代號回答問題。



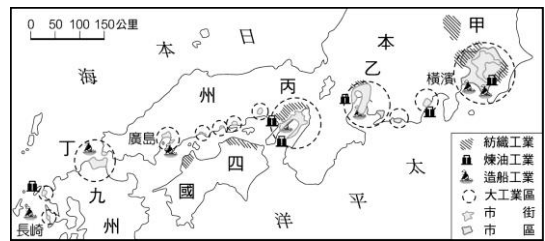
40. 亞洲地區當前重要的區域經濟組織「ASEAN」，成員大多來自圖中何處？ (A)文 (B)乙 (C)丙 (D)丁
41. 季風亞洲為世界人口主要集中區域，而季風亞洲不包括哪個區域？ (A)文 (B)乙 (C)丙 (D)丁

◎2016年為印度半島百年來溫度最高的一年，印度熱浪更在首都新德里創下攝氏45度溫，造成千餘人死亡，部分地區甚至高達攝氏50度，馬路上的斑馬線因而「融化」，印度氣象局預估需等到雨季來臨時，風向出現明顯的變化，才能有效降溫解除熱浪。請問：

42. 印度的熱浪高溫讓民眾苦不堪言，依當地氣候類型推估，通常要等到幾月，高溫現象才開始逐漸舒緩？(A)2月 (B)4月 (C)6月 (D)11月。
43. 印度氣象局預測需等到風向出現改變，才能有效降溫，這時的風向最可能改變為何？ (A)東北風 (B)東南風 (C)西北風 (D)西南風。
44. 印度半島在雨季來臨之後，附圖中何處由於地勢低窪，需提防洪水為患？ (A)甲 (B)乙 (C)丙 (D)丁。

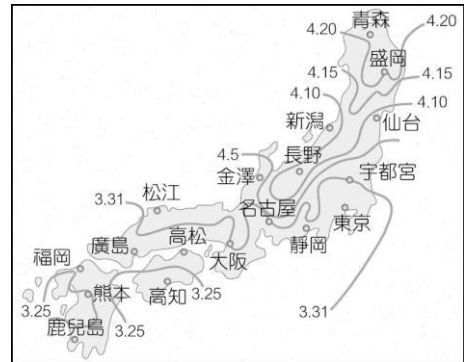


◎附圖為日本主要的工業區及都市分布圖。請問：



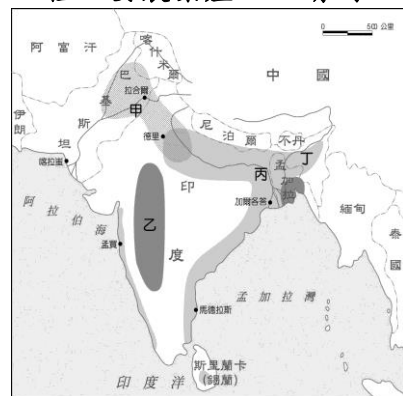
45. 圖中的甲區是哪個工業地帶？ (A)名古屋 (B)京濱 (C)阪神 (D)北九州
46. 圖中所呈現的工業區分布狀況，與下列哪項優勢有關？ (A)充分利用廉價水電 (B)接近煤礦區 (C)便於原料和產品的運輸 (D)方便大量使用本地原料

◎附圖為某年3月日本氣象廳發布的「櫻前線」，預測日本各地櫻花開花日期的賞櫻地圖。請問：



47. 日本各地的櫻前線日期不盡相同，主要與下列哪項因素有關？ (A)洋流 (B)緯度 (C)地形 (D)水文
48. 如果婷婷想要在清明節假期赴日本看到盛開的櫻花，她最不可能到哪個城市賞花？ (A)大阪 (B)東京 (C)名古屋 (D)青森

◎附圖為南亞農產分布圖，圖中甲、乙、丙、丁分別代表四種主要農業產區。請問：



49. 印度受到早期英國殖民的影響，當地盛產茶，以提供英國發展生活所需，成為該地區重要的經濟作物。印度的茶葉主要生產地區位於圖中何處？ (A)甲 (B)乙 (C)丙 (D)丁
50. 南亞哪個地區因氣候溼熱、土壤肥沃、地形平坦且人口密集，成為種植水稻與黃麻的主要地區？ (A)甲 (B)乙 (C)丙 (D)丁

## 答案

01 CABAA DCCDA

11 BBABA DCBCD

21 AACAD BBDDDB

31 CACBB DBCAB

41 DCDCB CBDDC