

一、單一選擇題

1. ( )由都市化程度可以看出一國或一地的經濟發展程度，如附表中可發現哪些國家的經濟發展較差？(A)甲乙 (B)乙丙 (C)丙丁 (D)甲丁。

國家	甲	乙	丙	丁
都市化程度	20%	31%	100%	89%

2. ( )陳老闆原本在彰化縣開設工廠，近年來因為工資上漲，成本增加，為了降低生產成本，便將工廠遷往中國。請問：陳老板開設的工廠最可能為何？(A)玩具工廠 (B)通訊產業工廠 (C)石化工廠 (D)鋼鐵工廠。
3. ( )臺中加工出口區成立之後，中部區域主要以機械及紡織工業為主。近年來為增加競爭力，產業逐漸轉型往何種方向發展？(A)技術升級 (B)大量生產 (C)傳統製法 (D)調降工資
4. ( )東部區域就業人口比例以第三級產業特別發達，甚至超過了農、工業活動。請問：東部區域第三級產業活動類別主要為下列何者？(A)商業 (B)金融業 (C)教育業 (D)觀光業。
5. ( )由於經濟發展，臺灣目前已形成五大都會區，其中中心都市不包括下列哪一個城市？(A)臺中市 (B)高雄市 (C)臺北市 (D)花蓮市。
6. ( )下列哪一個縣市受到高科技產業的影響，吸引了眾多高學歷人口的移入，使該縣市民眾的教育程度較其他縣市為高？(A)新竹市 (B)臺中市 (C)嘉義市 (D)臺東縣。
7. ( )某次侵臺的颱風路徑如圖 1 所示，登陸時造成首當其衝的山脈出現土石滑落的災情，連當地的軍事基地都受到影響。若從圖 1 中資料判斷，颱風登陸時哪一座山脈首當其衝？(A)雪山山脈 (B)阿里山山脈 (C)中央山脈 (D)海岸山脈。

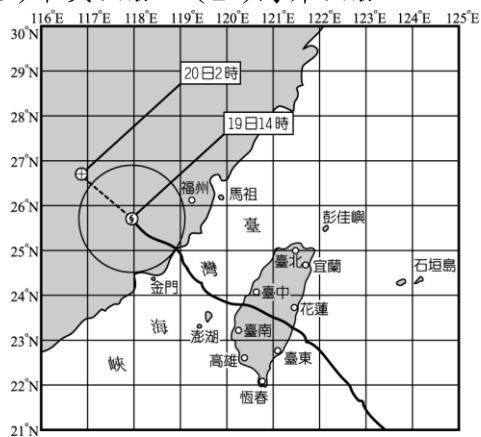


圖 1

8. ( )圖 2 為學力鐵路公司的票價計費方式資料。若以相同的計費方式，游小寶打算從丙站到丁站，需要負擔多少費用？(A) 20 元 (B) 60 元 (C) 70 元 (D) 80 元。

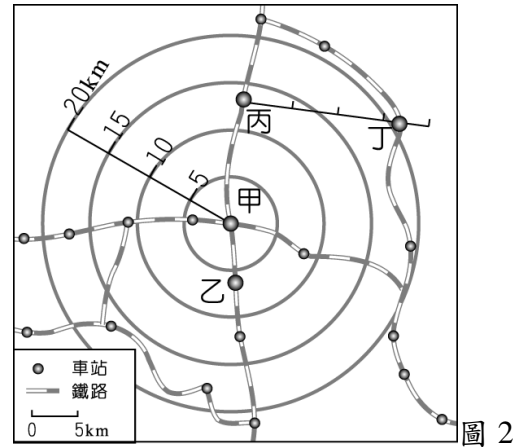


圖 2

不管您的搭乘路徑為何，本公司只以您起點與訖點間的直線距離收費。其優惠方式如下：

- (1) 在 5 公里內僅收費 25 元，超過 5 公里未達 10 公里收費為 45 元，超過 10 公里未達 15 公里收費為 60 元，超過 15 公里未達 20 公里收費為 70 元，超過 20 公里以上，統一優惠收費 80 元。
- (2) 例如從甲站出發，不管您搭乘哪一路線，到乙站只要 45 元，到丙站只要 60 元，到丁站只要 80 元！

9. ( )臺鐵西部幹線在苗栗、臺中路段分為山線和海線，相較於海線，山線的路線分布較靠近下列哪一座山脈？(A)海岸山脈 (B)阿里山山脈 (C)玉山山脈 (D)中央山脈。
10. ( )公路是目前世界各地分布最普遍的交通方式，可深入各地，此種特性源自其具備下列哪一種優點？(A)適應地形能力佳 (B)運費較低 (C)運量較大 (D)適合長程運輸。
11. ( )關於臺灣各區域人口分布的差異，下列敘述何者錯誤？(A)西部區域人口較東部區域密集 (B)東部區域人口密度較低 (C)金馬地區人口密度最低 (D)北部區域人口分布最為密集
12. ( )圖 3 為臺灣都市化程度的統計圖。請問：圖 3 中 2015 年的「81」所代表的含意為何？(A)都市總人口數 81 萬人 (B)都市平均收入 81 萬元 (C)都市人口占總人口數的比例 81% (D)都市人口密度 81 人/平方公里

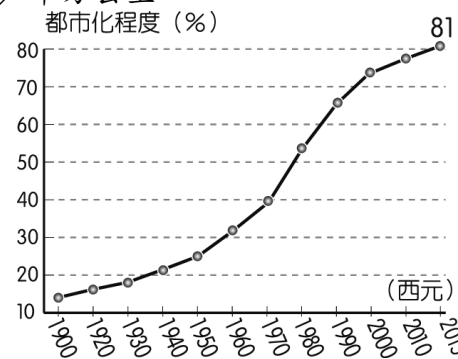


圖 3

13. ( )圖 4 為臺灣四大區域某項數據資料的圓餅圖分布狀況，由圖中數據判斷，該圖最可能為下列何者？(A)面積比例圖 (B)人口比例圖 (C)平均生活空間比例圖 (D)稻作面積比例圖

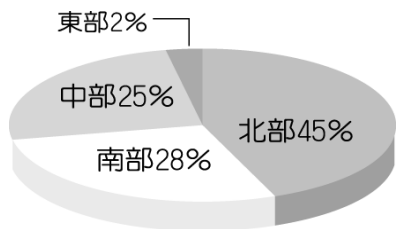


圖 4

14. ( )圖 5 是學力鎮的公車時間表，站牌中四個城市與學力鎮的距離皆相等。若只考慮起點和終點的運輸需求，哪一個城市和學力鎮的時間與空間距離因此顯得最短？(A)永寧市 (B)永福市 (C)永興市 (D)永安市。

快樂客運		學 力 鎮
往永寧市	7:00-22:00 每10分鐘一班	
往永福市	7:00 9:00 11:00 固定班次 13:00 15:00 17:00	
往永興市	7:00-18:00 每30分鐘一班	
往永安市	7:00 8:00 9:00 10:00 11:00 12:00 固定班次 13:00 14:00 15:00 16:00 17:00	

圖 5

15. ( )臺灣國宴上推出的地方小吃中，其中一道是蚵仔煎。廚師特別選擇從產地直送的蚵仔，希望在國宴上呈現最美味新鮮的佳餚。請問：這些蚵仔最主要的產地為下列何處？(A)東北部岩岸地區 (B)花東斷層海岸 (C)西南部沙岸潟湖 (D)南部珊瑚礁海岸
16. ( )「臺南沿海有大片的海埔地及許多離岸沙洲，不但是臺灣早期開發的重要地區，也擁有二處國際級溼地，因而政府於數年前提出成立『台江黑水溝國家公園』的規畫案。此國家公園的成立，不僅可保育生態環境、保存重要的歷史資產，同時更可以利用當地昔日的傳統產業來發展具地方特色的生態旅遊，是一座兼具自然、歷史、產業三大特色的國家公園。」上文中提及當地昔日的傳統產業，最可能是指下列何者？(A)水泥業 (B)採煤業 (C)製茶業 (D)晒鹽業
17. ( )臺灣高鐵通車後，西部各地交通往來的時間大幅縮短。若真欣想計算乘坐高鐵與臺鐵的時間相差多少，則下列哪一路段會差最多？(A)臺北—桃園 (B)新竹—臺南 (C)臺北—高雄 (D)臺中—嘉義。
18. ( )聚落的發展受到地理位置的影響相當明顯，使得部分聚落出現都市化快速的現象，形成區域差異。請問：都市化快速指的是都市中何種人口變化的狀況？(A)都市人口出生率快速 (B)都市人口自然增加率快速 (C)都市人口社會增加明顯 (D)都市就業率上升。
19. ( )透過人造衛星的傳送，我們可以獲得哪些資訊？(甲)世界盃足球賽的實況轉播(乙)氣象預測(丙)「海燕」颱風侵襲菲律賓的災情報導(丁)包裹快遞 (A)甲乙丙 (B)甲乙丁 (C)甲丙丁 (D)乙丙丁。
20. ( )聚落種類依其產業結構不同而有區別，因此外部條件變化對不同聚落的影響差異甚大。下列何種聚落受到氣候災害的影響較其他聚落小？(A)農業聚落 (B)商業聚落 (C)漁業聚落 (D)牧業聚落。
21. ( )「世界罕見的海底溫泉，正好位於臺灣的東部外海

。溫泉和壯闊的海景令人流連忘返。」請問：上文所述的地點應為下列何者？(A)澎湖 (B)小琉球 (C)蘭嶼 (D)綠島。

22. ( )都市聚落的發展受到交通路線的影響相當大，請問：目前臺灣境內的五大都會區可以藉由哪一交通路線加以串聯，因此更有利其持續擴張？(A)航空運輸 (B)捷運系統 (C)港口船運 (D)高速公路。
23. ( )國內旅遊風氣愈趨盛行，而近年來宜蘭縣境內的南方澳漁港因為交通的發展而成為臺北地區遊客的最愛，藉由便利的交通可以一日來回當地，也帶動了地區的繁榮。這種轉變主要受到下列哪一項交通建設的影響？(A)臺灣高鐵 (B)淡水觀光遊艇 (C)蔣渭水高速公路 (D)福爾摩沙高速公路。
24. ( )臺灣目前主要的產業活動以科技業為主，分別在不同縣市設置了相關科學園區。請問：哪一園區設立的時間最早？(A)內湖 (B)新竹 (C)台中 (D)高雄
25. ( )臺灣東部及金馬地區的發展和北部、中部、南部等區域出現差異。請問：目前東部區域發展明顯落後於其他區域的項目中不包括下列何者？(A)就業機會 (B)空氣品質 (C)經濟發展 (D)教育程度。
26. ( )圖 6 為甲、乙、丙、丁、戊五個集村的位置示意圖。請問：圖 6 中甲、乙、丙、丁、戊五個集村可能最先發展成為都市的是哪兩個？(A)甲乙 (B)甲丙 (C)丁戊 (D)乙丁。

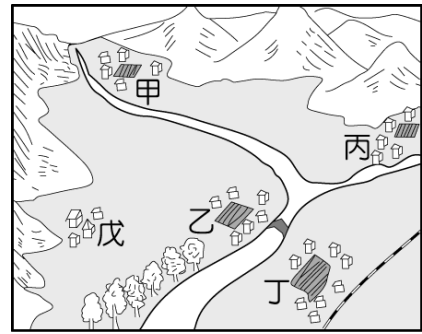


圖 6

27. ( )圖 7 為臺灣某離島的獨特傳統文化景觀，請依其特色判斷，該離島可能是下列何者？(A)金門 (B)馬祖 (C)蘭嶼 (D)綠島。




圖 7

28. ( )金門、馬祖地區的人口，以老年人口比例偏高，這和下列何項因素的關係最大？(A)地震頻繁 (B)就業問題 (C)面積狹小 (D)氣候惡劣。
29. ( )臺灣中部區域為農業大鎮，近年來受到開放國際農產品進口的影響，農業面臨轉型危機。該地區農業轉型以下列哪些類型為主？(甲)花卉蔬果專業區(乙)大規模農業(丙)自給性農業(丁)休閒農業 (A)甲乙 (B)丙丁 (C)甲丁 (D)乙丙。
30. ( )劉董有一批 VOLVO 的汽車要從瑞典運到台灣，請問 he 會選擇哪一種運輸方式？(A)空運 (B)海運 (C)公路 (D)鐵路。

31. ( )下列何種地理條件容易形成散村景觀？(A)降水量不多，缺乏水源之處 (B)水源充足的平原地帶 (C)多盜賊、治安不佳之處 (D)開發時間較早的水田地區。
32. ( )每到油桐花季時，皆會吸引大批遊客前往中部的山城賞花，順便到以客家文化為主題的休閒農場遊玩。請問：上述活動地點主要分布於哪一縣市？(A)甲 (B)乙 (C)丙 (D)丁。



圖 8

33. ( )王同學從 Google Earth 中見到臺灣某個港口景觀，彎曲的海岸地形相當有利於該港口的興建；然而由於鄰近地區多以丘陵為主，因此不利其擴建發展。請問：王同學所見到的港口應該為下列何者？(A)臺中港 (B)蘇澳港 (C)基隆港 (D)高雄港。
34. ( )圖 9 為臺灣早期三大港口的分布位置，其中「一府」更是當時的第一大港，為臺灣發展的重心。請問：下列有關這三個港口的敘述，何者錯誤？(A)艋舺位於今日的政經中心 (B)府城位於現在南部最大的都市 (C)鹿港相鄰臺灣海峽 (D)府城以人文古蹟著稱。



圖 9

35. ( )桃園於 2014 年 12 月 25 日起升格為直轄市，為目前社會增加率最高的縣市。請問：這與下列哪一項因素所提供的拉力關係最為密切？(A)航空運輸 (B)高鐵通車 (C)面積廣大 (D)政治中心。
36. ( )交通路線的興建與聚落發展兩者相互影響，請由圖 10 中興建於 1921 年的臺鐵平溪支線位置來加以判斷，其興建之初最可能以何種目的為主？(A)加工出口 (B)開採礦產 (C)運載甘蔗 (D)擴大腹地。

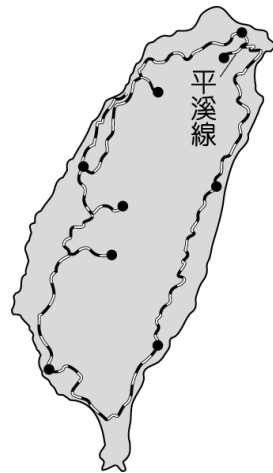


圖 10

37. ( )陸、海、空運等交通工具的運輸特性各不相同，一般而言，公路運輸最適合提供下列何種性質的交通服務？(A)長途大量運輸 (B)長途少量運輸 (C)短程大量運輸 (D)短程少量運輸。
38. ( )臺灣因工商發展、人口密集，因此交通建設已相當發達，但是至今哪一項交通方式仍深受地理環境影響而發展不佳？(A)河運 (B)海運 (C)空運 (D)公路。
39. ( )荷蘭花店想在情人節推出「黑衣淑女~Black Lady」的稀有玫瑰花品種，請問老闆娘會選用哪一種運輸方式比較恰當？(A)海運 (B)空運 (C)鐵路 (D)公路。
40. ( )近年來養生觀念相當盛行，許多食品皆強調天然無污染。下列哪一個區域因為自然環境特色，向來以優質、無污染的農產品著稱？(A)中部區域 (B)南部區域 (C)東部區域 (D)北部區域。
41. ( )知本溫泉為臺灣著名的景點，在八八風災時曾經受創相當嚴重，經過數年的努力後，逐漸恢復原來的面貌。請問：當地溫泉的成因與下列何者景觀的成因大致相同？(A)陽明山 (B)三仙臺 (C)台江國家公園 (D)太魯閣峽谷。
42. ( )宜蘭自從高速公路完工後，因為便捷的交通，吸引許多人前往度假，為當地觀光業的發展帶來龐大的收益。請問：該縣市位於臺灣哪一個區域中？(A)北部區域 (B)中部區域 (C)南部區域 (D)東部區域。
43. ( )資安從金門買回來如圖 11 的紀念品，此雕塑為金門的守護神，主要為適應當地環境而發展出來。請問：此守護神的形成與當地何種氣候條件有關？(A)春季多霧 (B)夏季多雨 (C)秋季涼爽 (D)冬季強風。



圖 11

44. ( )圖 12 為某縣市的人口結構示意圖，可反映出當地的社會發展狀況。請問：若根據圖 12 中資料判斷，該

縣市最有可能為下列何者？(A)花蓮縣 (B)嘉義縣 (C)澎湖縣 (D)臺北市。

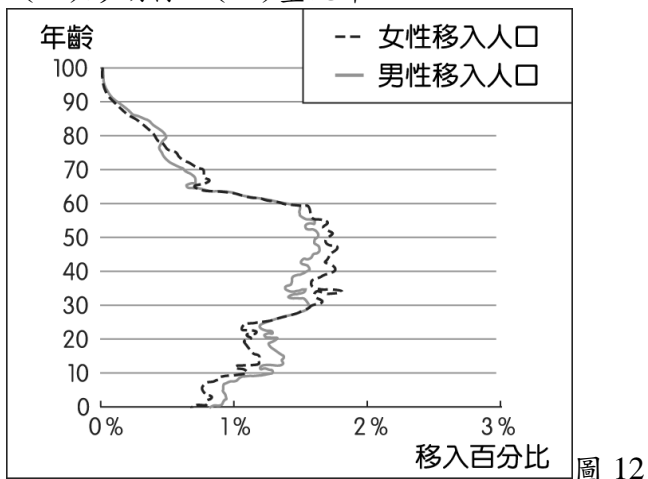
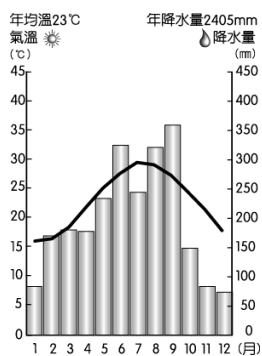
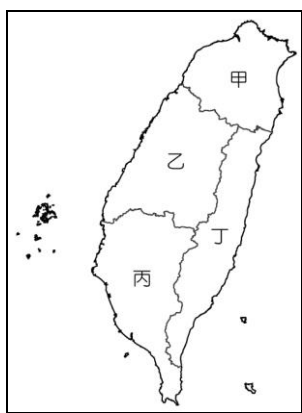


圖 12

45. ( )臺灣本島依各區域的自然環境及區域特色而分為四個區域。請問：圖 13 中的氣溫及降水量圖最可能出現在圖 14 中的哪一區域？(A)甲 (B)乙 (C)丙 (D)丁。

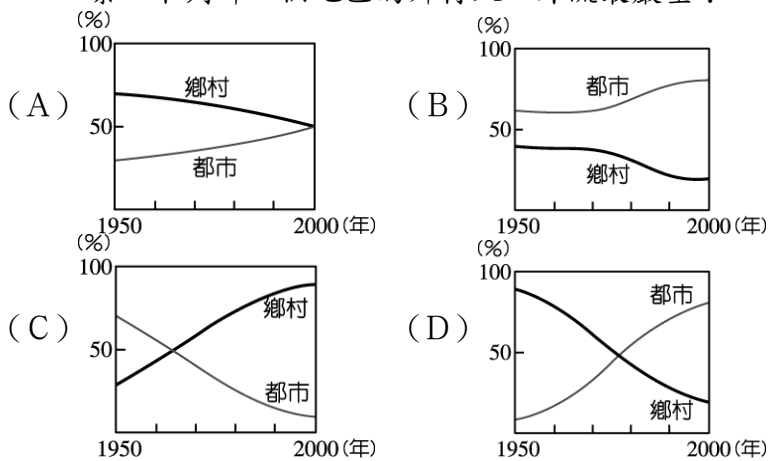


▲圖 13



▲圖 14

46. ( )下列是四個地區在 1950 年至 2000 年間，鄉村與都市人口占總人口比例的變化情形。若只考慮遷移的因素，下列哪一個地區的鄉村人口外流最嚴重？



二、題組

◎連接北部區域的臺灣桃園國際機場捷運已通車，將有利於北部區域產業的整合，以增加臺灣的競爭力，路線如圖 15 所示。請問：

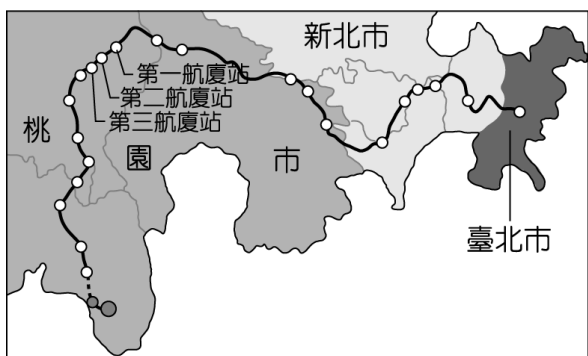


圖 15

47. ( )機場捷運的路線規畫主要連接臺灣最大的對外國際

機場及政經重心之間的交通往來，將有效增加物流的運送效率，帶動周圍產業的興起。若以其路線判斷，對於哪一產業活動的串聯幫助最大？(A)鋼鐵業 (B)石化業 (C)紡織業 (D)電子業。

48. ( )機場捷運線動工後，帶動周遭區域的房價高漲，若由圖 15 中路線判斷，周遭區域未包括下列哪一縣市？(A)新竹市 (B)桃園市 (C)新北市 (D)臺北市。

◎圖 16 為臺灣南部區域的行政簡圖，請由圖 16 中資料回答下列問題：



圖 16

49. ( )南部區域目前主要以重工業活動為主，第二次世界大戰後設立的加工出口區為臺灣建立良好的工業基礎。請問：臺灣的重工業中心主要分布於圖中哪一個縣市？(A)甲 (B)乙 (C)丁 (D)戊
50. ( )目前南部區域哪一個縣市正積極發展觀光業，壯觀的柱狀玄武岩吸引許多遊客前來？(A)乙 (B)丁 (C)戊 (D)己。

- 1AAADD
- 6ADCDA
- 11CCBAC
- 16DCCAB
- 21DBCBB
- 26DCBCA
- 31BACBA
- 36BDABC
- 41AADDA
- 46DDACD