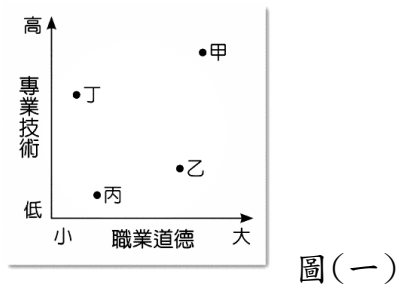


彰化縣田尾國中一0八學年度第一學期第三次段考三年級公民科試題卷

一、選擇題:每題 2 分，總分 100 分

1. 慈濟醫學院張世忠主任強調：「醫術、醫德加起來並不是一百分，而是要各占一百分。」請根據圖(一)判斷，圖中甲、乙、丙、丁的哪個位置，最能代表張世忠主任所強調的理念？ (A)甲 (B)乙 (C)丙 (D)丁



※請閱讀下列文章，回答 2~6 題:

員工超時工作的現象在臺灣十分普遍，且有些公司並未按照法令給予員工例休假，讓他們不能獲得適當休息，以致過勞死的事件時有所聞。2018 年 1 月，有關勞工休息日加班費給付方式、延長工時限制、例假安排、特別休假規定彈性不足等問題，「甲」院三讀通過《勞動基準法》部分條文修正案，並於 2018 年 3 月 1 日起正式施行，以期提高勞工的工作環境品質。

2. 「甲」院官員的產生方式，下列何者正確？ (A)由總統提名，經立法院同意後任命之 (B)人民直接選舉 (C)總統直接任命 (D)由行政院長提請總統任命
3. 關於「甲」院官員的職權，下列何者屬之？ (A)對行政院院長提出不信任案 (B)對有疑義的法律進行解釋工作 (C)規畫國家的政策與執行 (D)提出施政報告與接受質詢
4. 《勞動基準法》應屬於下列哪一法律位階？ (A)命令 (B)法律 (C)憲法 (D)憲法增修條文
5. 幾個鄰居聚在一起討論《勞動基準法》部分條文修正案。下列何人處於「就業」狀態？

(A)




(B)



(C)



(D)



6. 除了有良好的工作環境及待遇之外，工作者也應具備職業倫理。下列何人最具有職業倫理？ (A)阿綦在工作時保持敬業精神與職業道德，並且不斷充實自己

班 號 姓名

- (B)小恩工作時態度散漫，因此頻頻出錯 (C)阿合無法勝任自己的工作，又不肯自我進修，總是得過且過 (D)阿輝常常只做表面功夫，只要老闆沒看到就趁機摸魚

※依據圖(二)回答 7~13 題:



圖(二)

7. 下列哪一位好友的回覆最正確且對靜玟最有助益？ (A)小漢 (B)小晟 (C)小濱 (D)小創
8. 下列何者不是「失業」的原因？ (A)個人轉換工作 (B)沒有工作意願 (C)產業轉型 (D)經濟不景氣
9. 為了降低失業人口，政府可以透過哪些方式協助失業者？(甲)開辦各種職訓班(乙)提供就業諮詢(丙)強迫業者不准裁員(丁)提供職業輔導 (A)甲乙丙 (B)乙丙丁 (C)甲丙丁 (D)甲乙丁
10. 靜玟跟家人討論後，決定向銀行貸款 6 百萬元做為創業基金，將自家一樓裝修成咖啡店，並請媽媽到店裡免費幫忙。請問，靜玟請媽媽到店裡免費幫忙，是想減少使用哪一項生產資源？ (A)自然資源 (B)資本 (C)人力資源 (D)企業才能
11. 靜玟的咖啡店應屬於何種企業經營型態？ (A)獨資 (B)合夥 (C)公辦民營 (D)股份有限公司
12. 靜玟若想當個成功的創業者，應該抱持哪些正確的觀念？(甲)先做好風險評估(乙)不顧消費者權益(丙)請自家人幫忙，可免除「薪資」成本(丁)衡量本身具備的條件 (A)甲乙 (B)甲丁 (C)乙丙 (D)丙丁
13. 表(一)中有關我國目前「失業給付」的相關敘述，何者錯誤？ (A)甲 (B)乙 (C)丙 (D)丁

甲	法律依據	《勞動基準法》
乙	給付對象	符合條件的失業者
丙	給付期限	原則上以 6 個月為限
丁	目的	維持失業者基本生活，並輔導其儘速就業

▲表(一)

14. 下列何者的消費行為是以「需要」為購買目的？ (A) 阿翎因為手機樣式跟不上流行，所以再買一支新手機 (B) 小筠因為修正帶用完而買一個新的 (C) 阿展為了向同學炫耀而買名牌球鞋 (D) 小文為了完整收集而買下造型馬克杯
15. 每個人所擁有的時間和金錢都是有限的，消費者應如何將錢做最有效的利用？ (A) 有錢吃大餐，月底吃便當 (B) 一個錢綁二十四個結 (C) 小錢搏大錢，一券在手希望無窮 (D) 當用則用，當省則省

※請閱讀下列文章，回答 16~22 題：

于家一家人租屋多年，很想擺脫「無殼蝸牛」的現況，於是大家決定努力開源節流，以便早日實現這個夢想。

爸爸：「我覺得投資股票獲利比較高，能夠快速累積財富。」

哥哥：「我最近買了許多政府為籌募資金而發行的一種憑證，反正政府不會倒，利息錢真的還不少。」

姊姊：「最近新臺幣貶值，我建議購買外國貨幣，賺取匯差。」

爺爺：「樂透彩又加碼，去購買樂透彩券，只要中大獎，我們就發財了。」

媽媽說：「理財需要正確觀念，要學會儲蓄並懂得『當用則用，當省則省』的道理！」

16. 上述何人的做法屬於「節流」的部分？ (A) 爸爸 (B) 哥哥 (C) 爺爺 (D) 媽媽
17. 哥哥投資的是哪一種理財工具？ (A) 股票 (B) 外匯 (C) 債券 (D) 基金
18. 下列何人的投資建議最符合「安全、低風險」的條件？ (A) 姊姊 (B) 哥哥 (C) 爸爸 (D) 媽媽
19. 姊姊想把存了兩年的打工收入拿來投資，在投資之前他應做好下列哪些準備工作？(甲)蒐集各種理財工具的資料(乙)全部給專業人士全權處理(丙)請教專業人士協助理財(丁)選擇合法的金融機構 (A) 甲乙丙 (B) 乙丙丁 (C) 甲丙丁 (D) 甲乙丁
20. 表(二)是于家人各自運用的四種投資理財工具，表中列出投資時的資金與投資一年後所獲利的情形。請問：何者的投資報酬率最低？ (A) 爸爸 (B) 媽媽 (C) 哥哥 (D) 姊姊

理財工具	投資金額	獲利金額
爸爸	3 萬元	2,400 元
媽媽	5 萬元	2,000 元
哥哥	10 萬元	6,000 元
姊姊	15 萬元	7,500 元

21. 于小弟今年國三，也想為家中盡一分力量。請問：下列哪一項行為最適合他？(A)培養有計畫使用金錢的習慣 (B)到便利超商上夜班打工 (C)上網販售自製的盜版光碟 (D)休學跟著父母學做生意

22. 關於家庭經濟規畫的敘述，下列何者正確？ (A) 男性為一家之主，必須承擔較多責任 (B) 女性應自動放棄財產的使用權利 (C) 國中階段的子女分擔家務 (D) 在繼承權上，兒子享有優先權
23. 下列哪位的理財原則與投資理財的名言——「不要將所有的雞蛋放在同一個籃子裡」的理念不同？ (A) 阿鋒將年終獎金全部拿去買股票 (B) 小渝將薪水的二分之一規畫購買保險 (C) 阿慶將定存解約，拿去購買共同基金、債券及保險 (D) 大燊每個月拿出 5,000 元，以定時定額方式購買共同基金

※小穎離家在外打拼。為能早日成家立業，照顧父母，他進行家庭經濟規畫，表(三)是他上個月的收支紀錄表。

請回答 24~27 題：

▼表(三)

繳交稅款	7,000 元	水電費	1,000 元
打工收入	12,000 元	捷運費用	700 元
定期存款	5,000 元	工作獎金	2,000 元
房屋貸款	8,000 元	保險費	1,000 元

24. 若小穎一個月的薪水是 25,000 元，根據表(三)紀錄，上個月收入的總共有多少錢？ (A) 14,000 元 (B) 27,000 元 (C) 37,000 元 (D) 39,000 元
25. 小穎繳交的水電費應屬於政府的哪一項收入來源？ (A) 租稅 (B) 罰款 (C) 規費 (D) 公營事業盈餘收入
26. 下列哪一個都市最不可能是小穎工作的地方？ (A) 桃園市 (B) 高雄市 (C) 新竹市 (D) 新北市
27. 下列是大尾國某年的就業及失業數據，根據資料顯示，目前大尾國失業率應較接近下列何者？ (A) 40% (B) 42.5% (C) 4.2% (D) 3%

全國總人口數：約 2,000 萬人  
非勞動力人口數：約 800 萬人  
勞動力人口數：約 1,200 萬人  
目前就業人口數：約 1,150 萬人  
請領失業給付者：約 35 萬人

28. 阿森擁有多張信用卡，因而過度消費，導致積欠卡債多達 200 萬元。他無力還款，造成個人信用不良。請問：此狀況最有可能對他造成下列何種影響？ (A) 以後很難再向金融機構借錢 (B) 可以向其它金融機構繼續借錢 (C) 對求職工作不會造成任何影響 (D) 不會在銀行以外的任何機構留下信用記錄
29. 圖(三)中出現的數字，其代表的含意應為下列何者？ (A) 生產過程中所經歷的流程步驟 (B) 提供產品原料的產地數目 (C) 產品生命週期的排碳量 (D) 製造產品所使用的原料種類



圖(三)

※小婷認為環境保護是每個人的責任，因此平常身體力

行，希望能為環保盡一分力。請參考下列「生活碳足跡」的計算公式，回答 30~34 題：

- \*製造垃圾的 CO<sub>2</sub> 排放量＝公斤數×2.1
- \*家居用電的 CO<sub>2</sub> 排放量＝耗電度數×0.6
- \*居家用水的 CO<sub>2</sub> 排放量＝用水度數×0.2
- \*食用肉品的 CO<sub>2</sub> 排放量＝公斤數×13

30. 小婷善於廢物利用，盡可能減少製造垃圾的機會。她 1 個月製造垃圾約 1 公斤，排碳量約為多少？ (A) 0.6 公斤 (B) 0.2 公斤 (C) 2.1 公斤 (D) 13 公斤
31. 小婷一個月用電的度數為 200 度，用水度數為 10 度。她一個月使用水、電的排碳量共為多少？ (A) 200 公斤 (B) 122 公斤 (C) 172 公斤 (D) 210 公斤
32. 小婷一個月食用肉品約 3 公斤，其排碳量約為多少？ (A) 3 公斤 (B) 13 公斤 (C) 39 公斤 (D) 6.18 公斤
33. 一棵 30 年樹齡的冷杉樹，一年能吸收 111 公斤的二氧化碳，若要吸收小婷一個月所產生的排碳量，至少需要幾棵 30 年樹齡的冷杉樹？ (A) 5 棵 (B) 10 棵 (C) 15 棵 (D) 18 棵
34. 小婷與同學一起報名「減碳愛綠島」活動，參加了交通部觀光局策畫的三天兩夜「綠島低碳生態旅遊」。請問：下列何者不可能出現在這次的旅遊行程中？ (A) 在使用免洗餐具的餐廳吃飯 (B) 浮潛時不傷害海中生物 (C) 騎自行車環島 (D) 投宿在不提供拋棄式盥洗用具的低碳民宿

※一位曾在軍用品紡織廠工作的設計師與幾位職業攝影師好友，以 30 萬元創業基金創立包包品牌，除了使用軍用材質製作專業攝影包之外，還開發輕旅行相機包、旅行護照包、手榴彈零錢包……等商品，因專業知識多、話題性十足，讓此品牌在網路上迅速竄紅。為解決網購金流、物流的管理，還進駐網路購物平臺，未來，他們還計畫積極爭取外銷機會，希望成為業界第一品牌。請回答 35~37 題：

35. 依據上文，該企業在草創時期的經營模式，下列敘述何者正確？ (A) 由一人單獨出資 (B) 社會大眾可購買股份成為股東 (C) 是最單純的企業經營型態 (D) 若虧損須以出資人的私人財產來支付
36. 上文中畫線部分的行為所造成的影響，不包括下列何者？ (A) 降低成本 (B) 增加市場競爭力 (C) 提供消費者新的產品 (D) 擴大生產規模
37. 依據上文，該企業為解決網購金流、物流的管理，所採取的方法為何？ (A) 利用內部考核制度 (B) 與其他企業合作 (C) 積極擴展海外經營 (D) 專注設計開發
38. 聯合科技公司對於員工進修的學費、書籍和其他費用

全部包辦，而且讓員工一週請 3 小時假，不扣薪水，一旦獲得學士學位，可以獲得價值 1 萬美金的公司股票。公司員工因此更加賣力工作，為公司增加更多利潤。請問：上述企業對進修員工採取的措施稱為什麼？ (A) 投資 (B) 生產 (C) 創業 (D) 選擇



39. 超商業者於年節、特別節日，均會推出應景預定商品，例如年菜、蛋糕等供消費者訂購。請問，某位民眾收到訂購的年菜後，發現分量明顯不足，因此向業者申訴，業者立即坦承錯誤，向民眾道歉並賠償損失。上述業者的處理措施，展現出對下列何者的重視？ (A) 政府 (B) 消費者 (C) 員工 (D) 生態環境
40. 超商業者除了販售商品外，也響應環保觀念，提供資源回收服務，如廢棄的電池、筆記型電腦、手機等，回收後，業者會支付店內消費抵用金給民眾。請問：上述業者的回收服務，顯示出下列何種意義？ (A) 促進國家的經濟發展 (B) 鼓勵工業的成長轉型 (C) 落實企業的社會責任 (D) 擴大營運的整體規模
41. 秦朝的「田律」規定，每年的一段期間內，不准進山砍伐森林，不准誘捕幼獸；清朝頒布禁令，嚴禁於虎丘周圍設染坊，以保護水質。綜合上述二例內容判斷，其中隱含的觀念與下列何種做法的目的最類似？ (A) 運用觀光資源，促進經濟發展 (B) 採用嚴刑峻罰，遏止犯罪問題 (C) 限制開發範圍，避免破壞環境 (D) 立法保護古蹟，維護文化資產
42. 圖(四)報導是某報紙刊載的部分內容，據此判斷，其最可能在探討下列何者之間的關係？ (A) 行銷策略與降低成本 (B) 科技運用與創造利潤 (C) 經營自由與市場價格 (D) 商業利益與社會責任



該公司為提高銷售量，將網路上尚未經查證的消息直接刊登於雜誌上，並大肆渲染，使雜誌銷售量大增。事後證實根本沒有這回事，然而此舉不但混淆社會視聽，也造成當事人極大的困擾。

圖(四)

43. 新聞報導：某業者成立基金會，並設置專線作為捐款平臺，讓民眾可以透過這個管道，即時捐款給需要幫助的人，民眾每捐一元，基金會也捐一元，共同響應公益活動。根據上述內容判斷，關於該基金會的敘述，下列何者最適當？ (A) 屬於地方自治組織的一種 (B) 成立依據為《集會遊行法》 (C) 推動該活動可落實社會責任 (D) 該組織的性質屬於職業團體
44. 近年來，自然景觀休閒遊憩「遊客總量管制」的觀念漸受重視，亦即在不破壞自然環境的前提下，評估該景觀可以承受的限度來安排遊客人數，如福山植物園便是採行事先申請、限額入園的做法。請問：上述內容最能顯示下列何種意涵？ (A) 土地過度使用超

- 過負荷 (B)珍惜資源以求永續經營 (C)國土使用規畫日漸完備 (D)週休二日休閒模式改變
45. 彥廷訪問四家企業老闆，以了解其經營之道。下列何人的說詞顯示其善盡企業的社會責任？

(A)  (B) 

(C)  (D) 

46. 生產者從事生產活動所形成的組織稱為「企業」，圖(五)情境中的企業型態應為下列何者？ (A)大宇與家人合資的大家庭豆花店 (B)業績長紅的歡樂電子股份有限公司 (C)小綺一人用多年積蓄開的麻辣滷味攤 (D)阿惟嘗試一人創業開的美甲工作室

我必須與合夥人討論才能決定，畢竟大家都有出資。



圖(五)

47. 根據圖(六)中小馬的建議，下列哪一商家應是阿雲最佳的消費選擇？ (A)田尾商店：成本供應，無保固期 (B)尾中網拍：貨物售出，概不退换 (C)尾田專賣：小本經營，無退换货 (D)勝利精品：如有故障，包退包換



圖(六)

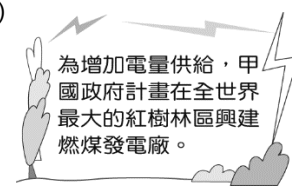
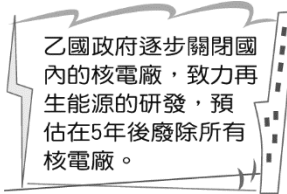
48. 近年來，政府與企業為了維護環境的永續發展，積極推動節能減碳的工作。其實，身為國中生也能為地球盡一分心力，下列哪些做法即可以達到節能減碳的目的？(甲)不使用電器時，隨手關掉電源開關(乙)多吃國外進口的水果(丙)購買包裝少的產品(丁)多爬樓梯、少搭電梯(戊)為求衛生，擦桌子用面紙比用抹布更乾淨 (A)甲乙丙 (B)乙丙丁 (C)甲丙丁 (D)甲乙丁
49. 在臺灣經營婚紗公司的莎莎，為了開發新市場想赴中國投資，圖(七)是大哥對她的事業所提出的建議。請問：莎莎大哥的這一番話，是提醒她投資時應考慮下列何事？ (A)透過與其他廠商合作，以降低成本 (B)透過內部管理，以提升員工效率 (C)縮小投資規模，以降低虧損 (D)具備風險管理的能力，評估投資可行性

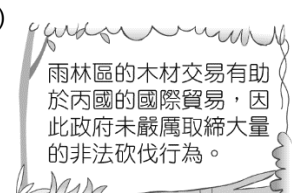
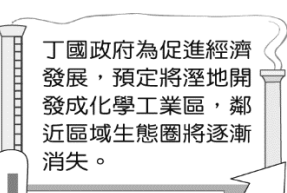
中國大陸的法規和臺灣有很大的差異，妳要先弄清楚相關規定，以免吃虧上當，而且近年來中國工資上漲，勞力成本增加，文化背景和臺灣不一樣的員工也不好管理，妳可要考慮清楚。



圖(七)

50. 大益這次報告的內容是探討各國的經濟政策，他收集了下列四則報導，其中哪一個國家的政策具有永續發展的觀念？

(A)  (B) 

(C)  (D) 

答 案

- 1、 ABABA ACBDC  
11、ABABD DCDCD  
21、ACADD CCACC  
31、BCDAD DBABC  
41、CDCBC ADCDB