

彰化縣田尾國中一〇八學年度第一學期第三次段考三年級地理科試題卷

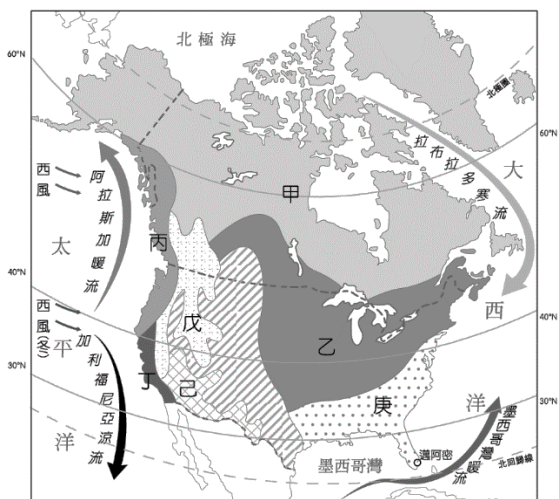
一、選擇題：每題 2 分，總分 100 分

1. 美洲的疆域面積廣大，各地區文化特色不同分為盎格魯美洲及拉丁美洲。這兩個地區的畫分界線為圖(一)中何者？ (A)甲 (B)乙 (C)丙 (D)丁



2. 美墨加協定為美洲主要的經貿組織，其成員國與其他美洲國家的界線大致為圖(一)中哪一條線？ (A)甲 (B)乙 (C)丙 (D)丁
3. 巴拿馬運河位於美洲地區，這條聯洋運河的位置主要位於圖(一)中何處？ (A)甲 (B)乙 (C)丙 (D)丁
4. 巴拿馬以運河航行的通行費成為國家重要的外匯來源。請問：下列有關巴拿馬運河的敘述中，何者最為正確？ (A)與蘇伊士運河同為世界僅有的兩大連結海洋的運河 (B)建造完成後，成為紐約至倫敦的必經航線 (C)溝通兩大洋，降低國際的交通運輸時間與成本 (D)終年盛行西風，成為船隻航行的一大挑戰

※圖(二)為北美洲氣候類型分布圖，請回答 5~12 題：



圖(二)

5. 美國加州的氣候屬溫帶地中海型氣候，適合葡萄生長，使加州的葡萄和葡萄酒產量居全美第一。請問：加州位於圖中何處？ (A)乙 (B)丁 (C)己 (D)戊
6. 近百年來，美國加州人口與產業活動均急遽成長，由於該地區的降水量並不豐富，為了解決用水問題，境內各河川多興建了水壩，並大規模抽取地下水。請問：影響當地降水量不足的原因為下列何者？ (A)距海遙遠 (B)高氣壓籠罩 (C)暖流經過 (D)蒸發旺盛

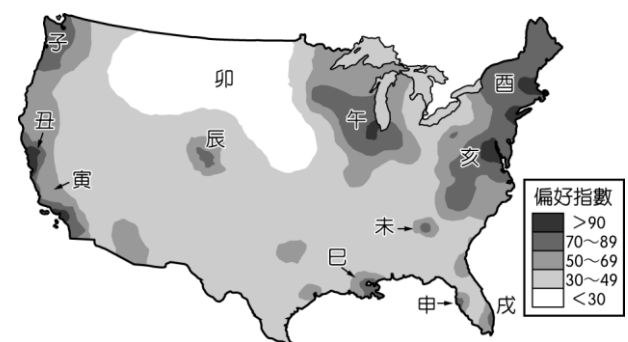
班 號 姓名

7. 請由地理位置判斷，北美洲沒有哪一種氣候類型分布？ (A)溫帶海洋性氣候 (B)高地氣候 (C)寒帶氣候 (D)熱帶雨林氣候
8. 美國的拉斯維加斯位於「己」區，由於哪一座山阻擋了盛行風，因此氣候乾燥？ (A)安地斯山 (B)阿帕拉契山 (C)阿爾卑斯山 (D)落磯山
9. 電影公司想拍攝以美國某種自然災害為主題的電影，故事背景設定在此種災害發生頻率較高的地方，圖中的「庚」地為最後被選擇的地點。該電影的拍攝主題最可能是下列何者？ (A)地震 (B)颶風 (C)暴風雪 (D)龍捲風
10. 2016 年 9 月英國威廉王子出訪加拿大，並前往溫哥華探視難民收容中心，和來自西亞的敘利亞難民家庭見面。威廉王子發現溫哥華當地氣候與英國相似，同是屬於哪一氣候類型？ (A)甲，溫帶海洋性氣候 (B)乙，溫帶大陸性氣候 (C)丙，溫帶海洋性氣候 (D)丁，溫帶大陸性氣候
11. 承上題，英國威廉王子在難民收容中心探視時，難民提出這裡與敘利亞大不相同，而感到不適應。表(一)為難民認為不適應之處，哪一項有誤？ (A)氣溫 (B)降水 (C)地形景觀 (D)主要信仰

	氣溫	降水	地形景觀	主要信仰
溫哥華	溫暖	夏雨冬乾	多地震	基督教
敘利亞	炎熱	全年乾燥	多沙漠	伊斯蘭教

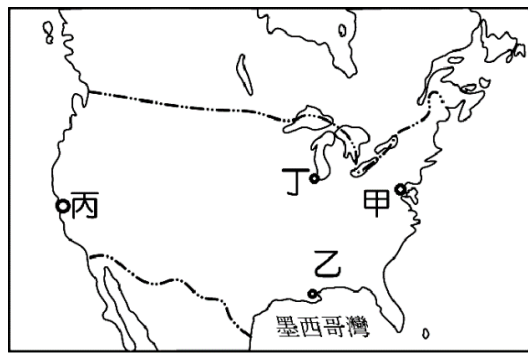
▲表(一)

12. 北美洲加拿大西岸的溫哥華與東岸的多倫多緯度相近，而溫哥華地區的氣候卻較為溫暖。其主要的原因為何？ (A)距海遠近 (B)盛行風向 (C)地勢高低 (D)洋流性質
13. 人們在選擇工作及居住地時多受就業機會、治安、文化生活及自然環境等所影響。圖(三)是針對美國大學生的居住及工作地選擇，抽樣調查結果所繪製的「偏好指數」空間分布圖，指數愈高則代表愈受大學生喜愛。請問：圖中哪個區域因受惠於資訊業等高科技產業的發展與聚集，加上氣候宜人，成為美國大學生心目中最偏好的居住及工作地之一？(A)子 (B)丑 (C)午(D)亥



圖(三)

※圖(四)為美國主要都市分布圖，請回答 14~16 題：




圖(四)

14. 世界第一個電子化證券交易市場出現在美國，稱之為「那斯達克指數」，主要以高科技公司的股票交易買賣為主，並在美國金融重鎮設立象徵性的交易中心。請問：上述交易中心最可能位於下列何處？ (A) 甲 (B) 乙 (C) 丙 (D) 丁

15. 2016 年美國總統大選於當地時間 11 月 8 日舉行，歷年來 11 月初的美國各地天氣大多溫暖舒適，極少出現惡劣天氣，可提高民眾的投票意願。美國境內的投票站，在當日早上 7 點開始投票，直到晚上 8 點，由於橫跨了六個時區，也因此各州的投票時間不太相同。請問：美國總統大選於全美各地的當地時間早上 7 點開始投票，在圖中哪一個地點的投票時間會最早？ (A) 甲 (B) 乙 (C) 丙 (D) 丁

16. 哪一個地區位於環太平洋火山地震帶上，因此容易出現地震活動，常造成生命財產的損失？ (A) 甲 (B) 乙 (C) 丙 (D) 丁

※美國被稱為民族拼盤，世界各地的不同民族來到這片新大陸，開創屬於自己的天地，圖(五)為《美國族群研究》一書中提及的主要族群。請回答 17~22 題：



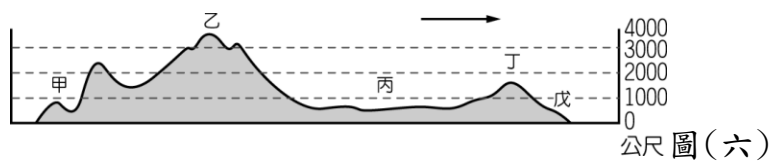
▲圖(五)

17. 奧斯卡名片《與狼共舞》的背景為北美大平原上，來自歐洲的新移民(圖(五)中乙圖)與當地原住民(圖(五)中甲圖)的互動，發人深省。請問：片中的原住民最可能為下列何者？ (A) 印第安人 (B) 因紐特人 (C) 維京人 (D) 阿拉伯人

18. 圖(五)中乙圖為 15、16 世紀地理大發現時期，遠渡重洋到美洲的歐洲人，他們航行至美國的路途中，會遇到何種風向的逆風？ (A) 西北季風 (B) 西風 (C) 東南信風 (D) 北風

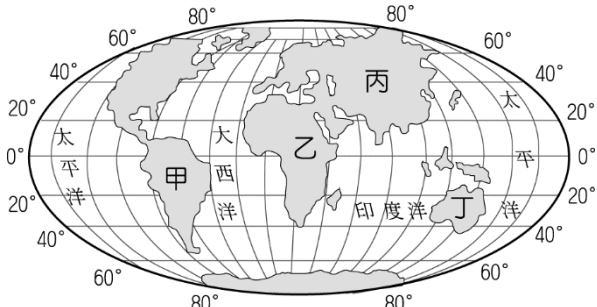
19. 圖(五)中乙圖的歐洲人多從圖(六)中何處登陸？

(A) 甲 (B) 丙 (C) 丁 (D) 戊



公尺 圖(六)

20. 美國南方曾利用圖(五)丙圖中的黑奴種植棉花，以生產大量的農產品出口歐洲。請問：這些黑奴當時多從圖(七)中哪一個地區來到美國？ (A) 甲 (B) 乙 (C) 丙 (D) 丁



圖(七)

21. 法國小說家大仲馬於西元 1847 年寫給美國南方的民主黨人士的信：「先生：我媽媽是一位黑人，但我不會羞於表白自己的黑人血統……有一件事情阻擋我……我被告知我的非洲血緣在你的國家會造成不便，而根據現有的法令，我可能會遭到逮捕，甚至被賣掉。」信件中所描述的這種情況，應於何事之後會獲得形式上的改善？ (A) 南北戰爭 (B) 獨立戰爭 (C) 波士頓茶葉事件 (D) 清教徒革命

22. 圖(五)中丁圖為清代的中國漢人準備搭船到美國討生活的情形。請問：這些漢人必須航行通過哪一個海洋才可抵達美國？ (A) 大西洋 (B) 太平洋 (C) 印度洋 (D) 北極海

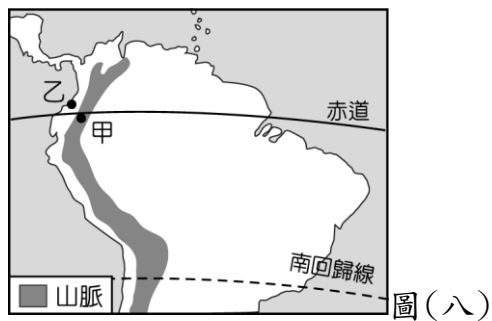
23. 今日美國具備多元族群的文化特色，藉由其強大的經濟實力，將美式文化的生活方式推廣至世界各地。請問：常見的美式文化中不包括下列何者？ (A) 星巴克咖啡連鎖店 (B) 好萊塢電影 (C) 世界盃足球賽 (D) 迪士尼電視節目

24. 美式文化之一的麥當勞速食店的薯條普遍受大家的喜愛。請問：歐洲人最早能享用馬鈴薯等美洲作物，是因為下列何者的發生？ (A) 文藝復興 (B) 海外拓殖 (C) 蒙古西征 (D) 英法百年戰爭

25. 北美洲的農業型態相當粗放，採大規模種植單一作物，可能有何風險？ (A) 勞力不足 (B) 生產過剩 (C) 總產量降低

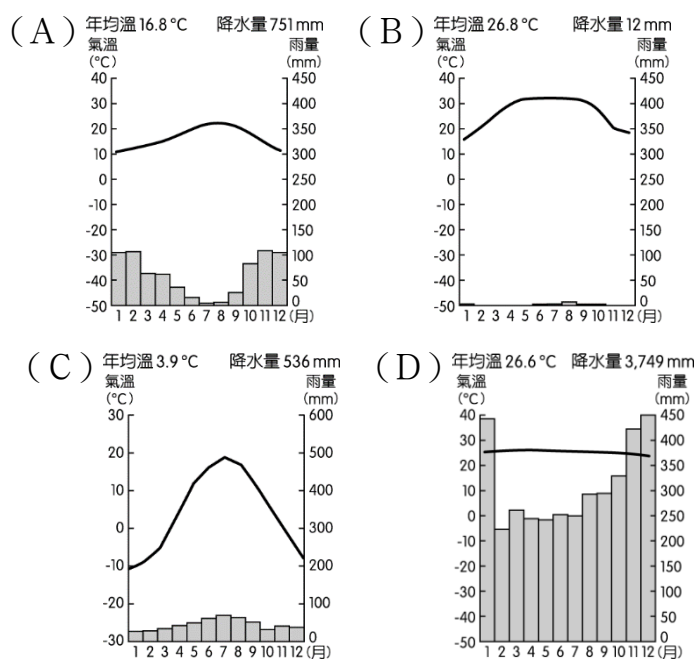
26. 英國與丹麥的農業原本以栽培糧食作物為主，提供當地市場。19 世紀中葉以後，英、丹兩國的農民因該作物生產成本相對較高，故改由北美洲進口糧食作物，而自己紛紛改農耕為畜牧。請問：當時由北美洲進口的糧食作物最主要為下列何者？ (A) 稻米 (B) 大豆 (C) 玉米 (D) 小麥

27. 高老師要利用寒假至美國旅遊，如果他想參訪美國獨立建國初期的歷史古蹟，應該參加下列哪一旅遊團？
 (A)《浪漫假期》夏威夷風情 6 日遊 (B)《戀戀美東》都會博覽 10 日遊 (C)《陽光美南》佛羅里達 9 日遊 (D)《歡樂美西》大峽谷 8 日遊
28. 2016 巴西里約奧運舉辦時，來自世界各地的運動員齊聚一堂，如何溝通便成了大問題，其中下列哪一參賽國家的語言與巴西主要語言相同，而較無溝通問題？
 (A)西班牙 (B)印度 (C)葡萄牙 (D)法國
29. 佳佳到秘魯參觀古印加文化遺址，導遊說，原住民曾在此地建立輝煌的文化與帝國，但如今已不復存在。下列哪一項是導致當地古文化消失的直接原因？
 (A)熱帶雨林消失 (B)非洲黑奴輸入 (C)火山活動頻繁 (D)西班牙的侵略
30. 圖(八)是南美洲部分地區的簡圖，圖中甲地較乙地人口密集、經濟繁榮，其主要的原由是下列何者？ (A)交通較為便利 (B)水源較為充足 (C)礦產資源較多 (D)氣候條件較佳



31. 圖(八)的甲地位於陸地上最長的山脈，也是中南美洲的地形脊梁。請問：是下列哪一座山脈？ (A)喜馬拉雅山 (B)安地斯山脈 (C)落磯山脈 (D)阿爾卑斯山脈
32. 中國近年來積極對外擴展國際貿易，而與南美洲國家貿易快速增長，中國因此提議興建貫穿秘魯及巴西、聯通南美兩側海域的「兩洋鐵路」，將可打破目前美國控制下的國際物流壟斷。請問：若未來「兩洋鐵路」興建完工後，將對哪一國家境內的聯洋運河收益產生重大影響？ (A)巴西 (B)巴拿馬 (C)美國 (D)加拿大
33. 承上題，「兩洋鐵路」的興建將貫穿秘魯及巴西，國際環保組織認為這條路線將會嚴重破壞下列哪一地形區環境，造成雨林的消逝？(A)中美地峽 (B)亞馬孫盆地 (C)墨西哥高原 (D)拉布拉他平原
34. 墨西哥近年來工業發展相當快速。請問：該國吸引國外企業前往投資設廠的主要因素為下列哪些？(甲)技術進步(乙)資金充沛(丙)工資低廉(丁)關稅減免
 (A)甲丙 (B)乙丁 (C)丙丁 (D)甲乙
35. 德國許多知名的車廠如賓士、福斯等，紛紛至巴西投資設廠，生產汽車以行銷世界各地。這些車廠前往巴西設廠最主要的因素為下列何者？(A)原料豐富 (B)動力充足 (C)技術進步 (D)市場廣大

36. 圖(九)為茲卡病毒警戒區判斷，以圖中茲卡病毒警戒區判斷，其分布的氣候環境包括下列哪一氣候？



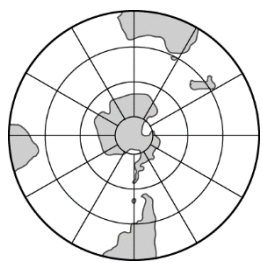
37. 2016 年 10 月臺灣超馬好手陳彥博在智利北部 250 公里的極地超馬賽中，頂著疲累不堪的身體，最終以 28 小時 58 分 20 秒成績奪冠。陳彥博在智利這場賽事中，需要克服當地的何種環境？ (A)潮溼悶熱 (B)狂風暴雨 (C)乾旱酷熱 (D)冰天雪地
38. 巴西、阿根廷等國的都市化程度高多來自鄉村的強大推力。請問：造成鄉村地區推力強的最主要原因為何？ (A)空氣汙染嚴重 (B)土地崎嶇貧瘠 (C)鄉村經濟蕭條 (D)城鄉交通便利
39. 企業為了降低生產成本，追求最高利潤，在選擇設廠地點時，通常會考量原料、動力、勞工、市場等區位條件。下列選項中，企業設廠主要考量的區位條件，何者與其他三者差異最大？ (A)臺灣在民國 50 年代設立加工出口區，發展紡織、電子組裝等加工業 (B)中國於沿海地區設立經濟特區，吸引外商前往投資玩具、製鞋等工業 (C)日本於 1980 年代，產業開始外移，家電公司紛紛至東南亞設立工廠 (D)委內瑞拉為石油輸出國家組織會員國，有不少外商前往投資石化工業
40. 植物學家 Mary 到中南美洲進行考察，若她從 GPS 上判斷目前的位置為西經 60 度、南緯 2 度。請問：她所見到的植物景觀為何？ (A)寸草不生的漠地 (B)樹叢茂密的雨林 (C)疏林高草的莽原 (D)高聳整齊的針葉林
41. 《時尚玩家》主持人永烈到拉丁美洲出外景，永烈來

- 到拉丁美洲的第一站，見到了漫天的黃沙和比人高的仙人掌。請問：該集節目的標題應該為何？ (A) 巴西熱情森巴 (B) 墨西哥白銀之國 (C) 秘魯神祕的高山國度 (D) 加勒比海島嶼風情
42. 永烈來到以嘉年華會聞名的國度，請問：此時他身在圖(十)中何處？ (A) 甲 (B) 乙 (C) 丙 (D) 丁



圖(十)

43. 臺灣某一旅遊節目遠赴南半球某地拍攝壯麗的冰河景觀。根據導遊描述，當地海岸附近的冰河前端受全球暖化的影響，崩塌頻率增加。根據圖(十一)的緯度判斷，該地最有可能位於下列哪一個國家？ (A) 巴西 (B) 秘魯 (C) 智利 (D) 委內瑞拉



圖(十一)

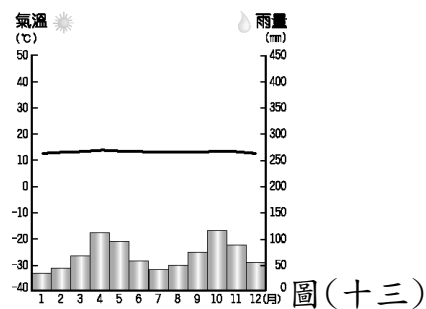
44. 2010年2月，智利發生規模8.8的強震。在憂心該國無法正常供應某種礦產的預期心理影響下，導致其市場價格上揚。根據圖(十二)中南美洲重要礦產的分布判斷，上述礦產最可能是指下列何者？ (A) 金礦 (B) 銅礦 (C) 鋁土 (D) 石油



圖(十二)

45. 中南美洲大部分國家習慣種植單一作物，其主要原因為何？ (A) 受歐洲殖民影響 (B) 受限於地形、氣候 (C) 大規模種植，利潤較高 (D) 採單一作物，利於精緻發展
46. 熱帶栽培業地區所種植的主要作物中不包括下列何

- 者？ (A) 咖啡 (B) 香蕉 (C) 蘋果 (D) 甘蔗
47. 中南美洲的熱帶栽培業發達，成為當地重要的經濟來源，然而主要出口國的經濟卻多不穩定。請問：其主要因素為何？ (A) 工資大幅上漲 (B) 市場價格波動 (C) 產品不易運輸 (D) 耕種面積不大
48. 亞馬孫雨林的大規模開發，對自然生態造成嚴重破壞。請問：當地居民砍伐雨林的最主要原因為何？ (A) 人口激增 (B) 防治蚊蟲 (C) 缺乏水源 (D) 溼熱多雨
49. 甲、乙二國的冬麥收成時間相差近半年，但早期因二國間路程遙遠，加上海上運輸不發達，甲國利用收成時間差異出口冬麥至乙國的優勢並不明顯。直到大型海上運輸技術改善後，此一優勢才慢慢凸顯。下列何者最可能為甲國和乙國？ (A) 美國和中國 (B) 澳洲和智利 (C) 加拿大和日本 (D) 阿根廷和西班牙
50. 圖(十三)為南美洲波哥大的氣候圖。請問：當地應該屬於何種氣候類型？ (A) 熱帶雨林氣候 (B) 熱帶莽原氣候 (C) 熱帶沙漠氣候 (D) 高地氣候



圖(十三)

答案

1、 ABCCB BDDBC

11、BDBAA CABDB

21、ABCBB DBCDD

31、BBBCA DCCDB

41、BCCBA CBADD