

# 彰化縣立田尾國民中學 108 學年度第一學期第三次段考七年級歷史科試題

## 一、選擇(每題 2 分)

- ( ) 清帝國治理臺灣初期，派駐來臺的官員多存有過客心態，未必悉心規畫地方建設，但其中也不乏善盡心力，造福鄉里的官員。請問：下列哪一水圳的興築，就是由官府主導的建設成果？ (A) 瑠公圳 (B) 八堡圳 (C) 曹公圳 (D) 貓霧揀圳。
- ( ) 史家對於清帝國時期感興趣的探究主題之一，即是漢人的移入。請問：下列關於清帝國初期漢人移民來臺的敘述，何者正確？ (A) 大多來自福建、廣西省 (B) 清朝全面開放漢人渡臺 (C) 漢人來臺大都從事商業貿易 (D) 漢人來臺較少居住東部。
- ( ) 下列資料是不同階段統治者對臺灣原住民的管理方式。若按照時間順序排列，下列何者正確？ (A) 甲乙丙 (B) 乙甲丙 (C) 乙丙甲 (D) 丙甲乙。

選項	統治管理方式
甲	樟腦是臺灣的重要財源收入，凡是干預開採的原住民，勢必將以武力征伐。
乙	為便於管理並宣達政令，在原住民各社中選出長老，並定期召開地方會議。
丙	由於漢人侵占原住民土地屢見不鮮，導致漢番衝突，故實施劃界封山政策。

- ( ) 這個地方製茶工房林立，茶葉產期，茶行必須僱用許多女工，多則五、六十人，少則二、三十人，甚至有漳、泉婦女來此短期工作，每日工資四、五錢不等。請問：這個地方應是下列何地？ (A) 艋舺 (B) 大稻埕 (C) 打狗 (D) 安平
- ( ) 清帝國統治台灣初期，由於移民大量開墾土地，所須水源急速增加，這是因為大兩栽種何種作物所致？ (A) 水稻 (B) 茶葉 (C) 樟腦 (D) 番薯
- ( ) 古蹟是歷史事件發生的見證，在今臺南市赤崁樓前的記功碑，是清高宗為紀念福康安平定一場發生於乾隆 51 年的民變而設立的。請問：此場民變為何？ (A) 朱一貴事件 (B) 林爽文事件 (C) 郭懷一事件 (D) 戴潮春事件。
- ( ) 附圖是建勳寫下寒假過年期間的旅遊心得，下列何者最適合作為這篇遊記的標題？ (A) 穿越時空遊高雄 (B) 漫遊臺南古都行 (C) 中部貓霧揀之旅 (D) 臺北歷史思想起。

走進艋舺剝皮寮歷史街區，有股濃濃的復古風情，從清朝統治時代至今已 200 多年歷史，好像穿越時空回到過去……。

新店碧潭風景如畫，不難想像當年郭氏父子引新店溪興築水圳的艱辛，可惜隨著都市化發展，圳道已不復當初樣貌。

- ( ) 下列是直至今日仍然可聽到的臺灣俗諺，哪一句與移民渡海來臺的艱辛較無關係？ (A) 唐山過臺灣，心肝結歸丸 (B) 有唐山公，無唐山媽 (C) 六

死三留一回頭 (D) 過番剩一半，過臺灣沒得看。

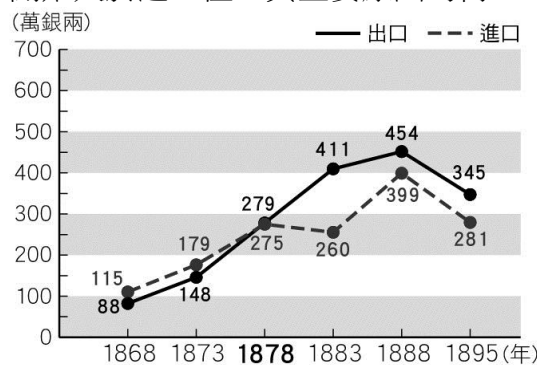
- ( ) 臺灣在開港通商後，對外貿易有顯著的變化。關於此時期的貿易變化，下列敘述何者正確？ (A) 鴉片是主要的出口商品 (B) 設立郊商以取代洋行 (C) 南臺灣為主要的經濟重心 (D) 是重要的樟腦出口國
- ( ) 附圖為地方志上「埔里開發簡史」的記載。從這段史料說明，可判斷當時臺灣的何種社會現象？ (A) 漢人不斷越過番界開墾 (B) 清廷實施開山撫番政策 (C) 清廷劃定統治的範圍 (D) 漢人不願與原住民合作開墾土地。

埔里地處臺灣地理中心，為一層山巒疊翠的盆地，居南投縣中央偏北，其後原住民族群泰雅族、布農族、邵族即盤據埔里盆地與魚池、日月潭地區。……嘉慶 21 年(西元 1816 年)，臺灣總兵巡閱臺灣北部，……於通往水沙連之二條主要道路設立禁碑，一處位於濁水溪河谷前往水沙連入口處的集集設立「嚴禁不容奸人，再入者斬」，一處位於烏溪河谷進入水沙連之路口，設立「原作生番屬，不造漢民巢」之石碑。

- ( ) 清朝統治臺灣初期，臺灣與中國大陸間採行「區域分工」的貿易方式互通有無。當時臺灣主要是將何項產品運至中國大陸，以交換所需之日常用品？ (A) 礦產 (B) 藥材 (C) 稻米 (D) 茶葉
- ( ) 雍正元年(西元 1723 年)，針對朱一貴事件平定有功的福建官兵所宣布的詔書如下：「兵部分別議敘福建官兵克復臺灣功。臺灣地方，自古未屬中國，皇考(康熙帝)聖略神威，取入版圖。逆賊朱一貴等倡亂，占據臺地。皇考籌畫周詳，指授地方官員，遣調官兵，七日之內，剿除數萬賊眾，克復全臺。」上述的事件後，清廷採取哪一政策來因應？ (A) 賞賜廣東、泉州各庄「褒忠」、「旌義」之名 (B) 增設淡水廳及彰化縣等行政區 (C) 諸羅縣改為嘉義縣 (D) 廢除渡臺禁令。
- ( ) 學校舉辦校外教學，帶領學生們到鹿港實地參觀。歷史老師會如何介紹鹿港呢？ (A) 清帝國時期重要的貿易港 (B) 臺灣最早設立孔廟之地 (C) 臺灣府城的所在地 (D) 曹公圳興築的所在地。
- ( ) 張阿發在清帝國時期從福建來臺開墾土地，根據你對這段歷史的了解，下列何項是阿發最可能遇到的情況？ (A) 可自由開墾任何土地 (B) 所有土地都是政府所有，只能向政府承租開墾之地 (C) 若欲開墾無主地，可向政府申請開墾執照 (D) 為避免土地拓墾的糾紛，大多以獨資方式開墾。
- ( ) 西元 1872 年 3 月 9 日由淡水河口登陸，4 月 7 日隨即在日記這樣寫著：「我再一次與你立誓，就是痛苦至死，我一生也要住在此地……，願上帝幫助我。」、「1884 年清法戰爭時，一般民眾都懷疑我與外國軍隊暗自串通。所以，當軍艦向陸上開炮時，民眾就拆毀教堂或傷害信徒洩憤。然而法軍猛烈轟炸淡水的結果，使醫館內外都擠滿受傷的士兵，我因盡心盡力的照顧他們，還受到清廷的褒獎。」請問：這本是何人的日記？ (A) 馬偕 (B) 馬雅各 (C) 沈葆楨 (D) 劉銘傳。
- ( ) 「一府二鹿三艋舺」代表了清帝國時期的重要三大城市外，也代表著臺灣整體的開發方向。關於這句

話的解釋，下列何者正確？ (A)「二鹿」是指臺南的鹿耳門 (B)臺灣的開發方向由北到南 (C)艋舺位於現今的淡水 (D)三大港口城市主要的貿易對象為中國大陸

17. ( ) (甲)曹公圳 (乙)瑠公圳 (丙)八堡圳 (丁)貓霧揀圳。上述早期臺灣的水利工程，依其位置由北而南加以排列，下列何項正確？ (A)甲乙丙丁 (B)乙甲丙丁 (C)乙丁丙甲 (D)丙乙丁甲。
18. ( ) 彭彭到臺南旅遊，參觀了「臺灣開拓史料蠟像館」，從導覽員的說明得知，此建築物原為英商在臺灣設立的「德記洋行」。洋行的出現與下列何者最有關聯？ (A)臺灣納入清朝版圖 (B)貿易出超的結果 (C)臺灣開港通商 (D)荷蘭聯合東印度公司成立分行。
19. ( ) 在開港通商之前，臺灣尚未引進西方的醫學知識，居民生病時仍須向傳統的中醫求診。請問：當時臺灣所需的藥材，多半是向何處採購？ (A)英國 (B)日本 (C)東南亞 (D)中國大陸。
20. ( ) 臺灣開港通商後，貿易的性質也不斷改變，然而哪一項商品自荷蘭時代以來仍居出口大宗，歷史悠久？ (A)茶葉 (B)樟腦 (C)鴉片 (D)蔗糖。
21. ( ) 他來自英國蘇格蘭，父親是教會長老，醫學院畢業後繼續進修並獲得博士學位，成為一名外科醫生。他遠渡重洋來到臺灣，自西元 1865 年起開始在臺南看西街從事醫療及宣教，即使遇到困境也不放棄，後來他的兒子也到臺灣行醫，並培育臺灣本土醫學人才。因此，當時南部曾流傳這麼一句話：「馬醫生，沒法度。」意思是說，如果連馬醫生都沒辦法救治的話，那就真的無藥可救了，足見人民對他們父子醫術的高度信任和肯定。請問：文中的「他」最可能是下列何人？ (A)李旦 (B)馬偕 (C)馬雅各 (D)劉銘傳。
22. ( ) 今南投縣竹山鎮有一「陳五八祭祀公業」的組織，早在乾隆 46 年即由 35 名祖籍漳州府平和縣的陳姓民眾成立，供奉漳州先祖陳五八，組織成員並無一定的血緣關係，但每年春秋兩季會祭祖聯誼。關於此種組織的敘述，下列何者正確？ (A)以來臺的第一代祖先為祭祀對象 (B)祭祀費用是從祖產的一部分支出 (C)屬於「開臺祖」的宗族組織 (D)具有團結同姓移民的功能。
23. ( ) 附圖為西元 1868~1895 年臺灣進出口貿易統計圖。西元 1878 年以後，臺灣貿易出現大反轉，出口值開始大於進口值，其主要原因為何？



- (A)國際市場對臺灣茶、糖、樟腦的需求增加 (B)積極開發臺灣東部，增加稻米外銷 (C)臺灣建省後，清廷補助大幅增加 (D)日軍侵臺後，增加對鹿皮進口的需求。
24. ( ) 有關臺灣開港通商後所出現的景象，下列何者錯誤？ (A)外商紛紛在臺灣設立洋行，大量進口鴉片 (B)西洋傳教士到臺灣傳教，設教堂、立學校

(C)械鬥事件因有外國人加入而更加嚴重 (D)臺灣對外貿易大幅成長。

25. ( ) 臺灣開港通商後，對臺灣的社會經濟樣貌產生了很大的改變，關於這些改變，下列敘述何者錯誤？ (A)由於外國商人來臺，使得臺灣再次加入世界貿易的體系 (B)經濟作物由原本的稻米、甘蔗，逐漸被茶和樟腦所取代 (C)臺灣經濟重心逐漸由南部轉移到北部 (D)在十九世紀的初期，臺灣對外貿易已開始呈現出超的現象。
26. ( ) 豐原翁社里有一間張家古厝「萬選居」，是張達京後代的故居。張達京當年以割地換水的方式，與岸里社原住民達成開鑿水圳的協議。請問：他興建的水圳為下列何者？ (A)瑠公圳 (B)貓霧揀圳 (C)八堡圳 (D)曹公圳
27. ( ) 臺北淡水真理大學內有一所「新式學堂」的遺跡，這是由清帝國晚期傳教士所興建的學堂。請問這位興建者最有可能是下列何者？ (A)巴克禮 (B)甘為霖 (C)馬雅各 (D)馬偕
28. ( ) 下列是清帝國治理初期四位移民到臺灣的漢人，因土地開墾問題被政府官員審問時的供詞，哪位移民的說詞是正確且合法擁有土地開發權？



29. ( ) 附圖是瑞暘「臺灣歷史小論文」的關鍵字，由此判斷，他的報告主題應與下列何者最為相關？ (A)清代臺灣水圳發展史 (B)清代臺灣郊商興衰史 (C)清代原住民的社會與文化 (D)清末開港通商的影響。


\*彰化鹿港鎮五福街  
\*臺北萬華剝皮寮老街  
\*臺南中西區神農老街

30. ( ) 小賴在玩線上遊戲《唐山過臺灣》，過程中遇到許多狀況，下列何種遊戲情境與事實不符合？ (A)清廷發布渡臺禁令，小賴決定從福建偷渡來臺 (B)小賴乘坐船隻橫渡臺灣海峽，卻遇到颱風 (C)小賴在船上數天後抵達臺灣中部，從艋舺港上岸 (D)小賴上岸之後遇到官府抓偷渡者，小賴被捕。
31. ( ) 1878 年的加禮宛事件，清廷以武力戰勝原住民，使原住民族群縮小，人員遷離他鄉。此事件的發生應與清政府的哪一項政策有關？ (A)渡台禁令 (B)劃界封山 (C)開山撫番 (D)軍屯政策

32. ( ) 附圖是清代臺灣土地開發史上重要的墾號，請從文中判斷，這些墾號經營模式的共同特色為何？ (A) 開發臺北盆地 (B) 合股合資經營 (C) 閩客族群合作 (D) 侵占番界土地。

「陳賴章」墾號：康熙 48 年，由泉州人士陳憲伯、陳逢春、賴永和等人合組開發臺北盆地。  
「金廣福」墾號：道光年間，由廣東、福建的移民共同成立，開墾新竹、苗栗一帶的土地。

33. ( ) 十九世紀，臺灣開港通商後，對外貿易熱絡。關於當時的貿易情形，下列敘述何者正確？ (A) 臺灣出口商品的最大宗是產量世界第一的樟腦 (B) 臺灣的貿易出超成長可觀 (C) 稻米成為當時臺灣最主要的出口商品 (D) 鹿港是當時臺灣對外通商的主要口岸。
34. ( ) 創建於西元 1875 年的「羅厝天主堂」是臺灣中部天主教大本營，2002 年曾獲選臺灣歷史建築百景之一。請問：天主教於十九世紀時再度傳入臺灣，是因下列哪一史事？(A) 牡丹社事件 (B) 西班牙來臺 (C) 清法戰爭 (D) 英法聯軍
35. ( ) 開港通商後，臺灣中、北部山區有些街市興起，如林圯埔(今竹山)、集集、深坑、三角湧(今三峽)、大嵙崁(今桃園大溪)等地。這些街市的興起與那些商品產業有關？ (A) 蔗糖、稻米 (B) 茶葉、樟腦 (C) 稻米、樟腦 (D) 鴉片、棉布
36. ( ) 原住民族群於十九世紀初期遷徙移至埔里盆地，其主要原因應與下列何者有關？ (A) 不堪清廷的苛捐雜稅 (B) 返回祖先的原居地 (C) 外國勢力的入侵 (D) 漢移民越界開墾不斷上演
37. ( ) 下列是國定古蹟-天水堂(姜家)祠堂的簡介。請問文中的「姜秀鑾」在祭祀上應會被稱為什麼？ (A) 唐山祖 (B) 開台祖 (C) 有應公 (D) 土地公



38. ( ) 心瑀將清帝國時期臺灣重要經濟作物的出口整理成附表，表格中的哪個項目是錯誤而須修改的部分？ (A) 甲乙 (B) 甲丙 (C) 乙丙 (D) 乙丁。

商品	產地	出口港	外銷地
茶葉	北部丘陵	(乙) 艋舺	(丁) 歐美
蔗糖	(甲) 南部	安平、打狗	中國
樟腦	中北部	(丙) 打狗	歐美

39. ( ) 清代臺灣在一場民變過後，皇帝為了紀念此事，一方面將諸羅改名為嘉義，一方面在府城外豎立了九座紀念碑。請問：這位皇帝所慶祝的是順利平定了哪場民變？ (A) 郭懷一事件 (B) 朱一貴事件 (C) 林爽文事件 (D) 戴潮春事件

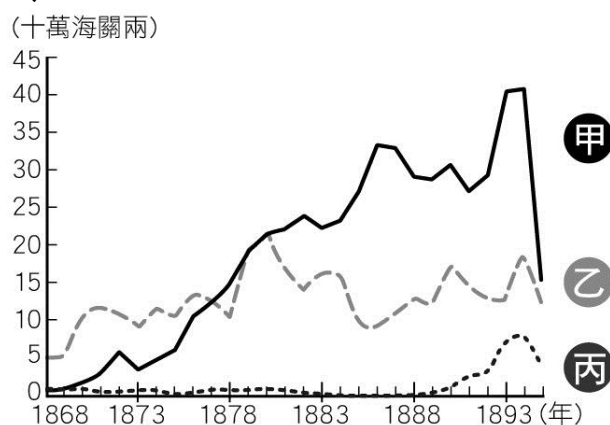
40. ( ) 臺灣歷史上，有句諺語：「有唐山公，無唐山媽」此一諺語的出現與下列哪一政府政策有關？ (A) 渡臺禁令 (B) 劃界封山 (C) 海禁政策 (D) 開山撫番

## 二、題組(每題 2 分)

- (一) 下列是清帝國時期臺灣水圳的特色，請填入與其相對應的水圳名稱。

41. 官方主導興建的水圳  
42. 清代灌溉面積最大的水圳  
43. 臺北地區最重要的灌溉渠道  
44. 漢人與原住民合作共享的水圳

- (二) 附圖是臺灣開港通商後主要商品出口值比較圖。請問：



45. 甲是開港通商後，臺灣最大宗輸出品，該項商品是下列何者？ (A) 茶葉 (B) 蔗糖 (C) 樟腦 (D) 稻米。
46. 此三項商品中，主要由淡水出口的商品有哪些？ (A) 甲乙 (B) 甲丙 (C) 乙丙 (D) 甲乙丙。
47. 產量曾居世界第一的是哪一個商品？ (A) 鴉片 (B) 樟腦 (C) 茶葉 (D) 蔗糖。

(三) 新北市土城區大墓公廟被新北市政府登錄為第六個文化遺產，其起源於林爽文之亂，因戰亂屍橫遍野，後又經歷多次原漢衝突及漳泉械鬥，無數喪命的無名屍首集中於此地，附近居民以香火供養，終成香火鼎盛的大墓公祭祀圈。此外，相傳昔日有隻黑狗守著因械鬥而死的主人直至老死，後人為紀念黑狗的忠心，特意在廟前打造約有一層樓高的黑狗雕像。請問：

48. 文中提到的林爽文之亂，其發生的主要原因為何？ (A) 不滿需繳交沉重的賦稅而引發大規模的反荷 (B) 政府取締祕密組織而引發數十萬民眾抗清 (C) 不滿政府不肯廢除渡臺禁令而引發的民變 (D) 以政府開山撫番之由，結合海內外反清勢力起兵。
49. 黑狗的主人因捲入械鬥而身亡，下列哪一項較不可能是械鬥產生的原因？ (A) 爭奪水源 (B) 商業利益的競爭 (C) 爭奪田地 (D) 爭取科舉名額。
50. 大墓公廟因供奉的是沒有正式神格的孤魂，在臺灣的民間信仰上屬於「陰廟」。臺灣還有不少知名「陰廟」，請問下列何者即是陰廟的代表？ (A) 臺中大甲鎮瀾宮 (B) 臺北大龍峒保安宮 (C) 臺北士林有應公媽廟 (D) 彰化鹿港天后宮

# 國民中學測驗答案卡

姓名：歷史7年級

年級：\_\_\_\_\_ 班別：\_\_\_\_\_ 座號：\_\_\_\_\_

科目名稱：\_\_\_\_\_

1. 檢視卡片上有無污損、折毀。如有不符或污損、折毀等情形，請立即向監試人員反應。
2. 答案卡劃記時，必須用黑色2B黑鉛筆，畫記要清晰均勻，且須畫滿圓圈，但不可超出圈外。
3. 劃卡範例：  
正確 → ● 不正確 → ○ / ○ / ○ / ○

年級	一	二	三	四	五	六	● 七	八	九		
班級	十	0	1	2	3	4	5	6	7	8	9
	個	0	1	2	3	4	5	6	7	8	9
座號	十	0	1	2	3	4	5	6	7	8	9
	個	0	1	2	3	4	5	6	7	8	9
科目	國文	英語	數學	自然	社會						
	○	○	○	○	○						
科目	歷史	地理	公民	生物	理化	地科	健體	其他			
	●	○	○	○	○	○	○	○			

○ 缺考記錄 (本欄由監試人員畫記，考生請勿自行畫記。)

1	A B C D	21	A B C D	41	A B C D	61	A B C D
2	A B C D	22	A B C D	42	A B C D	62	A B C D
3	A B C D	23	A B C D	43	A B C D	63	A B C D
4	A B C D	24	A B C D	44	A B C D	64	A B C D
5	A B C D	25	A B C D	45	A B C D	65	A B C D
6	A B C D	26	A B C D	46	A B C D	66	A B C D
7	A B C D	27	A B C D	47	A B C D	67	A B C D
8	A B C D	28	A B C D	48	A B C D	68	A B C D
9	A B C D	29	A B C D	49	A B C D	69	A B C D
10	A B C D	30	A B C D	50	A B C D	70	A B C D
11	A B C D	31	A B C D	51	A B C D	71	A B C D
12	A B C D	32	A B C D	52	A B C D	72	A B C D
13	A B C D	33	A B C D	53	A B C D	73	A B C D
14	A B C D	34	A B C D	54	A B C D	74	A B C D
15	A B C D	35	A B C D	55	A B C D	75	A B C D
16	A B C D	36	A B C D	56	A B C D	76	A B C D
17	A B C D	37	A B C D	57	A B C D	77	A B C D
18	A B C D	38	A B C D	58	A B C D	78	A B C D
19	A B C D	39	A B C D	59	A B C D	79	A B C D
20	A B C D	40	A B C D	60	A B C D	80	A B C D

喬柏科技有限公司 TEL:04-22269777 JOPO-80A

108  
103  
104