

一、選擇

1. () 企業除了賺取利潤以外，也會善盡社會責任，幫助弱勢。如部分企業設置人力發電機，讓東部非洲人民享受電的便利；瑞士企業家發明了「生命吸管」更幫助許多非洲人改善飲水品質。由此可知，這些企業是以什麼樣的方式幫助非洲人民？ (A) 給予金錢支援 (B) 提高最低工資 (C) 提供民生設備 (D) 引進醫療資源。

《答案》C

2. () 美國、加拿大兩國的農業經營採粗放、高度機械化耕作，因而成為世界主要農產輸出國。請問：美、加兩國輸出的主要糧食作物為何？ (A) 稻米 (B) 小麥 (C) 甘蔗 (D) 高粱。

《答案》B

3. () 十八世紀歐洲的「啟蒙運動」，其主旨試圖尋找出人類社會所應遵循的哪種原則？ (A) 政教合一 (B) 服從權威 (C) 封建體制 (D) 科學理性。

《答案》D

4. () 咖啡適合生長在年均溫 20°C 左右及年降水量 1,500~2,000mm 的環境，且容易受霜害。若以緯度來看，世界上種植咖啡豆的地區剛好形成一帶狀，稱為咖啡帶(Coffee Zone)，如中南美洲的巴西、哥倫比亞和瓜地馬拉等。請問：下列何者不是這些咖啡生產國的生產特色？ (A) 多位於回歸線間 (B) 栽種單一作物 (C) 農產大量輸出 (D) 高度機械化耕作。

《答案》D

5. () 依我國《民法》規定，一個人的法律行為，會因【甲】的大小而產生不同的效力。上述的【甲】應為下列何者？ (A) 成績 (B) 年齡 (C) 財富 (D) 地位。


《答案》B

6. () 阿利安人征服印度後，信奉婆羅門教，施行種姓制度，並以下列何者作為婆羅門教的主要經典？ (A) 《佛經》 (B) 《吠陀經》 (C) 《新約聖經》 (D) 《舊約聖經》。

《答案》B

7. () 「美墨加協定(USMCA)」原名為「北美自由貿易協定」(NAFTA)，是美洲的區域性經貿協定，NAFTA 旗幟應為下列

何者？



(A)



(B)



(C)



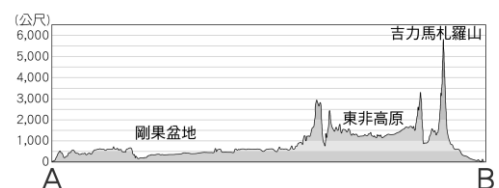
(D)

《答案》B

8. () 百貨公司每年都會舉辦周年慶，活動期間推出的優惠，吸引眾多消費者前往排隊購買。由此可知，當商品價格降低時，消費者會展現何種行為？ (A) 減少購買 (B) 增加購買 (C) 不一定 (D) 無法判斷。

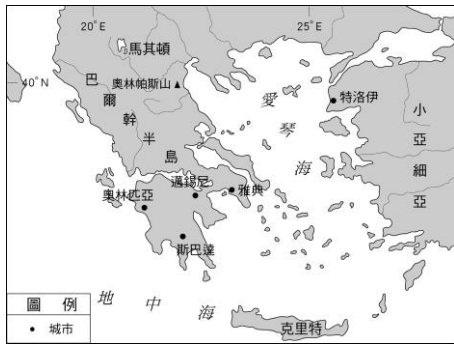
《答案》B

9. () 附圖為非洲某地的地形剖面圖，根據圖中資訊判斷，圖中的右方最有可能是什麼方位？ (A) 東方 (B) 西方 (C) 南方 (D) 北方。



《答案》A

10. () 小元上臺做歷史報告，並展示附圖給同學觀看：「由於這個地區地小山多、海岸曲折、島嶼密布，各地往來交通不便，因此形成獨立的城邦政治，成為此地人民政治社會的特色。」請問：小元報告的主題可能與下列何者有關？ (A) 西亞文化 (B) 波斯文化 (C) 埃及文化 (D) 希臘文化。



《答案》D

11. () 印度古文化出現於西元前 2300 年左右，下列何者為這個文化的特徵？ (A) 當時的城市並無大型公共建設 (B) 雖高度發展，但市街規畫紊亂無章 (C) 此文化位於兩河流域中下游 (D) 此時期的文化以摩亨約達羅遺址為代表。

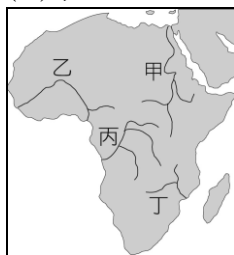
《答案》D

12. () 經濟地理學家提出：「俄羅斯想要發展經濟，必須要有人口的聚集，才能讓上、下游產業緊密銜接，也可以加強人際往來和資訊共享。」請問：根據此一原則，俄羅斯應將政府資金大量投入哪一個人口聚集地區，發展經濟最有效益？ (A) 甲 (B) 乙 (C) 丙 (D) 丁。



《答案》D

13. () 「這條河川中下游流經的盆地，在古代曾為一大湖，因大湖西南方被切穿，湖水外洩才形成盆地；切穿處上下落差達 200 多公尺，多急流、瀑布，非常不利河運。」請問：文中提及的河川應為附圖中何者？ (A) 甲 (B) 乙 (C) 丙 (D) 丁。



《答案》C

14. () 北美洲面積遼闊，區域差異顯著。下列有關北美洲位置的敘述，何者最正確？

(A) 東臨太平洋 (B) 西濱大西洋 (C) 北至北海 (D) 南臨墨西哥灣。

《答案》D

15. () 在大航海時代時，許多歐洲探險家前往南邊的土地上進行探險活動，並掠奪了一些戰利品。其中，喜歡辦宴會的貴族，常常在宴會中拆解一些從探險家手中買來的珍稀文物，從開啟精緻的棺具到解除繃帶，賓客無不驚聲連連。請問這件文物之所以會產生，最可能與該地文化的哪個面向有關？ (A) 經濟 (B) 宗教 (C) 軍事 (D) 曆法。

《答案》B

16. () 炭志郎在超市買咖啡豆看到包裝上的兩個標籤如下圖。兩林聯盟認證指本咖啡包裝袋裡部分或全部的咖啡是來自符合保護農民、森林、野生動物和當地社區的農場生態，並且環境可持續的永續發展。而下列關於公平貿易標章的敘述，何者正確？ (A) 確保企業主得到最大利益 (B) 使漠南非洲農民獲利被壓縮 (C) 消費者以公平低廉價格買到產品 (D) 生產者在產品的貿易上得到較公平的待遇。



▲ 兩林聯盟認證



▲ 公平貿易標章

《答案》D

17. () 羅馬共和晚期軍人勢力崛起，其中哪位將領因為企圖實行獨裁，最後遭人設計殺害？ (A) 屋大維 (B) 查士丁尼 (C) 君士坦丁 (D) 凱撒。

《答案》D

18. () 在漠南非洲所發展的殖民式經濟，殖民者與非洲當地所提供的要素並不同。請問：非洲當地主要是提供哪一項要素？ (A) 大量且廉價的勞力 (B) 高技術層次的勞工 (C) 主要資金來源 (D) 便捷的交通運輸。

《答案》A

19. () 學者認為：「大航海時代衝擊了歐洲的經濟，科學革命則是衝擊了歐洲的價值觀。」以下有關科學革命，我們可以如何解讀？ (A) 歐洲人在天文、物理等方面有所創新 (B) 培根提出歸納法，

利用通則推理至個別事件 (C)哥白尼發明了望遠鏡證實了伽利略的日心說 (D)科學革命促使歐洲人放棄天主教信仰，導致宗教改革。

《答案》A

20. () 「亞歷山大帝」的傳記中，不可能出現下列哪段敘述？ (A)亞歷山大的父親征服希臘各城邦 (B)亞歷山大即位後展開東征，英勇擊敗波斯大軍 (C)亞歷山大遠征印度，但並未成功 (D)亞歷山大禁止他的士兵與外族女子結婚，以保持希臘血統的純正。

《答案》D

21. () 西班牙南部的安達魯西亞有許多山間小鎮，這些小鎮的共同特色是房舍外牆皆塗上就地取材的白色石灰，形成了白色山城的景觀。請問：塗上白色的石灰除了有杜絕寄生蟲和細菌的功能外，尚有下列哪一項重要的功能？ (A)利於日照反射 (B)減少冬季積雪 (C)提高建築強度 (D)防止風沙堆積。

《答案》A

22. () 不法侵害他人的生命、身體、健康或財產，會構成侵權行為。下列關於侵權行為的敘述，何者錯誤？ (A)須負擔損害賠償責任 (B)拒絕履行契約是常見的侵權行為 (C)因故意或過失，不法侵害他人權利，須負起侵權行為責任 (D)違反《民法》所必須負起的責任。

《答案》B

23. () 中世紀歐洲的泥金裝飾手抄本是一種手抄古籍，以精美裝飾著稱，對後世的書籍和字體設計有很大的影響。請問：這種精美的手抄本，當時主要應是由何人抄寫並且加以保存？ (A)法老 (B)商人 (C)祭司 (D)教士。

《答案》D

24. () 「這裡緯度較低、夏乾冬雨，逾 3 萬公頃的農場種植大量蔬果，供應給英國與歐洲各國，因此又被稱為『歐洲的蔬果園』，但是因為溫室棚架密布，當地人也稱此地為『塑膠海』。」請問：文中所述的最有可能是下列哪一個國家？ (A)北歐的丹麥 (B)西歐的荷蘭 (C)東歐的波蘭 (D)南歐的西班牙。

《答案》D

25. () 雜誌報導：「該國在地理位置上雖劃分為中南美洲國家，但卻是美墨加協定的簽署成員國，因工資低廉、關稅減免等條件，吸引外商投資設廠，電子產品與汽車已成為該國最重要的出口品，是中南美洲的新興工業化國家。」上述報導中的國家為何？ (A)巴西 (B)智利 (C)阿根廷 (D)墨西哥。

《答案》D

26. () 紐霍夫生活在十七世紀的阿姆斯特丹，他任職於國內最大的公司，該公司在當時堪稱世界上最富有的私人企業，擁有上百艘商船與 20 萬名員工，甚至擁有自己的軍隊，請問紐霍夫最有可能被公司外派去今天的哪個地方工作？ (A)澳門 (B)馬尼拉 (C)加爾各答 (D)雅加達。

《答案》D

27. () 全球化之下，人們得以往來世界各國，在入境各國之前，我們須兌換可以在該國合法使用的貨幣。以我國為例，人們使用新臺幣交換所需物資，其主因為何？ (A)法令強制其具有價值 (B)可快速方便的大量印製 (C)貨幣材料本身就具有價值 (D)貨幣數量供不應求而具價值。

《答案》A

28. () 附圖為墨西哥國旗，中間國徽圖案是一隻叨著蛇的雄鷹立在仙人掌上。墨西哥高原北部受氣候影響，盛產仙人掌。請問：影響墨西哥北部氣候的主因最可能為下列哪兩者？ (甲)涼流影響 (乙)深居內陸 (丙)位居西風背風側 (丁)副熱帶高壓籠罩 (A)甲乙 (B)甲丁 (C)乙丙 (D)丙丁。



《答案》B

29. () 俄羅斯礦業巨擘「諾里爾斯克鎳公司」在 2020 年 5 月才釀出國內史上第二慘的漏油事件，同年 6 月 28 日又發布聲明承認，其濃縮工廠的員工將廢水排入北極海沿岸的長年積雪、氣候酷寒地區，嚴重影響當地的天然植被。依據上

述判斷，文中提及被影響的天然植被最可能為下列何者？ (A)沙漠植物帶 (B)雨林植物帶 (C)苔原植物帶 (D)闊葉林相區。

《答案》C

30. () 但丁在作品中描述他迷失於森林中，象徵淫欲、殘暴、貪婪的猛獸豹、獅、狼迎面撲來，古羅馬詩人維吉爾協助他脫離困境，並指引他遊歷地獄和煉獄，他愛慕的女子貝婭特麗絲則在天堂等待。但丁把貪圖名利的主教、教士等安排在煉獄的第四層接受懲罰，教皇朋尼法斯八世更被放在地獄第八層接受火刑，表達他對教會干涉世俗政治的不滿。請問：關於但丁與其作品，下列敘述何者錯誤？ (A)但丁為英國著名的作家 (B)但丁在作品中對人性多所著墨 (C)但丁藉此作品批判教士的腐敗及教會的控制 (D)但丁的作品屬於文藝復興時期的方言文學。

《答案》A

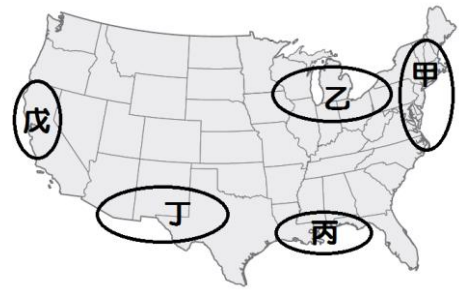
31. () 彭先生請朋友到餐廳吃飯，結帳時，他掏出一張千元大鈔付款。張先生以貨幣付款，顯示貨幣的何種功能？ (A)交易媒介 (B)計價標準 (C)債務清償 (D)價值儲存。

《答案》A

32. () 下列何者會影響生產者的生產成本？ (甲)租用土地及支付的地租 (乙)聘雇員工的薪資 (丙)購買機器設備及負擔的利息 (丁)產品研發及活動促銷的資金 (A)甲乙 (B)乙丙 (C)丙丁 (D)甲乙丙丁。

《答案》D

33. () 這個城市的地名是法文「海峽」的意思，因為早期崛起於水路貿易中心，後來通用、福特及克萊斯勒三大汽車公司的總部在這裡曾經占據世界汽車市場 70% 的生產量，一度被稱為「汽車之城」。但近年因汽車工業衰退，都市人口有較多外流。」請問：上文中所述的這個城市最可能位於附圖中哪一區帶？ (A)乙 (B)丙 (C)丁 (D)戊。



《答案》A

34. () 俄羅斯目前設有 25 個經濟特區，提供土地、基礎建設及免費接駁能源設施等措施，吸引各國高科技產業前往當地發展。請問：根據附圖俄羅斯經濟特區的分布情形，下列哪一個地區是各國企業投資設廠的首選位置？ (A)歐俄平原 (B)西伯利亞南部 (C)北極海沿岸 (D)太平洋沿岸。

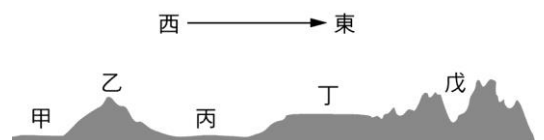


《答案》A

35. () 陳經理跟朋友聊天時提到：「一天只有二十四小時，我每天都分身乏術，忙不過來，寫報告就沒辦法開會，拜訪客戶就不能進行小組討論。」陳經理的說法顯示了哪項概念？ (A)機會成本 (B)資源無限 (C)欲望有限 (D)選擇自由。

《答案》A

36. () 沿著北緯 60 度繪製俄羅斯的地形剖面圖，如附圖所示，圖中何處是俄羅斯人口集中的精華地區？ (A)甲 (B)丙 (C)丁 (D)戊。



《答案》A

37. () 當人們選擇將資源用於某一種用途，勢必要放棄該資源用在其他用途的機會，此時作選擇所付出的代價，亦稱為該選擇的機會成本。依此判斷，下列哪句話隱含機會成本的概念？ (A)分工雙贏 (B)有一好，無兩好 (C)商品愈

貴愈好 (D)不要把雞蛋放在同一個籃子。

《答案》B

38. () 著有《悲慘世界》、《鐘樓怪人》的法國大文豪雨果曾經對伏爾泰有以下的評論：「伏爾泰的名字所代表的不是一個人，而是整整一個時代。」請問：一生追求言論自由、反對教會腐敗的伏爾泰，最能代表哪一個時代？ (A)啟蒙時代 (B)浪漫主義 (C)文藝復興 (D)宗教改革。

《答案》A

39. () 小勇和隔壁班同學打籃球時發生糾紛，於是呼朋引伴於放學後和對方談判而發生鬥毆，雙方有多人掛彩但均無大礙，在誤會澄清之後決定採用較為簡便、省力又省錢的方式解決此次紛爭。雙方可能採用的解決方式為下列何者？ (A)調解 (B)訴訟上和解 (C)仲裁 (D)訴訟。

《答案》A

40. () 法國是西歐最大農產品生產國，但西班牙加入歐盟後，法國的農產品市場便深受打擊，主要是因為西班牙在下列何項農業發展條件方面比法國更具優勢？ (A)平原廣大 (B)科技發達 (C)氣候較暖 (D)降水較多。

《答案》C

41. () 去年 1 美元可兌換新臺幣 31 元，今年 5 月 1 美元僅可兌換新臺幣 28 元，若某臺籍企業去年在美國分公司營收共 10 億美元，卻在今年 5 月將此營收兌換成新臺幣，與去年匯率比較，將損失多少新臺幣？ (A)9 億 (B)11 億 (C)30 億 (D)毫無損失。

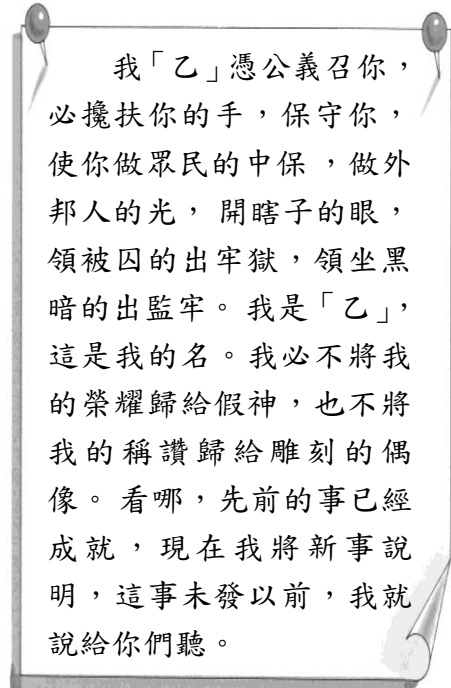
《答案》C

42. () 某節目主持人到伊斯坦堡採訪，發現白天時土耳其人竟都不吃東西也不喝水，而日落前清真寺外早就排滿了販賣各式小吃的攤販，卻無人前去光顧。經詢問後才了解這時適逢「齋戒月」，教徒們每天從日出到日落期間禁食，日落後才會逛街、吃東西，這一個月是教徒們一年中最神聖的時期。請問：下列敘述何者錯誤？ (A)伊斯坦堡的清真寺屬於伊斯蘭教建築 (B)民眾依據《吠陀經》來奉行「齋戒月」的相關規定 (C)行齋戒的教徒們除禁食外，一生也遵照

誦經、禮拜、布施、朝聖的教規 (D)過齋戒月的伊斯坦堡居民信奉唯一真主阿拉。

《答案》B

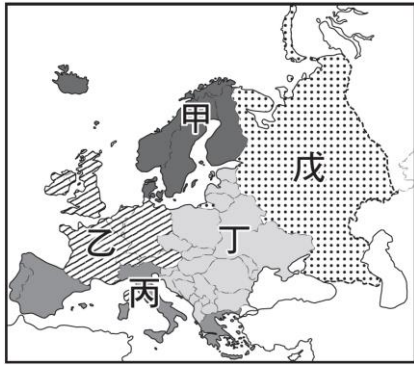
43. () 這是當代重要宗教的經文內容：



該經文認為，目前有太多假神，因此信徒只須對神跪拜，其餘假神都不須膜拜。此舉觸怒政府當局，並且開始迫害教徒。請問短文中的「乙」，應填上誰？ (A)穆罕默德 (B)耶和華 (C)阿拉 (D)耶穌。

《答案》B

44. () 歐洲煤鋼共同體於 1951 年 4 月 18 日通過《巴黎條約》成立，1952 年 7 月 23 日生效。根據條約規定，成員國毋須交納關稅而直接取得煤和鋼的生產資料，該團體的締約國有法國、德國(西德)、義大利、比利時、荷蘭及盧森堡，生效期限為 50 年，因此 2002 年 7 月 23 日之後，歐洲煤鋼共同體不再存在。請問：文中提及的組織多為附圖中歐洲哪一分區的國家？ (A)甲 (B)乙 (C)丁 (D)戊。



《答案》B

45. () 基督教的发展悠久，期间曾经历两次分裂。下列有关基督教的叙述，何者正确？ (A) 罗马帝国初期对宗教采放任政策，故基督教传入时不曾遭遇迫害 (B) 基督教对于中古时期欧洲文化的铸造，极具影响力 (C) 十六世纪初，基督教发生了第一次大分裂，出现了路德、喀尔文、耶稣会等新教的支派 (D) 明清之际，耶稣会教士将西方文化输入中国，清世宗更明令奖励基督教，促进中西文化交流。

《答案》B

46. () 西元 2013 年美国发起了「黑人的命也是命(Black Lives Matter)」运动，起源于非裔美国人社群，抗议针对黑人的暴力和系统性歧视。请问从历史的事件来看，下列哪个原因比较有可能是白人歧视黑人的原因？ (A) 美洲是非洲罪犯的流放地 (B) 黑人资本家剥削白人中产阶级 (C) 黑人带来天花、霍乱等疾病 (D) 欧洲引进大批黑人奴隶至美洲。

《答案》D

47. () 欧盟扩张后，产生了内部区域发展不均的问题，在各国人均生产毛额(GDP)的呈现上即可看出。为了平衡区域间的发展差异，欧盟采取了一些区域平衡政策。请问：下列哪一个计划属于上述区域平衡计划的范畴？ (A) 泛欧运输网络交通计划 (B) 巴黎防治恐怖攻击策略 (C) 阿爾卑斯山生态保育计划 (D) 多瑙河三角洲环境复育计划。

《答案》A

48. () 王老师暑假到非洲某地旅游，回国后她告诉大家：「那裡是夏雨型暖温带气候，和台北的气候非常相似呢！」请问：王老师应该是到了下列何处？ (A)

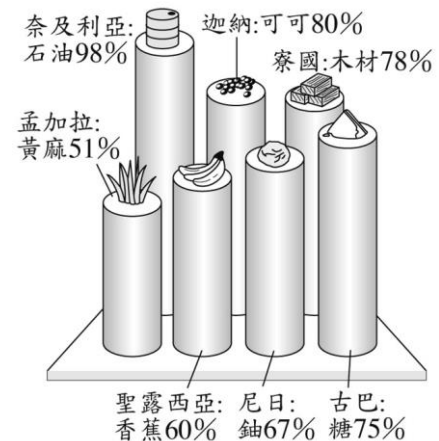
南非开普敦 (B) 地中海沿岸 (C) 非洲东南端 (D) 几内亚湾沿岸。

《答案》C

49. () 位于黑海旁的索契，为 2014 年冬季奥运主办城市，它也是俄罗斯最受欢迎的度假胜地，在冬奥举行期间，为当地带来无限的商机。请问：索契的气候特征最可能为下列何者？ (A) 夏雨型的温带大陆性气候 (B) 温暖湿润的夏雨型暖温带气候 (C) 冬、夏两季有季风调节的气候 (D) 终年高温多对流雨的热带气候。

《答案》A

50. () 附图显示某类型国家的单一产品，在某年占该国出口总额的百分比，如糖占古巴出口总额的 75%。此类型的国家，最可能具有下列哪些共同的特色？ (甲) 贸易巨额出超 (乙) 外汇收入不稳定 (丙) 经济发展程度高 (丁) 分布在东南亚、中南美洲和非洲 (A) 甲乙 (B) 乙丙 (C) 乙丁 (D) 丙丁。



《答案》C

51. () 受到全球暖化的影响，北極海航道因冰山的消融而开通，据此判断，此航道的开通会使哪一国的交通及战略位置日趋重要？ (A) 乌克兰 (B) 俄罗斯 (C) 西班牙 (D) 新加坡。

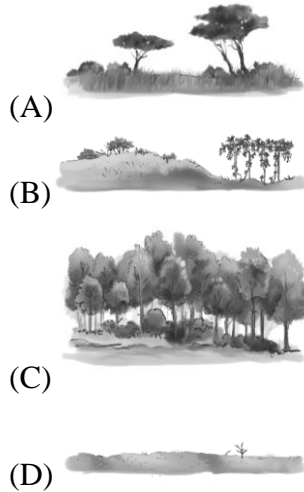
《答案》B

52. () 梁妈妈开了一间自助餐店，就不能在同一时间从事其他工作。因此，她在计算经营成本时，也将自己的薪水一起纳入生产成本之计算。上述主要在说明经济学的哪种概念？ (A) 社会规范 (B) 机会成本 (C) 公共利益 (D) 公共参与。

《答案》B


53. () 亞馬孫盆地因植被使其有「世界之肺」之稱，過去一直吸收碳並釋出氧氣，但

西元 2021 年初，學者指出，隨著亞馬孫盆地不斷的火山噴發、乾旱和土地開墾，釋放出的溫室氣體比儲存在植物和土壤中的更多，換言之亞馬孫地區將由吸收二氧化碳，演變成「排碳來源」，加劇氣候變化。請問：文中提及地區的植被類型與下列哪一張圖最相符？



《答案》C

54. () 附圖是非洲未來地形演變的預測，其中東部地形變化最主要的原因為何？
 (A) 裂谷持續擴大，東部變成島嶼 (B) 板塊相互擠壓，東部隆起島嶼 (C) 海平面持續上升，東部變成孤島 (D) 海平面持續下降，東部出現海埔地。



《答案》A

55. () 下列何者是造成「亞馬孫盆地雖然僅有 700 萬平方公里，但卻蘊藏著世界上最豐富最多樣的生物資源，聚集了 5 萬多種植物、1,700 多種鳥類、700 多種兩棲、哺乳類及爬行類動物及 250 萬種昆蟲。」的最主要原因？ (A) 地形平坦 (B) 氣候溼熱 (C) 土壤肥沃 (D) 水源充沛。

《答案》B

56. () 《槍炮、病菌與鋼鐵：人類社會的命運》一書中，指出中南美洲難以建立影響人類的文明，主因該地缺乏某種動物，直到十五世紀歐洲人才從歐洲引進此種動物。這種動物應該是下列何者？ (A) 羊駝 (B) 駱駝 (C) 牛隻 (D) 馬匹。

《答案》D

57. () 驅動人類社會進步的最大動力，往往是商業活動，甚至可以說人們為了逐利，不斷促使文明向前進步，這種推進的動力不是農業社會可以比擬的。我們可以說新航路的發現，是因為人類對商業獲利的渴求，有意無意間所促成。請問前面這段敘述，與下列哪個選項最高度相關？ (A) 發現新航路的原因 (B) 葡萄牙人占領澳門 (C) 香料被運往歐洲 (D) 海外傳教的動機。

《答案》A

58. () 某一碑文刻有防守帝國疆域的軍團名稱，經研究確認碑文上的軍團分別駐紮於今日英國、西班牙、埃及、敘利亞等地，以及多瑙河、萊茵河沿岸。該碑文應是記錄下列哪一帝國的軍團？ (A) 二世紀的羅馬帝國 (B) 七世紀的阿拉伯帝國 (C) 八世紀的查理曼帝國 (D) 十三世紀的蒙古帝國。【103 教育會考】

《答案》A

59. () 電影《北非諜影》描述第二次世界大戰時，位於北非摩洛哥的卡薩布蘭加，成了歐洲難民躲避納粹迫害的自由跳板，因而聚集了歐洲各國人士，充滿詭譎的氛圍。卡薩布蘭加現已改名為達爾貝達，是摩洛哥位於大西洋岸邊的大港。電影迷如要到當地尋訪場景，為避免雨季減低遊興，最好選擇下列哪一個季節前往？ (A) 春季 (B) 夏季 (C) 秋季 (D) 冬季。

《答案》B

60. () 附圖是法國兩個農夫的對話，請問他們所討論的○○，最有可能為下列哪一個國家？ (A) 芬蘭 (B) 丹麥 (C) 英國 (D) 西班牙。



《答案》D