

# 花壇國中 110 學年度上學期社會科補考題庫

# 八年級

## 一、選擇

片假名	阿 ア	加 カ
	伊 イ	千 チ
平假名	安安 あ	加加 か
	以以 い	知知 ち

1. ( ) 逐步退出煤炭和煤電產業是走向清潔能源的基礎，也是各國在巴黎簽署協定減排承諾的關鍵。中國國家能源局西元 2019 年 9 月宣布提前完成了「十三五」(西元 2016~2020 年)期間淘汰 2,000 萬千瓦落後煤電機組的任務，請問：此一政策的完成對哪一個地區的燃煤發電廠影響最大？ (A)環渤海經濟圈 (B)長三角經濟圈 (C)珠三角經濟圈 (D)港澳特別行政區。

《答案》A

2. ( ) 「他為了要加強中央集權，廢止了封建、開始推行郡縣制度……此外，他還推動了文字、貨幣和度量衡的統一，對於各地的交流有很大的幫助」。請問：上文描述的是哪一位君王？ (A)秦始皇 (B)齊桓公 (C)周文王 (D)周武王。

《答案》A

3. ( ) 「東突厥騷擾西域地區已久，聽聞他擊敗東突厥，西域國家感謝不已，決定致上『天可汗』的稱號，所以他不只是中國的皇帝，也是西北、中亞地區各民族的領袖。」請問：文中所說的「他」應該是中國的哪一位皇帝？ (A)秦始皇 (B)漢武帝 (C)唐太宗 (D)北魏孝文帝。

《答案》C

4. ( ) 革命鬥士秋瑾女俠認為女性不應該附屬於家庭，女性應該透過解纏足及求學吸收新知的方式，獲得獨立自主的地位。請問：此一想法和下列何者所提倡的救國思想類似？ (A)梁啟超 (B)利瑪竇 (C)湯若望 (D)徐光啟。

《答案》A

5. ( ) 附圖是某國文字與中國漢字間的關係。請問：這是今天哪個國家的文字？ (A)韓國 (B)越南 (C)日本 (D)印尼。

《答案》C

6. ( ) 中國地勢呈三級階梯，主要呈現下列何種地勢起伏？ (A)西高東低 (B)西低東高 (C)南高北低 (D)南低北高。

《答案》A

7. ( ) 明清時期傳教士來華為了順利傳教，會透過一些方式，以其中國人能順利接受上帝的福音。請問：關於傳教士傳教的手法，下列敘述何者錯誤？ (A)將中國典籍、瓷器等傳入歐洲 (B)為中國製造西方火炮武器 (C)教導中國讀書人西方的數學知識 (D)穿著儒生的服裝。

《答案》A

8. ( ) 「秋風秋雨愁煞人」，相傳是中國女性參政先聲秋瑾的遺言，生在清末的秋瑾，致力突破傳統對於女性的限制，改變女性在家庭與社會的地位。依她的生平事蹟，她最不可能主張下列何者？ (A)遵從三從四德 (B)女性受新式教育 (C)女性投入職場 (D)反對纏足。

《答案》A

9. ( ) 下列哪一種情形符合「合法組成政府」的意思？ (A)組織游擊隊，以武力取得政權 (B)以革命流血方式建立新國家 (C)發動政變，迫使政府領導人自動交出政權 (D)透過選舉，藉由選票進行政黨輪替。

《答案》D

10. ( ) 中國最高階梯因受限於自然環境，土地生產力較低，居民主要的經濟活動為何？ (A)農業 (B)林業 (C)漁業 (D)畜牧。

《答案》D

11. ( ) 澳洲近年來將經濟重心從歐洲移至亞洲各國，並積極參加亞太地區的組織。請問：以下何者是澳洲經濟重心轉移之主

因？ (A)距離亞洲較近，且亞洲經濟勢力的崛起 (B)北美自由貿易區成立 (C)亞太經濟合作會議拒其加入 (D)石油輸出國家組織採取關稅壁壘政策。

《答案》A

12. ( ) 元朝廣設某機構，主要是提供信使、官員歇息或換馬的處所，不但便於政府的統治，也加速經貿的往來。請問：這是哪一類機構？ (A)驛站 (B)馳道 (C)烽火臺 (D)市舶司。

《答案》A

13. ( ) 下列哪一個地區屬於中國中部經濟帶，但也被列入西部大開發的範圍內？ (A)山西 (B)陝西 (C)黑龍江 (D)內蒙古自治區。

《答案》D

14. ( ) 臺灣地區在□□以後，開放了四個通商口岸，使得貨物的進出口貿易更加繁盛，呈現出洋商、洋行在通商口岸林立的景象。請問：□□指的是什麼？ (A)鴉片戰爭 (B)清法戰爭 (C)牡丹社事件 (D)英法聯軍。

《答案》D

15. ( ) 「這裡有天顛之水、世界屋脊，儘管自然環境惡劣，當地少數民族依然培育出堅韌不拔、樂觀豁達的性格特質。」請問：上文所述的少數民族應為下列何者？ (A)回族 (B)壯族 (C)藏族 (D)維吾爾族。

《答案》C

16. ( ) 所謂「偏安政權」是指政權失去中原地區而偏處於部分領地，歷史上的東晉，就屬於偏安政權。請問：下列哪個朝代也屬於偏安政權之一？ (A)西漢 (B)唐朝 (C)北宋 (D)南宋。

《答案》D

17. ( ) 我國立法委員可以對總統提名的人員行使同意權，其中不包括下列哪一位官員？ (A)大法官 (B)監察委員 (C)司法院院長 (D)行政院院長。

《答案》D

18. ( ) 國家設置軍隊，最主要在實現國家的何項目的？ (A)發展社會福利 (B)保障基本人權 (C)維持社會秩序 (D)保衛國家安全。

《答案》D

19. ( ) 以下是中國歷史人口數量略表：

朝代	南宋、金、西夏、大理	元代、明初
人口	約一億四千萬	約6千萬

明萬曆	清乾隆	清朝中葉
約1.5億	突破3億	突破4億

從上表中發現，明中葉以後中國人口增長快速，判斷最可能是以下哪一因素所致？ (A)中國版圖增加 (B)嚴格的戶籍調查 (C)新作物推廣種植和普及 (D)傳教士帶來新的醫學觀念。

《答案》C

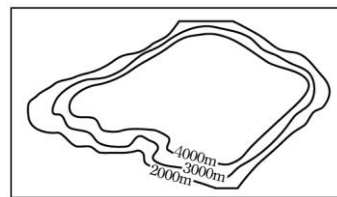
20. ( ) 以下是大為介紹某位公職人員的相關資料——

甲、須年滿 23 歲
乙、任期 4 年
丙、連選得連任
丁、單一選區兩票制

依此判斷，他所介紹的公職人員最可能為以下何者？ (A)總統 (B)立法委員 (C)臺北市市長 (D)臺東縣縣長。

《答案》B

21. ( ) 附圖為中國某地區的等高線地形圖，此地形最可能分布在中國的哪一個地區？ (A)東北部 (B)東南部 (C)西北部 (D)西南部。



《答案》D

22. ( ) 民主政治是強調「以民為主」的政治制度。下列哪一項說法最貼近現代民主政治的真實運作方式？ (A)人民必須要直接決定國家的政治事務 (B)政府實施民主是對人民的一種德政 (C)人民參與政治事務，須嚴格規範資格上的限制 (D)政府的組成與權力的行使，必須獲得人民同意。

《答案》D

23. ( ) 下列何者是造成澳洲內陸乾燥，形成沙漠的原因？ (甲)居背風側 (乙)副熱帶

高壓籠罩 (丙)地勢高聳 (丁)沿岸暖流經過 (A)甲乙 (B)甲丁 (C)乙丙 (D)丙丁。

《答案》A

24. ( ) 為因應民眾需求，各級地方政府積極推動居家照顧服務，協助因身心受損致日常生活功能需他人協助之居家老人及身心障礙者，得到所需之持續性照顧，並紓緩家庭照顧者的壓力。這是現代民主國家的何種目的？ (A)保衛國家安全 (B)發展社會福利 (C)不受國際干涉 (D)維持社會秩序。

《答案》B

25. ( ) 財團法人臺灣網路資訊中心公布「西元2019年臺灣網路報告」如下圖所示，調查結果推估全國12歲以上上網人數達1,898萬人，而全國上網人數經推估已高達2,020萬，整體上網率達85.6%。



下列敘述何者最能顯示上述現象在臺灣社會的正面功能？ (A)可以減少人際衝突並提升互動的品質 (B)提供弱勢團體向政府爭取權益的機會 (C)可解決城鄉之間資源分配不均的問題 (D)民眾可以獲得迅速確實的第一手訊息。

《答案》B

- ( ) 明朝政府為何要實行「朝貢貿易」？ (A)與外國建立平等的貿易關係 (B)走私貿易嚴重損害國家稅收 (C)因應地理大發現，方便管理洋商 (D)以天朝上國自居，以商業利益引誘四夷臣服。

《答案》D

26. ( ) 下列哪些是造成中國人口分布集中於東半部的原因？ (甲)地形平坦 (乙)氣候乾燥 (丙)交通便利 (丁)經濟發達 (A)甲乙丙 (B)甲乙丁 (C)甲丙丁 (D)乙丙丁。

《答案》C

27. ( ) 有慶看了以下的新聞報導，發現民眾可

以透過很多方式向政府表達民意。下列哪一則報導是人民直接向政府表達對公共事務的意見方式？

(A)

勞工團體向勞動部陳情，要求提高基本工資

(B)

消費者向消費者文教基金會投訴不良的店家

(C)

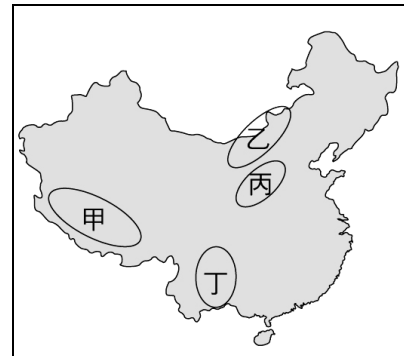
民眾在臉書爆料公社上批評政府救災不積極

(D)

空服員向工會反應，航空公司未支付加班費

《答案》A

28. ( ) 哈麗正和波特閒聊：「前陣子到中國旅行，本想多欣賞當地雄偉的冰河景觀，卻發現自己有頭疼、噁心、呼吸困難的情形，只好戴上氧氣罩下山，才減輕這些不舒服的症狀。」請問：他們最可能是到附圖中的哪一個地區？ (A)甲 (B)乙 (C)丙 (D)丁。



《答案》A

29. ( ) 政府興建公共工程，負責機關如果沒有善盡監督之責，導致工程發生意外，那麼可用下列何種方式來改善？ (A)立法院院會中提出彈劾案 (B)司法院下令改善公共工程的設計建造方式 (C)監察院糾正不當的施政 (D)考試院懲戒相關公務人員。

《答案》C

30. ( ) 春秋戰國時代，開始出現貴族沒落、平民崛起的現象，主要因素為何？ (A)

國君以才能為用人標準 (B)貴族完全沒有行政能力 (C)傳染病大流行，人口銳減 (D)物價飆漲，貴族變成窮人。

《答案》A

31. ( ) 曹美為了撰寫報告，上網查詢「桃園市」的相關資訊。下列何者是曹美可以採用的正確內容？ (A)桃園市政府負責審議地方預算 (B)和嘉義市屬於同一層級 (C)市內設有鄉鎮市公所 (D)與臺南市同樣屬於直轄市。

《答案》D

32. ( ) 我國中央政府的運作，落實了「權力分立」的原則。關於總統與立法院之間的互動關係，下列敘述何者正確？ (A)立法院三讀通過的法案須經總統公布後始能生效 (B)總統提名的人事不須經立法院同意後才能任命 (C)立法院可對總統提出不信任案 (D)立法院有向總統質詢之權。

《答案》A

33. ( ) 以下是對某一雜誌的評價：

在中國發行最久，影響最大的一份雜誌，當時的人稱「西學新知之總薈」。

由於其廣泛介紹西方各國的地理、歷史、政治等，從李鴻章、張之洞這些重要的政府官員到日本天皇，都長期訂閱這份雜誌。

孫中山先生所寫「致李鴻章書」也在此雜誌上發表過。林語堂稱透過此雜誌，林樂知成為他生命中，影響最大的人物。……在西元 1876 年，清政府表彰美國傳教士林樂知的貢獻，授予他五品頂戴官銜。

請問：影響如此大的雜誌應是下列何

者？

(A)



(B)



(C)



(D)



《答案》B

34. ( ) 由於《憲法》具有固定性，不宜修改，但是為符合現實環境需要，則常以不變動《憲法》本文的原則下，以增修條文的方式進行修憲。在我國，下列何者擁有《憲法》修正案的提案權？ (A)司法院大法官 (B)立法院 (C)行政院 (D)總統。

《答案》B

35. ( ) 經常聽到古裝劇中對女性提出「三從四德(德顏容功)」的規範。對於這樣的觀念，下列的說明何者為正確？ (A)三「從」之一指的是要遵循家中母親的指示 (B)婦功指的是女子生育的功能 (C)三從四德的概念一直到清末都不曾被撼動 (D)三從四德主要是古代欲建立女子順從溫婉的形象。

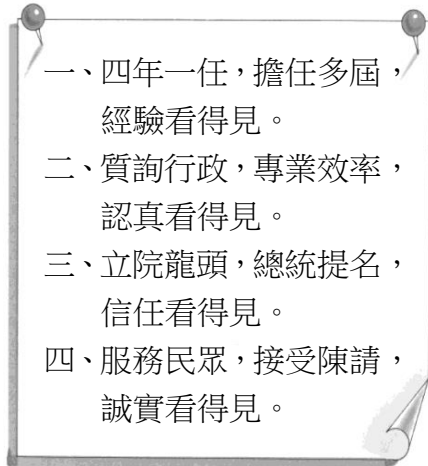
《答案》D

36. ( ) 魏源是清末的知識分子，曾經在其著作《海國圖志》一書中提出「師夷長技以制夷」的主張，但一直未受到重視。請

問：他的主張到何時才被接納採用？  
 (A)鴉片戰爭以後 (B)英法聯軍以後  
 (C)臺灣民主國建立以後 (D)牡丹社事件以後。

《答案》B

37. ( ) 為競選立法委員連任的甄為民，請小編製作附圖的競選文宣放在社群網站上宣傳，希望透過有力的內容讓民眾看見他的政績。



甄為民在檢查文宣內容時發現了一個錯誤，及時請小編修正，請問是附圖中的哪一項呢？ (A)第一點 (B)第二點 (C)第三點 (D)第四點。

《答案》C

38. ( ) 小雅在書中讀到一段文字：「周文王與周武王分封眾多同姓弟子，之後血緣關係逐漸淡薄疏遠，甚至還互相攻擊猶如仇人般，諸侯更是逾越身分，周天子無法禁止……。」請問：這段文字是在評斷下列哪項制度？ (A)禮樂制度 (B)戶籍制度 (C)郡縣制度 (D)封建制度。

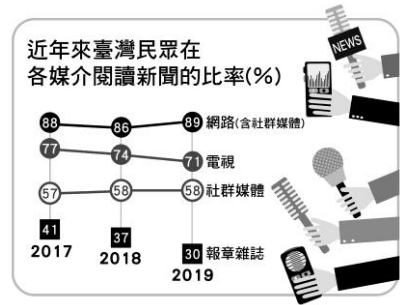
《答案》D

39. ( ) 逸騏班上選舉班長的方法，是由班上每一位同學當場舉手表決。假如我們用嚴格的選舉標準來看，逸騏班上選班長的行為，會違反下列哪一項選舉原則？ (A)普通 (B)平等 (C)直接 (D)無記名。

《答案》D

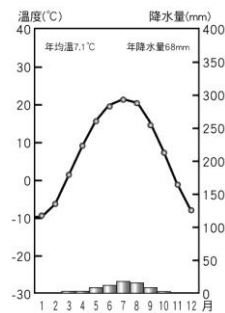
40. ( ) 附圖是牛津大學路透新聞學研究所調查的「西元 2019 數位新聞報告」。從調查內容判斷，下列哪一個現象的發生與其最相關？ (A)電視影響性日增，政府應該加強對其內容的審查 (B)政府機關開設粉絲專頁與民眾互動，並宣導政令 (C)報章雜誌因其專業性高，報

導深入，多受民眾青睞 (D)為提高報導影響度，新聞臺應提高紙本印刷銷量。



《答案》B

41. ( ) 酒泉是河西走廊上著名的綠洲城市，附圖為酒泉的氣候圖。由此可判斷出河西走廊屬於哪一種氣候類型？ (A)草原氣候 (B)季風氣候 (C)高地氣候 (D)沙漠氣候。



《答案》D

42. ( ) 家族聚餐時，仁希和親戚聊起在西元 2018 年辦理的九合一地方公職人員選舉，他發現住在臺中市的舅舅、新竹市的阿姨、臺北市的外公等，恰好都領到相同張數的選票，只有表哥不一樣。根據上述，表哥最可能是在下列哪一個城市投票？ (A)苗栗市 (B)臺南市 (C)基隆市 (D)嘉義市。

《答案》A

43. ( ) 新聞報導：「臺北文資環境守護聯盟到臺北市議會外陳情，希望儘快緊急修復陳悅記老師府和嘉禾新村古蹟，並檢討程序爭議，共創眷村公園。」下列關於「臺北文資環境守護聯盟」的敘述，何者正確？ (A)可稱為利益團體 (B)會提名候選人參選 (C)為地方立法機關 (D)負責審查臺北市政府預算。

《答案》A

44. ( ) 附圖為中國氣候分區圖。下列何者是丙區的氣候特徵？ (A)年溫差大 (B)年降水量多 (C)夏乾冬雨 (D)氣溫與氣壓隨高度增加而遞減。

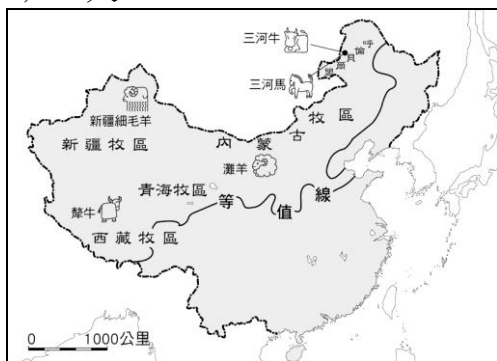


《答案》D

45. ( ) 中國古代的選才制度因朝代更迭而時有變動，制度往往會因應時代需求而有所調整，因此學者們也經常透過選才制度來了解當時的時代背景。請問：「布衣卿相」透露出當時的何種社會氛圍？  
 (A) 魏晉南北朝戰爭頻繁，貴族沒落  
 (B) 秦始皇中央集權，在用人上刻意重用百姓、冷落貴族  
 (C) 唐代以後實施科舉考試，百姓較以前更無法參與政府運作  
 (D) 戰國時期各國國君用人唯才，平民有機會擔任官員。

《答案》D

46. ( ) 附圖為中國主要牧區及其優良牲畜品種分布圖。請問：圖上的等值線最可能代表什麼意義？  
 (A) 最暖月均溫 0°C  
 (B) 年降水量 500mm  
 (C) 海拔高度 3,000 公尺  
 (D) 人口密度每平方公里 1,000 人。



《答案》B

47. ( ) 有關中國疆域的敘述，下列何者正確？  
 (A) 位於東半球，亞洲東部，東臨大西洋  
 (B) 跨熱帶、溫帶、寒帶三帶，幅員廣大  
 (C) 南部有北回歸線通過，以南為熱帶氣候  
 (D) 大部分屬熱帶氣候，高溫多雨。

《答案》C

48. ( ) 下列關於我國監察院的職權及其行使對象的配對，何者正確？  
 (A) 審計權：政府預算  
 (B) 糾正權：公務人員  
 (C)

糾舉權：公務人員 (D) 彈劾權：政府機關。

《答案》C

49. ( ) 下表是公民老師上課列舉的事例，根據表中內容判斷，下列何者最可能是老師進行的主題？  
 (A) 政黨擬定公共政策的過程  
 (B) 利益團體影響政策的制定  
 (C) 立法機關制定法案的流程  
 (D) 公民投票影響政策的形成。

團體	內容	期間
婦女新知基金會	推動兩性工作平等法通過(修正為性別工作平等法)	1990~2001 年
董氏基金會	推動菸害防制法通過	1991~1997 年
兒童福利聯盟	推動兒童及少年福利法通過(修正為兒童及少年福利與權益保障法)	2001~2003 年

《答案》B

50. ( ) 關於行政區與其居住的主要民族搭配，下列四項何者正確？  
 (A) 廣西——回族  
 (B) 內蒙古——藏族  
 (C) 寧夏——滿族  
 (D) 新疆——維吾爾族。

《答案》D

51. ( ) 在今湖北省雲夢縣睡虎地發現的秦墓竹簡中，出土一些法律文書，其中一份資料記錄戶籍狀況，寫著某里的無爵平民甲的家如下：

「家屋一棟二室，各有入口，室皆瓦蓋，設有木造的門；種有桑樹十株；妻某在逃，不予查封；成年女兒某，未婚；未成年男子某，身高六尺五寸；奴婢：未成年女子某；雄犬一隻。」

戶籍記載包括房屋、財產、人口、奴婢、牲畜等，鉅細靡遺。請問：由上述內容的記載，可以推論當時政府推動此

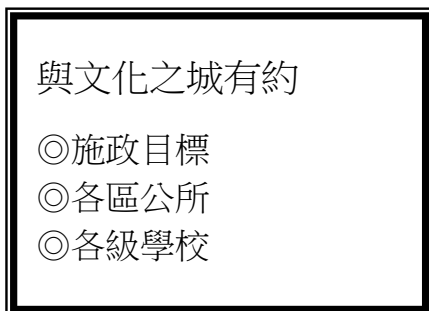
制度的作用為何？(甲)建立封建制度  
(乙)建立中央集權 (丙)作為徵兵依據  
(丁)作為課稅依據 (戊)民間講學資料  
(A)甲丙丁 (B)乙丁戊 (C)乙丙丁  
(D)丙丁戊。

《答案》C

52. ( ) 「不論在臺灣還是太平洋上斐濟、東加等地的原住民族，都有以構樹作為材料，製作成南島文化特有的樹皮布的傳統。但是根據學者研究，太平洋地區的構樹是透過人工繁殖方式傳入；更重要的是，這些地區的構樹基因，竟都擁有臺灣構樹的特有基因。」請問：下列有關上述地理現象所顯示的事實，何者最有可能錯誤？ (A)南島語族分布範圍僅限於太平洋地區 (B)這些民族對於樹皮布的發音很雷同 (C)樹皮衣是南島物質文化的代表之一 (D)南島民族很有可能從臺灣遷移出去。

《答案》A

53. ( ) 小丸子上網搜尋到以下某政府機關的網站的首頁——



根據內容判斷，該網站最有可能是下列哪一個政府組織？ (A)行政院 (B)金門縣政府 (C)臺北市議會 (D)基隆市政府。

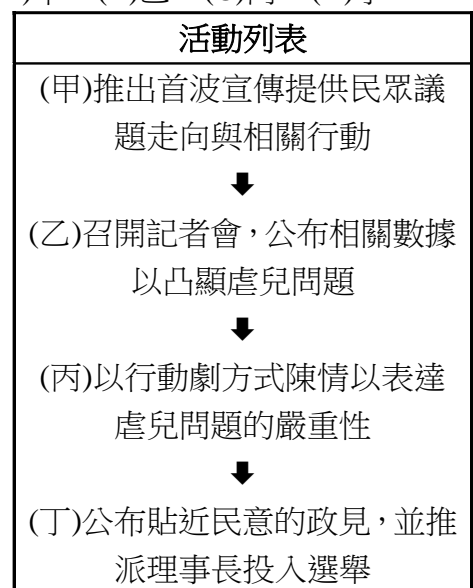
《答案》D

54. ( ) #Me Too 是某性騷擾事件後在社交媒體上廣泛傳播的一個主題標籤，從附圖所述的發展過程來推測，此標籤會形成公共意見的關鍵因素為何？ (A)藉由活動代為發表意見 (B)公開傳播引起民眾回響 (C)間接表達政策相關評論 (D)政府滿足民眾的生活需求。

始於社會活動人士塔拉納·伯克一場草根運動，她希望能用這個詞來回應向她傾訴曾遭受性侵犯的少女。接著女演員艾莉莎·米蘭諾鼓勵女性在推特上用這個詞，使人們意識到該問題的嚴重性與普通性，自此數百萬人使用這一標籤來公開她們的不快經歷。接著，部分州議會回應在競選中出現的性騷擾指控。聯邦眾議員傑基·斯貝爾發起簡化國會中告發性騷擾流程的提案。

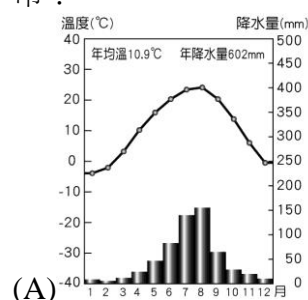
《答案》B

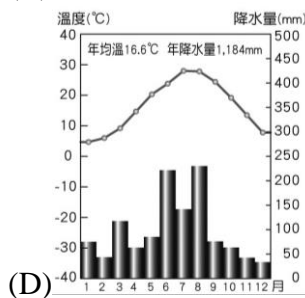
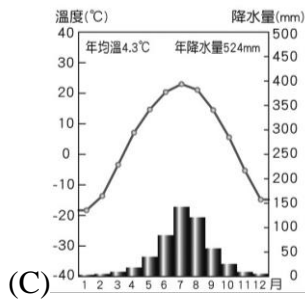
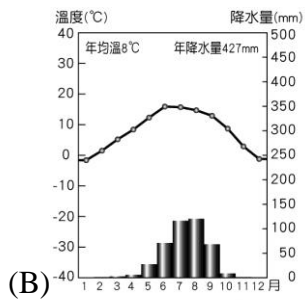
55. ( ) 隨著社會及環境變遷，發生多起照顧上因疏忽導致孩童被悶死、受傷，或是一連串的虐兒事件，相關民間團體擬採取下表的活動來吸引社會關注，促使能再次修正《兒童及少年福利與權益保障法》。在該項活動列表中卻出現一筆被誤植的資料，請挑出是哪一個項目？ (A)甲 (B)乙 (C)丙 (D)丁。



《答案》D

56. ( ) 下列為中國四個城市的氣候圖。請由圖中的資料判斷，何地最有可能是拉薩市？





《答案》B

57. ( ) 某學者：「言論自由是按照自己的意願，可以在公共領域自由的發表言論，以及聽取他人陳述意見的權利。它通常被認為是現代民主社會中一個不可或缺的概念，在這概念下，人民的言論不應該被政府不當的限制與侵害。」由上述內容判斷，它在強調哪一方面的國家功能？ (A)保障基本人權 (B)維持社會秩序 (C)保衛國家安全 (D)發展社會福利。

《答案》A

58. ( ) 花蓮亞泥新城山礦場與附近原住民部落只距離 300 公尺，中間還有 2 條潛勢土石流經過，部落族人每天都生活在恐懼中，好不容易亞泥採礦權到期，終於有可協商空間，經濟部卻在礦業法修法將環境評估納入採礦許可的審核條件前，通過亞泥的礦權展延。以下為某記者播報此事件的各方立場：

甲方立場
齊柏林導演曾空拍採礦場，感嘆寫下：「比 5 年前挖得更深了」，引發社會關注此一事件。
乙方立場
二十多個民間團體發起「看見亞泥搶救太魯閣」遊行活動，訴求撤銷礦權展延。
丙方立場
礦廠員工陳情，希望礦業法修法能夠合理、並保障員工生存權與工作權。

上述資料，並未呈現出哪一種表達公共意見的方式？ (A)民眾直接向政府表達意見 (B)藉由他者間接代為表達意見 (C)政府提供管道讓民眾表態 (D)公開表達以成為社會討論議題。

《答案》C

59. ( ) 澳洲是一四面環海的島嶼，但卻降水量稀少，甚至還有廣大的沙漠氣候區。造成上述現象的最主要因素為何？ (A)島嶼面積太大，中央區域距海遙遠 (B)暖流勢力太強，造成空氣穩定缺乏對流 (C)位在西風的背風側，缺乏水氣 (D)南回歸線橫貫中央，受副熱帶高氣壓籠罩。

《答案》D