

## 花壇國中 社會科八年級(下)補考題庫

### 一、選擇

1. ( ) 某一地理區的自然環境特色如下：「為印澳板塊的一部份，地層古老而堅硬，地表大致平坦，只在東西邊緣稍有隆起成山地。」上述的地理區最可能為何？ (A)中南半島 (B)德干高原 (C)印度大平原 (D)喜馬拉雅山脈。

《答案》B

2. ( ) 新知識分子認為中國之所以無法進步，歸咎於某方面的影響，中國要成為現代化國家必須進行變革，引進西方思潮。請問：「某方面」是指何者？ (A)傳統文化的不良 (B)學生熱衷學運 (C)婦女地位過度提升 (D)儒家思想未受重視。

《答案》A

3. ( ) 在孫中山的建國大綱中，將國家建設分為軍政、訓政、憲政三個時期。中國於民國 17 年完成北伐，結束軍政，進入訓政時期，在往後十年間，有著諸多建設。請問：下列何者屬於當時的建設項目？ (A)由外國主導關稅 (B)實施「廢元改兩」 (C)由地方發行貨幣 (D)修建鐵路、公路。

《答案》D

4. ( ) 美君要上臺報告法律位階的三個層級，下列是她寫下的重點，其中哪項說法錯誤？ (A)憲法條文有非常詳盡的細節規範 (B)法律和命令都不可牴觸憲法 (C)命令補充法律的規定 (D)狹義的法律是由立法委員制定。

《答案》A

5. ( ) 日本於一九三〇年代起不斷對中國進行侵略，使得中國內部疲於戰爭。而日本除了對中國展現其擴張的野心外，也對南洋地區採取軍事行動，讓許多無辜的人民飽受戰火的摧殘。以下為日本侵略中國的事件：(甲)九一八事變 (乙)七七事變 (丙)南京大屠殺 (丁)滿洲國的成立。依照發生的時間先後排列，下列何者正確？ (A)甲乙丙丁 (B)甲丙乙丁 (C)甲丁乙丙 (D)甲丁丙乙。

《答案》C

6. ( ) 日本地震頻繁，且有火山地形，境內

第一高峰「富士山」就是一座活火山，推測應與何項因素有關？ (A)緯度橫跨廣 (B)經度範圍大 (C)處板塊交界 (D)高低壓多變。

《答案》C

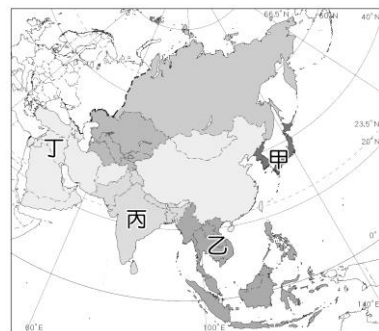
7. ( ) 大雄在撰寫歷史報告時，蒐集了某個時期的一些流行口號，如：「革命無罪、造反有理」、「破四舊、立四新」、「無產階級專政」等。請問：這應該是何時的流行口號？ (A)五四運動 (B)大躍進運動 (C)黃金十年建設 (D)文化大革命。

《答案》D

8. ( ) 憲法主要在確立國家的目的、方向，以及人民的基本權利及義務，所以條文通常簡明扼要。上述指出憲法的何種特性？ (A)最高性 (B)穩定性 (C)原則性 (D)單一性。

《答案》C

9. ( ) 「1、2、3、4、5、6、7、8、9、0」都是我們熟悉的阿拉伯數字，這些數字的由來並不是阿拉伯人發明創造的，而是發源於某區，後來被阿拉伯人掌握、改進，並傳到了西方，西方人便將這些數字稱為阿拉伯數字。上文中提到的某區在今日中的哪一個地區？ (A)甲 (B)乙 (C)丙 (D)丁。



《答案》D

10. ( ) 朝鮮半島的傳統民居深受自然環境影響，有關其傳統民居的敘述，下列何者正確？ (A)受地震頻繁影響，以木造建築為主 (B)因冬季嚴寒，建築中常見取暖設施 (C)地勢相當低平，屋頂多為平頂建築 (D)夏季相對涼爽，屋牆多為厚實少窗。

《答案》B

11. ( ) 民國 6 年，孫中山指出：「今日變亂非帝制與民政之爭，非新舊潮流之爭，非南北意見之爭，實真共和與假

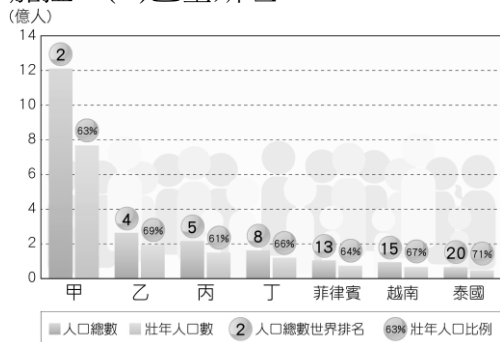
共和之爭。」請問：從所述的內容判斷，孫中山指何事？ (A)《臨時約法》與國會受到摧殘 (B)袁世凱稱帝 (C)溥儀復辟 (D)武昌起義。

《答案》A

12. ( ) 西元 1958 年起，中共開始推行「大躍進」政策，希望加速發展農業與工業，並以什麼為口號，企圖超越西方國家？ (A)超日趕德 (B)追法趕義 (C)超英趕美 (D)追德趕俄。

《答案》C

13. ( ) 附圖為東南亞及南亞部分人口超過 1 億國家的資料，其中甲所指的應為哪一國家？ (A)印尼 (B)印度 (C)孟加拉 (D)巴基斯坦。



《答案》B

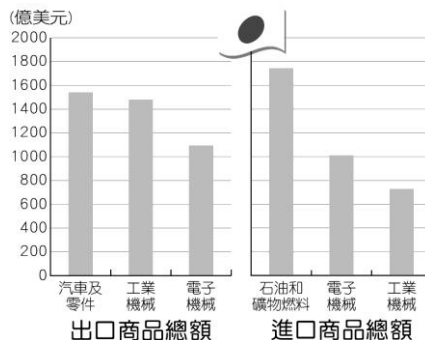
14. ( ) 有一份關於深圳地區的調查報告：

西元 1979 年 1 月 31 日，深圳蛇口工業區正式建立，成為中國對外開放的第一個試驗區，逐漸發展出了「蛇口模式」，誕生了知名的口號「時間就是金錢，效率就是生命」，此後向全國推廣。西元 1984 年 1 月，鄧小平首次考察深圳，肯定了「深圳」，認為：「深圳的發展和經驗證明，我們的政策是正確的。」

請問：這份調查報告肯定哪一項政策的成果？ (A)設立「人民公社」 (B)成立「經濟特區」 (C)設置「特別行政區」 (D)開放黨禁報禁。

《答案》B

15. ( ) 附圖是西元 2018 年日本進口與出口商品類別總額。請問：根據圖中資訊，下列哪一項敘述最正確？ (A)大量生產石油 (B)工業技術低階 (C)缺乏天然資源 (D)進口精密器材。



《答案》C

16. ( ) 花花在書上看到如附圖的內容，請協助她判斷，下列何種言行不符合該內容所要傳達的正確精神？ (A)未經著作人授權大量複製並散布文章 (B)經著作權人同意後下載歌曲 (C)在網路上發表理性評論的意見 (D)在合理使用他人文章時，不忘附註出處。

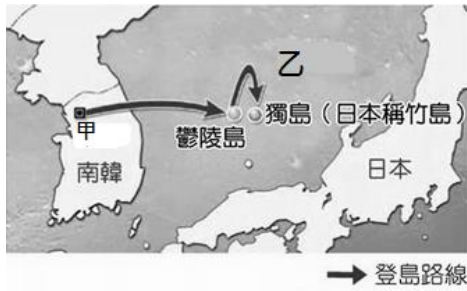
資訊科技發展必須與倫理教育及法律規範取得調適，才能建立和諧、安全、尊重、分享與利他的資訊新社會。

《答案》A

17. ( ) 幸福國是個法治國家，我們會在該國看到下列何種現象？ (A)政府可視需要決定是否守法 (B)法律一旦制定就不會再修改 (C)法律並無一定的標準以保留彈性 (D)政府會儘速修改不合時宜的法律。

《答案》D

18. ( ) 獨島(日本稱竹島)面積雖不大，但因其獨特的地理位置，而有著極高的戰略價值和經濟價值，引起鄰近兩國相互爭奪主權，如附圖。為了宣示對該島的主權，南韓某國會議員欲從圖中的甲城出發，到乙海域登島。請問：甲都市及乙海域分別為何？ (A)東京、日本海 (B)首爾、日本海 (C)平壤、黃海 (D)釜山、太平洋。



《答案》B

19. ( ) 臺灣的農業考察團若前往西亞地區考察，無法觀察到下列何種農業型態？  
 (A)灌溉農業 (B)綠洲農業 (C)熱帶栽培業 (D)地中海型農業。

《答案》C

20. ( ) 阿亮在網路查詢《組織犯罪防制條例》的相關法律條文，其中第 13 條規定：「犯本條例之罪，經判處有期徒刑以上之刑確定者，不得登記為公職人員候選人。」該條文主要在限制犯罪者的哪項基本權利？  
 (A)平等權 (B)自由權 (C)受益權 (D)參政權。

《答案》D

21. ( ) 下列何者是針對西亞與北非地區居民，其食衣住行等生活特色的描述？  
 (A)以椰棗作為重要的糧食 (B)可快速更換長短的服飾  
 (C)盡量減少空氣流動的建築 (D)以馬匹作為主要交通工具。

《答案》A

資料一：「有位英國年輕女歌手 Katie Melua 寫過一首名為『北京的九百萬輛腳踏車』的流行歌，表達西方人對中國的印象。」

22. ( )

資料二：「港、臺、日本、歐美電影和電視劇，以及文藝、流行樂大舉進入中國的情景。年輕人可以選擇聽鄧麗君和瑪丹娜歌曲，看日本名星山口百惠和三浦友和的電影、電視劇，跳迪斯科舞(DISCO)。」

請問：資料一到資料二的社會演變，與中國推行的哪一項政策有直接關係？  
 (A)推行「大躍進」運動 (B)發動「文化大革命」  
 (C)實施改革開放 (D)收回香港、澳門主權。

《答案》C

23. ( ) 就讀國中八年級的小英雖尚未成年，但也應知法守法。下列與小英有關的法律規定，何者敘述正確？  
 (A)觸犯《刑法》最重會被判處保護管束 (B)受保護管束處分時，要送少年矯正學校執行  
 (C)若觸犯《刑法》應由少年法庭處理 (D)不能出入舞廳，但可以抽菸、喝酒。

《答案》C

24. ( ) 南韓與日本在天然資源上皆居於劣勢，但其利用何種優勢，成為全球的經濟大國？  
 (A)優越的自然環境 (B)領先的工業技術  
 (C)優良的陸運條件 (D)龐大的人口總數。

《答案》B

25. ( ) 要研究日本在中國所進行的各項侵略，需要知道其步步進逼中國的作為。下列哪個組合符合日本對中國的侵略順序？  
 (A)九一八事變→七七事變→滿洲國成立  
 (B)七七事變→九一八事變→滿洲國成立  
 (C)九一八事變→滿洲國成立→七七事變  
 (D)滿洲國成立→九一八事變→七七事變。

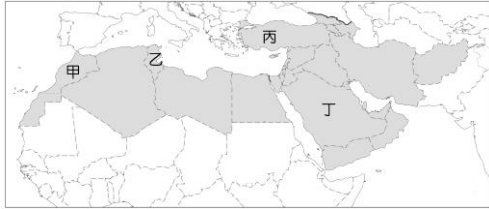
《答案》C

26. ( ) 「泡菜」對南韓家庭而言，是家喻戶曉的醃製發酵產品，甚至每個季節他們都會做出不同風味的泡菜；無論是材料或是醃製的方法，種類有百種之多。請問：是什麼原因導致南韓泡菜文化的盛行？  
 (A)地形 (B)氣候  
 (C)水文 (D)土壤。

《答案》B

27. ( ) 「甲國」位於西亞與歐洲之間，由於西亞地區的政治動盪，有大批的難民欲前往歐洲地區逃難，而「甲國」成為他們旅途中的最大中繼站。「甲國」最有可能位於下圖中何處？  
 (A)甲 (B)乙 (C)丙 (D)丁。





《答案》C

28. ( ) 大雲縣縣長安治因為涉嫌收取廠商 300 萬元賄款及 1,800 萬元的封口費，檢方審理終結起訴，除具體求處 15 年有期徒刑、罰金 2,100 萬元，並褫奪公權 8 年。對此，法學人士表示，本來依《貪汙治罪條例》應判無期徒刑，但因安治所收的賄款未直接花用在自己身上，所以檢察官只求刑 15 年。上述畫線部分，有幾項是屬於《刑法》的從刑？ (A)1 項 (B)2 項 (C)3 項 (D)4 項。

《答案》A

29. ( ) 附圖是國民政府所發行的貨幣。這是頒行於中國現代史上的哪個時期？ (A)洪憲帝制時期 (B)軍閥統治時期 (C)十年建設時期 (D)五四運動時期。



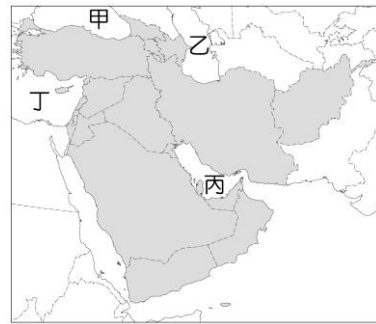
《答案》C

30. ( ) 清末「自強」、「變法」、「立憲」、「革命」等運動的發生，說明下列哪項事實？ (A)為維護傳統所做的調適 (B)著重軍事以扭轉危局 (C)天下大勢，分久必合，合久必分 (D)外力衝擊下，應變圖強的表現。

《答案》D

31. ( ) 西亞地區蘊藏豐富的石油資源，這些國家與世界其他產油國組成「石油輸出國家組織」，並透過組織協調各國的石油產量與國際油價。該組織西亞地區的會員國共同瀕臨的海域為何？

(A)甲 (B)乙 (C)丙 (D)丁。



《答案》C

32. ( ) 許多產油國的經濟過度依賴石油，若要證明這個現象，應該引用下列哪一個資料較為恰當？ (A)每年每人平均石油消費量超過世界平均 (B)石油的開採、生產與出口量皆逐年增加 (C)石油蘊藏量占全球總蘊藏量的比例甚高 (D)石油產業收入占全國生產總額比例過高。

《答案》D

33. ( ) 李賓就讀宗教研究所，對世界主要宗教及教派均有研究，他想前往各宗教的起源地或聖地觀察現今的發展以取得第一手資料，預計寒假要前往三種宗教的共同聖地耶路撒冷，他應該申請哪一個國家的出入境許可？ (A)伊朗 (B)以色列 (C)伊拉克 (D)沙烏地阿拉伯。

《答案》B

34. ( ) 《刑法》是規範「何種行為構成犯罪」，以及「犯罪行為應如何處罰」的法律。下列何者已構成犯罪行為？ (A)邊騎車邊講手機 (B)深夜在街上喧鬧 (C)打架使他人受傷 (D)開車未繫安全帶。

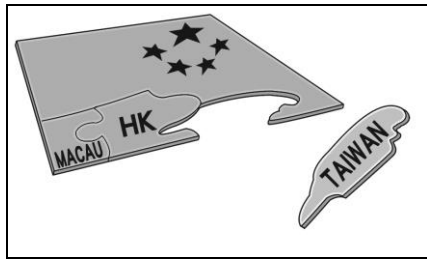
《答案》C

35. ( ) 美國在二次大戰結束後，陸續創立國際組織或簽訂協防條約，如下表所示。

時間	內容
西元 1949 年	創立北大西洋公約組織
西元 1953 年	簽訂美韓共同防禦條約
西元 1954 年	創立東南亞公約組織
西元 1954 年	簽訂中美共同防禦條約



臺灣加大了統一壓力 (C)西元 1989 年天安門事件爆發，引發臺灣社會人心惶惶 (D)兩岸展開大、小三通後，臺灣加入中國的經濟體制。



《答案》A

43. ( ) 鎮德出國旅遊時，家中遭歹徒闖空門，回國後他立刻報警處理。警察向里長調閱監視器，認為鄰居均宜的嫌疑重大，故決定向地方法院檢察官提起告訴。在此案件中，下列何者有權向法院提起公訴？ (A)法官 (B)警察 (C)里長 (D)檢察官。

《答案》D

44. ( ) 請閱讀下列史料，並推論當時的時代背景為何？

第一號為關於山東省：

甲國允許乙國繼承丙國在山東的一切利益；山東省內及其沿海土地島嶼不得讓與或租與他國，煙臺或龍口至膠州鐵路，由乙國建造。

第二號為關於南滿、東蒙：

甲國承認乙國在該地之優越地位，享有土地租借權及所有權，甲國有關該地之向外借債，聘請政治、軍事、財政顧問，均需得到乙國之同意。吉長鐵路由乙國管理。

(A)甲乙兩國正在發生戰爭 (B)乙丙兩國聯合對付甲國 (C)甲乙兩國聯合抗衡丙國 (D)丙國正在歐洲發生戰爭。

《答案》D

45. ( ) 我國《憲法增修條文》第 10 條規定：「國家應維護婦女之人格尊嚴，保障婦女之人身安全，消除性別歧視，促進兩性地位之實質平等。」因此政府

制定《性別工作平等法》，不僅保障女性的工作權利，也落實性別平等的觀念。下列相關敘述，何者正確？ (A)《性別工作平等法》在落實《憲法增修條文》的規範 (B)《性別工作平等法》屬於命令 (C)《憲法增修條文》的內容如果與《性別工作平等法》的規定相抵觸，則《憲法增修條文》無效 (D)《憲法增修條文》是由監察院審議通過的。

《答案》A

46. ( ) 附圖為亞洲簡圖，圖中黑線代表某氣候現象的分界。請問：圖中「A」區的氣候特色為何？ (A)降水量稀少 (B)冬季日夜溫差大 (C)四季如夏 (D)夏季為主要雨季。



《答案》D

47. ( ) 對於各項因發揮創意而完成的創作，創作人原則上享有著作權，這是法律對著作權的保障。下列何者的行為屬於在合理使用著作權的範圍，並沒有侵害著作權的疑慮？ (A)在個人部落格刊載全新發行的小說全文 (B)在網路上傳分享在電影院錄製的電影畫面 (C)在學校報告中引用新聞報導的內容 (D)在聊天室與網友分享購買的音樂單曲電子檔案。

《答案》C

48. ( ) 中國共產黨在近現代的中國歷史中具有舉足輕重的地位，從共產黨進入中國後的相關經歷與重要發展來看，下列敘述何者正確？ (A)孫中山想結合共產黨勢力以對抗日本的侵略 (B)在孫中山「聯俄容共」政策之下，共產黨在西元 1921 年成立 (C)蔣中正正在北伐的過程中，曾決定清除黨內的

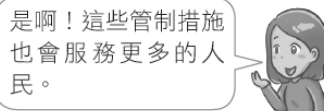
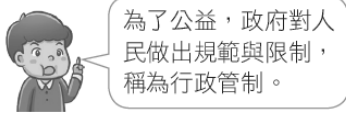


共產黨分子 (D)廣州黃埔陸軍軍官學校的成立主要是為對付共產黨的擴張。

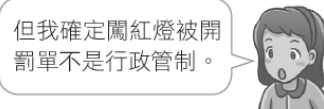
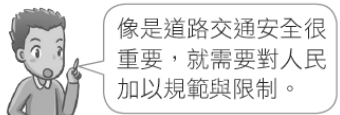
《答案》C

49. ( ) 班上同學在下課時討論行政管制的相關內容，請問下列哪組同學的敘述完全正確？

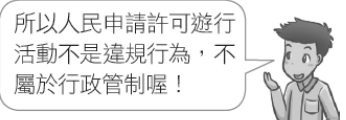
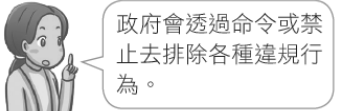
(A)



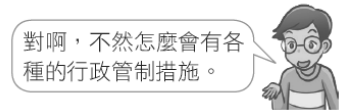
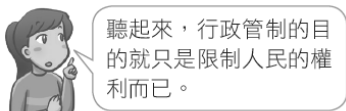
(B)



(C)



(D)



《答案》A

50. ( ) 國民政府訓政時期，依據「先安內後攘外」的政策施行，多次派遣軍隊圍剿中共，致使中國共產黨於民國 23 年(西元 1934 年)開始「兩萬五千里長征」。請問：下列關於中共「兩萬五千里長征」的敘述，何者正確？ (A) 兩萬五千里長征由原本的根據地四川遷移到陝西北部 (B) 中共的「兩萬五千里長征」正值國民政府的軍政時期 (C) 中國共產黨受到國民政府的圍剿與日本的襲擊，形成兩面夾攻的情況 (D) 國民政府的剿共直到「西安事變」

後才停止，進而全面轉向對日作戰。

《答案》D