

一、單一選擇題

- () 0° 經線通過英國倫敦，而東經 120° 經線通過中國青島附近。如果青島的時間是上午 10 時，此時倫敦的時間為何？ (A) 上午 2 時 (B) 上午 6 時 (C) 下午 2 時 (D) 下午 8 時。
- () 暑假期間，小丸子從臺北沿著臺灣西部的中山高速公路一路玩到高雄。請問：沿途她不會經過哪一地區？ (A) 海岸山脈 (B) 林口台地 (C) 嘉南平原 (D) 臺中盆地。
- () 阿盛在以下日誌中分享自己的感受，根據內容判斷，下列敘述何者正確？

部落日誌

又到了一年一度的豐年祭，我從北部趕回部落和大家一起慶祝。即使到外鄉工作這麼多年，每一次參加祭典依然很感動，大聲地唱著歌謠，歡樂地跳著舞蹈，每個人都以身為族人而驕傲，這是我們珍貴又獨特的傳統文化。

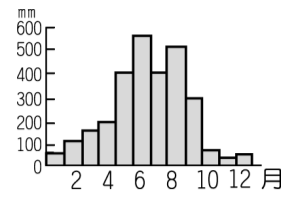
- (A) 部落活動凝聚族人向心力 (B) 祭典舉辦趨向觀光商業化 (C) 傳統部落文化逐漸式微中 (D) 人口外移已造成部落凋零。

- () 小凡放假時經常跟媽媽一起到家裡附近的醫院做志工服務，因而培養出他熱心服務的態度。請問：這是他的家庭發揮了哪一項功能的緣故？ (A) 經濟功能 (B) 教育功能 (C) 生育功能 (D) 保護與照顧功能。
- () 張同學要到國外旅行，在網路新聞中查詢當地的天氣預報，另外在旅行社的行前通知中也獲得當地的氣候資料，兩者似乎有差異。出發日時，天氣預報中的當地氣溫為 25~31℃，旅行社的行前通知則為 28~35℃。請問：兩者間的差異其原因可能為下列何者？ (A) 觀測方法 (B) 時間長短 (C) 測量器材 (D) 觀察項目。
- () 下表列出 2010 年臺灣的原住民族常住人口，在北、中、南、東四大區域的前三大族，根據臺灣原住民分布判斷，表中何者為東部區域？ [107. 會考]


甲	乙	丙	丁
阿美族 (52.5%)	布農族 (27.1%)	排灣族 (54.9%)	阿美族 (43.3%)
太魯閣族 (13.8%)	泰雅族 (26.2%)	阿美族 (14.8%)	泰雅族 (28.5%)
布農族 (7.9%)	阿美族 (16.4%)	布農族 (9.4%)	排灣族 (9.3%)

- (A) 甲 (B) 乙 (C) 丙 (D) 丁。
- () 在清帝國時期的臺灣地方縣志中，常可看到以「生番」、「熟番」的名詞來稱呼原住民，當時清朝政府區分生、熟番的標準為何？ (A) 居住地區的不同 (B) 是否歸順朝廷 (C) 打獵或農耕的生活型態 (D) 以種族血統來區分。
 - () 如果想了解某地明天的天氣，可利用附圖中哪些資料去判斷？

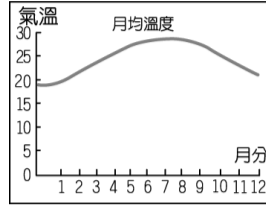
甲：年降水量圖



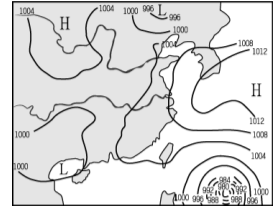
乙：衛星雲圖



丙：月均溫圖



丁：地面天氣圖



- (A) 甲乙 (B) 甲丁 (C) 乙丙 (D) 乙丁。

- () 附圖是瑞凱參與學校辯論比賽時的申論內容，她引用的概念最可能是下列何者？

根據我國於2009年通過的《公民與政治權利國際公約及經濟社會文化權利國際公約施行法》，國家應尊重人民的信仰自由，不能因信仰因素而剝奪其工作權。

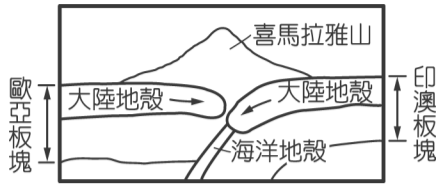


- (A) 性別平權 (B) 保障人權 (C) 政治參與 (D) 國際救援。

- () 臺北縣八里鄉（今新北市八里區）十三行文化遺址，在歷史上具有下列何種重要的意義？ [92. 第二次基測] (A) 代表採集生活的發端 (B) 象徵磨製石器的出現 (C) 反映稻米農作的起源 (D) 顯示鐵器時代的開始。
- () 此文化主要分布於臺灣東部地區，年代大約在距今 3500 到 2000 年前，其文化的遺物種類繁多，除了石柱、石板棺、石梯、石臼等大型遺物，還有各式陶器、石器及玉器，精緻的玉器或陶罐通常作為陪葬品。請問：上述文化為下列何者？ (A) 圓山文化 (B) 十三行文化 (C) 長濱文化 (D) 卑南文化。
- () 小丸子在公民課上與大家分享她的家庭生活：有愛護孫女的爺爺奶奶、喜歡吃海鮮的爸爸、嚴格管教小丸子的媽媽，還有雖然常吵架但感情很好的姊姊。由上述可知，小丸子的家庭屬於下列何種型態？ (A) 重組家庭 (B) 折衷家庭 (C) 大家庭 (D) 隔代教養家庭。
- () 北美洲與歐洲為世界上經濟發達、民眾生活較為富裕的地區。請問：這兩個地區之間相隔下列哪一個海洋？ (A) 大西洋 (B) 太平洋 (C) 印度洋 (D) 地中海。
- () 臺灣沿海有各種不同的海岸地形，若是從北部海岸→東部海岸→南部海岸→西部海岸環島一周，沿途可見的海岸有：(甲) 珊瑚礁海岸 (乙) 岬灣海岸 (丙) 斷層海岸 (丁) 平直沙岸，若依序排列應為下列何者？ (A) 甲乙丙丁 (B) 乙丙丁甲 (C) 乙丙甲丁 (D) 丙乙丁甲。
- () 清帝國晚期，臺灣的糖主要是銷往哪些地區？(甲)

中國大陸(乙)日本(丙)英國(丁)南洋 (A)甲丙 (B)甲乙 (C)丙丁 (D)乙丙。

16. ()地貌的形成受到各種作用力的影響而各有特色。如：附圖中有關喜馬拉雅山形成的敘述中，何者最為正確？



- (A)外營力為主 (B)堆積作用旺盛 (C)河川侵蝕盛行 (D)板塊擠壓隆起。

17. ()以下為智軒發表對一則外國新聞的評論，下列選項何者最能代表他的想法？

智軒發文

女性有足夠的能力，但社會有做好萬全的準備嗎？
外電新聞：美國預備進行第一次全女性團隊的太空任務，卻發現太空衣和裝備專為男性量身打造，需要重新設計，導致該項計畫被迫延後執行。

- (A)在太空探索領域，男性能力優於女性 (B)天生我才必有用，應盡全力投入工作 (C)任何人無論性別，皆應獲得同等重視 (D)為促進性別和諧，必須維持社會現狀。

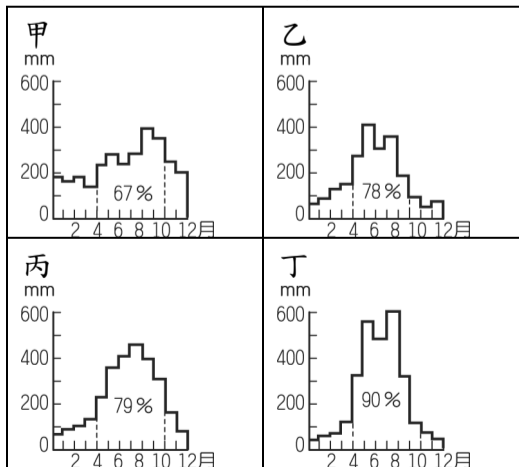
18. ()阿拓在《漫畫臺灣史》上看到一幅有趣的漫畫如附圖，圖中的情景最可能發生在何時？



- (A)荷治時期 (B)鄭氏時期 (C)清帝國時期 (D)日治時期。

19. ()臺灣島面積不大，但水力資源豐富，雖然發電量無法與火力及核能發電相比，但是其為臺灣三種主要電力來源中相對較為環保的方式。臺灣水力資源豐富與哪種自然特色關係密切？ (A)位於板塊接觸帶 (B)四面環海 (C)北回歸線經過 (D)荒溪型河川多。

20. ()水資源已經成為臺灣未來產業發展的重要課題，下列為某四條河川的集水區降水分布比例表，請問：何者最需要發展相關的蓄水灌溉設施？



- (A)甲 (B)乙 (C)丙 (D)丁。

21. ()根據附圖中的情境，兄弟倆可向下列哪一單位提出請求？





- (A)警察局 (B)法院 (C)社會局 (D)行政院。

22. ()臺灣史前人類最早懂得熟食的可能是下列哪一代表文化？ (A)長濱文化 (B)圓山文化 (C)卑南文化 (D)十三行文化。

23. ()近年來科學家研發太陽能電池，將太陽能轉為電能，不過太陽能電池需要夠長的日照，才能持續發電。若就上文所描述，下列何地較適合發展「太陽能發電」？ (A)宜蘭 (B)臺北 (C)桃園 (D)澎湖。

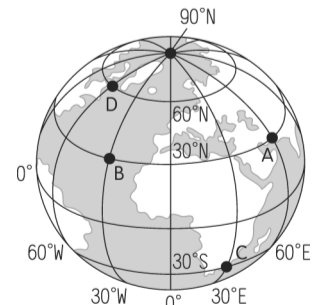
24. ()在圖幅大小相同的四張地圖中，下列哪一張地圖的比例尺最大？ (A)世界全圖 (B)臺中市地圖 (C)亞洲全圖 (D)臺灣地圖。

25. ()小元利用週末時到臺灣西部沿岸去旅遊寫生。請問：下列哪一張圖畫最可能是他的作品？〔91.第一次基測〕 (A) (B)



26. ()上歷史課時，同學們提出臺南歷史古蹟考察報告：「在安平看見了德記洋行西式的歷史建築，顯示洋人曾在安平經商的歷史。」、「長老教會在臺南傳教，除了以布道方式傳播福音，更建立臺南神學院教育更多臺灣人民，使西學在臺灣生根。」請問：他們所作的報告是以哪一個事件後為主題的報告？ (A)施琅攻臺後 (B)英法聯軍之役後 (C)日軍占臺後 (D)國民政府遷臺後。

27. ()地球上的經緯線主要是用來表示地理方位，根據附圖中各地點的位置加以判斷，D點位於B點的什麼方位？



- (A)北方 (B)西北方 (C)東南方 (D)東北方。

28. ()幾位朋友受邀參加原住民族歲時祭儀觀禮，下列哪一位參與者的觀念和態度最為適當？ (A)小錫：我們可以到祭壇中間自拍上傳照片 (B)小瓊：我

會直接加入傳統舞蹈跟他們共舞 (C)小茗：我預先詢問一下部落的禁忌或禮儀 (D)小妍：我想偷拿一些祭品當做此行的紀念。

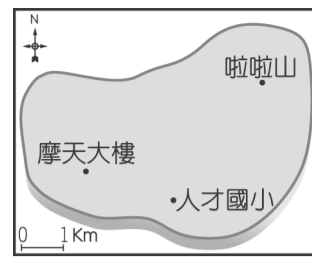
29. ()臺灣隨著漢人的開發，國外也愈來愈喜愛臺灣的出口商品，但受限於清廷政策，附圖中的場景要到下列哪一事件後才會發生？

我終於可以來臺灣做生意了。



- (A)鴉片戰爭 (B)英法聯軍之役 (C)清法戰爭 (D)甲午戰爭。

30. ()約翰在 1860 年代來到淡水經營茶葉買賣的生意，當時臺灣善良純樸的百姓令約翰印象深刻。請問：約翰能夠在 1860 年代來到臺灣經商，主要是因為下列哪一場戰爭的關係？ (A)清法戰爭 (B)鴉片戰爭 (C)甲午戰爭 (D)英法聯軍之役。
31. ()清康熙年間，清廷統治臺灣後，在行政區的畫分上，設立一府三縣。請問：下列何地不是當時所設立的行政區？ (A)鳳山縣 (B)臺灣縣 (C)諸羅縣 (D)彰化縣。
32. ()有關臺灣早期移民的敘述，下列何者錯誤？ (A)移居臺灣的漢人主要是來自福建、廣東兩省 (B)客家移民來臺後大多選擇居住在北部平原一帶 (C)移民者的原鄉大多因人口過多，謀生不易，所以只好向海外移民 (D)現在臺灣的閩南人大多來自漳州、泉州等地。
33. ()關於我國公民在行使參政權的法定年齡規範，下列何者正確？ (A)年滿 16 歲可應考試、服公職 (B)年滿 18 歲具有選舉權 (C)年滿 20 歲具有公民投票權 (D)年滿 23 歲可參選公職人員。
34. ()開班會，大家正在討論班服的顏色時，大砲和志偉突然為了樣式的選擇打了起來，全班亂成一團，此時如果有人提出下列哪一問題，則可以先暫停會議以保障其他人的權益？ (A)權宜問題 (B)秩序問題 (C)規範問題 (D)權益問題。
35. ()清帝國時期臺灣民間大規模的械鬥很多，其中以閩、粵械鬥與漳、泉械鬥較為頻繁。請問：造成此種械鬥的原因為何？ (A)職業 (B)祖籍 (C)姓氏 (D)定居地點。
36. ()丁丁經測量得知，人才國小在他的南方，摩天大樓在他的西方，若人才國小、摩天大樓和啦啦山的位置如附圖所示，則對於丁丁而言，啦啦山的相對位置約在何處？〔98.第二次基測〕



- (A)西北方 2 公里處 (B)西北方 4 公里處 (C)東北方 1 公里處 (D)東北方 3 公里處。
37. ()以下古今地名之對照，何者有誤？ (A)熱蘭遮城—安平古堡 (B)普羅民遮城—赤崁樓 (C)大員—宜蘭 (D)巴達維亞—雅加達。
38. ()嘉欣參加八通關古道的健行活動，聽到嚮導解說八通關古道為沈葆楨時所開鑿的通往後山的道路。請問：其開鑿此道路的目的為何？ (A)促進經濟繁榮 (B)實施開山撫番政策 (C)防止反清事件 (D)防範盜匪。
39. ()清帝國早期，藍鼎元隨堂兄藍廷珍來臺平定朱一貴事件，並提出一個主張：「諸羅地方遼闊，鞭長莫及，應畫虎尾溪以北，另設一縣，駐紮半線。」因此一建議，後來政府增設了哪一行政區？ (A)淡水廳 (B)雲林縣 (C)彰化縣 (D)臺灣縣。
40. ()某公司為了鼓勵員工多多參與戶外運動，在今年舉辦了全員「玉山攻頂」的活動。請問：該公司的員工如果想要事先知道所經過路線的地形起伏詳細資料，則最好利用下列哪一項資料？ (A)衛星雲圖 (B)航空照片 (C)等高線地形圖 (D)玉山的照片。
41. ()下列有關臺灣島海岸特色的描述，何者錯誤？ (A)南部海岸平直、多沙洲、潟湖 (B)北部海岸岬角與海灣相間 (C)東部海岸高山與深海相鄰 (D)西部為典型的沙岸地形。
42. ()台地地形主要分布於臺灣西側，居高臨下的平坦地形有利開發，其中以下列何者所居的緯度最高？ (A)林口台地 (B)大肚台地 (C)桃園台地 (D)八卦台地。
43. ()在鄭氏政權的經營下，臺灣成為各貿易地的轉運站。請問：上述貿易地不包括下列何地？ (A)中國 (B)朝鮮 (C)日本 (D)南洋。
44. ()西班牙人在 1626 年進攻臺灣北部，陸續占領了下列哪些地方？(甲)雞籠(乙)安平(丙)打狗(丁)淡水(戊)蛤仔難 (A)甲乙丁 (B)乙丙戊 (C)甲丁戊 (D)甲丙丁。
45. ()萊恩要到一座小島度假，據說那裡「四季如春」，十分宜人。請問：根據文中的敘述判斷，該地區的氣候特色主要為何？ (A)年降水量多 (B)年溫差小 (C)年溫差大 (D)風向固定。
46. ()某國境內的主要河川水系型態如附圖所示。請問：當中的皇馬山為哪兩條河川的分水嶺？



(A)甲乙 (B)丙丁 (C)乙丙 (D)乙丁。

47. () 以下是銘義的一則日記，根據內容判斷，銘義和父母屬於何種親屬關係？

日記
心情：開心😊
真的很感謝爸爸媽媽在六年前收養了我，大哥也把我當親弟弟疼愛。我長大以後一定會好好照顧大家。

(A)配偶 (B)姻親 (C)旁系血親 (D)擬制血親。

48. () 下列哪一項是荷蘭人殖民臺灣時期的統治特色？
(A)透過基督教來統治漢人 (B)用希臘字教育原住民，以利宗教教化 (C)對原住民開徵各種苛捐雜稅，並嚴禁其私有土地 (D)以公司企業團體型態拓展臺灣農業經濟。

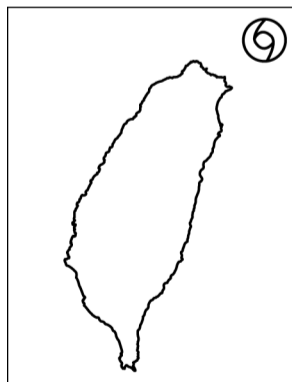
49. () 快樂幼兒園辦理戶外教育課程，安排孩子到農場體驗傳統農家生活，也到生活科學館進行科學體驗課程。請問：幼兒園辦理的戶外教育課程，將有助於兒童何種權利的保障？ (A)發展權 (B)參與權 (C)受保護權 (D)生存權。

50. () 下列臺灣周圍離島與臺灣的相關位置之敘述，何者錯誤？ (A)澎湖群島位於臺灣西方 (B)綠島位於臺灣東南方 (C)釣魚臺列嶼位於臺灣東北方 (D)蘭嶼位於臺灣西北方。

51. () 安安要以郭懷一、朱一貴、林爽文等人為對象寫一篇報告，這份報告最可能在探討下列哪一主題？〔93.第一次基測〕 (A)科舉選才的機會不均 (B)民間百姓的反抗事件 (C)行會組織的貿易衝突 (D)地方官紳的改革運動。

52. () 臺灣位於西太平洋颱風路徑上，常有颱風侵襲，若今年夏季侵臺的第一個颱風，其位置如附圖所示。請問：該颱風的經緯度位置可能為何？

(A) 80°E, 70°N (B) 118°E, 22°N
(C) 122°E, 25°N (D) 132°E, 20°N



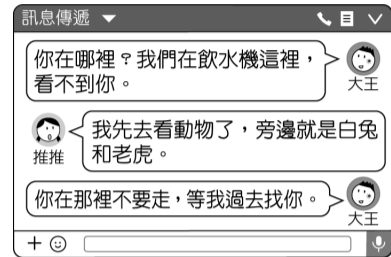
53. () 「竹風蘭雨」是形容新竹的冬季多風，宜蘭的冬季多雨，而形成這種現象的重要因素為何？ (A)緯度 (B)距海遠近 (C)洋流 (D)季風。

54. () 在立法委員的選舉制度中，有一張選黨不選人的全國不分區代表選票，政黨須在選舉前擬出清冊，且其中女性須過半。其立法背景在於過去多半認為女性在參政上屬於弱勢，應給予積極地保障措施。請問：此制度的設計是為了實現現代公民應具備的何項基本德性？ (A)和平尊重包容 (B)遵守法律

規範 (C)理性思考批判 (D)捍衛公平正義。

55. () 水透過各種方式在地球上循環，其過程為何？ (A)蒸發→凝結→逕流→降水 (B)凝結→蒸發→降水→逕流 (C)蒸發→凝結→降水→逕流 (D)蒸發→降水→凝結→逕流。

56. () 大王一家人利用連假參觀動物園，他們上完廁所後去使用洗手間對面的飲水機幫水壺裝水，但是由於人潮眾多，裝完水後赫然發現妹妹推推不見了。圖(一)是他們在通訊軟體中的對話，根據圖(二)的動物園位置來看，大王應該往哪一個方向才會找到推推？



▲圖(一)



▲圖(二)

(A)東北方 (B)東方 (C)西北方 (D)北方。

57. () 附圖是某地區的海岸景觀，請問：有關該海岸的敘述，下列何者錯誤？



(A)該海岸屬於沙岸 (B)海岸線較為平直 (C)沿岸海水較深 (D)是由泥沙堆積形成。

58. () 下列為臺灣主要河川的相關資料，請根據其特色加以判斷，何者最可能為高屏溪？

	發源地	主流長度 (km)	流域面積 (km ²)
(A)	南湖大山	73	978
(B)	合歡山	186	3156
(C)	玉山	171	3257
(D)	中央山脈	57.28	1,507.09

59. () 下列哪一個事例中的父母是不適任的，法院可以運用公權力禁止其行使親權？ (A)萱萱的父親酒醉後對她施暴成傷 (B)阿慶因沒做功課遭媽媽罰站 (C)采育的父親因為她沉迷於電玩而大發雷霆 (D)大樹因成績退步遭父母禁足。

60. () 近年來，我國平均生育子女數不到 1.5 人，是全球前三低，政府需要趕緊鼓勵家庭發揮下列哪一項功能？ (A)教育功能 (B)經濟功能 (C)生育功能 (D)保護與照顧功能。