

## 花壇國中 社會科一年級補考題庫

### 一、選擇

1. ( ) 曾善美的爸爸是一位房屋仲介員。依生產結構分類，善美要在父親的職業欄中，填上哪一個類別？  
(A)農業 (B)工業 (C)服務業 (D)建築營造業。

《答案》C

2. ( ) 每到上、下班時間，壅塞的交通是都市常見的問題，要規畫疏解方案，應以何種範圍為考量？ (A) 河流流域 (B)行政區 (C)都會區 (D)地形區。

《答案》C

3. ( ) 西元 1949 年，國民政府到臺灣之後，中共仍不斷企圖要以武力解放臺灣，但是在哪場戰爭爆發之後，減緩了中共解放軍的威脅，也讓美國介入兩岸事務？ (A)國共內戰 (B)第二次世界大戰 (C)韓戰 (D)八二三炮戰。

《答案》C


4. ( ) 觀光業的發展除了具有地方獨特性的觀光資源外，遊客在旅遊期間所需的交通、住宿、餐飲、購物等服務，也必須與景點之間緊密連結。在臺灣，若以遊覽車為旅遊的交通工具，則下列哪一個行程路途最遙遠，較不適合安排一日遊的行程？ (A)新竹－臺中 (B)嘉義－南投 (C)臺南－彰化 (D)桃園－臺東。

《答案》D

5. ( ) 結社自由是民主國家人民的基本權利之一，但對於結社自由的範圍並非毫無限制，下列何種行為，政府即會加以限制其結社自由？ (A)侵犯他人權利 (B)促進團體權益 (C)保障成員權益 (D)參加選舉活動。

《答案》A

6. ( ) 附圖的漫畫，描述日治時期蔗農的心酸，主要是因為當時日資製糖會社擁有決定何者的權力，使得臺灣蔗農一直處於被壓榨卻又無可奈何的狀況？ (A)可決定甘蔗輸出地區 (B)可決定甘蔗的品種 (C)可決定種植甘蔗的地區 (D)可決定收購甘蔗的價格。



《答案》D

7. ( ) 區域發展程度較高的區域，通常具備下列何項特色？ (A)人際關係親近且犯罪率低 (B)工商業人口比例較高 (C)享有的資源相對不足 (D)公共建設與人為開發較為緩慢。

《答案》B

8. ( ) 巴拿馬自清末以來即與中國建立外交關係，卻於西元 2017 年與我國斷交。請問：當前我國面臨的外交困境，主要是受到下列何者的打壓？ (A) 日本 (B)北韓 (C)蘇聯 (D)中共。

《答案》D

9. ( ) 下列何者為人口增加率的算法？ (A)移入率－移出率 (B)出生率－死亡率 (C)自然增加率＋社會增加率 (D)移入率＋出生率。

《答案》C

10. ( ) 日本統治期間，統治者運用警察制度嚴密控制臺灣社會，當時原住民頭目因不滿日本官吏高壓統

治，憤而率眾抗爭，爆發了下列哪個事件？ (A) 劉永福抗日 (B)牡丹社事件 (C)噍吧哖事件 (D)霧社事件。

《答案》D

11. ( ) 日治時期，臺灣糖業的利潤吸引不少日資與新技術的進入。請問：在臺灣設立的第一座新式糖廠為何？ (A)月眉糖廠 (B)花蓮糖廠 (C)虎尾糖廠 (D)橋仔頭糖廠。

《答案》D

12. ( ) 廣受消費者喜愛的「家樂福」、「愛買」、「大潤發」等大型購物中心，其貨品的銷售較一般零售商便宜，主要的原因為何？ (A)以價制量 (B)採自助式，可節省人事費 (C)無實體店面 (D)以量制價。

《答案》D

13. ( ) 討論人口遷移時，「促使當地人口向外移出的不利條件」統稱為何？ (A)推力 (B)拉力 (C)移入率 (D)移出率。

《答案》A

14. ( ) 「資料及訊息的傳遞」可稱之為何？ (A)運輸 (B)通訊 (C)交流 (D)運送。

《答案》B

15. ( ) 日治時期爆發的噍吧哖事件，當時以宗教名義號召民眾反抗總督府統治的領導者是下列何者？ (A)余清芳 (B)劉永福 (C)莫那魯道 (D)唐景崧。

《答案》A

16. ( ) 臺北市某女子在網路上認識一名男子，贈送對方多項禮物並提供金錢資助，不料交往一段時間後，男子移情別戀，女子控告男子「感情詐欺」，但檢察官以欺騙感情不構成詐欺罪行，而做出不起訴處分。請問：若從社會規範的角度，上文內容最適合用來說明下列何者？ (A)倫理道德的規範與法律互相抵觸 (B)法律與倫理道德的規範模糊不清 (C)法律的價值遠高於其他社會規範 (D)維護社會秩序不能僅靠單一規範。

《答案》D

17. ( ) 有關日治時期，日本人、臺灣人、原住民所就讀的學校，下列敘述何者正確？ (甲)國語學校—教授臺語 (乙)臺人—公學校 (丙)日人—小學校 (丁)原住民—蕃童教育所 (A)甲乙丙 (B)甲乙丁 (C)甲丙丁 (D)乙丙丁。

《答案》D

18. ( ) 老師請同學各自發表對「社會福利發展」的看法，下列四位同學的敘述，何者錯誤？ (A)阿美：「中世紀時期，宗教組織施捨救濟。」 (B)阿咪：「工業革命後，政府介入保障弱勢群體權益。」 (C)阿明：「進入二十世紀，政府提前預防人民生活發生困難。」 (D)阿草：「近年來，福利社會強調由人民自立自強謀求自身權益。」

《答案》D

- 詳解：由政府規畫一種綜合的、具發展性的社會福利政策，整合所有機構、團體與個人的力量，保障全民應有的權益。
19. ( ) 民國 106 年，臺灣的都市化程度已達 80%，和世界各主要先進國家相較，可說是毫不遜色。請問：我們可以從下列哪一個現象去推論臺灣的都市化程度高？ (A)都市的居民生活水準高 (B)鄉村的居民生活水準提高 (C)都市人口所占比例高

於鄉村人口 (D)鄉村人口比例高於都市人口。

《答案》C

20. ( ) 有「超人醫生」之稱的徐超斌醫師多年為了籌備「南迴醫院」而努力，希望讓偏鄉地區的居民也能在最短的時間內獲得完善救治。臺東縣太麻里、金峰、大武及達仁等四個鄉鎮中，都只有衛生所等級的醫療資源，若是民眾遇到重大事故，往往需要送到距離比較遠的臺東市或是屏東，甚至高雄。正因如此，這些地方的居民為了尋求醫療資源，往往搬到鄰近大都市居住，相信南迴醫院若順利落成，可有助於人口回流。請問：關於上述資料的敘述，下列何者正確？ (A)沒有醫療資源是都市的推力 (B)沒有醫療資源是鄉村的拉力 (C)興建南迴醫院可減少都市的推力 (D)興建南迴醫院可減少鄉村的推力。

《答案》D

詳解：鄉村地區的居民因缺發醫療資源而外移到都市中居住，此為鄉村的推力而非拉力。

21. ( ) 文學是前人的智慧結晶，基於為文學找個家的構想，南投縣政府成立文學資料館，對文學典藏與保存具有重大意義。上述南投縣政府的作為，主要是為了達到下列何種目的？ (A)文化傳承 (B)文化創新 (C)文化的交流 (D)文化衝突。

《答案》A

22. ( ) 「謝鹽祭是鹽工於每年開始晒鹽前的獻祭活動，準備金紙等簡單供品，以祭拜鹽田的土地公。除了迎神祭鹽以表達感謝之外，現場也有市集、鹽田導覽等多樣活動，不僅保留舊有文化，也增添許多新意。」請問：此一活動最有可能是下列哪一個區域舉辦？ (A)北部區域 (B)中部區域 (C)南部區域 (D)東部區域。

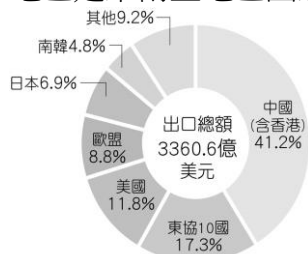
《答案》C

23. ( ) 一九六〇年代，臺北市萬華區老松國小全校共有158班，學生數多達11,110人，是當時班級數和學生數多的小學。請問：下列何者較能代表當時社會的人口現象？ (A)高出生率且高死亡率，人口成長緩慢 (B)死亡率已經開始下降，但出生率仍高 (C)低出生率且低死亡率，人口成長停滯 (D)出生率下降且趨近於零，人口負成長

《答案》B

詳解：老松國小所反映的現象，是臺灣人口快速成長期的寫照，當時死亡率下降，但出生率仍高，出生率和死亡率差距大，使人口快速成長。

24. ( ) 附圖為民國107年臺灣出口到世界各國的貿易值比例。根據圖中的資料，下列敘述何者錯誤？ (A)臺灣最大的出口地是歐洲的國家 (B)臺灣與北美地區亦有貿易活動 (C)臺灣出口至亞洲國家的比例最高 (D)該年臺灣出口比例居第二高的地區是東南亞地區國家。

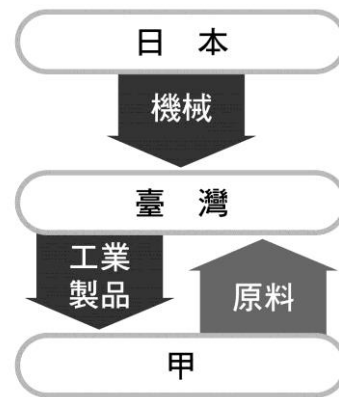


《答案》A

詳解：由圖可知，臺灣出口的大宗地區為中國及東南亞。

25. ( ) 一九三〇年代以後，在總督府的政策推動下，臺灣成為日本重要的工業生產地，區域分工如下圖

所示，請問圖片中「甲」應是指何者？ (A)中國 (B)東南亞 (C)韓國 (D)美國。



《答案》B

詳解：一九三〇年代以後，總督府經濟政策為「工業臺灣，農業南洋」，南洋地區包括東南亞的國家。

26. ( ) 下列有4人的發表演論，請以社會福利發展階段中世紀→工業革命後→二十世紀→近代依序進行排列。

麗娟：政府把各縣市的社福資源彙整在同一個平臺上，讓我要尋找相關資料更便利！

小平：我因不熟悉機器操作而發生工廠事故，但因沒有法律保障，得不到雇主的補償！

阿福：我在修道院的工作除了講經祈禱外，還有救濟貧民的活動！

小珍：雖然我是家庭主婦，但參加國民年金制度後，我不用再擔心年老生活沒有保障！

- (A)麗娟→小平→阿福→小珍 (B)小平→阿福→麗娟→小珍 (C)小平→阿福→小珍→麗娟 (D)阿福→小平→小珍→麗娟。

《答案》D

詳解：中世紀宗教組織救濟貧困(阿福)→工業革命雇主壓榨勞工，生存遭受威脅(小平)→二十世紀政府制定政策，提前預防人民生活困難(小珍)→近代政府整合社會整體資源，保障全民生活權益(麗娟)。

27. ( ) 在現代的人際互動中，人們的往來因為臉書(Facebook)的出現而產生了重大變化，例如：透過臉書可以和許久不見的朋友重新聯繫上，而大幅減少了尋友的時間成本。上述現象可歸屬於下列何種社會變遷的原因？ (A)自然環境的變化 (B)外來文化的刺激 (C)社會運動的推動 (D)科學技術的發展。

《答案》D

28. ( ) 角色衝突是指當不同角色間的行為期待不一致時，有時會出現顧此失彼、無法協調的狀況。下列何者即是屬於此種情形？ (A)職業婦女常無



法兼顧家庭與工作 (B)記者報導選舉結果 (C)部分大學生學習態度不佳 (D)小學生寫回家作業。

《答案》A

29. ( ) 新聞報導「臺南市發展低碳城市施政目標，訂定太陽光電 2 年期計畫，要透過推動太陽光電專區、設置綠能設施，以及滯洪池浮動式太陽光電系統，在民國 107 年底完成 220MW 的發電目標。永康科技工業區、樹谷園區都已和系統商完成簽約，永康科技工業區於 106 年 10 月底完成，樹谷園區於 107 年初完成。」文中提到的工業區其工業發展類型，主要受下列哪一項因素影響？ (A)原料 (B)動力 (C)市場 (D)政策。

《答案》D

詳解：由文中可知政府為發展綠能，在上述工業區發展太陽光電系統。

30. ( ) 若一國的人口正處於低出生率、低死亡率的情形，下列何者是該國最需要解決的人口問題？ (A)性別比失衡 (B)老年安養問題 (C)成人教育不足 (D)就業困難。

《答案》B

31. ( ) 有關日本殖民統治時期的治臺措施，下列敘述何者錯誤？ (A)臺灣總督府是日人在臺的最高統治機關 (B)總督擁有行政、立法與指揮軍隊的大權 (C)形成總督專制體制 (D)壯丁團能指揮警察辦案。

《答案》D

32. ( ) 政府在社會保險給付項目之外，針對有特殊需求的人民，可採行下列何種措施，以彌補社會保險的不足？ (A)就業安全 (B)健康與醫療照護 (C)社會津貼 (D)社會救助。

《答案》C

33. ( ) 「雲林麥寮的台塑六輕工業區」是一座很大的煉油廠和石化工業區。請問：該工業區位於附圖中的何處？



(A)甲 (B)乙 (C)丙 (D)丁

《答案》B

34. ( ) 下列有關「社會化途徑」的敘述，何者正確？

- (甲)家庭是個人早期人格發展，學習社會生活最重要的地方  
(乙)能提供有系統、有組織的學習是學校  
(丙)在個人社會化的歷程中，傳播媒體具有很大的影響力  
(丁)同儕團體對於社會化的影響力是相當可觀的，在青少年時期尤其明顯

(A)乙丙 (B)丙丁 (C)甲乙丙 (D)甲乙丙丁。

《答案》D

詳解：個人從出生到長大，在適應社會生活的過程中，最先接觸的環境是其所屬的家庭，然後逐漸擴大到兄弟姐妹以及鄰居同伴，再由鄰居同伴擴大到學校的同學，最後才踏入社會。所以，「家庭」、「同儕團體」、「學校」就是個人社會化的最重要途徑。此外，傳播媒體對個人的社會化影響正逐漸擴大。

35. ( ) 政府來臺初期，推行何種措施，使得農產量大增？  
(A)實施高科技產業 (B)與邦交國進行貿易 (C)實施知識經濟 (D)推行土地改革措施。

《答案》D

36. ( ) 附表為西元 2019 年世界人口統計概況，甲～丁為人口成長的要素，請問有關甲～丁之敘述，何者正確？ (A)甲為移出人口數 (B)乙為死亡人口數 (C)丙為出生人口數 (D)丁為死亡人口數。

總人口：7,749,687,802
人口成長率：10.35‰
(甲)：131,733,589
(乙)：51,519,112
(丙)：0
(丁)：0

《答案》B

詳解：文中探討世界人口的增減，地球可視為一封閉系統，故無移入移出的狀況，可知丙、丁為社會增加人口數；甲、乙為自然增加人口數，又得知人口成長率為正值，故出生人口數應大於死亡人口數，所以甲為出生人口數、乙為死亡人口數。

37. ( ) 世界各地早期的華人移民以閩南人居多，查閱歷史資料可發現，在北宋時期，中國華南地區已被描述成「水無涓滴不為用，山到崔搜猶力耕」，形容因人多、田地少，土地被利用到極致的狀態。後因航運技術發達，當地人口遂散布到各地，以致今日有「僑鄉」之稱。根據上述資料判斷，下列何者敘述正確？ (A)閩南地區土地少、推力強 (B)閩南地區土地少、拉力強 (C)閩南地區人口多、推力弱 (D)閩南地區人口多、拉力弱。

《答案》A

詳解：根據題意，閩南地區人口多外移到其他地區去居住。因此本題應探討閩南地區人口外移原因，也就是閩南地區的推力或其他地區的拉力造成此現象。閩南地區因人多、田地少這樣的狀態造成人口外移，此為推力之影響。

38. ( ) 附圖是三個影響臺灣人生活的知名品牌，也是臺灣的原創品牌。這些品牌出現和其所生產的產品，最可能是臺灣哪個年代的工業發展重點？



(A)民國四十年代 (B)民國五十年代 (C)民國六十年代 (D)民國七十年代迄今

《答案》D

39. ( ) 在二次大戰結束後，大量移民移居臺灣，不僅是人口的增加，這批移民也為臺灣帶來不同的文化。請問：下列哪一個選項的描述與這批移民較無關？ (A)臺北與高雄穆斯林所建設的清真寺 (B)清境農場周遭開設的滇緬料理餐廳 (C)廣受大眾喜愛四處巡演的相聲表演 (D)臺北近郊丘陵產福爾摩沙烏龍茶。

《答案》D

詳解：(A)(B)(C)皆為戰後移民帶來的信仰、飲食與娛樂，(D)為清帝國時期大量出口的茶葉。

40. ( ) 「Made in Taiwan」表示是臺灣製造的產品，其中有許多「世界第一」的頭銜，如一九六〇年代的鞋子、雨傘、毛衣、自行車、電扇、黑白電視機、計算機等，一直到一九九〇年代的高科技產品，如：滑鼠、鍵盤、掃描器、主機板、網路卡、數據機等，產量都是世界第一。請問：這與政府曾經設立哪些特區推動產業發展有密切的關聯？(甲)經濟特區 (乙)高雄加工出口區 (丙)新竹科學工業園區 (A)甲乙 (B)乙丙 (C)丙丁 (D)甲乙丙。

《答案》B

41. ( ) 以下是宜超在電視上看到的一則新聞報導——

某保健食品經檢驗證實內含禁藥成分，不符《藥事法》規定，檢調單位搜索負責販售與製造該食品的兩家公司、約談相關涉案人，臺北地方法院並裁定將兩名負責人收押禁見。

下列相關敘述，何者正確？(A)檢調單位展開搜索是以宗教戒律作為後盾 (B)兩名負責人因違反法律而受到公權力制裁 (C)兩名負責人違反風俗習慣因而遭法院收押禁見 (D)「不符《藥事法》規定」顯示違反倫理道德。

《答案》B

詳解：(A)以公權力作為後盾。(C)、(D)違反法律。

42. ( ) 根據衛福部統計資料，臺灣平均一位民眾擁有最多醫療資源縣市的前三名分別為嘉義市、花蓮縣、宜蘭縣，反之擁有醫療資源最少的前三名縣市為金門縣、屏東縣、新北市。若根據醫院、診所數目來看，最多的前三名為臺中市、臺北市、新北市，而最少的前三名則為連江縣、金門縣以及澎湖縣。請問：根據上述資料所做的推論，下列何者敘述正確？(A)臺北市可能因為醫療資源不足，導致人口移入 (B)臺中市因為醫療資源最充足，移入率應為最低 (C)澎湖縣因為醫療資源較少，人口遷移推力強 (D)花蓮縣平均醫療資源充足，人口遷移拉力強。

《答案》C

43. ( ) 高雄美濃昔日有「菸城」之稱，菸樓是烘焙菸草的場所，但近來已被乾燥機所取代。美濃人決心使菸樓再生，因而整修保存菸樓外貌，並將內部改為客家文物展示室。這項菸樓再生運動，在文化上具有哪些意義？(甲)只有傳統文化才有保存的價值 (乙)保存菸樓可以體現先民的文化 (丙)菸樓再生是傳承前人智慧的結晶 (丁)菸樓再生亦顯示文化的創新 (A)甲乙丙 (B)甲乙丁 (C)甲丙丁 (D)乙丙丁。

《答案》D

44. ( ) 人口時鐘是一地人口即時數量變化的預估數據，附表為西元 2018 年世界與臺灣人口時鐘之部分內容，其中發現臺灣人口時鐘之「淨遷移」高於世界人口時鐘，請問其原因為何？(A)該年世界人口移入人口和移出人口相互抵銷 (B)臺灣的人口數僅受出生率及死亡率所控制 (C)地球為封閉的人口系統，不會有社會增加率的增減 (D)該年僅有臺灣人口遷出，世界其他地區人口並未

遷入。

世界人口時鐘	項目	臺灣人口時鐘
7,668,763,385	目前人口	23,626,502
151,141,029	今年出生人數	211,968
59,329,030	今年死亡人數	165,047
0	今年淨遷移	1,415
91,812,000	今年人口增長	48,336

《答案》C

詳解：淨遷移指某地在一段時間內移入人數減去移出人數的差值。(A)地球可視為一封閉系統，不會有移入和移出；(B)臺灣人口除受自然增加影響外，亦會受社會增加影響；(D)臺灣淨遷移為 1,415，代表移入人口大於移出人口。

45. ( ) 根據聯合國資料指出：「目前全球居住在都市地區的人口多於農村地區，自西元 1950 年以來，世界都市人口已從 7.51 億增加到西元 2018 年的 42 億。西元 1950 年都市人口占世界人口的 30%，到西元 2050 年預計將有 68% 的人口居住在都市地區。」根據文中敘述判斷，下列對於全球都市現象的描述，何者正確？(A)世界城市人口的增長已超過 10 倍 (B)目前全球的都市化程度已超過 50% (C)都市人口增長和經濟發展沒有相關 (D)隨著世界人口增長都市範圍逐漸縮小。

《答案》B

46. ( ) 由於臺灣工業急速發展，造成農村凋敝、都市問題叢生，民國六十年代時，有不少本土作家因而開始關注農民、勞工等基層人民的遭遇。此種情況，除了經濟發展所造成，臺灣還面臨了什麼樣的問題？(A)政府播遷來臺，人口增加過快 (B)退出聯合國，外交面臨空前危機 (C)開放大陸探親，相關問題接踵而來 (D)中共炮擊金門，國安告急。

《答案》B

詳解：這時臺灣面臨內政、外交上的困境。(A)民國 38 年。(C)民國 76 年以後。(D)民國 47 年。

47. ( ) 現今都市化的社會，雖然帶來許多便利的生活，但也衍生出許多都市問題，請問下列何者不是都市化後所造成的社會問題？(A)來自四面八方的人群使得人際關係疏離 (B)大量人口遷入導致地價上漲和住宅昂貴 (C)人口過多造成交通擁擠和環境汙染 (D)科技通訊發達，縮短城鄉發展的差距。

《答案》D

48. ( ) 翻開臺灣鐵路發展史，從清代至今已經有一百多年的歷史，對於臺灣交通運輸方面有極大的助益。下列關於臺灣鐵路的敘述，何者正確？(A)丁日昌是臺灣最早興建鐵路的總督 (B)清代已完成從臺北到臺東間的鐵路 (C)日治時期始完成西部縱貫鐵路 (D)日治時期的鐵路僅修建到大稻埕。

《答案》C

49. ( ) 阿甲到臺灣農村訪問當地稻農，稻農們分享了耕作的成就，但也提及到：「最近這 10 年，從整地、秧苗、農藥、肥料等樣樣漲價，成本又更高了。且 10 多年前開始從國外進口農產品，他們的生產成本低，售價低，我們根本無法競爭。」請問：上述臺灣無法與國外低價農產品競爭的原因為何？臺灣又能採取何種方法降低成本？(A)長期機械化耕作；擴大耕地面積以降低成本 (B)耕地面積小，集約耕作；農民能組成產銷班，共

同購買、運銷以降低成本 (C)農村勞動力老化；  
能引進工廠進駐，取代農業 (D)受自然環境影響  
大；發展休閒農業，創造商機和收入。

《答案》B

詳解：產銷班能共同運作，降低生產成本。而休閒農業能創造商機，但本題題目為「降低成本」所以與題目不符。

50. ( ) 臺灣近代以來，人口持續進行擴張及遷移，大致為由中國移往臺灣、臺灣南部移往臺灣北部、臺灣西部移往東部。請問：上述臺灣人口移動最有可能受到何種因素的影響？(甲)地理位置 (乙)地形 (丙)氣候 (丁)開發時間 (A)甲乙丙 (B)甲乙丁 (C)甲丙丁 (D)乙丙丁。

《答案》B

詳解：(甲)西部位置離中國較近，成為漢人移民至臺灣的第一首選；(乙)東部受地形阻隔，交通不易，移民較晚移入；(丙)氣候並非影響臺灣人口分布的主要因素；(丁)西部開發時間較早，人口較東部為多。